

قلوب الأمل

سما
SAMA

عمره ما يخذك

ومراجعات ليالي الاختبار التواصل مع 50855008 للتسجيل في الدورات الحضرية

2026
سما
SAMA
مذكرات قلب الأمل

www.samakw.net



تاريخ الكويت

المادة

العاشر

الصف

معالم الكويت الجغرافية والاقتصادية والحضارية

جغرافية دولة الكويت

١- الموقع والمساحة

- علل دراسة موقع الدول



٢- المصالح الحيوية للدولة

١- إبراز القيمة الفعلية لموقع الدولة

٣- الدور الذي يمكن ان تمارسه الدولة

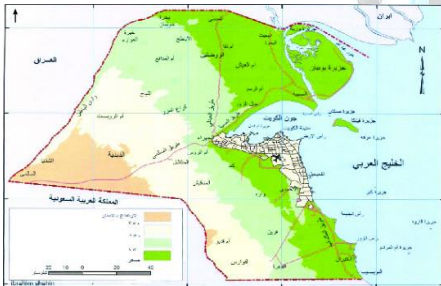
- تقع دولة الكويت بالنسبة لشبه الجزيرة العربية في الجزء الشمالي الشرقي- تقع دولة الكويت بالنسبة للخليج العربي في الجهة الشمالية الغربية- المسطح المائي الذي يحده دولة الكويت من جهة الشرق يسمى الخليج العربي- الدولة التي تحده الكويت من الشمال والشمال الغربي تسمى دولة العراق- الدولة التي تحده الكويت من الجنوب والجنوب الغربي تسمى المملكة العربية السعودية- تقع دولة الكويت بين دائرتي عرض ٢٨.٤٥ إلى ٣٠.٠٥ شمال خط الاستواء- تقع دولة الكويت بين خطي طول ٤٦.٣٠ إلى ٤٨.٣٠ شرق خط جرينتش- تبلغ مساحة دولة الكويت ١٧.٨١٨ كيلومتراً مربعاً

- علل اهمية الموقع الاستراتيجي لدولة الكويت شمال غرب الخليج العربي

أو - دليل على الأهمية الاستراتيجية لموقع دولة الكويت

١- نهاية الطريق البحري بين الهند والشرق الاقصى

٢- المدخل الطبيعي لشمال شرق شبه الجزيرة العربية ومركز لتجارة سكان نجد والاحساء



٢- التضاريس

- ينحدر سطح دولة الكويت من الغرب الى الشرق- ينحدر سطح دولة الكويت باتجاه ساحل الخليج العربي- يبلغ اعلى ارتفاع في المناطق الغربية لدولة الكويت الى ٣٠٠ م- يتكون سطح الكويت من سهول رملية مستوية تتخللها بعض التلال- يصل ارتفاع بعض التلال في الكويت الى حوالي ١٤٥ متر- من التلال الموجودة في شمال الكويت تلال : جال الزور ١٣٧ م - وكرع المرواح ١٨٣ م - واللياح- من التلال الموجودة في جنوب دولة الكويت على شكل قباب تلال : برقان - تل وارة- التل الذي يقع جنوب مدينة الاحمدي يسمى تل وارة- من اهم المظاهر التضاريسية في الكويت هضبة الاحمدي ١٣٧ م وتمتد لمسافة ٣٠ كم من الشمال للجنوب- الوادي الذي يمثل الحد الفاصل بين الحدود العراقية - الكويتية وادي الباطن- الوادي الذي يسير مع الحدود الغربية لدولة الكويت لمسافة ١٥٠ كم يسمى وادي الباطن- السهل الذي يحتل مساحة كبيرة في غرب وجنوب دولة الكويت يسمى سهل الدبدبة- أشهر السهول الموجودة في دولة الكويت سهل البرقان- سهل يمتد من جون الكويت باتجاه الجنوب موازيا للساحل يسمى سهل برقان- من التلال التي تقع في سهل برقان تلال وارة - برقان - القرين- علل أهمية سهل برقان١- اكتشف فيه النفط٢- يوجد به أكبر حقل نفطي في الكويت حقل برقان- السهل الذي يقع في شمال دولة الكويت وينحدر نحو الشرق والشمال الشرقي سهل الروضتين- دولة الكويت ذات طبيعة صحراوية

- من المناطق الصالحة للزراعة في دولة الكويت بسبب توفر المياه الجوفية **الفحيحيل - المنقف - الوفرة - الجهراء**

- **ابوحليفة - الشعبية - العقيلة - الدمنة**

- **عل وجود بعض المناطق الزراعية في دولة الكويت**

- بسبب توافر المياه الجوفية

- من الناحية الجيولوجية دولة الكويت جزء من **الكتلة العربية**

٣- جزر الكويت

- الجزر التي توجد بالمياه الإقليمية لدولة الكويت يبلغ عددها **عشر جزر**

- أكبر الجزر في دولة الكويت تسمى **بوبيان**

- نسبة مساحة جزيرة بوبيان من إجمالي مساحة الكويت تقدر بـ **٥%**

- الجزيرة التي أصبحت جزء من ميناء الشويخ تسمى جزيرة **الشويخ**

- الجزيرتان اللتان كانتا مطمع لدولة العراق في مختلف مراحل الصراع مع الكويت هما **وربة وبوبيان**

- **عل طمع العراق في جزيرتي وربة وبوبيان**

١- لانهما ستمنحان العراق منفذ بحريا مناسب على الخليج العربي

- اهم الجزر الكويتية تاريخيا والثانية من حيث المساحة وذكّرت في المصادر اليونانية وتسمى إيكاروس هي **فيلكا**

- **عل تعد جزيرة فيلكا أهم الجزر الكويتية من حيث التاريخ أو دلل على الأهمية التاريخية لجزيرة فيلكا**

١- تحتوي إشارات ودلائل أثرية ومعمارية قديمة

٢- تحتوي على بقايا وشواهد تاريخية وأثرية متعددة

- اخر الجزر الكويتية من ناحية الشمال تسمى **وربة**

- اخر الجزر الكويتية من ناحية الجنوب تسمى **ام المرادم**

- جزيرة صغيرة المساحة تقع جنوب شرق جزيرة فيلكا وبينهما ١٢ ميل تسمى **عوهة**

- جزيرة تقع جنوب جزيرة فيلكا وتبعد عنها ١٩.٥ ميل وساحتها تقارب عوهة تسمى **كبر**

- الجزيرة التي تقع في جون الكويت تسمى **أم النمل**

- أصغر الجزر الكويتية من حيث المساحة جزيرتا **مسكان وقاروه**

- جميع الجزر الكويتية كانت غير مأهولة بالسكان عدا جزيرة **فيلكا** وأصبحت غير مأهولة بعد **الغزو العراقي ١٩٩٠**

- **وضح نسبة مساحة جزيرة بوبيان للمساحة الإجمالية للكويت على الدائرة البيانية**

٤- المناخ

- الإقليم المناخي الذي تنتمي له دولة الكويت يسمى **الصحراوي** ويتميز بانه (قاري جاف وقاس)

- **عل تمتاز دولة الكويت بمناخ قاري جاف قارس**

- بسبب الموقع الفلكي لدولة الكويت

- **عل اختلاف المناخ بين مناطق ودول العالم**

- بسبب اختلاف الموقع الفلكي والجغرافي لكل منطقة

- **صف مناخ دولة الكويت او- عل لموقع الكويت الفلكي أثر كبير على المناخ**

١- ارتفاع درجات الحرارة معظم ايام السنة ويوجد فصلين رئيسيين الصيف ٥٠ درجة والشتاء بارد

٢- مناخ قاري جاف قاس و الربيع قصير معتدل و الخريف ترتفع فيه الرطوبة

- من مناطق المياه الجوفية العذبة في الكويت **الروضتين - ام العيش - والصليبية - العبدلي - الوفرة**

- بسبب اختلاف الموقع الفلكي والجغرافي لكل منطقة

- الإقليم الصحراوي يتميز بانه قاري وجاف وقاس

* **عل : اختلاف المناخ بين مناطق دول العالم**

* **ما الإقليم المناخي الذي تنتمي إليه دولة الكويت**

الرياح في دولة الكويت

- **عدد اهم الرياح التي تهب على الكويت**

١- الرياح الشمالية الغربية

٢- الرياح الجنوبية الشرقية (الكوس)

٣- رياح السموم

٤- العواصف الترابية (السرايات)

- الرياح التي تهب على الكويت معظم ايام السنة تسمى الرياح **الشمالية الغربية**

- **علل تميز الرياح الشمالية الغربية بالجفاف**

- بسبب تأثرها بالمرتفع السيبيري المتمركز في شمال قارة اسيا

- **ما النتائج المترتبة على هبوب الرياح الشمالية الغربية**

١- صيفاً انخفاض درجة الحرارة

٢- شتاءً يصبح الجو قارس البرودة

- (الكوس) هي الرياح الجنوبية الشرقية وهي رياح رطبة دافئة تتسبب في رفع درجة الحرارة والرطوبة في فصل الصيف وممطرة شتاء

- **علل تميز الرياح الجنوبية الشرقية بأنها رطبة ودافئة**

- بسبب تأثرها بالمنخفض السوداني

- (السموم) رياح جافة ذات حرارة عالية تهب من الشمال والشمال الشرقي وترفع درجات الحرارة إلى مستوى عالٍ جداً في فصل الصيف

- (السرايات) هي رياح تهب في أواخر الربيع وأوائل الصيف وتثير الغبار وتكون مصحوبة بعواصف رعدية يسقط بسببها المطر الشديد

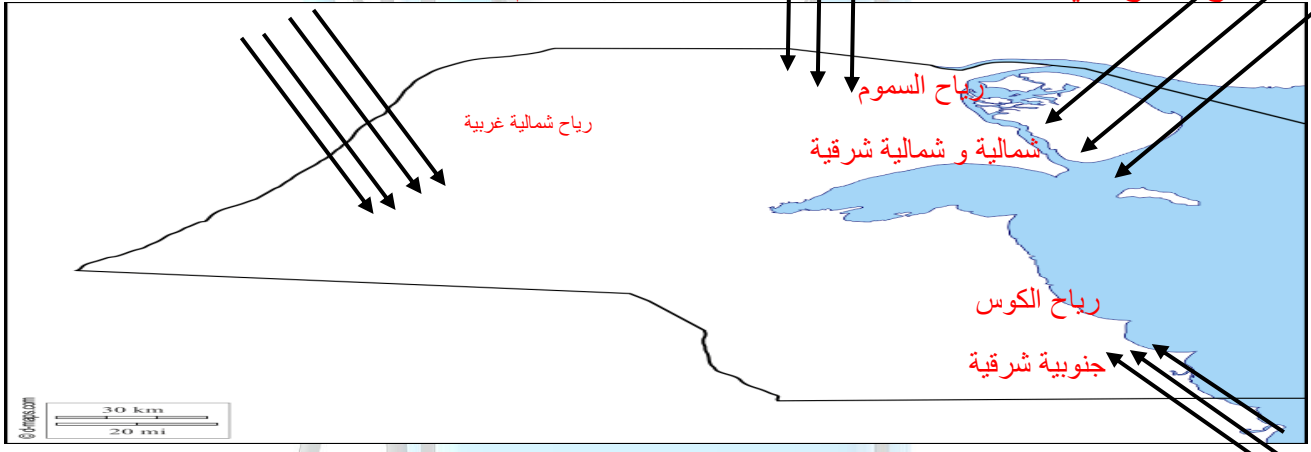
* أهب من الجنوب الشرقي وأنا رطبة ودافئة (الرياح الجنوبية الشرقية - الكوس)

* أهب معظم أيام السنة وأنا جافة وتنخفض بسببي درجات الحرارة (الرياح الشمالية الغربية)

* ظاهرة مناخية تهب في أواخر الربيع وأوائل الصيف (العواصف الترابية - السرايات)

* من أشهر الفلكيين في دولة الكويت (صالح العجيري)

* **أذكر أنواع الرياح التي تهب على دولة الكويت محددا اتجاهاتها بالرسم على الخريطة**



٥- السكان

- **دليل على ان الكويت لم تكن منطقة مهجورة او خالية من السكان منذ القدم**

١- عاش على ارضها جماعات سكانية انتمت لفترات زمنية متعددة

٢- عاشت فيها جماعات بشرية مارست حياتها الطبيعية مثل بقية سكان شبه الجزيرة العربية

- **علل ارتباط سكان الكويت بالتركيبة السكانية لسكان شبه الجزيرة العربية**

- لان الكويت ضمن الامتداد الجغرافي والسياسي لشبه الجزيرة

- الاقليم الذي يحتل المنطقة الغربية للخليج العربي ويمتد من جنوب البصرة شمالا حتى عمان جنوبا يسمى **بإقليم البحرين**

- الكويت افتقدت قبل نزول العتوب بها لاهم عنصرين لبناء الدولة هما **السلطة - الحدود السياسية**

- **علل أهمية السلطة**

١- تضفي الطابع السياسي على المكان والرعية

٢- تدير الشؤون وتحكم المكان وتدين لها الجماعات بالولاء

- يعود الوجود البشري في دولة الكويت الى أكثر من **٤٠٠٠ سنة ق م**

- **دليل على وجود البشري في الكويت من ٤٠٠٠ سنة قبل الميلاد**

بقايا الاثار الحضارية القديمة في جزيرة فيلكا وتل وارة والوفرة وبالصبية (حضارة العبيد)

- الحضارة التي قامت في الكويت قبل ٤٠٠٠ سنة تسمى **حضارة العبيد**

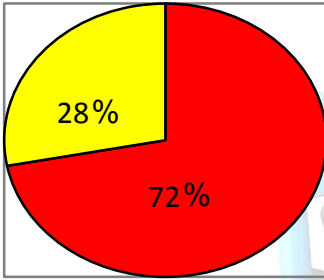
- العام الذي اجري فيه اول تعداد رسمي للسكان في الكويت عام **١٩٥٧**

متوفر شرح جميع المواد عبر تطبيق سما التعليمي مع مذكراتنا التي تسهل وتوفر عليك وقت المذاكرة وروا موقعنا على انستغرام وتابع اخر العروض القوية

- الامير الذي تم في عهده اول تعداد لسكان الكويت الشيخ **عبدالله السالم الصباح**
- تولى الشيخ عبد الله السالم الصباح الحكم بين عامي **١٩٥٠ : ١٩٦٥ م**
- الجهة التي قامت بأجراء اول تعداد سكاني عام ١٩٥٧ **دائرة الشؤون الاجتماعية**
- بلغ عدد سكان الكويت عام ١٩٩٠ حوالي **٢١٤١٤٦٥ نسمة** ونسبة الوافدين بلغت **٧٢%**
- **علل قلة الوافدين في دولة الكويت عام ١٩٩٠** - بسبب الغزو العراقي وتبعه هجرة أعداد كبيرة من الوافدين
- بلغ عدد سكان الكويت عام ٢٠١٤ حوالي **٤٠٠٠٠٥٢ نسمة**
- الامير الذي اجري في عهده تعداد ٢٠١٤ يسمى الشيخ **صباح الاحمد الصباح**

علل زيادة اعداد الوافدين على نسبة الكويتيين في تعداد ٢٠١٤

- ١- احتياج الكويت للعمالة المهارة
- ٢- قلة عدد سكان الكويت مع التوسع في انشاء المشروعات



- * اكتب حقيقة واحدة استنتجها من الجدول البياني
- عدد السكان الكويتيين عام ٢٠١٤ بلغ **١٢٦٣١٠٠**
- اجمالي عدد السكان في الكويت عام ٢٠١٤ بلغ **٤٠٠٠٠٥٢**
- * حول تصنيف البيانات الواردة نسبة الوافدين عام ١٩٩٠ إلى دائرة بيانية توضح النسب
- نسبة الكويتيين ٢٨ %
- نسبة الوافدين ٧٢ %

الأنشطة الاقتصادية قديما

عدد خصائص المجتمع الكويتي قبل اكتشاف النفط

- ١- مجتمع بسيط هادئ
 - ٢- تميز بالتلاحم والتكافل والعمل الجماعي
 - ٣- يعرف أن مبدأ الشورى والحكم المشترك أساس لوحده
 - ٤- تقبل الهجرات واتسم بالمرونة والانفتاح
- وصلت السفن الكويتية الى **الهند** - **سواحل افريقيا**
 - قام الاقتصاد الكويتي قديما على **الرعي** - **الغوص**

دليل على صحة هذه العبارة (تميز النشاط الاقتصادي للمجتمع الكويتي القديم بالتنوع)

- ١- جمع بين النشاط البري والبحري
 - ٢- النشاط البحري يشمل الصيد والغوص وصناعة السفن والتجارة
 - ٣- النشاط البري يشمل الرعي والزراعة والصيد البري
- لأنه جمع بين النشاط البري والبحري

علل تميز النشاط الاقتصادي للمجتمع الكويتي القديم بالتنوع

- من القرى الزراعية خارج مدينة الكويت **الجهراء** - **الفحيحيل**

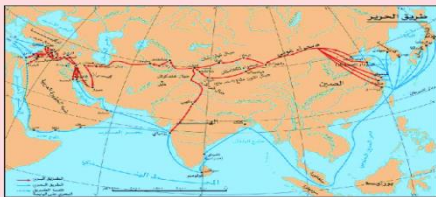
(أ) الخليج العربي أحد أهم الطرق التجارية القديمة

علل يعد الخليج العربي اهم الطرق التجارية القديمة

- ١- موقع متوسط من قارات العالم القديم
- ٢- وجود مضيق هرمز الذي يربط الخليج العربي بخليج عمان

(ب) طريق الحرير

عرف طريق الحرير: أهم الطرق التجارية وأكثرها استخداماً في التجارة الدولية في العالم القديم وله مساران بري وبحري



- المحور الأكثر أهمية للتجارة الدولية في العالم القديم يسمى **طريق الحرير**
- الدولة التي يبدأ منها طريق الحرير تسمى **الصين** وينتهي في **أوروبا**
- لطريق الحرير مساران **شمالي بري** و**غربي بحري**
- الميناء الصيني الذي يبدأ منه طريق الحرير هو **كانتون**
- يتفرع طريق الحرير البحري الى فرعين الاول يتجه شمالا الى **الخليج العربي** ليصل لبلاد فارس (ايران) وبلاد ما بين النهرين (العراق) والثاني يتجه غربا الى اليمن وصولا الى **البحر الاحمر** ثم **البحر المتوسط**

علل الأهمية الاقتصادية لطريق الحرير

- ١- اهم الطرق التجارية القديمة وأكثرها استخداماً للتجارة الدولية
- ٢- كان له مسارين بري وبحري

أنواع الأنشطة الاقتصادية

- عدد الأنشطة الاقتصادية في الكويت قديماً

- ١- النشاط البحري
- ٢- النشاط البري
- ٣- الحرف اليدوية

أولاً النشاط البحري

- علل يعد النشاط البحري هو النشاط السائد في الكويت قديماً

أو علل ضعف مشاركة النشاط البري في الاقتصاد الكويتي قديماً

- ١- قلة المياه العذبة
- ٢- مناخها القاسي
- ٣- أراضيها الرملية الغير صالحة للزراعة

- عدد اهم الأنشطة البحرية في الكويت قديماً

- ١- صيد الأسماك
- ٢- صناعة السفن
- ٣- الغوص على اللؤلؤ
- ٤- التجارة

- دليل على صحة هذه العبارة لعب المناخ دور مهم في اتجاه معظم الكويتيين للنشاط البحري

- ١- موقع الكويت في منطقة صحراوية
- ٢- قلة الموارد والامطار
- ٣- معظم الاراضي غير صالحة للزراعة



١- صيد الاسماك

- علل اهمية حرفة صيد الاسماك

- ١- مصدر من مصادر الدخل في دولة الكويت
- ٢- السمك الغذاء الرئيسي لسكان الكويت

- الحرفة التي لم يتوقف سكان الكويت عن ممارستها قبل وبعد النفط هي **حرفة الصيد**

- من أنواع الأسماك في الكويت **الزبيدي - الهامور - الروبيان - الصبور - النقرور - البياح - السبيطي**

- من طرق الصيد في الكويت **الشباك - الحظور - بالقرقور - الميذار - القمبار**

- الحظور مصنوع من **القصب**

- **عرف القمبار**: طريقة كويتية قديمة للصيد حيث يتجمع السمك حول سراج مضيء يحمله الصياد فيقوم بضربه بألة حادة

- من السفن التي تستخدم للصيد في الكويت **الشوعى - الهوري - الجالبوت**

- من أماكن الصيد في الكويت شمالاً **فيلكا - وربة - خور الزبير - مسكان - كاظمة - الصبية**

- من أماكن الصيد في الكويت جنوباً **رأس الزور - الجليعة**

٢- صناعة السفن

- علل تطور صناعة السفن في الكويت قديماً - دليل لعب موقع الكويت دور مهم في تطور صناعة السفن



١- هبوب الرياح الموسمية على الخليج العربي

٢- توافر الايدي العاملة المدربة على صناعة السفن

٣- تمتع الكويت بواجهة بحرية طويلة

- **عرف العمائر الساحلية**: مخازن المواد المستخدمة في صناعة السفن

- **عرف الأستاذ**: مهنة كويتية قديمة يقصد بها الشخص الذي يقوم بتصميم السفينة

- **عرف القلاف**: الشخص الذي يقوم بعملية إعداد المواد اللازمة للصناعة ثم يقوم بعملية بناء السفينة

- علل لعبت الرياح الموسمية دور مهم في تطور صناعة السفن في الكويت

- ساعدت على دفع السفن نحو شواطئ الهند وشرق آسيا

- علل ساعدت الواجهة البحرية للكويت على ازدهار صناعة السفن

دليل على لعبت الواجهة البحرية للكويت دور في ازدهار صناعة السفن

١- امتدادها من الشمال للجنوب ووجود التفرجات

٢- وجود جون الكويت

٣- وجود النقع والعمائر الساحلية

متوفر شرح جميع المواد عبر تطبيق سما التعليمي مع مذكراتنا التي تسهل وتوفر عليك وقت المذاكرة وروا موقعنا على انستغرام وتابع اخر العروض القوية

- صمم مخطط سهمي يوضح أنواع السفن في دولة الكويت قديما

انواع السفن قديما



- دليل على اعتزاز دولة الكويت بترانها البحري

١- اتخذت صورة البوم شعار للدولة

٢- وضعت صورة البوم على العملة الوطنية

* من اين كانت تجلب الاخشاب المستخدمة في صناعة السفن من **الهند** - **والصومال**

* اذكر المواد المستخدمة في صناعة السفن قديما **الايخشاب** - **المسامير** - **الفتايل**

* لاحظ الصورتين وحدد المشترك بينهما **سفينة البوم والخليج**

٣- الغوص على اللؤلؤ

- علل للبحر أهمية كبيرة للكويتيين الأوائل

١- مصدر الخير والرزق

٢- شكل طبيعة المجتمع الكويتي حسب كل حرفة

- اشهر حرفة مارسها اهل الكويت منذ النشأة حتى الخمسينات **حرفة الغوص**

- علل سبقت حرفة الغوص على اللؤلؤ غيرها من الأنشطة الاقتصادية

- لأنها من اهم مصادر الدخل حيث عمل بها اغلب رجال الكويت وشبابها

- بداية موسم الغوص في شهر **مايو** وتسمى **الدشة** ونهايته في شهر **سبتمبر** أو **اكتوبر** وتسمى **القفال**

- **عرف الدشة**: تعني دخول البحر وهي بداية موسم الغوص على اللؤلؤ شهر مايو

- **عرف القفال**: تعني انتهاء موسم الغوص وعودة السفن إلى الكويت شهر سبتمبر او اكتوبر.

- **عرف الهيرات**: يقصد بها الأماكن التي تكثر فيها منابت المحار المحتوي على اللؤلؤ

- من مسميات اللؤلؤ **دانة** - **قماشة**

- السفن المستخدمة في الغوص عن اللؤلؤ **بوم الغوص** - **السنوك** - **الجالبوت** - **الشوعي** - **البقارة** - **البتيل**

- **علل كساد تجارة الغوص على اللؤلؤ في الكويت** - بسبب ظهور اللؤلؤ الصناعي عام ١٩٢٨

- العام الذي صدر فيه قانون الغواصين في عهد الشيخ احمد الجابر عام **١٩٤٠**

- علل اصدر الشيخ احمد الجابر قانون الغواصين عام ١٩٤٠

١- تنظيم علاقة العمل بين النوخذة والبحارة

٢- أهمية حرفة الغوص بالنسبة للكويتيين

- صمم مخطط سهمي يوضح العاملين في حرفة الغوص

العاملون في حرفة الغوص



- **عرف النوخذة**: قائد السفينة والمسؤول عن طاقمها وعن تحديد أماكن الغوص

ويجب ان تتوفر فيه معرفة الاتجاهات البحرية ويتخذ جميع القرارات

- **عرف المجدمي**: لقب يطلق على رئيس البحارة والمسؤول عن إدارة السفينة من الداخل

- **عرف الغيص**: الشخص الذي يغوص في قاع البحر بحثا عن المحار

- **عرف السيب**: الشخص الذي يقوم بسحب الغيص للسطح عن شد الحبل

(الأيد) ومساعدة الغيص في فتح المحار



متوفر شرح جميع المواد عبر تطبيق سما التعليمي مع مذكراتنا التي تسهل وتوفر عليك وقت المذاكرة وروا موقعنا على انستغرام وتابع اخ

- **عرف النهار:** الشخص الذي ينشد المواويل تشجيعاً لطاقم السفينة في رحلتهم

- **عرف الرضيف:** صغار السن الذين يقومون ببعض الاعمال الأقل من السيب

- **الطواش:** هو تاجر اللؤلؤ

- **علل احرفة الغوص على اللؤلؤ تأثير كبير على حياة اهل الكويت**

١- التعاون والتعاقد بالمجتمع ٢- الالتزام والطاعة والصبر

* **علل انقراض حرفة الغوص للبحث عن اللؤلؤ**

١- ظهور اللؤلؤ الصناعي ٢- ظهور النفط

- **٤- التجارة**

- **عرف الترانزيت:** هو إعادة تصدير الواردات

- تأسست الكويت عام **١٦١٣**



- **علل ازدهار وتطور الكويت بعد التأسيس عام ١٦١٣**

١- صناعة السفن ٢- الغوص على اللؤلؤ ٣- العمل بالتجارة

- **علل الكويت قديماً من المراكز التجارية المهمة**

١- موقعها الجغرافي المتميز ٢- حلقة الوصل بين الشرق والغرب ٣- عمل سكانها بصناعة السفن

- **عرف موسم السفر:** بدايته تسمى **الدشة** وتعني دخول البحر في شهر **اغسطس** نهايته تسمى **الإغلاق** في شهر **مايو**

- **علل إغلاق موسم السفر في شهر مايو**

- بسبب الرياح الموسمية (السررايات) التي تسبب هياج المحيط الهندي وبحر العرب

- يبدأ موسم السفر بتوجه السفن الكويتية الى ميناء **البصرة**

- من المناطق التي وصل اليها الاسطول الكويتي **الهند** - **اليمن** - **البحر الأحمر** - **شرق افريقيا**

- من الموانئ التي وصل اليها الاسطول الكويتي في الهند **كراتشي** - **النيبار** - **المليبار** - **بومباي**

- من الموانئ التي وصل اليها الاسطول الكويتي في اليمن **سيحوت** - **حضر موت** - **المكلا** - **عدن**

- من موانئ شرق افريقيا التي وصل اليها الاسطول الكويتي **لامو** - **ممباسا** - **زنجبار**

- **اذكر القرارات الحكومية التي ساعدت على الازدهار التجاري والاقتصادي**

أو - دلل على إدراك الحكومة الكويتية لأهمية التجارة كمورد اقتصادي مهم

١- عدم رفع الضرائب والمكوس ٢- اشتهار حكام الكويت والعدل ٣- الاهتمام بالتجارة البرية والنقل البري

- **علل اهتمام السلطة الكويتية بالتجارة البرية والنقل البري**

١- التكامل بين النشاط البحري والبري ٢- نقل البضائع بصورة سريعة ٣- التجارة البرية عنصر مكمل للتجارة البحرية

- من الواردات التي تحملها السفن الكويتية **الأسلحة والذخيرة** - **الأرز** - **الشعير** - **القمح** - **الأقمشة** - **التبغ**

- **علل يعد حجم السوق الكويتي قديماً صغيراً جداً** - بسبب قلة عدد السكان قديماً وقلة الدخل

ثانياً النشاط البري

- **عدد أهم الأنشطة البرية في الكويت قديماً**

١- الرعي ٢- الزراعة

- **١- الرعي**

- الحرفة الأساسية لسكان البادية في الكويت حرفة **الرعي**

- من النباتات الموسمية التي تنمو بعد سقوط المطر وتقوم عليها حرفة الرعي في الكويت **جويدان** - **الربيلة**

- من النباتات المعمرة التي تقوم عليها حرفة الرعي في الكويت **الحمض - الثندا**

- **علل تراجع حرفة الرعي حالياً في الكويت**

١- ظهور النفط وتوفير فرص العمل

٢- ارتفاع مستوى المعيشة ومستوى التعليم

٢- الزراعة

- **علل قلة الزراعة في الكويت**

١- بلد صحراوي يعاني من شح المياه وارتفاع درجة الحرارة

٢- عدم خصوبة التربة

- **دليل على تغلب الكويتيين على الصعوبات التي واجهت الزراعة**

١- زراعة النباتات التي تتلاءم مع البيئة ٢- استغلوا مياه الأمطار القليلة واستخدموا مياه الآبار السطحية

- من مصادر المياه المستخدمة في الزراعة **الامطار القليلة - الابار السطحية**

- **صمم مخطط سهمي يوضح اهم المناطق الزراعية في الكويت قديماً**

المناطق الزراعية في الكويت قديماً

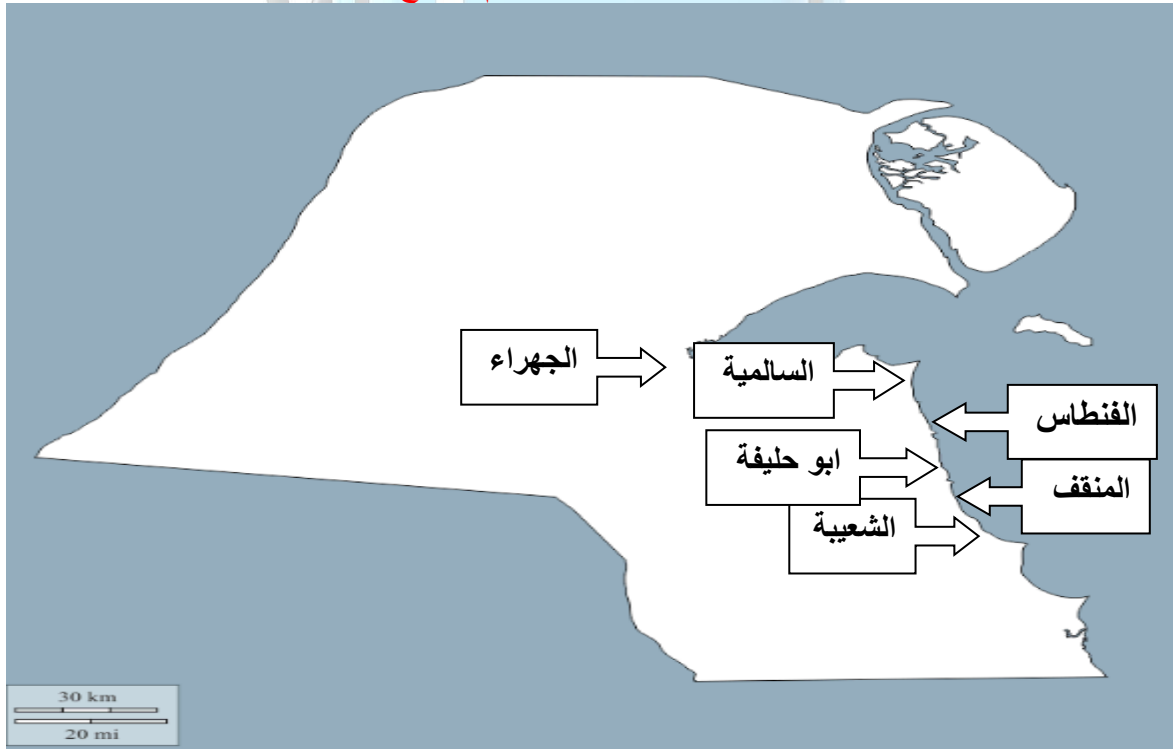


- قام الكويتيون بزراعة **الحصراوات - الفمح - الشعير - البرسيم (الجت)**

- من الاشجار التي استخدمها الكويتيون كمصدات للرياح **اشجار الأثل** وزراعة أشجار **السدر**

- من النباتات البرية في الكويت **العرفج - الحمض - الحنظل - الثندا - الأرتة**

* **حدد على خريطة دولة الكويت الصماء المناطق الزراعية القديمة ثم استنتج حقيقة واحدة**



* **الحقيقة** : ترتبط الزراعة في الكويت بمناطق المياه الجوفية والامطار

ثالثاً الحرف اليدوية

- من الحرف اليدوية قديماً **النجارة - الحداد - الصفار - التناك - القفاص - الحياك - النداف - السدو**

- **عرف النجارة** : حرفة يدوية توفر مستلزمات البناء والمستلزمات المنزلية

- كان النجار يستخدم الاخشاب المستوردة من **الهند - افريقيا**

- يقوم النجار بصناعة **الابواب - النوافذ - التخوت - النباطة - الدوامة - الشداخة - النختة - السحارة**

- **عرف الشداخة** : آلة خشبية تستخدم لصيد الفئران في الكويت قديماً

- عرف الحداد : عمال يقومون بصناعة المسامير لصناعة السفن والأدوات المستخدمة في البناء والزراعة

- من الادوات التي يصنعها الحداد **الصخين** - **الجدوم** - **الهيبي** - **المنقاش** - **السكاكين** - **السلاسل** - **الدوة**

- **عرف الصخين :** هي أداة قديمة تستخدم في الحفر

- **عرف الصفار :** حرفة يدوية يقوم العاملون فيها بصنع وتلميع القدور النحاسية المستخدمة في الطبخ

- **عرف التناك :** حرفة يدوية يقوم العاملون فيها باستخدام الصفيح المعدني لصنع المحقان والدوة وغيرها

- من الادوات التي يصنعها التناك **المحقان** - **الدوة** - **التناك** - **قوطي الجاز** - **السطول** - **الطشوت**

- **عرف القفاص :** شخص يستخدم جريد النخيل لصناعة بعض الادوات المنزلية

- من الادوات التي يصنعها القفاص **الاقفاص** - **المنز** - **السرير** - **الرك**

- **عرف المنز :** يقصد به السرير الذي ينام عليه الطفل قديماً ويصنعه القفاص من جريد النخيل

- **عرف الرك :** صندوق له فتحة من الأعلى لوضع المأكولات كالغيب والرطب ويصنعه القفاص من جريد النخيل

- **عرف الحياك :** خياطة الملابس كالبنشوت

- **عرف النداف :** بتجيد وصناعة المساند والفرش باستخدام القطن

- **عرف السدو :** حرفة تقوم بها المرأة في البادية بحياكة الصوف

- من الصناعات التي تتعلق بالسدو حياكة **بيت الشعر** - **العدول** - **المزاود** - **البشوت** - **المفروشات** - **السجاد**

- دليل على مشاركة المرأة الكويتية في الأنشطة الاقتصادية قديماً

- مزاوله المرأة حرفة صناعة السدو وحياكة الصوف وصناعة المفروشات والعباءات النسائية والبشوت

- **عرف العدول :** عبارة عن أكياس توضع على ظهر الدابة وبها حاجات الراكب

- **عرف المزاود :** عبارة عن أكياس متوسطة تستخدم قديماً لحفظ الطعام والملابس

المعالم الحضارية لدولة الكويت**- عل لعبت الكويت دور في التواصل بين حضارات شمال الخليج وجنوبه**

- بسبب موقعها الجغرافي المتميز على الخليج العربي

- المناطق التي تم فيها رصد اثار الانسان القديم في جنوب الكويت **تل وارة** - **القرين** - **البرقان**

- من المناطق التي تم فيها اثار بشرية **تل الصليبخات** - **كاظمة** - **والصبية في الشمال** - **جزيرة فيلكا**

٢- فيلكا

١- الصبية حضارة العبيد

- **أهم مراحل التطور الحضاري لدولة الكويت قديماً**

- عل أهمية حضارة الصبية (العبيد) - دليل على الأهمية الأثرية لمنطقة الصبية

١- قيمة أثرية كبيرة يرجع تاريخها الى ١٥ و ٢٠ مليون سنة

٢- تحتضن المنطقة مئات المواقع الأثرية التي دلت على حضارة العبيد (٥٥٠٠ - ٤٥٠٠ ق م)

٣- العثور على قرى سكنية و ابار قديمة في بحرة وطبيح شمال الصبية



- اقدم قارب في منطقة الخليج العربي قارب **فخاري الصبية**

- كانت حضارة العبيد مستقلة عن حضارة **بلاد الرافدين**

- الحضارة التي سيطرت على منطقة الخليج في النصف الثاني من الالف الأولى قبل الميلاد تسمى **الحضارة الإغريقية**

- من الجزر التي اكتشف فيها آثار الحضارة الإغريقية جزيرة **أم النمل** - **وفيلكا**

- دليل على سيطرة الحضارة الإغريقية على منطقة الخليج العربي

- في جزيرة أم النمل اكتشف قبر وتمثال من الطين المحروق ومذبح من الحجر الرملي

جزيرة فيلكا

- أقدم حضارة توجد في جزيرة فيلكا الحضارة **الدمونية**

- بدأت اعمال التنقيب الاثري في جزيرة **فيلكا** عام **١٩٥٨**

عدد اهم اثار الحضارة الاغريقية في جزيرة فيلكا

١- القلعة الهلينستية وتل الخزنة الذي كان مقدسا عند الإغريق

٢- العملات النحاسية

٣- الكتابات على الصخور كحجر إيكاروس

**علل لعبت جزيرة فيلكا دورا رئيسيا في منطقة الخليج العربي خلال الألفين الثالث والثاني قبل الميلاد**

١- مركز من مراكز حضارة دلمون القديمة

٢- تؤدي دور الوسيط التجاري بين حضارتي الهند وبلاد الرافدين

اذكر ابرز ما خلفته حضارة دلمون في جزيرة فيلكا

١- مجموعة من الاختام المستديرة تحمل نقوش عن اساطير قديمة

٢- مجموعة من المعابد تنتشر حول الوحدات السكنية

٣- عثر على اكثر من ٤٠٠ ختم دلموني

**صور لآثار جزيرة فيلكا****اذكر استخدامات أختام دلمون**

١- تستخدم كتعويذه

٢- ختم تجاري

٣- هوية لحاملها

الكويت والحضارة الاسلامية

- منطقة في الكويت وقعت فيها معركة **ذات السلاسل** بين **المسلمين والفرس** عام ١٢ هـ تسمى **كاظمة**

- **علل الأهمية التاريخية لمعركة كاظمة (ذات السلاسل)** - سبب لدخول الإسلام بلاد الرافدين وفارس والهند ووسط اسيا

عدد أبرز ما خلفته الحضارة الإسلامية في الكويت

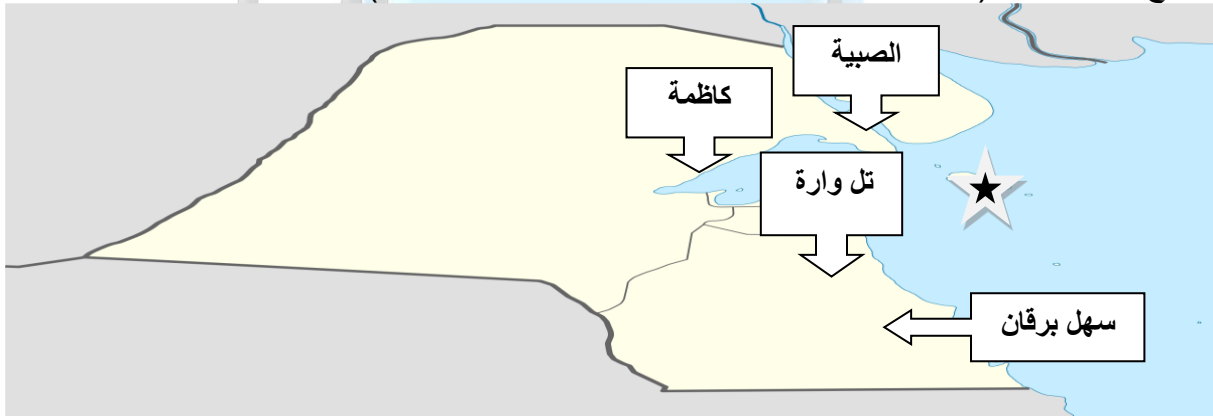
١- عملة اموية مؤرخة بعام ١٢٣ هـ

٢- في منطقة ام العيش مباني ترجع الى الفترة الإسلامية

٣- العثور على مستوطنات متتالية في الشقايا ووادي الباطن على طريق الحج

* **ظلل جزيرة فيلكا على الخريطة الصماء التالية** *

* حدد المواقع التاريخية لـ (منطقة تل وارة - سهل برقان - الصبية - كاظمة)

**صور لمجموعة من الآثار المكتشفة في دولة لكويت**

طبعة ختم



مدفن مستطيل (الصبية)



معبد البحري (جزيرة فيلكا)



خرز من الأصداف البحرية (مدافن الصبية) مدفن له جدار دائري في منطقة الصبية أختام دائرية وأسطوانية

الفصل الثاني

نشأة الكويت

١- هجرة العتوب وبداية نشأة دولة الكويت

- بدأت نشأة الكويت بعد **هجرة العتوب**

- تعرضت شبه الجزيرة العربية لموجة من الجفاف والقحط في منتصف القرن **١٧م**
- الأسر التي هاجرت من شبه الجزيرة العربية بسبب الجفاف والقحط **آل صباح** - **آل خليفة** - **آل جلاهمة**

- **علل هجرة مجموعة من الأسر من شبه الجزيرة العربية في منتصف القرن ١٧م**

١- بسبب الجفاف والقحط

- يطلق على الجماعات المهاجرة من آل صباح وآل خليفة وآل جلاهمة أسم **العتوب**

- موطن جماعات العتوب كان في **شبه الجزيرة العربية** بمنطقة **نجد** تسمى **الهدار**

- **عرف العتوب** : اي عتب وانتقل من مكان إلى اخر وهي الجماعات المهاجرة من شبه الجزيرة العربية الى القرين

- **علل تسمية العتوب بهذا الاسم** - بسبب كثرة الترحال وليس نسب

- بدأت رحلة العتوب من منطقة **الهدار بنجد**

- اولى محطات هجرة العتوب بعد خروجهم من الهدار بنجد مروراً بمنطقة الاحساء **الزبارة بقطر**

- محطة الاستقرار الاولى للعتوب كانت **الزبارة بقطر**

- الفترة التي استقر فيها العتوب بمنطقة الزبارة في قطر حوالي **٥٠ عام**

- غادر العتوب منطقة الزبارة بعد ما تعلموا **المهارات البحرية**

- غادر العتوب منطقة الزبارة بقطر بأسطول يتكون من **١٥٠ سفينة**

- غادر العتوب منطقة الزبارة في قطر واتجهوا الى شمال الخليج العربي لمنطقة تسمى **المخراق**

- تقع منطقة المخراق على مشارف مدينة **البصرة**

- وصل العتوب الى منطقة المخراق على مشارف البصرة عام **١٧٠١م**

- أبحر العتوب من منطقة المخراق الى منطقة **الصبية**

- منطقة وصل اليها العتوب تقع على الساحل الشمالي لجون الكويت تسمى **الصبية**

- محطة الاستقرار الأخيرة للعتوب تسمى **القرين**

- **علل أستقر العتوب في منطقة القرين** - بسبب أهميتها

٢- **تسمية دولة الكويت واختيار آل صباح لحكمها**

- اول اعمال العتوب بعد الاستقرار في القرين هو **تكوين تحالف ثلاثي**

- تكون الحلف الثلاثي بين الاسر الثلاثة عام **١٧١٦م**

- **اكتب عن الحلف الثلاثي**

- تكون الحلف الثلاثي عام ١٧١٦م بين ثلاث اسر هم آل صباح وآل خليفة وآل جلاهمة

- بنو صباح مهام الحكم - بنو جلاهمة الشؤون البحرية - بنو خليفة الشؤون التجارية

آل صباح

(الحكم)

- **صمم مخطط سهمي يوضح تقسيم المسؤوليات بين الاسر الثلاثة الكبيرة في الكويت**

- زعيم بنو صباح في الحلف الثلاثي يسمى **سليمان بن أحمد**

- زعيم بنو جلاهمة في الحلف الثلاثي يسمى **جابر العتبي**

آل الجلاهمة

(شؤون البحر)

آل خليفة

(شؤون التجارة)

متوفر شرح جميع المواد عبر تطبيق سما التعليمي مع مذكراتنا التي تسهل وتوفر عليك وقت المذاكرة

- زعيم بنو خليفة في الحلف الثلاثي يسمى **خليفة بن محمد**
- توفي رئيس بنو صباح الشيخ سليمان بن أحمد عام **١٧١٨م**
- توفي الشيخ جابر بن سليمان بن احمد في **الزبارة**
- بايع اهل الكويت الشيخ صباح بن جابر بن سليمان بن أحمد لحكم الكويت عام **١٧١٨م**
- حفيد الشيخ سليمان ابن احمد الذي تولى حكم الكويت عام ١٧١٨م يسمى الشيخ **صباح بن جابر بن سليمان**
- أول حاكم للكويت يسمى الشيخ **صباح بن جابر بن سليمان**
- يرجع نسب الشيخ صباح بن جابر الى **قبيلة عنزة المنحدرة من أسد إحدى قبائل ربعية العدنانية**

الكويت بعد التأسيس

- عدد مراحل استقرار الحكم آل صباح بعد عملية التأسيس

- ١- **المرحلة الأولى** : الهجرة من نجد مع بقية الاسر الكويتية والإقامة فيها
- ٢- **المرحلة الثانية** : التحالف الثلاثي وتوزيع المهام
- ٣- **المرحلة الثالثة** : اختيار آل صباح لحكم الكويت وانتهاء التحالف الثلاثي

علاقة الكويت وبني خالد

- نمت وازدهرت الكويت في ظل قبيلة قوية لها نفوذ في المنطقة تسمى **بني خالد**

- اكتب عن دور بني خالد في نمو واستقرار امارة الكويت

- ١- تمتع الكويت بالأمن والحماية والرخاء
 - ٢- الحماية من الاخطار الخارجية للقوى الإقليمية التي كانت موجودة آنذاك
 - ٣- نمت وازدهرت بعيدا عن الصراع بين بني خالد والعثمانيين وآل سعود
- القبيلة القوية التي امتد نفوذها من قطر جنوبا حتى حدود البصرة شمالا تسمى **بني خالد**

حكام دولة الكويت

١- الحاكم الاول: الشيخ صباح بن جابر (صباح الأول) ١٧١٨-١٧٦٢

- عدد اهم اعمال الشيخ صباح بن جابر

- ١- ظهور الكويت كيان سياسي منظم
- ٢- توطين الامن ونشر العدل
- ٣- تنظيم أمور السكان والبلدة الوليدة
- ٤- ترسيخ أنشطة الكويت التجارية

٢- الحاكم الثاني : الشيخ عبدالله بن صباح (عبدالله الأول) ١٧٦٢ - ١٨١٣

- علل اختيار الشيخ عبد الله بن صباح حاكم للكويت رغم انه أصغر الأبناء سن

- ١- ذو سيرة حسنة ونباهة وحزم
- ٢- قريب من الحق محب للعدالة

- عدد أهم اعمال الشيخ عبد الله الأول بن صباح

- ١- ازدهار الامارة
- ٢- امتدت التجارة الى الهند واليمن وشرق افريقيا والعراق

- اذكر اهم الاحداث في زمن الشيخ عبد الله الأول

١- معركة الرقة مع بني كعب عام ١٧٨٣م

٢- بناء سور الكويت الاول عام ١٧٩٧م

- وقعت معركة **الرقة البحرية** بين الكويت و**بني كعب**

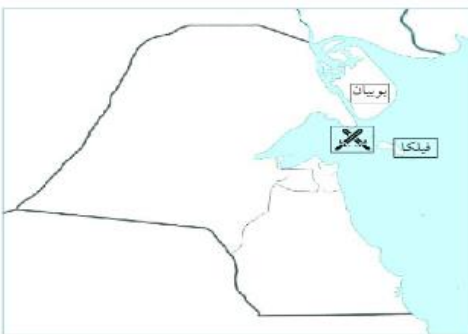
- العام الذي وقعت فيه معركة الرقة التاريخية عام **١٧٨٣**

- المكان الذي وقعت فيه معركة الرقة البحرية بالقرب من **جزيرة فيلكا**

- علل معركة الرقة البحرية

- ١- ازدهار الكويت تجاريا واقتصاديا
- ٢- أصبح ميناؤها مفضلا من قبل التجار
- ٣- غيرة بنو كعب بسبب الازدهار وتأثيره عليهم
- ٤- تأثير الكويت على تجارة بنو كعب

متوفر شرح جميع المواد عبر تطبيق سما التعليمي مع مذكراتنا التي تسهل وتوفر عليك وقت المذاكرة وروا موقعنا على انستغرام وتابع اخر العروض القوية



شكل رقم (١١) معركة الرقة البحرية

- تعرض ميناء البصرة لنكبات على يد **الفرس** عامي **١٧٧٥ - ١٧٧٩**

- اول معركة بحرية في تاريخ اماره الكويت معركة **الرقعة البحرية**

- نتائج معركة الرقة

١- انتصار الكويت على اقوى قوة بحرية ٢- غنم الكويتيون بالكثير من الذخيرة والمدافع

- العام الذي تم فيه بناء السور الاول حول الكويت عام **١٧٩٧ م**

- **علل بناء سور الكويت الأول عام ١٧٩٧ م** - لحماية المدينة من الاخطار الخارجية

- أطول فترة قضاها حاكم من آل صباح في حكم الكويت هو الشيخ **عبد الله الأول بن صباح** لمدة **٥١ عام**

٣- **الحاكم الثالث الشيخ جابر بن عبدالله (جابر العيش) ١٨١٣ - ١٨٥٩ م**

- الدولة التي كان يوجد بها الشيخ جابر الأول حين وفاة والده تسمى **البحرين**

- عدد صفات الشيخ جابر الأول

١- هادئ الطباع

٢- محب لقومه مشفق عليهم

- علل تسمية الشيخ جابر بجابر العيش

١- كرمه حيث كان يتصدق على الفقراء والمساكين ٢- له عريش بجوار بيته يقدم فيه الأرز للفقراء

٣- مقولته (لو تحت يدي ثروة لقت بحاجة الفقراء والمحتاجين الى ان يموتوا)

- زار البريطاني بروكس الخليج عام **١٨٣٠ م**

- البريطاني الذي زار منطقة الخليج عام ١٨٣٠ الكابتن **بروكس**

- كم كان عمر الشيخ جابر الأول عند زيارة بروكس منطقة الخليج عام ١٨٣٠ عمره **٥١ عام**

- **من القائل** (إن لأهل الكويت علينا حق عظيماً ولو كانت تحت يدي ثروة طائلة لقت بحاجة الفقراء

والمحتاجين منها إلى ان يموتوا) هو **الشيخ جابر الاول** لمن قالها **لابنه**

- عدد أهم اعمال الشيخ جابر الأول بن عبدالله الصباح

١- بناء السور الثاني عام **١٨١٤**

٢- ساعد العثمانيين على إعادة البصرة للحكم العثماني (بعد خروج القبائل على الحكم العثماني)

٣- رفض عرض شركة الهند الشرقية إقامة محطة فحم بالكويت عام **١٨٤١ م**

٤- رفض رفع العلم البريطاني في الكويت عام **١٨٣٩ م** (لأنه في غير صالح الكويت)

- العام الذي طلب فيه المقيم البريطاني رفع الراية الانجليزية في الكويت **١٨٣٩ م**

- علل تعتبر فترة حكم الشيخ جابر الأول فترة ازدهار بحري للكويت

١- تطور صناعة السفن الكبيرة مثل البغلة والبتيل

٢- وصول الكويتيون الى سواحل الهند واليمن لنقل البضائع

٤- **الحاكم الرابع الشيخ صباح بن جابر (صباح الثاني) ١٨٥٩ - ١٨٦٦**

- عدد اهم اعمال الشيخ صباح الثاني بن جابر

١- تقدمت التجارة

٢- ألغى الرسوم على البضائع احتراماً لشعبه

- علل ألغى الشيخ صباح الثاني فرض رسوم على بضائع التجار

- احتراماً لرغبة شعبه رفضهم فرض رسوم على التجارة

- المعتمد البريطاني الذي زار الكويت عام **١٨٦٥** يسمى **لويس بيلى**

- الرحال الاجنبي الذي زار الكويت في عهد الشيخ صباح الثاني هو **بكنجهام**

- أكثر أهل الخليج حباً للحرية والإقدام هم **أهل الكويت**

- **من القائل** " إن أهل الكويت أكثر أهل الخليج حباً للحرية والإقدام " القائل **بكنجهام**

النمو التجاري والاقتصادي للكويت تحت حكم آل صباح

- علل النمو التجاري والاقتصادي للكويت تحت حكم آل صباح

- دليل على اتخذت دولة الكويت مجموعة من القرارات الاقتصادية ساهمت في النمو التجاري

- ١- قلة الضرائب على البضائع القادمة للكويت
- ٢- تشجيع بناء سفن الغوص وتأمين طرق التجارة
- ٣- اجتذاب الوكالات التجارية التابعة للشركات الأوروبية
- ٤- لعب التجار الكويتيون دور الوسيط التجاريين
- أصبحت الكويت سوقاً رائجاً لسكان البادية - وسط نجد
- انتقلت الوكالة البريطانية من البصرة الى الكويت مرتين عام ١٧٩٣ - ١٨٢١

- اذكر عوامل نمو وازدهار دولة الكويت تحت حكم آل صباح

- ١- موقع الكويت الاستراتيجي على الخليج العربي
- ٢- طبيعة نظام الحكم المعتمد على العدل والشورى والامن
- ٣- وجود علاقات متوازنة مع القوى المجاورة
- ٤- التسهيلات التي منحتها لتجار البادية (تجارة المسابرة)
- عرف تجارة المسابرة : مبادلة السلع التي يحملها تجار البادية إلى أسواق الكويت بسلع أخرى يحتاجون إليها من أهل الكويت
- من التسهيلات التجارية التي منحتها الكويت لتجار البادية المسابرة
- تشكلت هوية الكويت منذ التأسيس على يد العتوب
- تحولت الكويت الى مركز جذب سكاني تحت حكم آل الصباح
- تأسست دولة الكويت على أساس التجانس - الاندماج - التكامل

الفصل الثالث

الكويت والتنافس الأوروبي على منطقة الخليج العربي من القرن السادس عشر حتى القرن التاسع عشر الميلادي

التنافس الاستعماري الأوروبي على منطقة الخليج العربي

- القرن الذي بدأ فيه التنافس الأوروبي على الخليج العربي القرن السادس عشر
- أول دولة أوروبية استعمارية في منطقة الخليج العربي البرتغال ثم جاءت بعدها هولندا

- علل التنافس الاستعماري الأوروبي على منطقة الخليج العربي

- ١- الأهمية الاقتصادية
- ٢- العامل السياسي والديني
- ٣- العامل العلمي مثل تقدم الفلك والرياضيات
- من أهم الدوافع في عملية تسريع الكشوف الجغرافية والاستعمارية لمنطقة الخليج الدافع السياسي والديني



أولاً البرتغاليون

- استمرت السيطرة البرتغالية على منطقة الخليج قرن ونصف القرن ١٥٠٠ عام
- أسوا النظم الاستعمارية في الخليج العربي الاستعمار البرتغالي

- دليل لم تكن سيطرة البرتغاليين على منطقة الخليج سيطرة هادئة

- بسبب الأنشطة المعادية من العثمانيين والصراع المكشوف بينهم

- علل تغير وانحيار أوضاع البرتغاليين في منطقة الخليج منذ أواخر القرن ١٦

- ١- وصول السفن الهولندية والانجليزية
- ٢- جهود اليعاربة في عمان
- ٣- وقوع البرتغال تحت الاحتلال الإسباني
- الدولة الخليجية التي ظهر فيها اليعاربة تسمى عمان

- علل أهمية اليعاربة في منطقة الخليج العربي في أواخر القرن ١٦

- تصفية الوجود البرتغالي وطردهم من الخليج العربي

ثانياً الهولنديون

- القرن الذي بدأ فيه الوجود الهولندي في اسيا والشرق هو أواخر القرن ١٦

- **علل الوجود الهولندي في اسيا والشرق** - منافسة اسبانيا والبرتغال على طرق التجارة

- العام الذي خرج فيه اول اسطول هولندي الى اسيا عام **١٥٩٥م**
- اول منطقة سيطر عليها الهولنديون في اسيا هي **جزر الهند الشرقية**



- **اذكر خطوات هولندا للسيطرة على اسيا ومنطقة الخليج**

- ١- إرسال اول اسطول هولندي عام ١٥٩٥ م
- ٢- انشاء شركة الهند الشرقية المتحدة
- الميناء الذي اتخذه الهولنديون مركزا تجاريا لهم يسمى **بندر عباس**

- **علل انهيار النفوذ الهولندي في منطقة الخليج العربي**

- بسبب التنافس الإنجليزي الهولندي الذي قضى على آمالهم واخرجهم من المنطقة

ثالثا البريطانيون

- للسيطرة على الخليج العربي دخلت بريطانيا في منافسة مع **هولندا**
- تأسست شركة الهند الشرقية الإنجليزية عام **١٦٠٠م**

- **ما النتائج المترتبة على انهيار النفوذ الهولندي في الشرق**

- ١- سيطرة بريطانيا على ممتلكات هولندا بالهند وسيلان والخليج العربي

- **علل اهتمام بريطانيا بمنطقة الخليج العربي**

- ١- الأهمية الاستراتيجية لمنطقة الخليج العربي
- ٢- طريق حيوي لحماية إمبراطوريتهم في الهند

- **عدد الخطوات التي اتخذتها بريطانيا للسيطرة على الخليج العربي**

- ١- تأسيس شركة الهند الشرقية الإنجليزية عام ١٦٠٠
- ٢- حصلوا على امتيازات من شاه فارس
- ٣- وضع يدهم على ممتلكات هولندا في الهند والسيطرة على سيلان والخليج العربي

الكويت وبريطانيا

- **علل أهمية الكويت بالنسبة لبريطانيا في نهاية القرن ١٨**

- ١- أسس البريطانيون مراكز تجارية لهم بالكويت
- ٢- نقل مركز البريد والتجارة للكويت عام ١٧٧٥
- ٣- عقد اتفاقية الحماية البريطانية عام ١٨٩٩
- قام الصراع بين الدولة العثمانية والدولة الفارسية بين عامي **١٧٧٥ : ١٧٧٩م**

- **علل قيام بريطانيا بنقل مركز البريد والتجارة للكويت عام ١٧٧٥** - بسبب الحصار الفارسي للبصرة

- **علل اتخذت بريطانيا من الكويت مقرا مؤقتا بين عامي ١٧٩٣ - ١٧٩٥**

- بسبب المشاكل التجارية والسياسية بين المتصرفين العثمانيين والوكلاء البريطانيين

- **دلل على أهمية الكويت كمكان آمن بالنسبة لبريطانيا في نهاية القرن الثامن عشر الميلادي**

- نقل مركز البريد البريطاني المتجه من الهند الى لندن عام ١٧٧٥ و عام ١٧٩٣
- تأسيس العديد من المراكز التجارية في الكويت

الكويت والعثمانيون

- كانت العلاقة بين الكويت والدولة العثمانية علاقة **اسمية** قائمة على **الولاء الديني**

- **دلل على كانت العلاقة الكويتية العثمانية علاقة اسمية وليست تبعية**

- ١- قامت على الولاء الديني بحكم ان الدولة العثمانية دولة الخلافة
- ٢- لم يكن للعثمانيين أي سلطة إدارية أو سياسية أو عسكرية على الكويت
- قائد الحملة العثمانية عام **١٨٧١** لإعادة السيطرة على إقليم الإحساء يسمى **مدحت باشا**

- **والي بغداد** الذي قاده حملة للسيطرة على الإحساء واستصدر فرمان يخص الكويت يسمى **مدحت باشا**

- **علل حملة مدحت باشا على الأحساء ١٨٧١ م** - لإعادة السيطرة على إقليم الأحساء

- **ما النتائج المترتبة على دعم الكويت للحملة العثمانية على الأحساء عام ١٨٧١ م**

١- تلطيف الأجواء بين الكويت والدولة العثمانية ٢- إصدار فرمان عثماني حدد علاقة الكويت بالدولة العثمانية

- **برهن على تناول فرمان العثماني العديد من الإيجابيات بالنسبة للكويت**

١- شيخ الكويت مستقل في شؤونه الداخلية ٢- منح شيخ الكويت لقب قائم مقام
٣- أهالي الكويت لا يدفعون ضرائب للباب العالي ٤- سمح للكويت بممارسة قضائها الخاص

الحاكم السابع

الفصل الرابع

الشيخ مبارك الكبير

مؤسساً لإمارة الكويت الحديثة ١٨٩٦ - ١٩١٥ م

- **الحاكم السابع الشيخ مبارك الصباح ١٨٩٦ - ١٩١٥ م**

- الحاكم السابع للكويت يسمى الشيخ **مبارك الصباح** وتولى الحكم بين عامي **١٨٩٦ : ١٩١٥**

- الحاكم الذي حكم الكويت حكم مطلق وكان هو الدولة يسمى الشيخ **مبارك الصباح**

- مؤسس إمارة الكويت الحديثة يسمى الشيخ **مبارك الصباح**

- **علل فترة حكم الشيخ مبارك فترة حاسمة في تاريخ الكويت**

- لأنه واجه خلال فترة حكمه واقعا دوليا يموج بالتغيرات والخلافات والمطامع التي هددت إمارة الكويت

- **دلل على البراعة السياسية للشيخ مبارك الكبير**

١- سارت الكويت نحو مزيد من الاستقرار والتطور ٢- تطورت الكويت سياسيا واقتصاديا واجتماعيا بصورة وكبيرة

أولاً : الأوضاع الداخلية

- **اكتب عن الأوضاع الداخلية للكويت في عهد الشيخ مبارك الصباح**

١- التعامل بمنتهى الحيطة والحذر مع الأوضاع الداخلية والخارجية في الكويت

٢- تشجيع التجارة ورعاية مصالح الكويت الاقتصادية والسكانية

- **عدد المجالات الداخلية التي تطورت في عهد الشيخ مبارك**

١- حفظ الأمن وتشجيع التجارة ٢- التعليم ٣- الصحة ٤- الجيش

- **اذكر جهود الشيخ مبارك الصباح في حفظ الامن وتشجيع التجارة**

١- تأمين طرق القوافل التجارية داخل حدود الامارة

٢- تشجيع التجارة

٣- يراقب الاسواق ومشكلات الاهالي ٤- يمد التجار بالمال لمساعدتهم في تجارتهم

- **اذكر جهود الشيخ مبارك الكبير في مجالي الصحة والتعليم**

١- انشاء المدرسة المباركية عام ١٩١١

٢- انشاء المستشفى الامريكاني عام ١٩١١

- أول مدرسة نظامية تأسست في الكويت عام **١٩١١ م** وتسمى المدرسة **المباركية**

- تم تأسيس اول مستشفى في الكويت عام **١٩١١** وتسمى المستشفى **الأمريكاني**

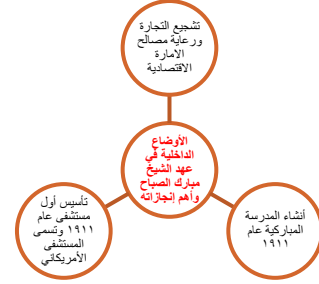
- **اذكر جهود الشيخ مبارك الكبير في مجال الجيش**

١- وفر للجيش ما يتوفر للجيش النظامية

٢- كان للجيش عقيدة قتالية وتموين وادارة وتشكيلات قتالية

٣- اعتمد الجيش على قبائل الكويت وسكانها

- **صمم خريطة ذهنية للأوضاع الداخلية في عهد الشيخ مبارك الصباح**



الأطماع الدولية تجاه الكويت في عهد الشيخ مبارك الصباح

ثانيا : الأوضاع الخارجية

١- الروس

- حاولت روسيا تعزيز نفوذها في الكويت منذ نهاية القرن **التاسع عشر**
- الدولة التي حاولت السيطرة على الكويت من خلال المشاريع التجارية تسمى **روسيا**
- الدولة الأوروبية التي حاولت إنشاء محطة للفحم وميناء لتزويد السفن بالوقود وتنفيذ مشروع كابنيست لمد خط حديدي الى الكويت تسمى **روسيا**
- **عرف مشروع كابنيست**: مشروع حاولت روسيا تنفيذه في عهد الشيخ مبارك الصباح لجعل الكويت نهاية لخط سكة حديد
- **عدد الخطوات الروسية التي حاولت القيام بها لتعزيز نفوذها في الكويت**
- ١- إنشاء محطة للفحم ٢- ميناء لتزويد سفنها بالوقود ٣- جعل الكويت نهاية لخط سكة حديد مشروع كابنيست
- **علل فشل المشاريع الروسية في الكويت** - بسبب ادراك الشيخ مبارك ان الكفة تميل للجانب البريطاني

- برهن على حذر الشيخ مبارك من التعامل مع المشاريع الروسية

- حاول الحصول على مكاسب سياسية ودعم اقليمي في مواجهة الاخطار القائمة ولكن في النهاية رفضها

٢- الألمان

- المشروع الذي اعلن عنه الألمان يسمى خط سكة حديد **برلين بغداد**
- **اذكر جهود الألمان لتعزيز علاقتهم مع الكويت**
- ١- إنشاء مشروع خط سكة حديد برلين بغداد وينتهي بالكويت
- ٢- ارسال بعثة للكويت عام ١٩٠٠ استقبلهم الشيخ مبارك بالجهداء ورفض المشروع
- الدولة الأوروبية التي سعت لجعل الكويت نهاية لخط سكة حديد برلين - بغداد عام ١٩٠٠م تسمى **ألمانيا**
- **علل رفض الشيخ مبارك للمشاريع الألمانية في الكويت** - بسبب ارتباطه باتفاقية حماية مع بريطانيا

٢-الدولة العثمانية

- دولة الخلافة التي ارادت ان تفرض سيطرتها المباشرة على الكويت تسمى **الدولة العثمانية**

- دبل حاولت الدولة العثمانية فرض سيطرتها المباشرة على الكويت

- تجعل الكويت نهاية لمشروع سكة حديد عثماني ألماني ينتهي بالكويت
- **فرق بين سياسة الدولة العثمانية تجاه الكويت قبل وبعد معاهدة ١٨٩٩**

بعد معاهدة ١٨٩٩ م	قبل معاهدة ١٨٩٩ م
<ul style="list-style-type: none"> - بدأت محاولات فرض النفوذ العثماني بالقوة على الشيخ مبارك - تهديد العثمانيين للشيخ مبارك الصباح بالنفي خارج الكويت - إرسال بعض الوحدات العسكرية العثمانية إلى الكويت - ظلت التهديدات العثمانية مستمرة طوال عهد الشيخ مبارك الصباح 	<ul style="list-style-type: none"> - مشروع عثماني ألماني لمد خط سكة حديد ينتهي في الكويت - لم يحاول العثمانيون الضغط على الشيخ مبارك خوفاً من توجهه للقوى الخارجية (بريطانيا) - محاولة الظهور بموقف حيادي تجاه الكويت

- علل معارضة الشيخ مبارك الكبير لمشروع خط سكة حديد المانيا بالتعاون مع الدولة العثمانية

١- خطر يهدد استقلال الامارة
٢- الدولة العثمانية سترسل موظفين وجباة ضرائب فتفقد الامارة استقلالها

- دليل على براعة الشيخ مبارك الصباح السياسية بعلاقته بالدولة العثمانية

١- تعامل مع الوضع العثماني بنوع من المرونة وعدم التصادم المباشر

٢- عقد اتفاقية الحماية البريطانية عام ١٨٩٩

- علل فشل التحركات العثمانية في الكويت

- وضوح موقف الشيخ مبارك بانه غير مستعد لإجراء اي تنازلات اقليمية لأي قوة اجنبية

* **دليل على دور الشيخ مبارك الصباح في التصدي للأطماع الخارجية من خلال الجدول التالي**

الروس	- رفض المشروعات الاقتصادية الروسية في الكويت - رفض توقيع اتفاقية حماية مع روسيا
الألمان	- رفض مشروع سكة حديد برلين بغداد ان ينتهي بالكويت
الدولة العثمانية	- رفض وجود موظفين عثمانيين في الكويت

* **برهن بالأدلة التاريخية على عدم تبعية دولة الكويت للدولة العثمانية**

١- علاقة اسمية قائمة على الولاء الديني بحكم انها دولة الخلافة الاسلامية

٢- فرمان مدحت باشا والي بغداد عام ١٨٧١م ٣٠٠ - رفض الشيخ مبارك للمشاريع العثمانية في الكويت

-٤- البريطانيون**-علل تزايد رغبة الشيخ مبارك الصباح في تأمين وضع الكويت**

- بسبب التطورات المتصاعدة وتغير التحالفات الإقليمية

- دليل على رغبة الشيخ مبارك في إجبار بريطانيا على توقيع اتفاقية الحماية

- بث بذور الشك وتسريب انباء عن احتمال توقيع اتفاقية مع العثمانيين او روسيا

- علل رغبة بريطانيا في توقيع اتفاقية الحماية مع الكويت

١- رغبة بريطانيا في السيطرة على طريق الخليج العربي بمفردها ٢- مزيد من التقارب مع الشيخ مبارك

- ما النتائج المترتبة على التقارب بين الشيخ مبارك الصباح والحكومة البريطانية

- توقيع اتفاقية الحماية البريطانية بتاريخ ٢٣ يناير ١٨٩٩م

اتفاقية الحماية ١٨٩٩ وأثرها على الكويت**- علل اتجاه الشيخ مبارك نحو بريطانيا لعقد اتفاقية الحماية عام ١٨٩٩**

١- التهديد العثماني المستمر للكويت ٢- خوفه من إقدام العثمانيين على ضم الكويت بالقوة

- نتائج توقيع اتفاقية الحماية البريطانية في ٢٣ يناير عام ١٨٩٩

١- تدعيم واستقرار وتطور الاوضاع في الكويت ٢- دعم قدرة الكويت على مواجهة الاخطار الداخلية والخارجية

٣- ايقاف خطر العثمانيين ونفوذ الدول الاستعمارية ٤- جعل الكويت تنمو بعيدا عن الصراعات وبشكل آمن

- اذكر سلبيات اتفاقية الحماية مع بريطانيا

١- فقدت الكويت سيادتها بإدارة شؤونها الخارجية ٢- اصبحت امارة مستقلة تحت الحماية البريطانية

- علل حرص بريطانيا على أن تبقى معاهدة الحماية مع الكويت سرية

١- عدم إثارة الدولة العثمانية ٢- عدم خلق توتر بين بريطانيا والدول الأوروبية

- علل أهمية معاهدة عام ١٨٩٩ بالنسبة للكويت

- حفظت للكويت حدودها من الأطماع الخارجية

- عقدت معاهدة الحماية بين الكويت و**بريطانيا** عام **١٨٩٩م** في عهد **مبارك الصباح**
- المقيم السياسي البريطاني الذي عقد اتفاقية الحماية مع الشيخ مبارك الصباح عام ١٨٩٩ م اسمه **مالكوم جون ميد**

- اكتب ما تعرفه عن بنود اتفاقية الحماية البريطانية عام ١٨٩٩ بين الكويت وبريطانيا

- ١- يلتزم الشيخ مبارك الصباح ووارثيه بالألا يستقبل أي وكيل لأي حكومة في الكويت دون موافقة الحكومة البريطانية
- ٢- يلتزم الشيخ مبارك الصباح ووارثيه بالألا يبيع أو يؤجر أو يرهن أي جزء من أراضيه لأي حكومة
- من الشهود في الكويت على اتفاقية الحماية مع بريطانيا **محمد ابن عبد النبي**
- * عدد الجوانب الإيجابية والسلبية لاتفاقية الحماية عام ١٨٩٩ الجوانب الإيجابية:
- ١- تدعيم واستقرار وتطور الاوضاع في الكويت ٢- دعم قدرة الكويت على مواجهة الاخطار الداخلية والخارجية

الجوانب السلبية :

- ١- فقدت الكويت سيادتها بإدارة شؤونها الخارجية
- ٢- اصبحت اماره مستقلة تحت الحماية البريطانية
- * علل : تزايد رغبة الشيخ مبارك في تأمين وضع إمارة الكويت عام ١٨٩٩م
- بسبب التطورات المتصاعدة وتغير التحالفات الإقليمية وخوفه من ضم العثمانيين الكويت بالقوة

الشيخ مبارك الصباح وقيام الدولة السعودية الثالثة ١٩٠٢ م



الشيخ مبارك الصباح والى جانبه الأمير عبد العزيز آل سعود

- اذكر دور الشيخ مبارك الصباح في إنشاء الدولة السعودية الثالثة

- تجهيز الامير عبد العزيز آل سعود بالأسلحة والمؤن حتى دخل الرياض
- الأمير السعودي الذي دخل الرياض عام ١٩٠٢ يسمى **عبد العزيز آل سعود**
- تأسست الدولة السعودية الثالثة عام **١٩٠٢** على يد الأمير **عبد العزيز آل سعود**
- غادر الإمام عبد الرحمن آل سعود الكويت عام **١٩٠٢م** في عهد **مبارك الصباح**
- استقر آل سعود في الكويت **لمدة ٩ سنوات**

- علل تأييد الشيخ مبارك الصباح ودعمه للأمير عبد العزيز آل سعود

- لتمكينه من استعادة ملك آبائه وأجداده

سياسة الشيخ مبارك الاستقلالية

- اذكر أهم ملامح سياسة الشيخ مبارك الصباح (الكبير) الاستقلالية

- ١- قام الشيخ مبارك بدعم الأمير عبد العزيز آل سعود لاسترداد ملك آبائه وأجداده
- ٢- تخفيف وامتصاص التوتر مع العثمانيين وعدم التصادم العسكري معهم
- من القائل ولمن ؟ (لقد قاومت هذا طيلة عمري وانت تطالبني بالموافقة على ذلك)

- القائل : الشيخ مبارك الصباح - لمن : المعتمد البريطاني

- المعركة التي قادها الشيخ مبارك في مارس عام **١٩٠١م** تسمى **الصريف**
- المعركة التي قادها الشيخ مبارك في مايو عام **١٩١٠م** تسمى **هدية**
- العام الذي توفي فيه الشيخ مبارك الكبير عام **١٩١٥**
- استمر الشيخ مبارك في الحكم لفترة حوالي **٢٠ عام**

* برهن على دور الشيخ مبارك الصباح في ترسيخ دعائم استقرار الإمارة

- عقد اتفاقية الحماية عام ١٨٩٩ مع بريطانيا
- مساندة ودعم عبدالعزیز آل سعود
- رغبته في عدم حدوث تصادم عسكري مع الدولة العثمانية

الحمد لله

