



● عمره ما يخذلك

ومراجعات ليالي الاختبار التواصل مع 50855008  
للتسجيل في الدورات الحضورية

# 2026 سما SAMA مذكرات قلب الأم

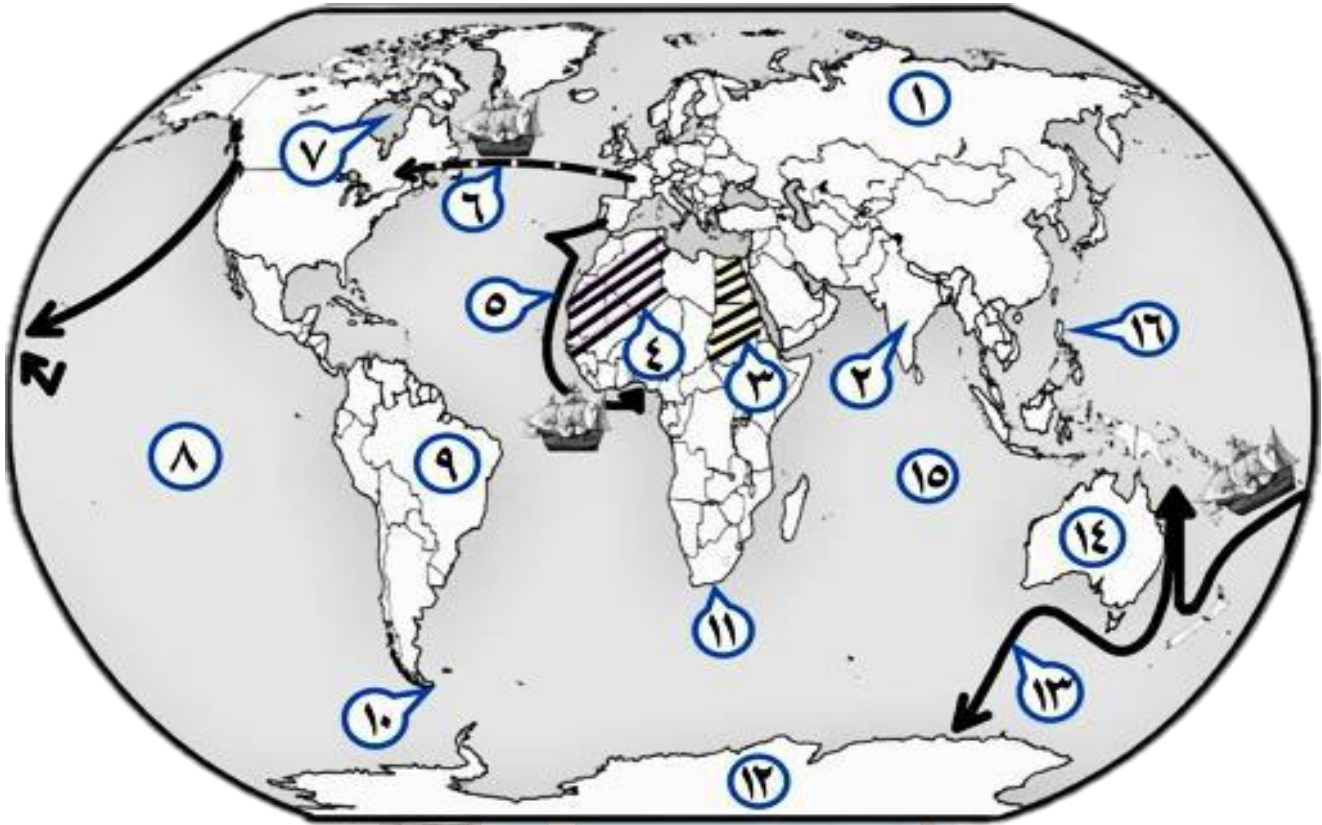
[www.samakw.net](http://www.samakw.net)



المادة تاريخ العالم الحديث والمعاصر

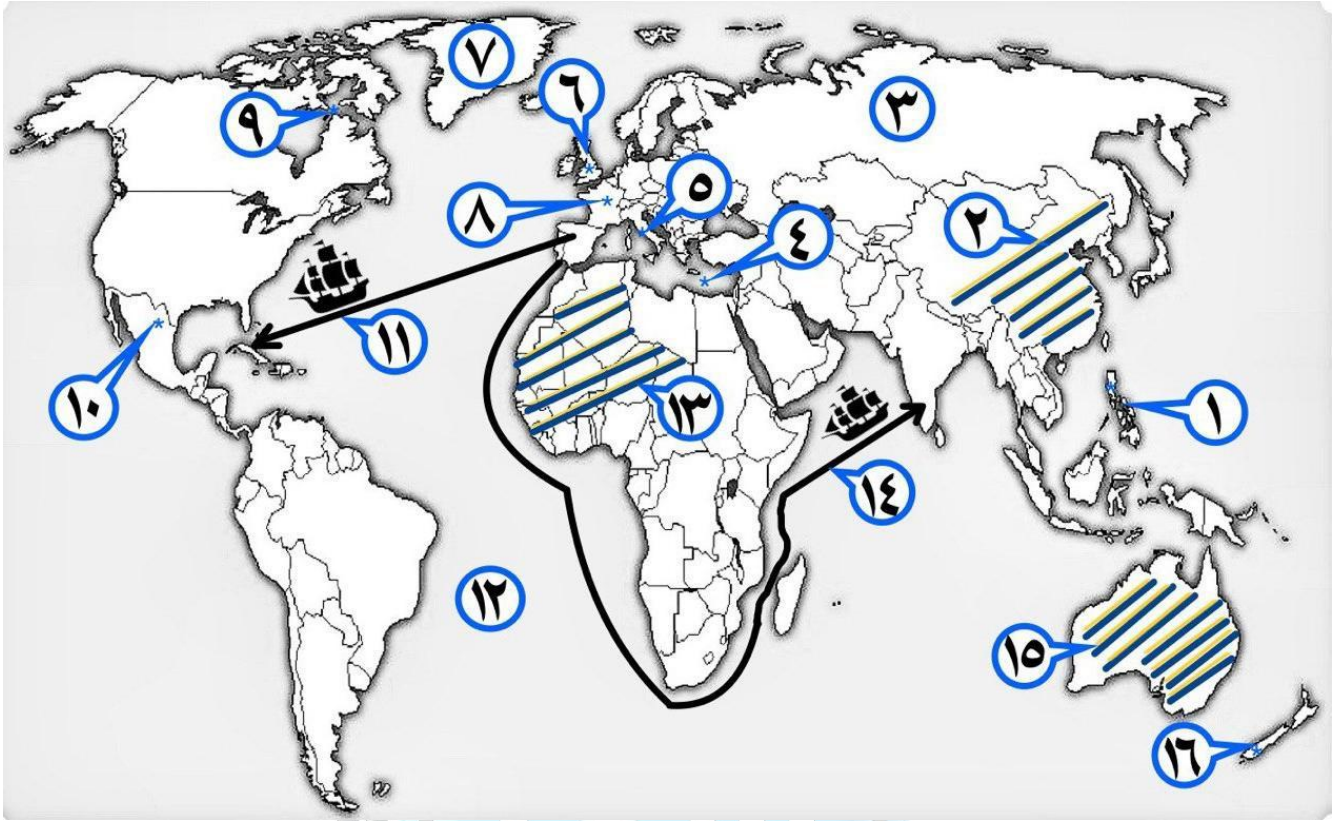
الصف الثاني عشر ادبي

## أ) - أمامك خريطة العالم السياسية - اكتب الرقم الدال على العبارات التي تليها:



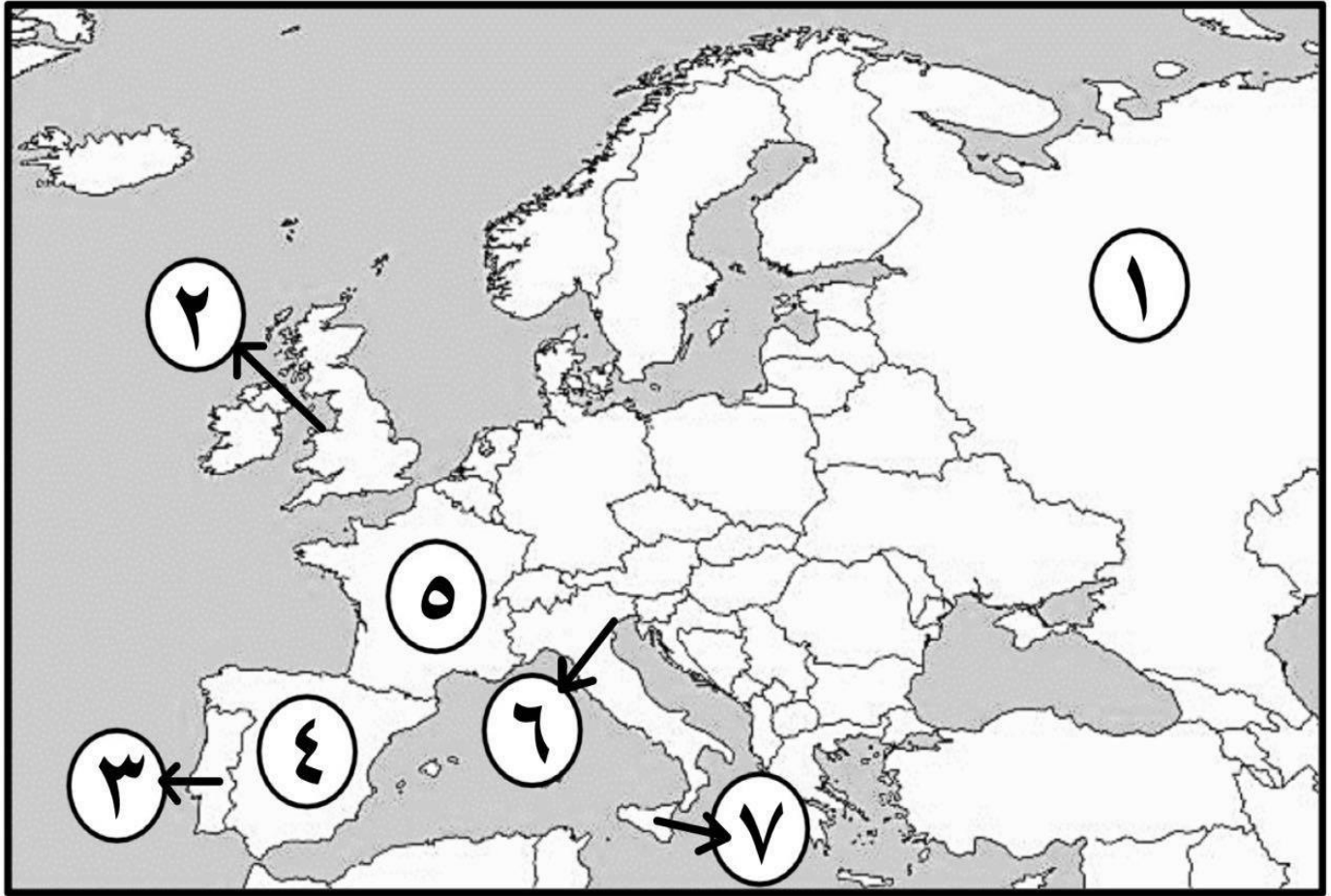
- المنطقة التي وصل إليها الرحالة الجغرافي بارثليميودياز عام 1488م يمثلها على الخريطة الرقم 11
- الجزر التي قتل فيها الرحالة الجغرافي " ماجلان " عام 1521م يمثلها على الخريطة الرقم 16
- القارة التيوصل إليها المستكشف الجغرافي " جيمس كوك " يمثلها على الخريطة الرقم 14
- الدولة الاستعمارية التي تمكنت من إخضاع سيبيريا يمثلها على الخريطة الرقم 1
- خط سيرالرحالة الجغرافي " هنري الملاح " يمثلها على الخريطة الرقم 5
- مناطق الاستعمار البريطاني يمثلها الجزء المظلل ///// الذي يحمل على الخريطة الرقم 3
- المحيط الهندي يمثلها على الخريطة الرقم 15
- المنطقة التي وصل إليها المكتشف الجغرافي "أمريكونسبونشي" يمثلها على الخريطة الرقم 9
- قارة أنتاركتيكا يمثلها على الخريطة الرقم 12
- خط سيرالرحالة الجغرافي " جيمس كوك " يمثلها على الخريطة الرقم 13
- مضيق ماجلان يمثلها على الخريطة الرقم 10
- خليج هدسون يمثلها على الخريطة الرقم 7
- الدولة التي استعمرت معظم الأراضي الواقعة شرق جبال أورال يمثلها على الخريطة الرقم 1
- المنطقة التي وصل إليها المكتشف الجغرافي "فاسكو دي جاما" يمثلها على الخريطة الرقم 2
- رأس العواصف يمثلها على الخريطة الرقم 11
- خط سير الرحالة جاك كارتيه يمثلها على الخريطة الرقم 6
- المحيط الهادي يمثلها على الخريطة الرقم 8
- مناطق الاستعمار الفرنسي يمثلها الجزء المظلل ///// الذي يحمل على الخريطة الرقم 4



**ب ( - أمامك خريطة العالم السياسية - اكتب الرقم الدال على العبارات التي تليها :**

- نيوزيلندا يمثلها على الخريطة الرقم 1
- مضيق هدرسن يمثلها على الخريطة الرقم 9
- جزر الفلبين يمثلها على الخريطة الرقم 1
- مناطق الاستعمار البريطاني. الإنجليزي يمثلها الجزء المظلل على الخريطة الذي يحمل الرقم 15
- الإمبراطورية الاستعمارية الروسية يمثلها على الخريطة الرقم 3
- المكسيك يمثلها على الخريطة الرقم 10
- القاعدة التي انطلقت منها الثورة الصناعية يمثلها على الخريطة الرقم 6
- مناطق الاستعمار الفرنسي يمثلها الجزء المظلل على الخريطة الذي يحمل الرقم 13
- جزيرة "جرينلاند" يمثلها على الخريطة الرقم 7
- خط سير رحلة المكتشف " كريستوفر كولومبس " يمثلها على الخريطة الرقم 11
- المسطح المائي الذي قلت أهميته بعد حركة الكشوف الجغرافية يمثلها على الخريطة الرقم 4
- الدولة التي يوجد فيها ميناء بريستول يمثلها على الخريطة الرقم 6
- ميناء سانت مالو يمثلها على الخريطة الرقم 8
- خط سير الرحالة الجغرافي " فاسكو دي جاما " يمثلها على الخريطة الرقم 14
- دولة استعمارية احتلت الجزائر عام 1830م يمثلها على الخريطة الرقم 8
- دولة استعمارية احتلت مصر عام 1882م يمثلها على الخريطة الرقم 6

## أمامك خريطة أوروبا الصماء - اكتب الرقم الدال على العبارات التي تليها :



- أول دولة أوروبية قامت بحركة الكشف الجغرافية يمثلها على الخريطة الرقم **3**
- جزيرة "صقلية" يمثلها على الخريطة الرقم **7**
- ميناء بريستول الذي أبحر منه الرحالة الجغرافي "جون كابوت" يمثل على الخريطة الرقم **2**
- الدولة الاستعمارية التي اشتهرت بتجارة الفراء يمثلها على الخريطة الرقم **1**
- بلاد الأندلس يمثلها على الخريطة الرقم يمثلها على الخريطة الرقم **4**
- مدينة البندقية يمثلها على الخريطة الرقم **6**
- الدولة الاستعمارية التي انتدبت سوريا ولبنان يمثلها على الخريطة الرقم **5**

ظلل الخيار الصحيح من بين الخيارات التي تلي كل عبارة:

سبب رفض الملك الأسباني " فرديناند " و"الملكة إيزابيلا" مشروع كريستوفر كولومبس :

الحرب مع المسلمين	العجز المادي
عدم القناعة بمشروعه	الحروب الأهلية

الجزيرة التي اكتشفها الرحالة " جاك كارتيةه ":

أورليانز	ماديرا	سانت كروز	هاواي
----------	--------	-----------	-------

حد رواد الحركة الفنية بعصر النهضة الأوروبية :

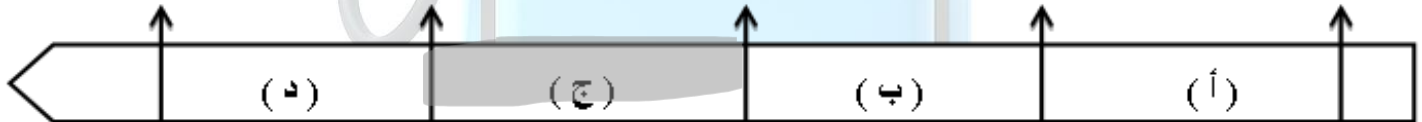
دانتلي	ليوناردو دافنشي	مارتن لوثر	أرازموس
--------	-----------------	------------	---------

العالم الذي اخترع الهاتف ( التليفون ) عام 1876م :

صموئيل موريس	جراهام بل	هنري بيسمر	جيمس وات
--------------	-----------	------------	----------

الفترة الزمنية التي حدثت فيها حرب السنين السبع يمثلها على المخطط الزمني الحرف:

1742م 1749م 1756م 1763م 1770م



الأثر المترتب على اختراع الآلة التي تمثلها الصورة المقابلة :



غزل ثمانية خيوط	إنتاج آلات من الصلب
بث الإشارات والأصوات	استخدام قوة الماء لعملية الغزل

**العامل الاستراتيجي لقيام النظام الاستعماري الأوروبي :**

توفير خدمات للسفن التجارية	تصريف المنتجات الصناعية
استثمار أموالهم في المستعمرات	تجنيد سكان المستعمرات

**رواد الحركة الفنية في عصر النهضة الأوروبية :**

أرازموس - بوكاشيو	رفائيل - مايكل انجلو
ليوناردو دافنشي - بترارك	فيليو برونيلسكي - دانتي

**اختر الإجابة الصحيحة من بين البدائل التي تلي كل عبارة:**

1- المنطقة التي تمكن المكتشف "روبرت بيري" من الوصول إليها عام 1909م :

د- القطب الشمالي

ج- بحيرة سليف الكبرى

أ- خليج هدسن ب- جزيرة أورليانز



2- من أهم أعمال صاحب الصورة التي أمامك :

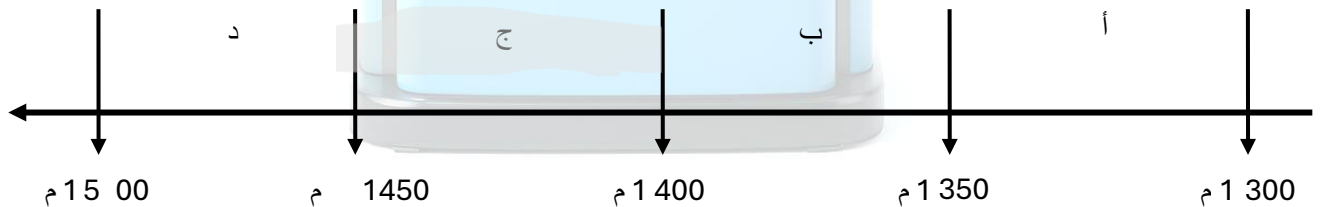
ب - عارض فكرة صكوك الغفران

أ - رسم لوحة الموناليزا

د - اختراع أحرف الطباعة المعدنية

ج - ألف رواية الحياة الجديدة

٣- الفترة الزمنية للفتح العثماني لمدينة القسطنطينية يمثلها على المخطط الزمني الحرف :





٤- الملاح الذي قام بالرحلة المشار إليها بالخريطة المقابلة :

أ - بارثميودياز      ب - روبرت مأكور      ج - جون فرانكلين      د - فاسكو

دي جاما



٥- المستعمرة البرتغالية الوحيدة في أمريكا الجنوبية:

د - هندوراس

ج - البرازيل

ب - جواتيمالا

أ - المكسيك

6- الدولة الاستعمارية التي احتلت مصر عام 1882م يمثلها على الخريطة التي أمامك:

د - 4

ج - 3

ب - 2

أ - 1



**صوب ما تحته خط في العبارات التالية:**

م	العبرة	التصويب
1	القارة التي أثبت المستكشف تشارلز ويلكز انها كتلة ضخمة مغطاة بالثلج هي <u>أمريكا الشمالية</u> .	أنتاركتيكا - القطب المتجمد الجنوبي
2	قتل الرحالة " ماجلان " عام 1521م في جزر <u>ماديرا</u> .	الفلبين
3	نتج عن رحلة فاسكو دي جاما وصول البرتغال إلى <u>استراليا</u> .	الهند
4	الرحالة " جون كابوت " ينتمي إلى رحلات <u>الكشوف الإسبانية</u> .	الإنجليزية
5	أسهم " الإخوان رايت " في أحداث الثورة الصناعية في مجال <u>التعدين</u> .	الطيران
6	استغلال دولة قوية لدولة أخرى ضعيفة بهدف السيطرة على مواردها الاقتصادية تسمى <u>الإمبريالية</u> .	الاستعمار الأوروبي
7	اخترع "ديملر وينز" عام 1885م <u>القاطرة البخارية</u> .	سيارة البنزين
8	سقوط عاصمة الإمبراطورية الرومانية " روما " على يد القبائل الجرمانية عام <u>367م</u> .	476 م
9	الميناء الذي ابحر منه المكتشف الجغرافي جون كابوت اسمه <u>سانت مالو</u> .	بريستول
10	العالم الذي اخترع محرك الاحتراق الداخلي عام 1892م اسمه <u>روبرت فولتن</u> .	رودلف ديزل
11	المحور الأساسي للدخل القومي لمعظم دول أوروبا قبل الثورة الصناعية يسمى <u>التجارة</u> .	الزراعة
12	الدولة الأوروبية التي انطلقت منها حركة النهضة الأوروبية ونقلت أوروبا من الظلمات إلى العصور الحديثة <u>إسبانيا</u> .	إيطاليا



**أكمل العبارات التالية بما يناسبها فيما درست:**

١. الدولة الأولى التي قامت بحركة الكشف الجغرافية في نهاية القرن 15م اسمها البرتغال
٢. حاجة الأوروبيين إلى المزيد من الذهب والفضة تسمى مراجعة نقدية
٣. الأسطول الاسباني الذي تحطم على يد الإنجليز عام 1588م اسمه الأرمادا
٤. المستكشف الإنجليزي الذي وصل إلى خط عرض ٧٢ شمالاً اسمه جون ديفيدز
٥. النظام الاستعماري الذي أجبر المستعمرات على أن لا تتاجر مع أي دولة إلا البلد المستعمر يسمى الميثاق الاستعماري
٦. المنطقة التي تمكن الرحالة "روبرت بيري" من الوصول إليها عام 1909م اسمها القطب الشمالي
٧. أطلق المستكشف "كولومبس" على جزر الأنيل الصغرى والكبرى بعد اكتشافهم عام 1492م اسم سان سلفادور
٨. الاختراع الذي توصل إليه العالم "توماس أديسون" عام 1877م اسمه المصباح الكهربائي
٩. الطبقة التي سيطرت على مقاليد السلطة السياسية في أوروبا بعد الثورة الصناعية اسمها الرأسمالية
١٠. الرحالة الذي تمكن من اكتشاف مضيق هُسن اسمه مارتن فروبشير
١١. الملك الذي أطلق اسم رأس الرجاء الصالح على رأس العواصف اسمه جون الثاني
١٢. مؤلف كتاب الأمير عام 1513م اسمه نيقولا ماكيافيلي

**علل:**

### 1- قيام حركة الإصلاح الديني .

- جهود الحركة الإنسانية في التنبيه لأهمية إصلاح الكنيسة .
- الرغبة في تحرير حركة التقدم العلمي من قيود الكنيسة
- اهتمام أوروبا بجوانب الحياة الدنيوية .
- ظهور كثير من المصلحين الذين نادوا بتخليص الكنيسة من مفاسدها .

### 2- لم تعمّر الإمبراطورية الاستعمارية الهولندية طويلا .

- الهولنديون أمة صغيرة غير قادرة على حماية الإمبراطورية التي تم تأسيسها بشكل كبير تجاوز حدود إمكاناتهم .
- كان اعتمادهم الأول على التجارة مما أدى لإهمال قطاعي الـ زراعة والصناعة.
- سياساتهم الاستبدادية في المستعمرات .
- منافسة الدول الأوروبية الجديدة لها مثل إنجلترا وفرنسا .

### 3- البرتغاليون أول من بدأ حركة الكشف الجغرافية.

- توفر الأدوات اللازمة من علم وخبرة وسفن متطورة .
- استقرار الوضع في بلادهم لذلك وجهوا اهتمامهم لاكتشاف طريق جديد خارج نطاق البحر المتوسط .

#### 4- انهيار الإمبراطورية الاستعمارية البرتغالية في الشرق .

- سوء إدارة المستعمرات وانتشار الرشوة .
- قسوة البرتغاليين في معاملة السكان الأصليين واجبارهم على اعتناق المسيحية.
- السلطة كانت في يد نائب الملك في جوا وهو المسؤول أمام الملك دون رقابة ولقصر مدة حكمه كان يقوم بابتزاز الأموال وعدم الاعتناء بالمستعمرة .
- منافسة الهولنديين و الإنجليز للبرتغاليين في مجال الاستعمار.
- فقدت البرتغال استقلالها كدولة للتاج الإسباني في عهد الملك فيليب الثاني عام 1580م ولعدة 60 عاما .

#### 5- انطلاق شرارة الثورة الصناعية من إنجلترا

- الاستقرار الداخلي : أدى نجاح الثورة المجيدة التي قامت في إنجلترا عام 1689م إلى وجود الدستور الإنجليزي ونظام الحكم البرلماني الذي اعتبر نموذجا تسعى إليه الدول الأوروبية مما جعل بريطانيا تشهد استقرارا سياسيا مهد لنجاح الازدهار الاقتصادي .
- وفرة رأس المال : كان للكشوف الجغرافية دور بارز في جعل إنجلترا مركزا ماليا كبيرا حيث أصبحت المصارف الإنجليزية في لندن تتحكم في تجارة العالم وبالتالي أصبحت تملك ثروات مالية كبيرة مما سهل لها تمويل عمليات الصناعات بأشكالها المختلفة .
- سهولة الحصول على المواد الخام : أدى اتساع المستعمرات إلى سهولة حصول إنجلترا على المواد الخام اللازمة للصناعة.
- وجود القوى المحركة : توفرت لإنجلترا مصادر القوى المحركة التي تمثلت في المساقط المائية والفحم .
- الأيدي العاملة الرخيصة : ساهمت في تشغيل المصانع بتكلفة بسيطة مما ساعد على استخدام رأس المال في تغطية النفقات الأخرى للصناعة .
- تشجيع العلماء والمخترعين : حرصت الحكومة الإنجليزية وأصحاب رؤوس الأموال على دعم جهود العلماء والمخترعين وتوفير الإمكانيات اللازمة لهم لإتمام اختراعاتهم وابتكاراتهم .
- وجود اسطول تجاري كبير : سهل لإنجلترا عملية نقل المواد الخام إلى مصانعها وإعادة تصديرها في شكل صناعات إلى أسواق العالم .

## 6- أطلق على أدباء النهضة الأوروبية اسم الإنسانيين .

- لأنهم عبروا في كتاباتهم الأدبية عن صورة الإنسان الذي يتصف بالإبداع والثقة في النفس والحب للحياة بجوانبه المشرقة

## 7- رفض الملك الأسباني " فرديناند " و"الملكة إيزابيلا" مشروع كريستوفر كولومبس.

- بحجة انشغالهم بالحرب مع المسلمين في الأندلس

### قارن بين كل من :

نظرية كوبرنيكوس	نظرية بطليموس	وجه المقارنة في علم الفلك
أن الشمس محور الكون وأن الكواكب الأخرى بما فيها الأرض تسير في مدارات حول الشمس	بنى نظريته على أن الأرض محور الكون وأن الشمس والقمر والكواكب الأخرى تدور حول الأرض .	

العالم مايكل فاراداي	العالم هنري بسممر	وجه المقارنة
الدينامو	تخضير الفولاذ من الحديد	أسم المخترع
استخدام الطاقة الميكانيكية لتوليد طاقة كهربائية	إنتاج آلات من الصلب .	الاختراع
		أثر الاختراع



**فرق بين كل مما يلي :**

الكشوف الجغرافية للرحالة ألكسندر ماكينزي	الكشوف الجغرافية للرحالة مارتن فروبشير
- اكتشف نهر "ماكينزي" - ونهر "بيس" - بحيرة سيلف الكبرى .	- وصل إلى "جزيرة شتلند" - "جزيرة جرينلند" - تمكن من اكتشاف "مضيق هُديسن" .
العامل الاستراتيجي لقيام النظام الاستعماري الأوروبي	العامل السكاني لقيام النظام الاستعماري الأوروبي
- استغلال المواقع الاستراتيجية لإقامة المحطات التجارية والقواعد العسكرية - حماية خطوط المواصلات البحرية . - توفير خدمات للسفن التجارية .	- الثورة الصناعية ساعدت على الزيادة السكانية لدول أوروبا. - تحسين الخدمات الطبية ساعد على ال زيادة السكانية الطبيعية في أوروبا. - زيادة عدد السكان في أوروبا أدى إلى اتباع سياسة التهجير لأعداد كثيرة من سكان أوروبا إلى الأقاليم المستعمرة. - العمل على تهنيذ سكان المستعمرات لصالح القوة العسكرية للدول الاستعمارية.
المعاهدات والاتفاقيات الخاصة	الغزو العسكري
عقد معاهدة حماية بين دولة أوروبية (المستعمرة) والدولة الضعيفة تحت ستار من الحجج والأسباب.	الاحتلال بالقوة العسكرية .

		<p><b>وجه المقارنة</b></p>
<p><b>كريستوفر كولومبس</b></p>	<p><b>الأمير هنري الملاح</b></p>	<p><b>أسم الرحالة</b></p>
<p>جزر الأنثيل الكبرى والصغرى وأطلق عليها اسم "سان سلفادور" - وصل إلى كوبا- جزيرة هايتي - جزر الدومينكا - جزر سانت كروز - جزر بورتوريكو - أبحر إلى الساحل الجنوبي لكوبا " - الساحل الشمالي "لجاميكا"- جزيرة ترينداد - ساحل فينزويلا - وصل إلى ساحل أمريكا الوسطى .</p>	<p>الرأس الأخضر - توقف إلى ساحل غانا اكتشاف جزر ماديرا - جزر أزور رأس بوجادور - ساحل جامبيا والسنغال</p>	<p><b>المناطق المكتشفة</b></p>

**فرق بين إنجازات كل من :**

<p><b>ديلمر وبنز</b></p>	<p><b>روبرت فولتن</b></p>
<p>سيارة البنزين .</p>	<p>السفن البخارية .</p>
<p><b>صمويل موريس</b></p>	<p><b>أليساندر فولتا</b></p>
<p>التلغراف الكهربائي .</p>	<p>البطارية الكهربائية .</p>

وجه المقارنة	الاستيطان	التمييز العنصري
التعريف	هجرة مجموعة من سكان دولة أجنبية قوية إلى دولة ضعيفة وتملك الأرض ، بطرد السكان المحليين، وتكون الهجرة على شكل إرساليات تنصيرية ، تجارسيح .	أسلوب استعماري قائم على التفرقة بين الناس بسبب اللون أو الجنس أو الدين حيث مورست فيه ألوان من القهر والاستعباد .
المثال	- هجرة الأوروبيين طرد الهنود الحمر. / - هجرة الأوروبيين لأستراليا وطرده السكان الأصليين. / - الغزو الصهيوني في فلسطين .	- جنوب أفريقيا . - فلسطين وممارسات الصهاينة .
وجه المقارنة	الانتداب	الوصاية
التعريف	ظهر إثر انتهاء الحرب العالمية الأولى عام 1919م حيث انتدبت الدول المنتصرة لإدارة شؤون الأقطار التي تحكمها الدولة العثمانية أو ألمانيا لهزيمتهما بالحرب بحجة الأخذ بيدها نحو التطور والاستقلال .	ظهر في أعقاب الحرب العالمية الثانية عام 1945م حيث فقدت وضعت المناطق التي كانت تحت النفوذ الألماني والإيطالي والياباني تحت وصاية دولة من اختيار الأمم المتحدة.
المثال	- سوريا ولبنان تحت الانتداب الفرنسي . - فلسطين والأردن تحت الانتداب البريطاني .	- الصومال تحت الوصاية الإيطالية . - إقليم ناميبيا تحت وصاية اتحاد جنوب أفريقيا

## عَرَفَ المفاهيم والمصطلحات التالية:

النمضة الأوروبية	حركة التي انطلقت من إيطاليا ثم انتقلت إلى كافة أنحاء أوروبا بهدف إعادة اكتشاف الذات و إعادة إحياء الأمجاد اليونانية والرومانية القديمة في كافة مجالات العلوم والآداب والفنون .
كومونات	تحالف المدن الصغيرة مما يمنحها الاستقلال والقوة السياسية .
الإنسانيين	أدباء عبروا في كتاباتهم الأدبية عن صور الإنسان الذي يتصف بالإبداع والثقة في النفس والمحبة للحياة بجوانبها المشرقة.
الكشوف الجغرافية	الحركة التي قام بها الأوروبيون تعرفوا بها على أراضٍ جديدة لم تكن معروفة لهم من قبل خلال القرنين الخامس عشر والسادس عشر الميلاديين .
مراجعة نقدية	حاجة الأوروبيين إلى المزيد من الذهب والفضة .
التفويض الإلهي	نظرية كانت سائدة في أوروبا بالعصور الوسطى وتعني إيمانًا بالملك يمثلون الله على الأرض .
الكرافيل	سفن عملاقة تميزت بكبر حمولتها واستعمالها لعدد أكبر من الأشرعة وازدياد القدرة على المغامرة وسط المحيطات .
الاستعمار	سيطرة دولة ما بالاتفاقيات السياسية أو القوة العسكرية أو القوة الاقتصادية أو المال أو التفوق التكنولوجي والعلمي على دولة أو عدة دول وتستغل مواردها وثرواتها لصالحها .
الاستعمار الأوروبي	استغلال دولة قوية لدولة أخرى ضعيفة بهدف السيطرة على مواردها الاقتصادية أو الانتفاع من موقعها الاستراتيجي أو من قوة الأيدي العاملة .
الميثاق الاستعماري	نظام وضعته الدول الاستعمارية على المستعمرات فالمستعمرة يجب عليها ألا تتاجر مع أي دولة إلا البلد المستعمر حيث تدخر له المحاصيل وأن لا تنشئ صناعات منافسة لها وأن تؤمن للمستعمر ما هو ضروري للصناعة كما يفرض النظام على المستعمرات البيع بسعر رخيص .
الثورة	تغير كبير وسريع في المجتمع كله أو في جانب معين منه .
الثورة الصناعية	عملية تغيير شامل في أدوات الإنتاج ووسائله وحجمه وعلاقاته ومستواه وتبدل كامل في أساليب التمويل والتسويق والتوزيع.



## فند العبارات التالية :

### 1 لم يكن للكشوف الجغرافية دوافع اقتصادية.

- البحث عن التوابل .
- محاولة تغطي الوساطة التجارية الإسلامية وسيطرتها على طرق التجارة في الوصول إلى منابع التجارة الآسيوية والأفريقية.
- حاجة الأوروبيون إلى المزيد من الذهب والفضة ( مجاعة نقدية ) إلى خروج الأوروبيين للبحث مباشرة عن مناجم الذهب والفضة نتيجة الحروب التي عانت منها أوروبا في آخر القرن الخامس عشر وترتب عليها حدوث أزمة اقتصادية في أوروبا .

### 2- لم يكن للثورة الصناعية أي اختراع في مجال الكهرباء.

اختراع المصباح الكهربائي . اختراع الدينامو اختراع البطارية الكهربائية .

### 3- اكتفى الإنجليز بإرسال رحلتين للكشوف الجغرافية وهما رحلة هنري هدسون ورحلة جيمس كوك.

لم يكتف الإنجليز برحلتين بل أرسلوا عدة رحلات وهي:

- الرحلة الأولى : رحلة جون كابوت التي انطلقت من ميناء بريستول وعبر المحيط الأطلسي حتى وصل إلى ساحل أمريكا الشمالية واكتشف جزيرة " نيوفاوند لاند " و" شبه جزيرة " لبرا دور" وصل أيضاً إلى الشاطئ الشرقي لأمريكا الشمالية حتى " فلوريدا " .
- الرحلة الثانية : مارتن فروبوشير وصل إلى جزيرة "شتلند" ومنها إلى جزيرة "جرينلند" وتمكن من اكتشاف "مضيق هودسن" .

- الرحلة الثالثة : جون ديفيز اتجه إلى جرينلند ووصل إلى "مضيق جليبرت" وأبحر شمال غرب إلى "مضيق ديفز" ثم اتجه شمال "مضيق كمبرلاند" ووصل إلى خط عرض 72 شمالاً .

### 4- للاستعمار الأوروبي آثار إيجابية فقط على الدول المستعمرة.

- قامت الدول الاستعمارية باستغلال مستعمراتها واستفادة منها اقتصادياً .
- ألزام المستعمرات بإنتاج المواد الخام وشراء معظم السلع المصنعة من الدول الحاكمة . - فقدت الشعوب المستعمرة القدرة على التحكم في مقدراتها الاقتصادية .
- فرض الاستعمار ثقافتهم على الشعوب المستعمرة .

#### 4- اقتصرت مواهب ليوناردو دافنشي في مجال الرسم .

– العمارة – الأدب الرياضيات الهندسة العمارة النحت الشعر علم التشريح .

### دلل على صحة العبارات التالية:

#### 1- ساهم المفكرون الأوروبيون في احياء الدراسات اليونانية القديمة .

- تبادل علماء القسطنطينية وإيطاليا الزيارات العلمية بحثاً عن العلوم والفنون الإفريقية والإيطالية .
- تنافس الأمراء والأثرياء في إنشاء المكتبات مما أدى إلى ازدهار مكتبات البندقية وفلورنسا إلى جانب مكتبة الفاتيكان .
- ظهور الأكاديميات العلمية في إيطاليا مما ساعد على إثراء الحركة العلمية .
- جهود أسرة آل مديتشي في فلورنسا وأسرة سوفرزا في ميلانو لرعاية الحركة العلمية والأدبية والفنية
- اختراع أحرف الطباعة المعدنية على يد الألماني "جناجوتنبرج"

#### 2- للاستعمار الأوروبي آثار إيجابية على المستعمرات

- ادخلوا إليها طرق الزراعة والصناعة والعلوم الطبية الغربية
- حقق المستعمرون شيئاً من التنمية الاقتصادية للمستعمرات .
- أدخلت النظام الديمقراطي بالحكم في هذه المستعمرات .
- ربط المستعمرات بالنظام الاقتصادي الدولي .

#### 3- لعب الأمير هنري الملاح دوراً كبيراً في قيام حركة الكشوف الجغرافية قبل رحلته الكشفية.

- أنشأ مدرسة بحرية التي اهتمت بتطوير الأدوات التي استخدمت في عملية الكشوف الجغرافية- أنشأ مرصداً بحرياً في الطرف الجنوبي لشاطئ البرتغال . كالاتمام برسم الخرائط .
- جلب علماء الرياضيات ورسمي الخرائط و الفلكيين من إيطاليا وصقلية . –
- استعان بالمسلمين الذين كان لهم دراية في المجال البحري

#### 4- حققت نتائج رحلة فاسكو دي جاما بتحقيق آمال البرتغاليين .

١. حقق أمل البرتغال في كشف طريق مباشر في الوصول إلى الهند خارج ديار المسلمين وكانت أكبر ضربة اقتصادية وجهت للعالم الإسلامي .

٢. أصبحت البرتغال في مركز متقدم في منطقة المحيط الهندي التجاري .

## 5- للكشوف الجغرافية دور في تكوين دول وإمبراطوريات كبرى استعمارية وتأسيس مراكز تجارية ساحلية .

- أسبانيا : احتلت أمريكا الوسطى وأجزاء مهمة من أمريكا الجنوبية وجزر الفلبين .
- البرتغال : احتلت البرازيل ومراكز تجارية على السواحل الأفريقية وسواحل الهند والخليج العربي .

## 6-عانت شعوب أوروبا من الركود والتخلف خلال فترة العصور الوسطى .

- هيمنة الكنيسة الكاثوليكية على الناهيتين الروحية والثقافية.
- ظهور النظام الإقطاعي الذي تسبب في تقسيم المجتمع الأوروبي إلى مجتمع طبقي كان على قمته رجال الكنيسة والإقطاعيين والنبلاء والفرسان وفي أسفله كانت طبقة عبيد الأرض التي حرمت من أي حقوق على الرغم من تحملها الكثير من الأعباء والواجبات .
- الصراع الدائم بين البابوية والإمبراطورية خلال تلك الفترة .
- عاش الناس في جهل وتخلف وحرمو من حرية التفكير والبحث العلمي .

## 7- ساعدت أوضاع دول الشرق البرتغاليين في تأسيس إمبراطوريتهم واحتكار التجارة .

- انشغال الدولة العثمانية بحربها مع الصفويين .
- عدم توحيد القوى الإسلامية الكبرى ( الدولة العثمانية - الصفوية - المملوكية ) .
- تفكك بلاد الهند .
- استخدم البرتغاليون قوة السلاح والبارود والأساطيل حيث لم تكن متوفرة لدى شعوب الشرق .

## 8- تركت الكشوف الجغرافية نتائج عظيمة على الاقتصاد العالمي .

- تحول طرق التجارة العالمية بين أوروبا وآسيا فقد ضعفت مكانة البحر المتوسط تجاريا.
- تدفقت الثروات من البضائع ومن المعادن الثمينة (الذهب والفضة) على أوروبا مما أدى إلى ارتفاع كبير في أسعار المواد الغذائية فتضررت الفئات العامة والفلاحون بشكل كبير طيلة القرن السادس عشر الميلادي بفعل عدم التوازن ما بين العرض والطلب، واغتنى كبار التجار وازدادت أهمية البنوك ونمت طبقة البرجوازية التجارية.
- نتيجة لتوفير البضائع والمال وازدياد النشاط التجاري الاقتصادي، قامت صناعات جديدة، مما أدى إلى زيادة رؤوس الأموال، ومن هنا ظهرت الحاجة إلى الحصول على مستعمرات لتصريف صناعات الدولة، والحصول على المعادن والمواد الأولية اللازمة للصناعة.
- ظهور البورصات المالية على نطاق عالمي وازدياد نشاط دور المصارف .

## عدد:

### 1- مراحل نمو المدن الأوروبية .

١. تحالف المدن الصغيرة في شكل كومونات Commune مما منحها الاستغلال والقوة السياسية .
٢. ظهور الطبقة ( البرجوازية ) الوسطى التي تحالفت مع الملوك لتحطيم النظام الإقطاعي مما أحدث
٣. تغييراً كبيراً في ملامح المدن الأوروبية سياسياً واقتصادياً واجتماعياً .
٤. قيام ثورة ثقافية من خلال إنشاء المدارس في المدن بعيداً عن سيطرة الأديرة .

### 2- العوامل الاقتصادية لقيام النظام الاستعماري الأوروبي .

- رغبة الدول الأوروبية الاستعمارية في الحصول على المواد الأولية والأيدي العاملة الرخيصة لتشغيل المصانع بعد قيام الثورة الصناعية .
- تصريف المنتجات الصناعية الأوروبية في أسواق المستعمرات .
- العمل على استثمار أموالهم في المستعمرات .

### 4- مظاهر الحركة الفنية في عصر النهضة الأوروبية .

- تفجير الطاقات الفنية لدى الفنانين مما جعل الفن من أبرز معالم الحياة في أوروبا .
- حرص الفنانين على محاكاة الفنون القديمة في الروح والتعبير مع كل تجديد والابتكار والإبداع .
- أصبح الإنسان المحور الرئيسي الذي تدور حوله الأعمال الفنية لتعبر عن قدراته وتقدمه في صورة جميلة مشرقة محبا للحياة قادرا على العطاء والإنتاج في شتى مجالات الحياة .
- وجد الفنانون التشجيع والدعم الفني والمعنوي فأنجوا أعظم أعمالهم الفنية .
- حولت المدن الأوروبية إلى متاحف فنية زاخرة بشتى أنواع الإنتاج الفني في مجالات العمارة والنحت والتصوير .

### 5- الأسباب الدينية لقيام حركة الكشوف الجغرافية .

- رغبة الدول الأوروبية بنشر المسيحية في المناطق المكتشفة .
- محاولة تطويق العالم الإسلامي .
- تقوية الممالك المسيحية .



**6- سمات الاقتصاد الأوروبي قبل قيام الثورة الصناعية .**

- كانت الزراعة هي المحور الأساسي للدخل القومي لمعظم دول أوروبا.
- الحركة التجارية مفككة ومحدودة حيث تفتقر الشرايين التي تربطها وسائل المواصلات .

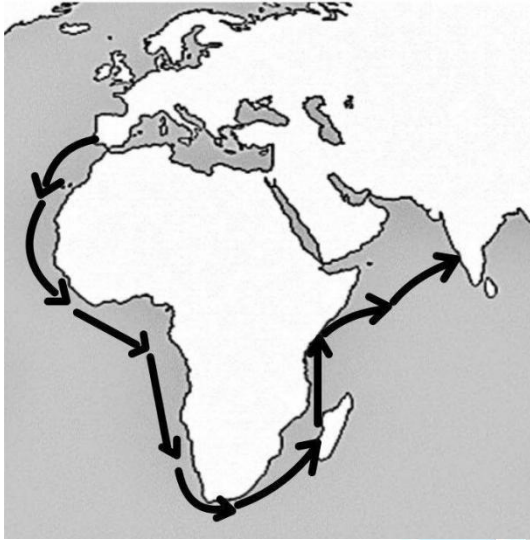
**أكتب دور كل من الشخصيات التاريخية التالية مما درست**

<b>حنا جوتنبرج</b>	قام في اكتشاف أحرف الطباعة المعدنية .
<b>مارتن لوثر</b>	قام في حركة الإصلاح الديني حيث علق على باب كنيسة ويتنبرج في ألمانيا 95 حجة ضد أوضاع الكنيسة ومن أبرزه (معارضة فكرة صكوك الغفران / رفض احتكار البابا تفسير الكتاب المقدس ، طلب إنقاص عدد الأديرة عارض الحج إلى روما / المطالبة بالسماح بزواج الرجال الدين )
<b>نيقولا مكيافلي</b>	كتب كتابه المشهور باسم الأمير وشرح فيه أصول الحكم وفن السياسة. اشتهر بأرائه السياسية وهي : - تأييد نظام الحكم المطلق القائم على -إقرار مبدأ الغاية تبرر الوسيلة نظرية التفويض الإلهي
<b>الملكة ايزابيلا</b>	وافقت على تمويل مشروع كريستوفر كولومبوس بالذهاب إلى الهند عن طريق الغرب.
<b>الإخوان رايت</b>	قاموا في تطوير عالم الطيران عن طريق اكتشاف طائرة ذات محرك بنزيني .

## لاحظ الخريطة المقابلة ثم أجب عن الأسئلة التالية :

1- أرسم خط سير رحلة " فاسكو دي جاما " على الخريطة

المقابلة باستخدام الرمز



2- دلل على أهمية رحلة " فاسكو دي جاما " للبرتغال .

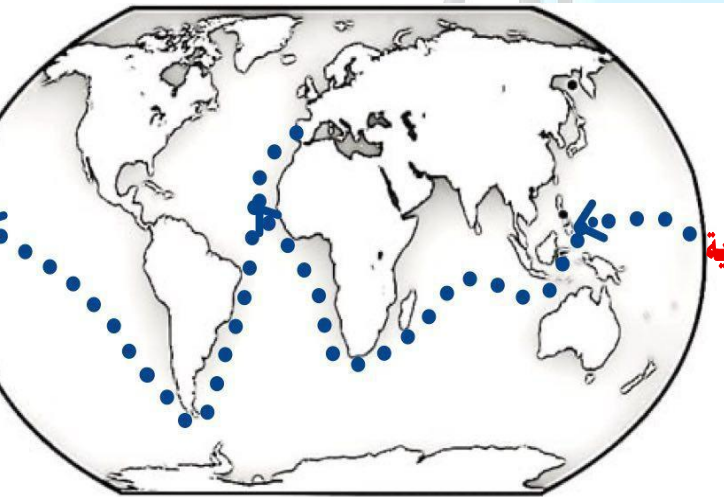
١ . حقق أمل البرتغال في كشف طريق مباشر في الوصول إلى الهند خارج ديار المسلمين وكانت أكبر ضربة اقتصادية وجهت للعالم الإسلامي .

٢ . أصبحت البرتغال في مركز متقدم في منطقة المحيط الهندي التجاري

ب) لاحظ الخريطة المقابلة ثم أجب عن الأسئلة التالية :

1- أرسم خط سير رحلة الكشوف الجغرافية الأسبانية الثالثة

باستخدام الرمز



2- دلل على دور الكشوف الجغرافية في نشأت الإمبراطورية الاستعمارية

الأسبانية .

احتلت أسبانيا كل من :- أمريكا الوسطى

- أجزاء مهمة من أمريكا الجنوبية - جزر الفلبين

## لاحظ الصور المقابلة



### 1- ما اسم صاحب الصورة التي أمامك ؟

- نيقولا ماكيافلي

### 2- عدد آرائه السياسية .

- تأييد نظام الحكم المطلق القائم على نظرية "التفويض الإلهي" التي تقول إن الملوك يمثلون الله على الأرض، وأنهم يستمدون سلطتهم منه وليس من الشعوب التي يجب عليها الخضوع التام للملوك.

- إقرار مبدأ الغاية تبرر الوسيلة

من حق الحاكم اتخاذ كل وسيلة تحقق استقرار حكمه مما كانت متعارضة مع الدين أو الأخلاق وأن يعتمد على الحرمان ليكون مرهوباً وأن يقيم المشروعات المفيدة للشعب ليكون محبوباً.

### 1 - ما اسم الحركة التي يدعو لها صاحب الصورة التي أمامك ؟

- حركة الإصلاح الديني .

### 2- عدد أسباب قيام الحركة التي يدعو لها صاحب الصورة ؟

- جهود الحركة الإنسانية في التنبيه لأهمية إصلاح الكنيسة .

- الرغبة في تحرير حركة التقدم العلمي من قيود الكنيسة.

- اهتمام أوروبا بجوانب الحياة الدنيوية .

- ظهور كثير من المصلحين الذين نادوا بتخليص الكنيسة من مفاسدها .





## 1- ما اسم صاحب الصورة التي أمامك ؟

- هنا جوتنبرج .

## 2- اكتب دورة في قيام النهضة الأوروبية .

- اخترع أحرف الطباعة المعدنية مما أدى إلى سهولة طباعة الكتب وتداولها ومساهمته في

نشر جهود العلماء في مختلف المجالات.



## 1- ما اسم المستكشف الجغرافي الذي تمثله الصورة التي أمامك ؟

- فاسكو دي جاما

## 2- عدد النتائج المترتبة على رحلته الكشفية .

- حقق أمل البرتغال في كشف طريق مباشر في الوصول إلى الهند

خارج ديار المسلمين وكانت أكبر ضربة اقتصادية وجهت للعالم

الإسلامي .

- أصبحت البرتغال في مركز متقدم في منطقة المحيط الهندي التجاري



## 1- ما اسم الفنان الذي رسمهم الصورة التي أمامك ؟

- ليوناردو دافنشي

## 2- عدد الأعمال الأخرى التي قام فيها الفنان الذي رسم الصورة

المقابلة.


- رسم لوحة العشاء الأخير كما أطلق عليه عبقرى النهضة وبرع في

العمارة - الأدب الرياضيات الهندسة العمارة- النحت والموسيقى

والشعر وعلم التشريح.







1- ما اسم الاختراع الذي تمثله الصورة التي أمامك ؟

- آلة يدوية للغزل .

2- أكتب الأثر المترتب على الاختراع .

- غزل ثمانية خيوط .

## ما أوجه الاختلاف بين:

١ - رحلة المكتشف الجغرافيا فاسكو دي جاما ورحلة المكتشف كريستوفر كولومبوس .

- عمل فاسكو دي جاما في خلال رحلاته الجغرافية لصالح دولة البرتغال أما كريستوفر كولومبوس أبحره في كشوفه الجغرافية لصالح دولة أسبانيا.

- اتجه فاسكو دي جاما من جهة الشرق وذلك بالاتفاف حول قارة أفريقيا للوصول إلى الهند أما كريستوفر كولومبوس اتجه من جهة الغرب وذلك للوصول إلى الهند رغم أنه وصل و إلى جزر وسواحل أمريكا الوسطى .

2- اكتشافات الرحالة الجغرافي أموندسون في القطب الشمالي والقطب الجنوبي .

- في القطب الشمالي أبحر من خلال متاهة الجزر ووصل إلى المحيط الهادي . - في القطب الجنوبي وصل إلى القطب الجنوبي ذاته.

## ما أوجه الشبه بين:

1- انهيار الإمبراطوريتين الاستعماريتين البرتغالية والأسبانية .

- سوء إدارة المستعمرات

- استغلال المستعمرات .

- المعاملة السيئة والقاسية مع السكان الأصليين .

- تنافس الدول الاستعمارية حول المستعمرات

- منافسة الهولنديين و الإنجليز للبرتغاليين القراصنة الإنجليز و الهولنديين والفرنسيين للأسبان مما أدى إلى إضعاف قواهم .  
متوفر شرح جميع المواد عبر تطبيق سما التعليمي مع مذكراتنا التي تسهل وتوفر عليك وقت المذاكرة وروا موقعنا على انستغرام وتابع اخر العروض القوية

## 2- الاستعمار الفرنسي والاستعمار الإنجليزي .

- كلا الدولتين الاستعماريتين استعمروا دولة الهند صاروا المناطق في قارة أمريكا الشمالية.
- كلا الدولتين الاستعماريتين مارسوا النظام الاستعماري العسكري حيث سيطرت فرنسا استخدام الغزو العسكري على الجزائر عام 1830م أما إنجلترا سيطرت على مصر عام 1882م .
- دخلت الدولتين حرب السنين السبع بسبب الصراع حول المستعمرات.
- استعمروا الدول من خلال التفويض من المنظمات الدولية حيث انتدبت فرنسا كل من سوريا ولبنان و انتدبت بريطانيا كل من فلسطين والأردن . بليرض

### صنف العوامل التالية طبقا للجدول الذي يليها :

- توافر الأدوات اللازمة.
- حلقة اتصال بين الشرق والغرب.
- الرغبة في استعادة أمجادها القديمة
- استقرار الوضع في بلادهم .

العوامل التي جعلت إيطاليا في مقدمة حركة النهضة الأوروبية	من العوامل التي جعلت البرتغال أول من قامت في حركة الكشوف الجغرافية في أوروبا
- الرغبة في استعادة أمجادها القديمة. - حلقة اتصال بين الشرق والغرب.	- استقرار الوضع في بلادهم . - توافر الأدوات اللازمة.

**صنف اسماء الشخصيات التالية طبقا للجدول الذي يليها :**

- فاسكو دي جاما - مارتن فرو بوشير - جاك كارتيه - ماجلان - جون ديفيز - ألكسندر ماكينزي -  
كريستوفر كولومبس - بارثلميو دياز

رحالة الكشوف البرتغالية	رحالة الكشوف الأسبانية	رحالة الكشوف الإنجليزية
- بارثلميو دياز - فاسكو دي جاما	- كريستوفر كولومبس - ماجلان	- جون ديفيز - مارتن فرو بوشير

**صنف الأشكال الاستعمارية التالية طبقا للجدول الذي يليها :**

- المعاهدات والاتفاقيات الخاصة - الغزو العسكري

- الاستيطان

- التفويض من المنظمات الدولية.

الاستعمار الفرنسي للجزائر	الاستعمار الإنجليزي لمنطقة الخليج	الاستعمار الإيطالي للصومال	الاستعمار الصهيوني لفلسطين
- الغزو العسكري	- المعاهدات والاتفاقيات الخاصة	- التفويض من المنظمات الدولية	- الاستيطان