

سما
SAMA

سما- المعلم الذكي

i teacher
المعلم الذكي

WWW.SAMAKW.NET/AR

تدرّب مع سما

مادة : الاجتماعيات

الفصل الدراسي الثاني

الصف

7



 www.samakw.com

 [samakw_net](https://www.instagram.com/samakw_net)

 60084568 / 50855008 / 97442417

 حولي مجمع بيروت الدور الأول

الدرس الأول : نمو السكان وتوزيعهم في الوطن العربي

- يغطي الوطن العربي مساحة كبيرة تبلغ ...
- يتألف الوطن العربي من ... دولة
- يبلغ عدد سكان الوطن العربي حوالي ...
- نسبة سكان الجانب العربي الافريقي من اجمالي سكان الوطن العربي حوالي ...
- نسبة سكان الجانب العربي الاسيوي من اجمالي سكان الوطن العربي حوالي ...
- تعتمد دراسة السكان على ...

عدد اهم الاحصائيات السكانية المستخدمة في دراسة السكان

-٢

-١

- الجهة التي تقوم بالتعداد السكاني تسمى ...
- تقوم الدولة بإجراء التعداد السكاني كل ... **سنوات**
- تحصل الدولة من التعداد السكاني على ... - ...
- يسجل الإحصاء الحيوي ... - ...
- العام الذي أنشئت فيه الإدارة المركزية للإحصاء في الكويت عام ...
- تم اجراء اول تعداد سكاني في الكويت عام ...
- الجهة المسؤولة عن اجراء اول تعداد سكاني في الكويت هي ...

١- التوزيع الجغرافي للسكان في الوطن العربي

- اكثر دولة عربية في عدد السكان ...
- اقل دولة عربية في عدد السكان ...
- أكثر دولة عربية اسبوية من حيث عدد السكان ...
- اقل دولة عربية اسبوية من حيث عدد السكان ...
- أكبر دولة عربية من حيث المساحة ...




- أكبر دولة عربية اسيوية من حيث المساحة
- أصغر دولة عربية من حيث المساحة ...
- اصغر دولة عربية افريقية من حيث المساحة ...

رقم	الدولة العربية	المساحة كم ^٢	تقديرات عدد السكان (ألف نسمة)	رقم	الدولة العربية	المساحة كم ^٢	تقديرات عدد السكان (ألف نسمة)
١	السعودية	٢,٢٥٠,٠٠٠	٣٠,٧٧٠	١	مصر	١,٠٠٩,٤٥٠	٨٦,٨١٤
٢	العراق	٤٣٥,٠٥٢	٣٦,٠١٥	٢	السودان	١,٨٨٢,٠٠٠	٣٧,٤٠٢
٣	سوريا	١٨٥,١٨٠	٢٢,٧١٤	٣	الجزائر	٢,٣٨١,٧٤١	٣٩,٤٠٢
٤	فلسطين	٢٧,٠٠٠	٤,٥٥٠	٤	المغرب	٧١٠,٨٥٠	٣٣,٣٠٤
٥	الأردن	٨٩,٣١٨	٦,٦٧٥	٥	تونس	١٦٤,١٥٠	١٠,٩٨٣
٦	لبنان	١٠,٤٥٢	٤,٠٧٢	٦	ليبيا	١,٦٦٥,٠٠٠	٥,٩١٢
٧	الكويت	١٧,٨١٨	٣,٧١٥	٧	الصومال	٦٣٧,٦٥٧	١٢,٣١٧
٨	الإمارات	٧١,٠٢٣	٨,٥٢٥	٨	موريتانيا	١,٠٣٠,٧٠٠	٣,٥٤٦
٩	البحرين	٧١٢	١,٣٩٩	٩	جيبوتي	٢٣,٢٠٠	٩٣٩
١٠	قطر	١١,٦٠٦	٢,٠٥١	١٠	جُزر القمر	٢,٢٣٦	٧٦٥
١١	اليمن	٥٥٥,٠٠٠	٢٥,٩٥٦				
١٢	عُمان	٣٠٩,٥٠٠	٤,١٨٣				
	مجموع الجناح العربي الآسيوي	٣,٩٦٢,٦٦١	١٥٠,٩٢٥		مجموع الجناح العربي الأفريقي	٩,٥٠٦,٩٨٤	٢٣١٣٨٤

شكل (٤٩) إحصائية تبين مساحة الدول العربية وتقديرات عدد السكان في عام (٢٠١٤م)

نشاط (١) ادرس الجدول السابق شكل (٤٩) ثم أكمل الجدول الآتي

عدد سكان الوطن العربي في الجناح الأفريقي	
عدد سكان الوطن العربي في الجناح الآسيوي	
اجمالي عدد سكان الوطن العربي	
أكثر الدول العربية سكانا	
الدول العربية التي يزيد عدد سكانها على (٢٠) مليون نسمة	
الدول العربية التي يقل عدد سكانها على (٥) مليون نسمة	



نشاط (٢) ادرس الجدول شكل رقم (٤٩) ثم قارن بين مساحة الدول التالية بعدد سكانها

دولة	مساحة الدولة	عدد سكانها
دولة الكويت		
مصر		
ليبيا		

ماذا تستنتج من الجدول السابق؟

-

-

-

- علل يختلف عدد السكان بين دولة واخرى

-

٢- الكثافة السكانية في الوطن العربي

- الكثافة السكانية =

÷

- تعطي الكثافة السكانية صورة صحيحة عن توزيع السكان داخل الدولة ()

- من الدول التي تعاني من سوء توزيع السكان فيها ...

- يتركز السكان في مصر في مساحة صغيرة جدا هي ... - ...

نشاط (٣) استخراج الكثافة السكانية العامة للدول العربية التي بالجدول مستعينا بشكل (٤٩)

الدولة	الكثافة السكانية العامة = إجمالي عدد السكان ÷ إجمالي مساحة الدولة
الكويت	
موريتانيا	
مملكة البحرين	

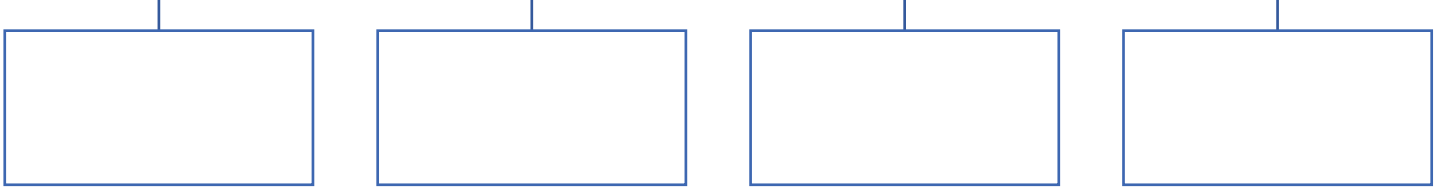
ماذا تستنتج من الجدول السابق؟

-

-



مناطق الوطن العربي من حيث
الكثافة السكانية



- علل توجد مناطق شبه خالية من السكان في الوطن العربي



لماذا يتجمع السكان حول مصادر المياه؟



لماذا يصعب العيش في المناطق الجبلية؟



لماذا يفضل السكان العيش في المناطق
السهلية ذات المناخ المعتدل؟



هل الصحراء مناطق جاذبة للسكان؟

شكل (٥١) صور توضح العوامل المؤثرة في توزيع السكان

- لاحظ المخطط السهمي (٥٠) والصور (٥١) وتعرف على العوامل المؤثرة في توزيع السكان

- ١

- ٢

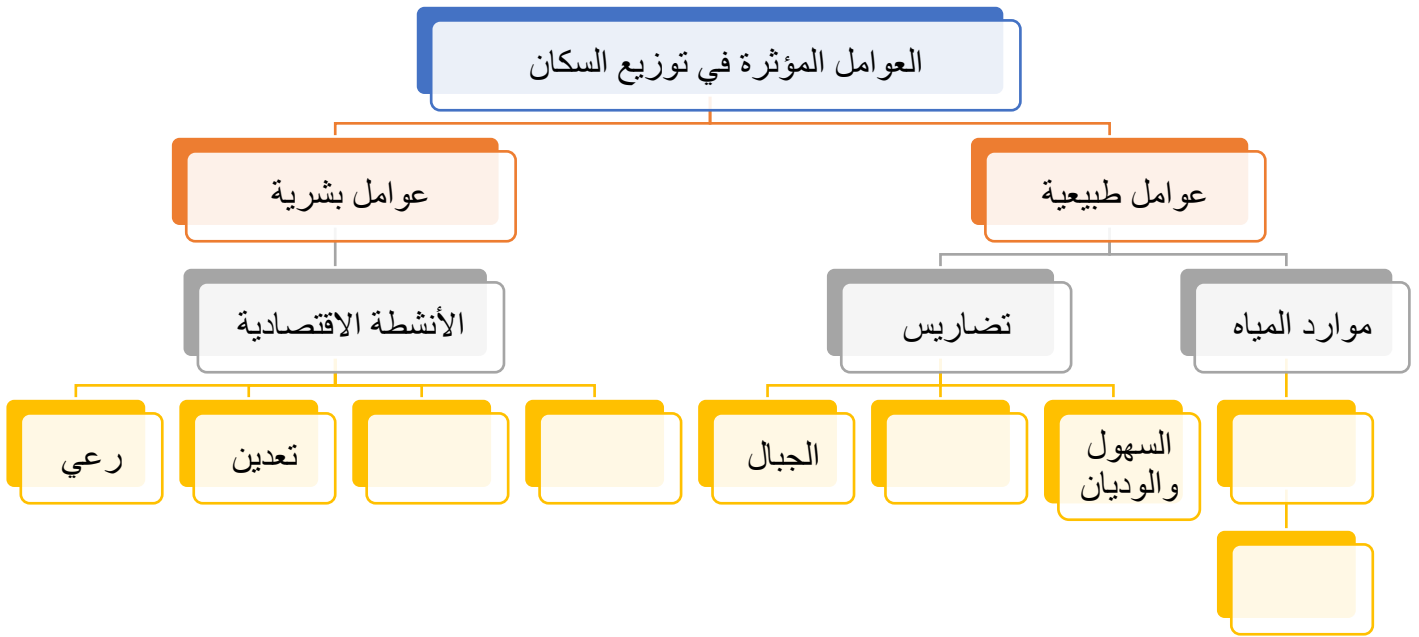
- ٣

- ٤



ما المناطق المناخية التي يقل فيها السكان	-
ما المناطق التي يجذب السكان للعيش فيها	-
ما المناطق التي لا يرغب السكان العيش فيها	-

نشاط (٥) من خلال دراستك السابقة أكمل مخطط العوامل المؤثرة في توزيع السكان



- تنقسم العوامل المؤثرة في توزيع السكان الى ...

- من العوامل الطبيعية المؤثرة في توزيع السكان...



شكل (٥٣) الزراعة على المدرجات الجبلية في اليمن



- ترتفع الكثافة السكانية في المناطق التي تتوفر فيها ...
- أسماء المدن والدول التي نشأت ونمت في الصحراء

- كيف تمكن الإنسان من العيش بالصحراء

- كيف تغلب الإنسان على صعوبة العيش والزراعة في الجبال

- كيف استطاع الإنسان أن يتغلب على بعض صعوبات المناخ ويسكن في المناطق الباردة

* نستخلص من السابق ما يلي :


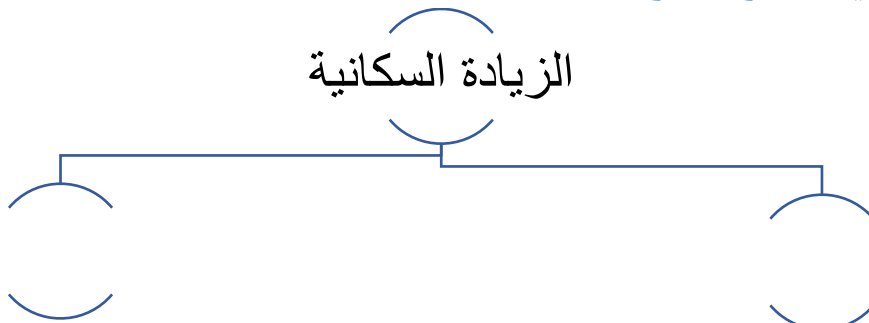
*
*
*

٣- النمو السكاني في الوطن العربي

- يبلغ معدل النمو السنوي للسكان في الوطن العربي عام ٢٠٠٦ حوالي ...
- يبلغ معدل النمو السكاني العالمي حوالي ...
- **عرف النمو السكان :**

- ارسم مخطط سهمي يوضح انواع الزيادة السكانية

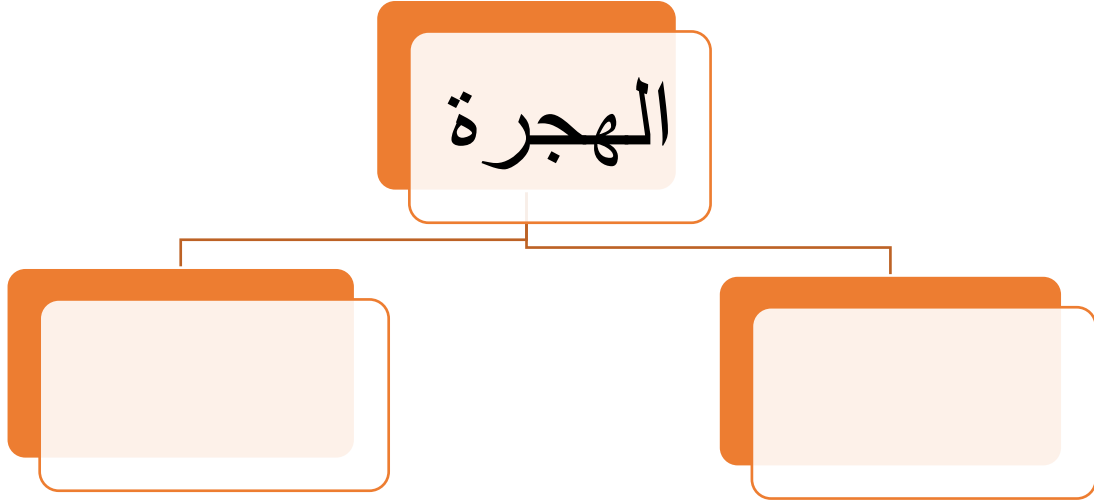
الزيادة السكانية



- عرف الزيادة الطبيعية :

- عرف الزيادة غير الطبيعية :

- ارسم مخطط سهمي يوضح انواع الهجرة



- تكون الهجرة الداخلية من ... الى

- تكون الهجرة الخارجية من ... الى

- يرجع النمو السكاني في الوطن العربي الى عاملين هما ... -

نشاط (١) ناقش مع معلمك كلاً من :

- أسباب هجرة الأيدي العاملة من دول اسيا الى بعض دول الوطن العربي

-

- أسباب هجرة الأيدي العاملة من بعض الدول العربية الى منطقة الخليج العربي


-

نشاط (٢) فكر واستنتج مع خالد ماذا يحدث لو زاد عدد السكان بكثرة عن عدد موارد الدولة

-

- هل هناك مشكلة سكانية في الوطن العربي ؟ ناقش هذا الموضوع مع معلمك

-



- عدد أهم الثروات الاقتصادية في الوطن العربي

- ١

- ٢

- ٣

- ٤



الثروة :
الأهمية :



الثروة :
الأهمية :



الثروة :
الأهمية :



الثروة :
الأهمية :

شكل (٥٥)

- عرف الموارد الطبيعية :

- من الموارد الطبيعية ...

- عرف الموارد البشرية :

...

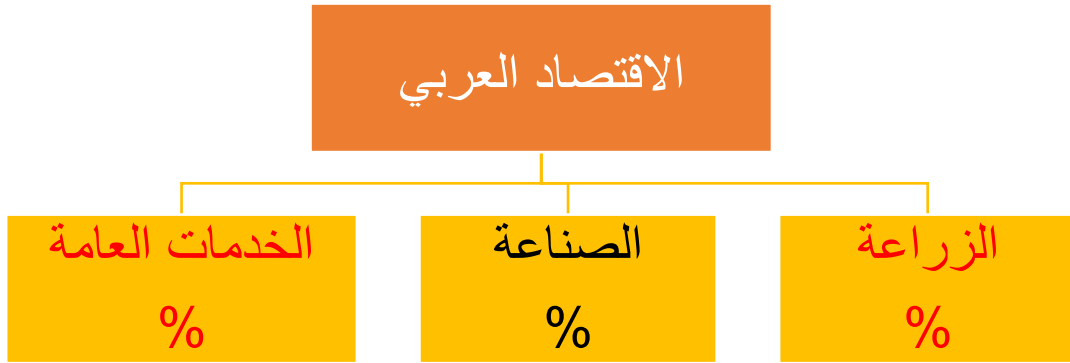
...

...



أ- الإنتاج الزراعي

- القطاع الاقتصادي الذي يأتي في المرتبة الاولى في الوطن العربي هو القطاع ...
- نسبة ما يساهم به القطاع الزراعي في الاقتصاد العربي نسبة...
- نسبة ما يساهم به القطاع الصناعي في الاقتصاد العربي نسبة...
- نسبة ما يساهم به قطاع الخدمات العامة في الاقتصاد العربي نسبة...
- ارسم مخطط سهمي يوضح مساهمات القطاعات المختلفة في الاقتصاد العربي



علل يحتل القطاع الزراعي المرتبة الاولى في الاقتصاد العربي


- ١
- ٢
- ٣
- ٤

علل اختلاف المنتجات الزراعية من دولة لأخرى

- ١
- ٢

نشاط (١) - استنتج ثلاث فوائد اساسية للنشاط الزراعي في الوطن العربي

- ١
- ٢
- ٣




نشاط (٢) - من خلال دراستك السابقة تعرف على المناطق الزراعية في الكويت ثم دونها

في الجنوب	في الشمال

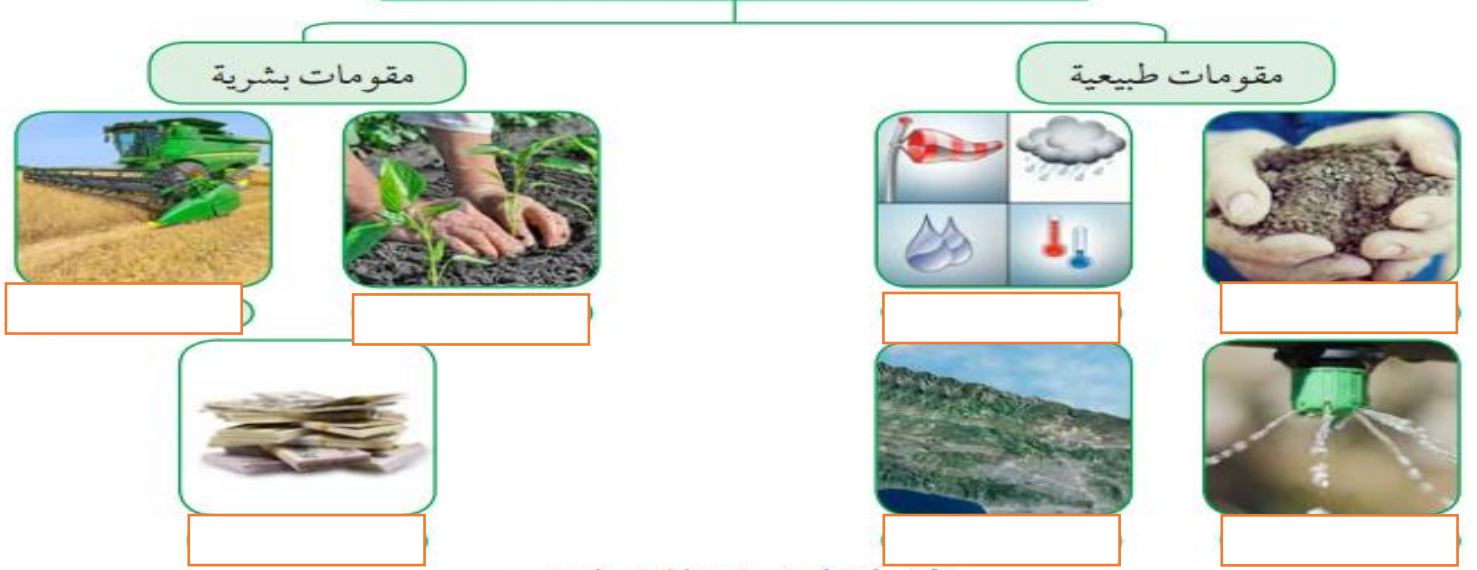
نشاط (٣) هل تستطيع رسم دائرة بيانية لأهمية القطاع الزراعي بالنسبة لبقية القطاعات في

الاقتصاد العربي



نشاط (٤) من خلال الاستدلال بالصور ساعد خالد في اكمال مخطط مقومات الانتاج الزراعي

ب - مقومات الإنتاج الزراعي




شكل (٥٦) مقومات الإنتاج الزراعي

- مصادر المياه الرئيسية في الوطن العربي ... - ... - ...

نشاط (٥)

اكتب رسالة لزميلك تنصحه فيها بالمحافظة على النباتات في مدرستك وتوضح له كيفية الاعتناء

*



- تنقسم المحاصيل الزراعية الى ... - ...

- ارسم مخطط سهمي يوضح المحاصيل الزراعية في الوطن العربي

المحاصيل الزراعية



- علل أهمية الحبوب الغذائية

- ١

- ٢

- ٣

- من الحبوب الغذائية في الوطن العربي ... - ... - ...

- علل تسمية الغلات الصناعية والتجارية بالغلات النقدية

-

- تتركز زراعة الفواكه والثمار في ...


- علل تتركز زراعة الفواكه والثمار في حوض البحر المتوسط

-

نشاط (١) هل تستطيع مساعدة خالد في تصنيف المحاصيل الزراعية حسب نوعها من خلال الحوار الذي دار بين خالد والعم صالح في الجدول التالي



شكل (٥٧) سوق المباركية بالكويت



الفواكه والخضار	الغلات الصناعية والتجارية	الحبوب الغذائية

نشاط (٢) تعرف على الدولة التي تحتل المركز الاول في انتاج جميع انواع المحاصيل الغذائية

أ - الحبوب الغذائية

- تحتل مصر المركز الاول في انتاج ... - ...
- تحتل المغرب المركز الاول في انتاج...

ب - الغلات الصناعية

- تحتل مصر المركز الاول في انتاج ... - ...
- تحتل اليمن المركز الاول في انتاج ...
- الدولة العربية الوحيدة في انتاج البن تسمى ...

ج - الفواكه والاشجار

- تحتل سوريا المركز الاول في انتاج ...
- تحتل السعودية المركز الاول في انتاج ...
- تحتل مصر المركز الاول في انتاج ...
- تحتل الصومال المركز الاول في انتاج ...

نشاط (٣) لاحظ الصور في المخطط السهمي التالي لتتعرف على المشكلات التي تعاني منها

الزراعة في الوطن العربي

د - المشكلات التي تعاني منها الزراعة في الوطن العربي



شكل (٥٨) المشكلات التي تعاني منها الزراعة في الوطن العربي



الزراعة الحديثة :

الزراعة التقليدية :

شكل (٥٩)

نشاط (٥)

تبلغ المساحة المزروعة في الوطن العربي حوالي ٥٦% من المساحة القابلة للزراعة فهل تستطيع رسم دائرة بيانية لهذه النسبة



نشاط (٦)

ابحث مع زملائك عن اسباب عدم استغلال الأراضي الصالحة للزراعة مستخدما مراجع خارجية

-١

-٢

-٣



- اكتب عن الثروة الحيوانية في الوطن العربي

أ - الثروة الرعوية

نشاط (٢) لاحظ الجدول التالي ثم قم بعملية حسابية لإنتاج الوطن العربي من الثروة الرعوية

إبل	ماعز	أغنام	ابقار
٤٩	٦٤	١١٦.٦٦	٤٥

مليون رأس = + + +

- علل تحتل الاغنام العربية مكاناً مهماً ضمن الثروة الرعوية




شكل (٦٠)

- ١
- ٢
- ٣
- ٤

الرقم	اغنام	نسب الإنتاج	الماعز	نسبة الإنتاج	الأبقار	نسبة الإنتاج	الإبل	نسبة الإنتاج
١								
٢								
٣								





شكل (٦١) الثروة الرعوية

- الدولة الاولى في انتاج الأغنام السودان بنسبة ...
- الدولة الاولى في انتاج الماعز السودان بنسبة ...
- الدولة الاولى في انتاج الأبقار السودان بنسبة ...
- الدولة الاولى في انتاج الإبل الصومال بنسبة ...

نشاط (٤) فكر واستنتج : لماذا تمتلك الصومال ٦.٦ % من ثروة الوطن العربي من الإبل

ب – تربية الدواجن والطيور

- ثروة حيوانية تنتشر في كل الوطن العربي ويكفي انتاجها حاجة السكان ...

نشاط (١)

ابحث مع معلمك عن العوامل التي ساعدت على انتشار مزارع الدواجن في الوطن العربي

نشاط (٢) شارك زملائك في تحديد أهم المشكلات التي تواجه تربية الدواجن في الوطن العربي

مع اقتراح حلول لهذه المشكلات

• المشكلة :

• الحل :






شكل (٦٢)

- علل تنوع الثروة المائية في الوطن العربي

نشاط (١) ألق صور لبعض أنواع الاسماك في مياه الخليج العربي



هل هناك ثروات مائية أخرى في المركز العلمي؟ اذكرها .



وما أهميتها الاقتصادية؟

شكل (٦٣) الثروة المائية

الرقم	الدولة	الإنتاج (الف طن)
١	اليمن	١٥٧
٢	مصر	١٣٧٤
٣	موريتانيا	٦٤٤
٤	المغرب	١٢٤٦
٥	تونس	١٢٣
٦	الجزائر	١٢٢
٧	عمان	٢٠٦
٨	الإمارات	٧٣

نشاط (٢) أقرأ الجدول جيداً ثم أجب

١- رتب الدول الخمس الأولى في الإنتاج السمكي ترتيباً تنازلياً

٢- عدد ثلاث دول عربية تحتل المراكز الأولى في الإنتاج

٣- فكر واستنتج :


- لماذا تساهم مصر بأكثر من ثلث الإنتاج العربي من الأسماك



نشاط (٣) اكتب بعض المقترحات التي تساعد في تنمية الثروة السمكية

-١

-٢



نشاط (١) ساعد خالد في تحديد أهم الصناعات في الوطن العربي مستعينا بالصور التالية



يمتلك الوطن العربي ثروة معدنية كبيرة لها أهميتها محليا وعالمياً ، حيث ينتج العديد من الخامات المعدنية ومصادر الطاقة الأساسية لقيام الصناعة بكافة أنواعها .

شكل (٦٥)

نشاط (٢) هل نستفيد من الثروة المعدنية

ما دليلك ؟ ١- ٢- ٣-

نستخرج الثروة المعدنية من ...

أ - النفط والغاز الطبيعي

- من اهم مصادر الطاقة التي تقوم عليها الصناعة ... - ...

- نشاط (١) بمناقشة زملائك ما أهمية النفط والغاز الطبيعي بالنسبة للدول العربية



- ١-
- ٢-
- ٣-
- ٤-





نشاط (٢) ارسم أو ألصق صور تدل على المفهوم

- النفط :

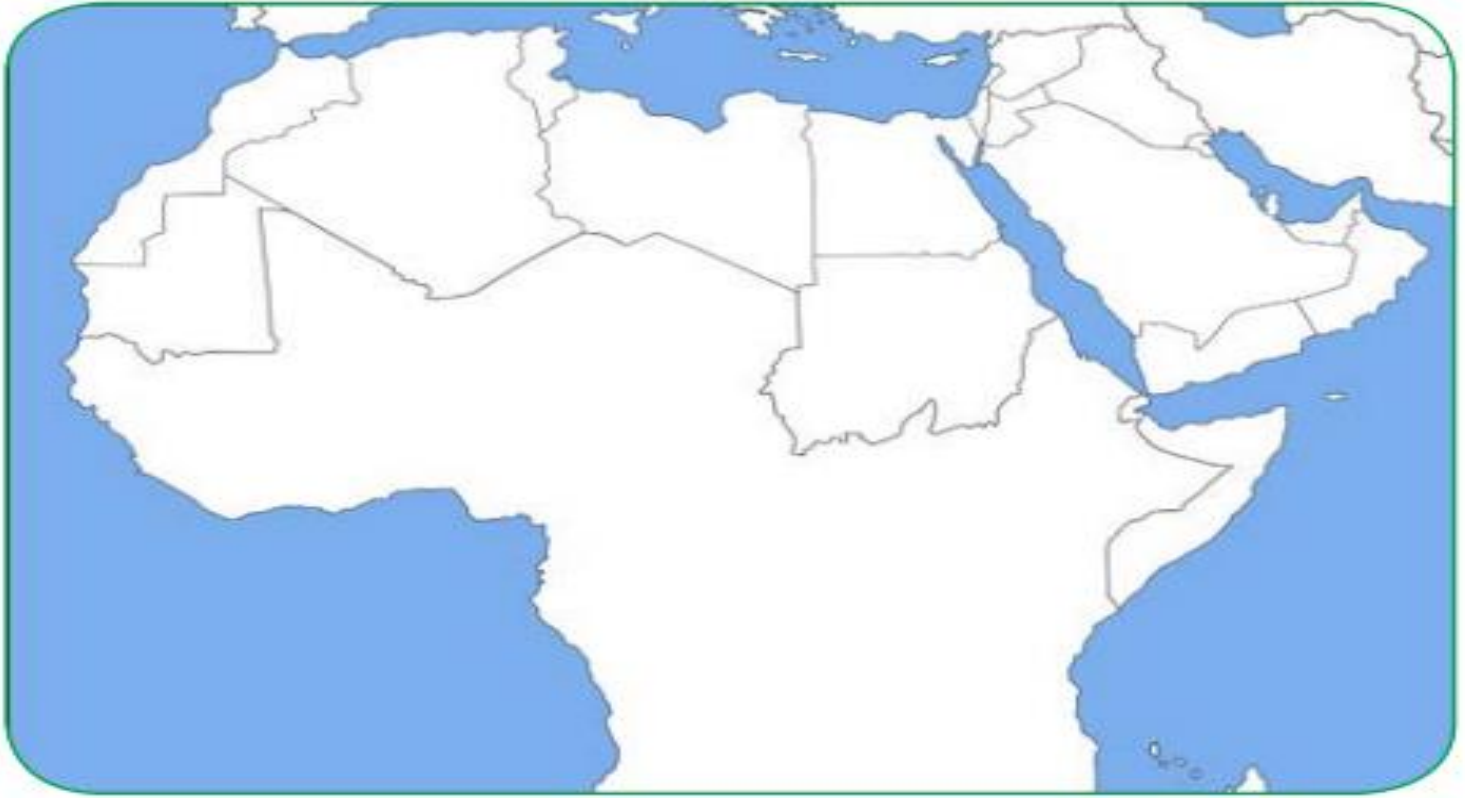


- الغاز الطبيعي :



- الطاقة :

* يحتل الوطن العربي المراكز الاولى في مجال انتاج واحتياطي النفط والغاز الطبيعي



شكل (٦٦) خريطة الوطن العربي الصماء

نشاط (١) لاحظ الخريطة شكل (٦٦) ثم حدد المناطق الرئيسية الثلاث التي تتركز فيها معظم حقول النفط في الوطن العربي



١- منطقة دول الخليج وسهول دجلة والفرات و انتاجها ...



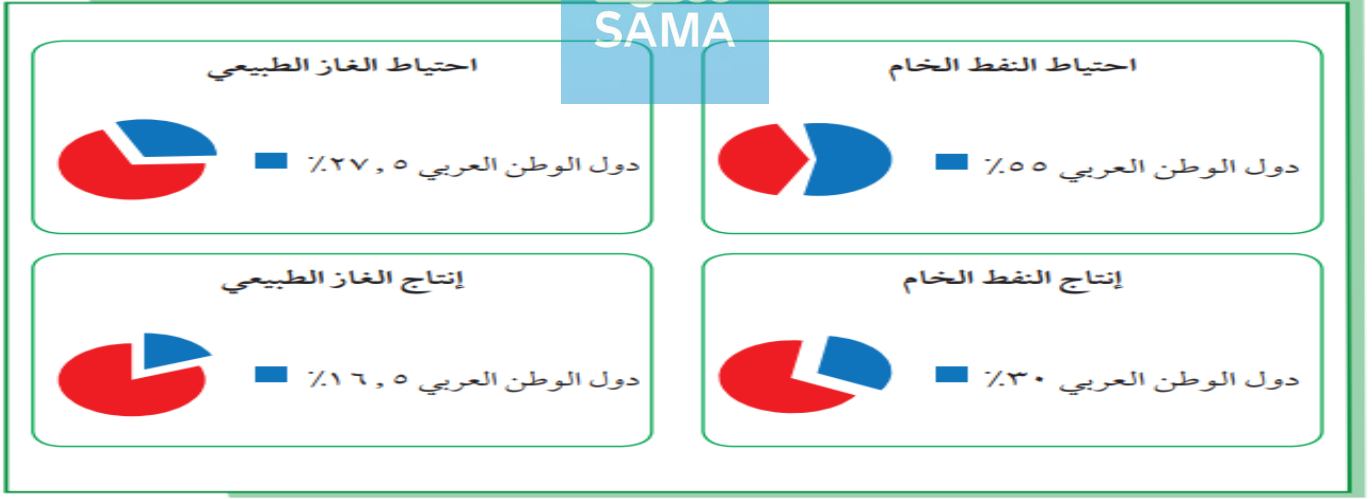
٢- منطقة الصحراء الكبرى و انتاجها ...



٣- منطقة خليج السويس و انتاجها ...

نشاط (٢) حول نسب المناطق الرئيسية الثلاث إلى دوائر بيانية





شكل (٦٧) يوضح نسب إنتاج واحتياط النفط والغاز الطبيعي في الوطن العربي بالنسبة للعالم.

- نسبة احتياطي النفط في الوطن العربي تبلغ حوالي...
 - نسبة احتياطي الغاز الطبيعي في الوطن العربي تبلغ حوالي...
 - نسبة إنتاج الوطن العربي من النفط تبلغ حوالي...
 - نسبة إنتاج الوطن العربي من الغاز الطبيعي تبلغ حوالي...
- نشاط (٣) قارن بين الجناح الآسيوي والجناح الأفريقي أكثر / أقل مستعينا بالشكل (٦٨) حسب معايير الجدول التالي :**

الجناح	إنتاج النفط	احتياطي النفط	إنتاج الغاز الطبيعي	احتياط الغاز الطبيعي
الآسيوي				
الأفريقي				



شكل (٦٨) يوضح نسب إنتاج واحتياطي النفط والغاز الطبيعي في الجناح الآسيوي والجناح الأفريقي في الوطن العربي



في إنتاج النفط

يتفوق على الجناح ...

- نستنتج من الشكل (٦٨) أن الجناح ...
وإحتياطيه والغاز الطبيعي

نشاط (٤) اقرأ الجدول ثم ساعد خالد في الإجابة عن التساؤلات التالية

١- أسماء ثلاث دول عربية أولى في إنتاج النفط

الرقم	الدولة العربية	إنتاج النفط الخام ألف برميل/ يوم	احتياط النفط الخام مليار برميل	إنتاج الغاز الطبيعي مليار متر مكعب	احتياط الغاز الطبيعي مليار متر مكعب
١	الإمارات	٢٧٩٤	٩٧,٨	٥٤,٢	٦٠٩١
٢	البحرين	٢٠٢	٠,١	١٥,٤	٩٢
٣	تونس	٥٥,٥	٠,٤	٢,٦	٦٥
٤	الجزائر	١١٩٣	١٢,٢	٨١,٧	٤٥٠٥
٥	السعودية	٩٧٠١	٢٦٥,٨	١٠٢,٤	٨٣١٦
٦	سوريا	١٠	٢,٥	٥,٣	٢٨٥
٧	العراق	٣١١٠	١٤٥,٣	٩	٣٦٩٤
٨	قطر	٧٠٣	٢٥,٢	٢٠٤,٦	٢٤٤٠٠
٩	الكويت	٢٨٦٦,٨	١٠١,٥	١٥	١٧٨٤
١٠	ليبيا	٤٨٠	٤٨,٤	١٥,٨	١٥٣٢
١١	مصر	٥٩٣,٤	٤,٢	٤٨,٨	٢١٨٦
١٢	السودان	١٢٢	١,٥	-	٨٥
١٣	عُمان	٨٥٦,٥	٥,١٥١	٢٩	٧٠٥
١٤	اليمن	١٤٠,٤	٢,٦٧	٩,٦	٤٧٩

٢- أسماء ثلاث دول عربية أولى في احتياطي النفط

٣- أسماء ثلاث دول عربية أولى في إنتاج الغاز الطبيعي

٤- أكثر الدول العربية إنتاجاً واحتياطاً للنفط

٥- ترتيب الكويت بين الدول العربية في إنتاج النفط

٦- الدولة العربية الأولى في إنتاج الغاز الطبيعي

إنتاج واحتياط دول الوطن العربي حسب إحصاء ٢٠١٤

شكا. (٦٩)

* الدول العربية تصدر معظم انتاجها من النفط والغاز الطبيعي إلى خارج الوطن العربي

* هل تؤيد كلام خالد؟ مع ذكر الأسباب

ب - أهمية النفط العربي

نشاط (١) أستعن بالمراجع الخارجية لإكمال الشكل التالي

- الأسباب التي أعطت النفط العربي أهمية عالمية

-١

-٢

-٣

-٤



- لماذا يطلق على الغاز الطبيعي اسم الطاقة النظيفة؟

نشاط (٣) لاحظ الصور التالية ثم اكتب استخدامات الغاز الطبيعي



شكل (٧٠)

ج - التعدين في الوطن العربي

- من اهم المعادن في الوطن العربي ... - ... - ... - ... -



شكل (٧٥)
معدن المنجنيز



شكل (٧٤)
معدن الفوسفات



شكل (٧٣)
معدن الحديد



شكل (٧٢)
معدن النحاس



شكل (٧١)
معدن الرصاص

- الدولة الاولى في انتاج معدن الحديد هي ...

- تحتل موريتانيا المركز الاول في انتاج معدن ...

- تصدر المغرب المركز الاول في انتاج ...


... -

... -

... -

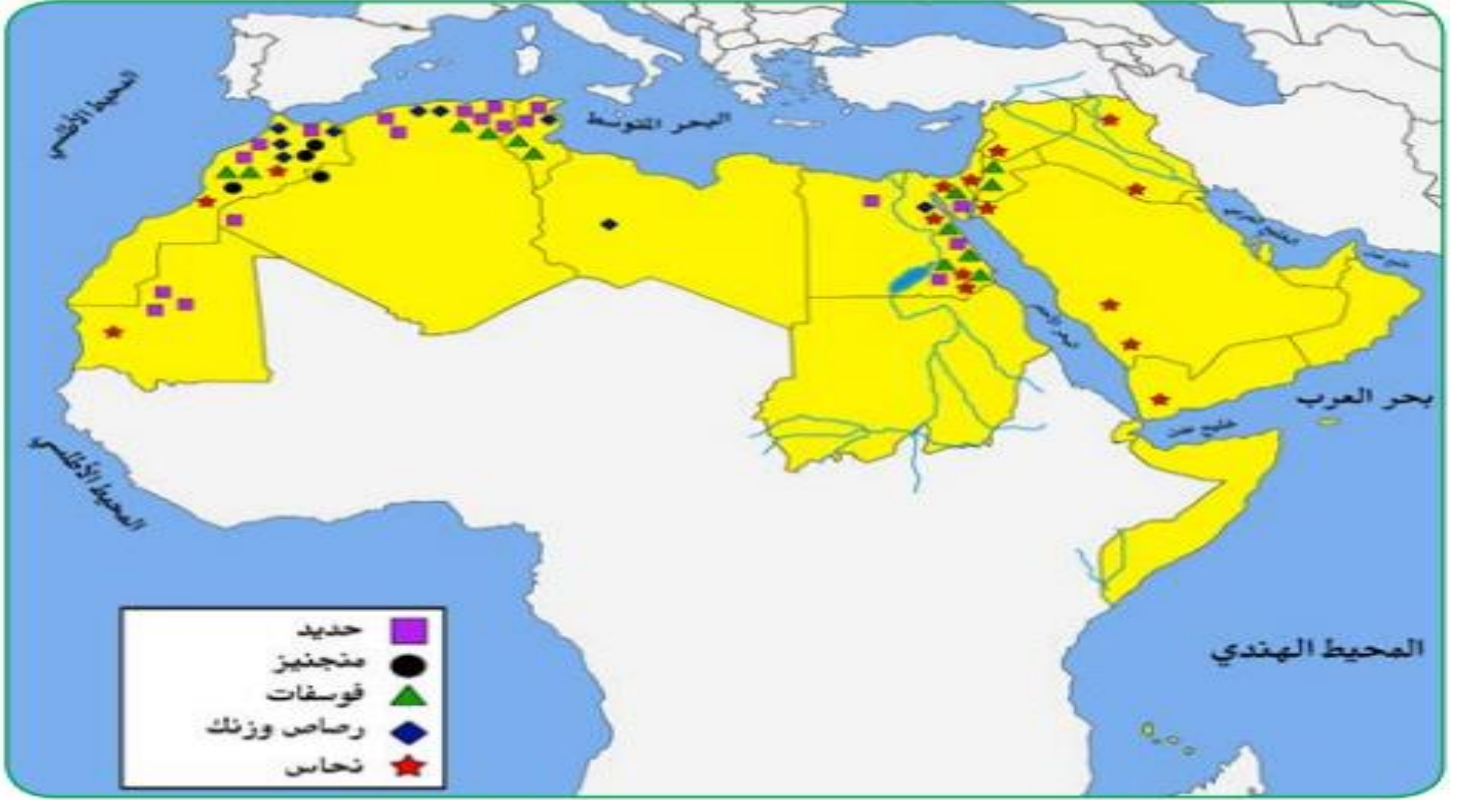
المنجنيز	النحاس	الرصاص	الحديد	الفوسفات

شكل (٧٦) نسب إنتاج الوطن العربي من المعادن بالنسبة للعالم



نشاط (١) هل هناك معادن أخرى ثمينة يملكها الوطن العربي؟ ابحث في ذلك ثم اكتب

تقريراً بحدود خمسة أسطر



شكل (٧٧) خريطة توزيع المعادن في الدول العربية

نشاط (٢) لاحظ الخريطة شكل (٧٧) ثم أكمل الجدول التالي

المعدن	الدول العربية المنتجة للمعدن
الفوسفات	
الحديد	
النحاس	
الزئبق	
الرصاص	



- عدد المنظمات الاقتصادية الإقليمية والدولية

- ١

- ٢

أ- منظمة الدول المصدرة للنفط (أوبك)

- علل إنشاء منظمة الدول المصدرة للنفط (أوبك)

- ١

- ٢

- عرف منظمة الدول المصدرة للنفط (أوبك) :

- المدينة التي تأسست بها منظمة الدول المصدرة للنفط (أوبك) تسمى ...

- العام الذي تأسست فيه منظمة الدول المصدرة للنفط (أوبك) عام...

- عدد الدول المؤسسة لمنظمة الدول المصدرة للنفط (أوبك) يبلغ...

- الدول المؤسسة لمنظمة الدول المصدرة للنفط (أوبك) هي ...

... -

... -

- جميع الدول المؤسسة لمنظمة الدول المصدرة للنفط (أوبك) دول عربية عدا ...

- الدول التي انضمت لمنظمة الدول المصدرة للنفط (أوبك) ...

... -

... -

... -

... -

... -

- عدد الدول الاعضاء في منظمة الدول المصدرة للنفط (أوبك) ...

- المقر الحالي لمنظمة الدول المصدرة للنفط (أوبك) يوجد في مدينة ...

- اذكر الهدف الاساسي لمنظمة الدول المصدرة للنفط (أوبك)

-

- عدد اجهزة منظمة الدول المصدرة للنفط (أوبك)

- ١

- ٢

- ٣



نشاط (١) اقرأ القطعة السابقة لتساعد خالد في الإجابة عن التساؤلات التالية :

- ١- ما المدينة التي يقع فيها مقر المنظمة مدينة ...
- ٢- ما اسماء الدول الخمس المؤسسة للمنظمة ... - ... - ... - ... - ...
- ٣- كم عدد الدول الأعضاء حاليا...
- صنف الدول الاعضاء تبعا للقارة التي تنتمي إليها كل دولة حسب الجدول

أمريكا الجنوبية	أفريقيا	اسيا

نشاط (٢)

ابحث عن شعار منظمة أوبك من خلال زيارتك لموقع منظمة أوبك



ب - منظمة الأقطار العربية المصدرة للنفط (أوبك)

- العام الذي أنشئت فيه منظمة الأقطار العربية المصدرة للنفط (أوبك) عام ...
- الدول المؤسسة لمنظمة الأقطار العربية المصدرة للنفط (أوبك) ... - ... - ...
- مقر منظمة الأقطار العربية المصدرة للنفط (أوبك) دولة ...
- **علل إنشاء منظمة الأقطار العربية المصدرة للنفط (أوبك)**

-١

-٢

-٣

-٤

- عدد أجهزة منظمة الأقطار العربية المصدرة للنفط (أوبك)

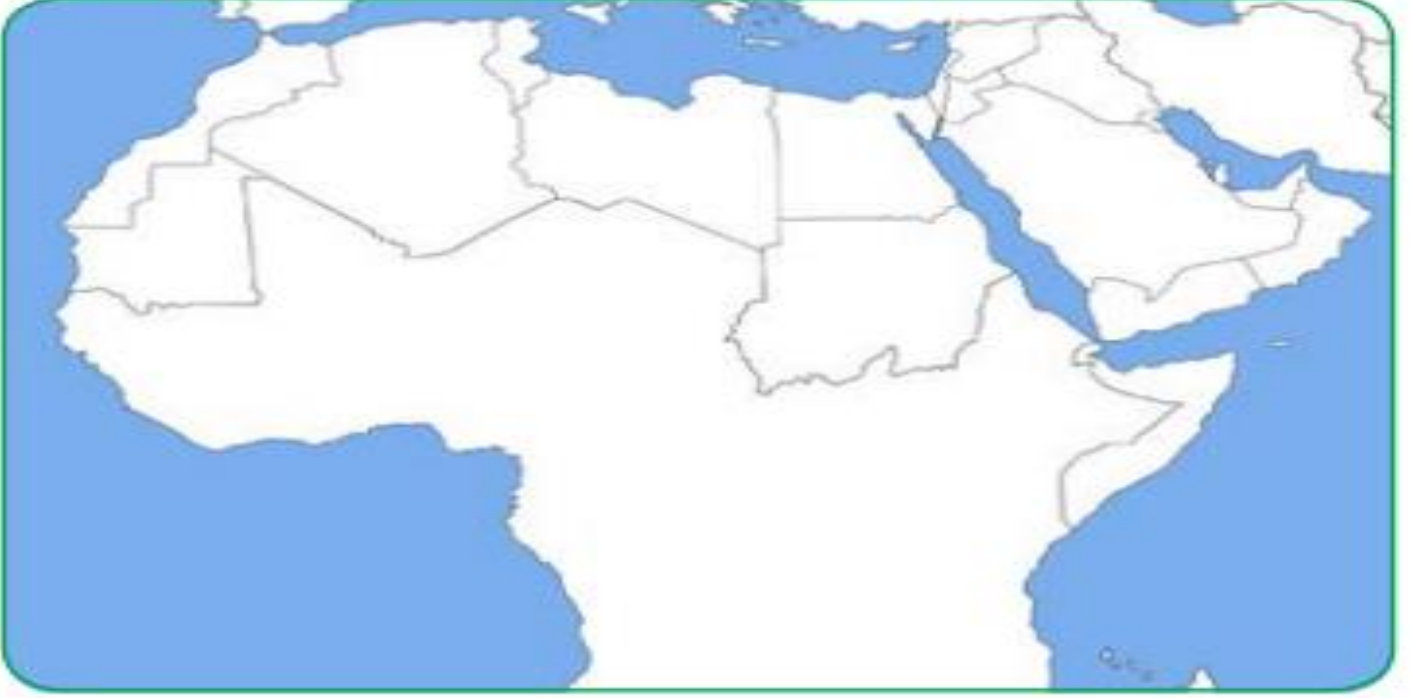
-١

-٢

-٣



نشاط (١) لون الدول العربية الأعضاء بمنظمة الأوبك على الخريطة



شكل (٧٨) خريطة الوطن العربي الصماء



OAPEC

Organization of Arab Petroleum Exporting Countries

نشاط (٢) ابحث عن شعار منظمة أوبك

نشاط (٣) شارك زملائك في التفكير لإثبات وجود تعاون بين منظمة الأوبك ومنظمة الأوبك



- علل استخدام الآلات و الأدوات المصنعة

نشاط (١) استعن بالصور التالية لتحدد الصناعات التي نستخدمها في حياتنا



شكل (٧٩)

- عدد مراحل عملية التصنيع ؟

- ١
- ٢
- ٣

نشاط (٣) قدم فكرة صناعة منتج متبعا خطوات مراحل الصناعة في الجدول

اسم المنتج :

مواد اولية	تحويل وتصنيع	توزيع

- مفهوم الصناعة :

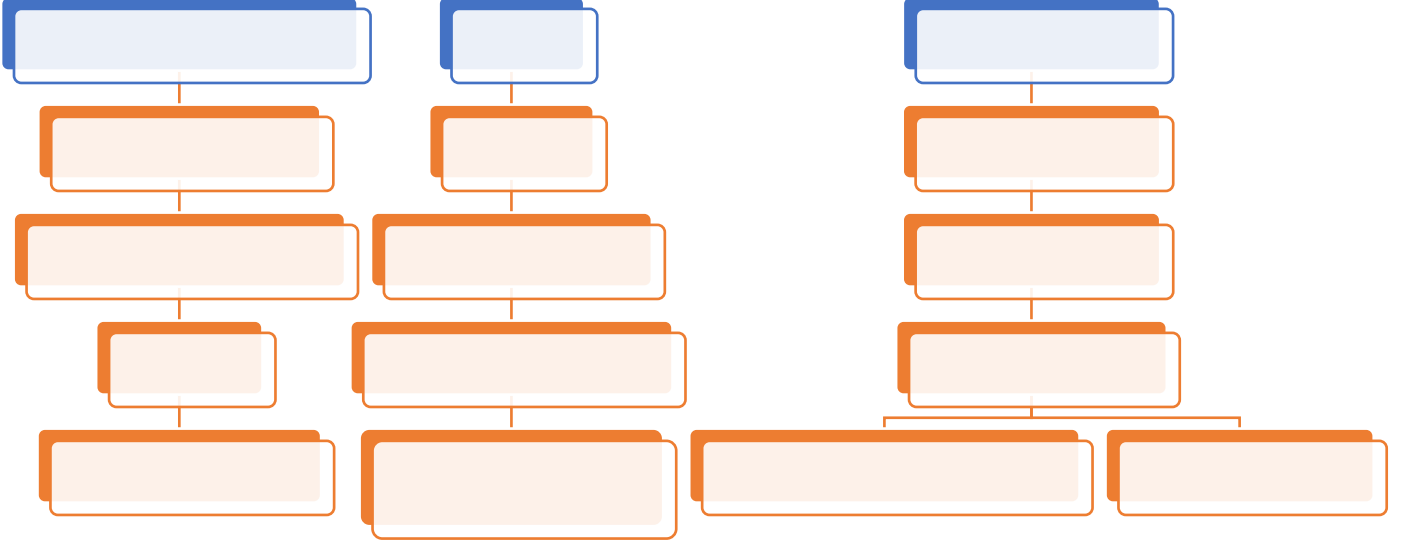
- تقوم الصناعة على مقومات ... - ...



مقومات الصناعة

مقومات بشرية

مقومات طبيعية




- تعريف مقومات الصناعة :

نشاط (١) ساعد خالد في كتابة مقومات الصناعة الطبيعية والبشرية



شكل (٨١) شكل توضيحي لمقومات الصناعة الطبيعية والبشرية



١- الصناعات الاستخراجية :

- عرف الصناعات الاستخراجية :

نشاط (١) لاحظ الصور ثم اكتب نوع الصناعة أسفلها



The image contains three photographs of industrial processes. The first shows a steel mill with glowing molten metal. The second shows a large copper pipe. The third shows an oil pumpjack. To the right of the images is a green circular icon with a white lightbulb. Below each image is a white rectangular box for labeling.

شكل (٨٢) أنواع الصناعات في الوطن العربي

٢- الصناعات التعدينية :

- عرف الصناعات التعدينية :

نشاط (٢) ناقش معلمك في جمع المعلومات التالية :

١- بماذا ترتبط الصناعات التعدينية

-

٢- هل توجد في كل البلدان العربية

-

٣- ما أهم الدول العربية في الصناعات التعدينية

-



٣- الصناعات التحويلية :

- عرف الصناعات التحويلية :

- علل أهمية الصناعات التحويلية

-

- اذكر أمثلة للصناعات التحويلية

٤- الصناعات التجميعية :

- عرف الصناعات التجميعية :




شكل (٨٣) صناعة تجميع السيارات

٥- الصناعات الحرفية :

- اولى الصناعات في العالم هي الصناعات ...


- تستخدم الصناعات الحرفية مواد ...

- تعتمد الصناعات الحرفية على ...



نشاط (١) اكتب رسالة شكر لأصحاب الصناعات الحرفية

نشاط (٢) حدد أنواع الصناعات في الصور التالية



شكل (٨٤)

٦- الصناعات البتروكيمياوية :

- تقوم الصناعات البتروكيمياوية بشكل اساسي على ... - ...

نشاط (١) هل تستطيع معرفة مشتقات النفط مستعينا بمحطة تعبئة الوقود في منطقتك





شكل (٨٥)

- اذكر أهداف الصناعات البتروكيميائية

- ١
- ٢
- ٣

نشاط (٣) اذهب الى مكتبة المدرسة لتجيب عن التساؤلات التالية

١- ما الصناعات البتروكيمياوية التي تقوم على الغاز الطبيعي

-

٢- أين تتركز صناعة البتروكيمياويات في الوطن العربي

-

٣- اذكر بعض الصناعات التحويلية التي تستخدمها في حياتك وترتكز على صناعة البتروكيمياويات

-

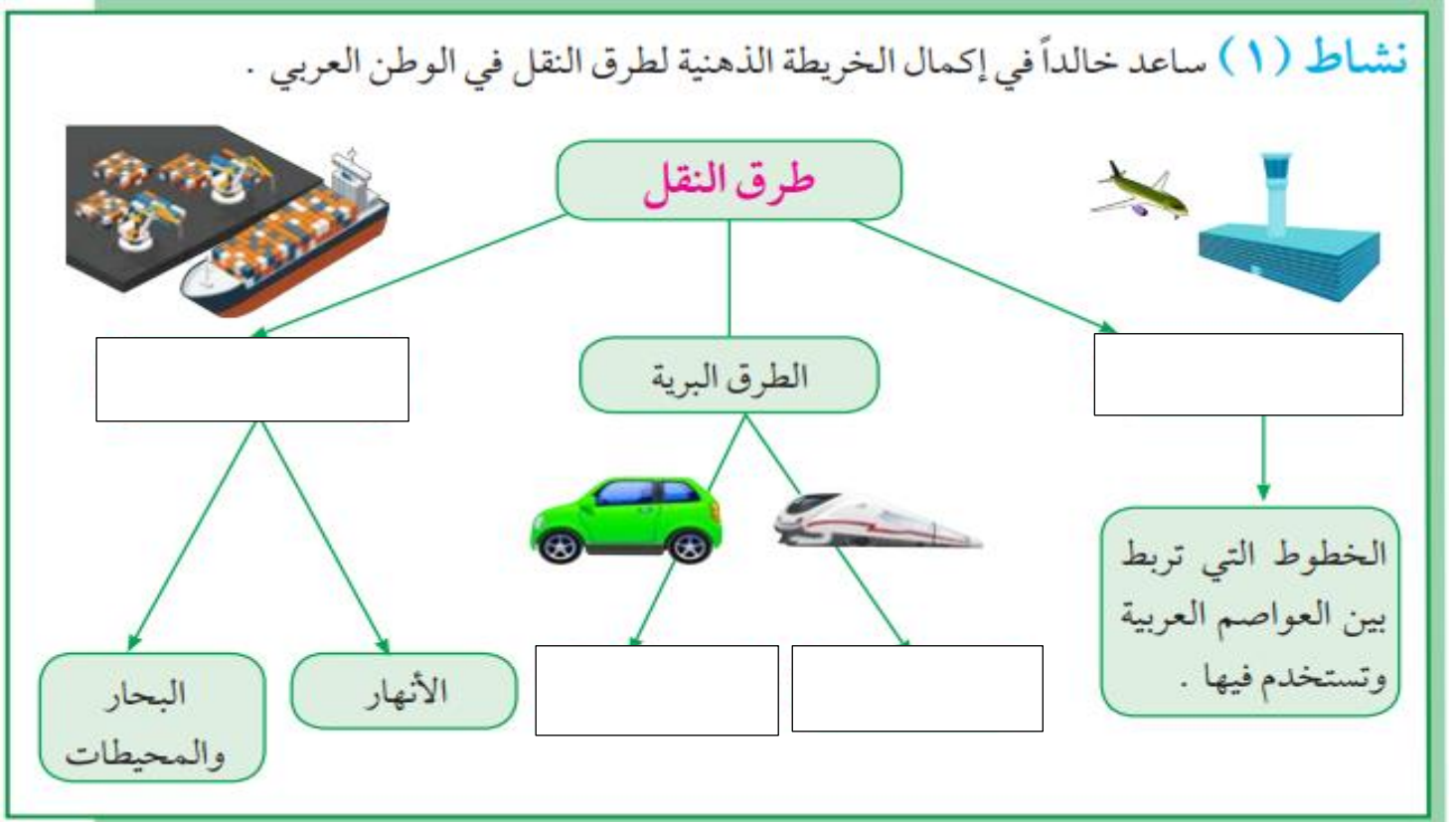


أ - طرق النقل

- علل أهمية طرق النقل

- ١

- ٢




شكل (٨٦)

نشاط (٢) هل سافرت الى دولة عربية صف لنا رحلتك

أ - طرق النقل البرية

- تنقسم طرق النقل البرية الى طرق ... - ... - ...





شكل (٨٧) طرق النقل البرية في الوطن العربي

١- ما الدول العربية التي تتوافر لديها سكك حديدية ؟

-

٢- ما الطرق الممهدة لعبور السيارات والشاحنات بين الدول العربية

-

-

٣- ما نوع البضائع التي تنقل بين دول الوطن العربي

-

-

٤- برأيك ما أهمية نقل البضائع بوسائل حديثة ومتطورة

-

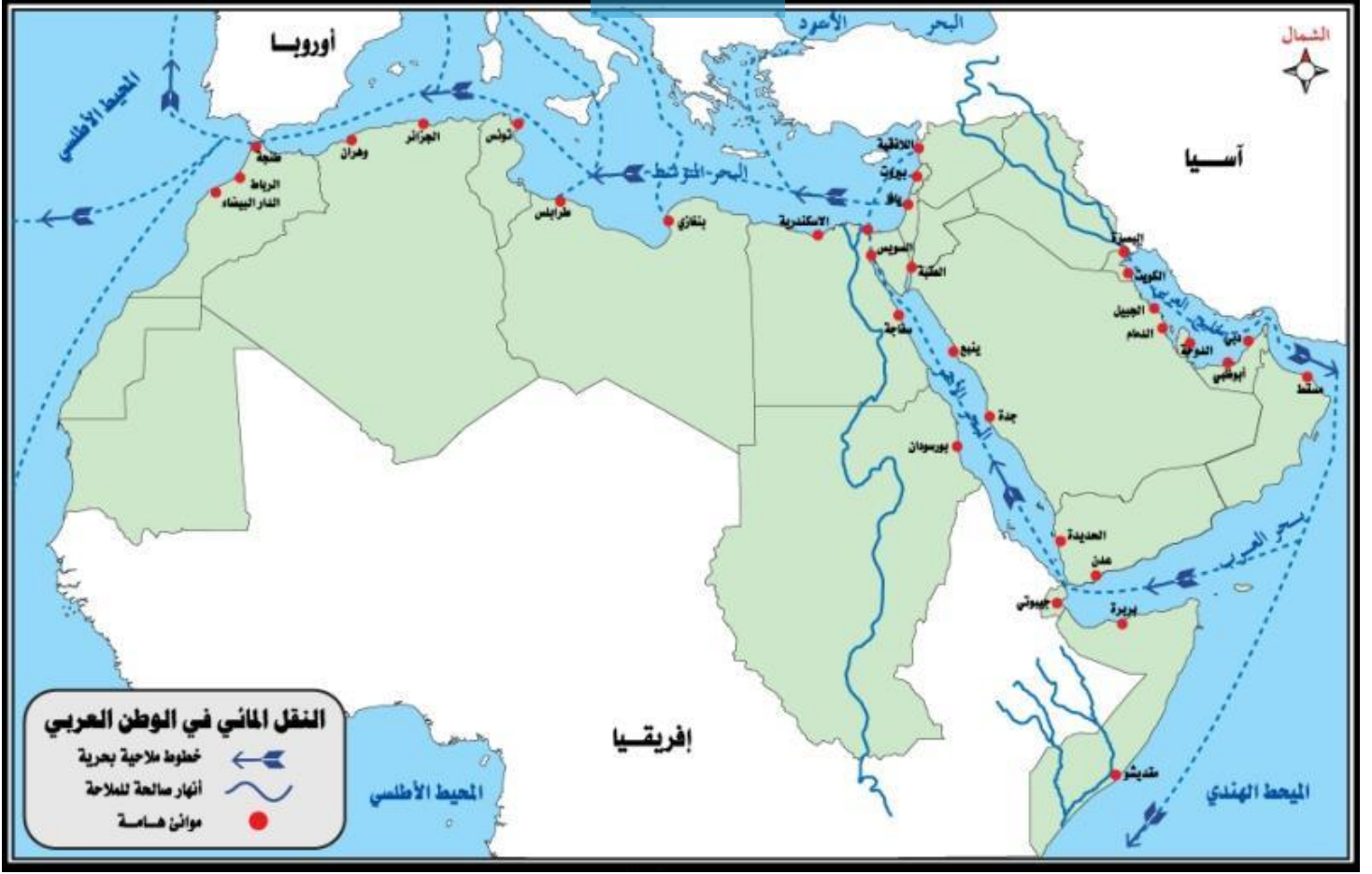
ب - طرق النقل المائية

١- النقل النهري

- تنقسم طرق النقل المائي الى ... - ...

- يقتصر النقل النهري في الوطن العربي على ... - ...





شكل رقم (٨٨) خريطة الوطن العربي

٢- النقل البحري :

- علل إنشاء العديد من الموانئ التجارية والنفطية بالوطن العربي

نشاط (٢)

☆ حدد على الخريطة السابقة شكل (٨٨) دول عربية لها سواحل بحرية متعددة

ج - طرق النقل الجوي :

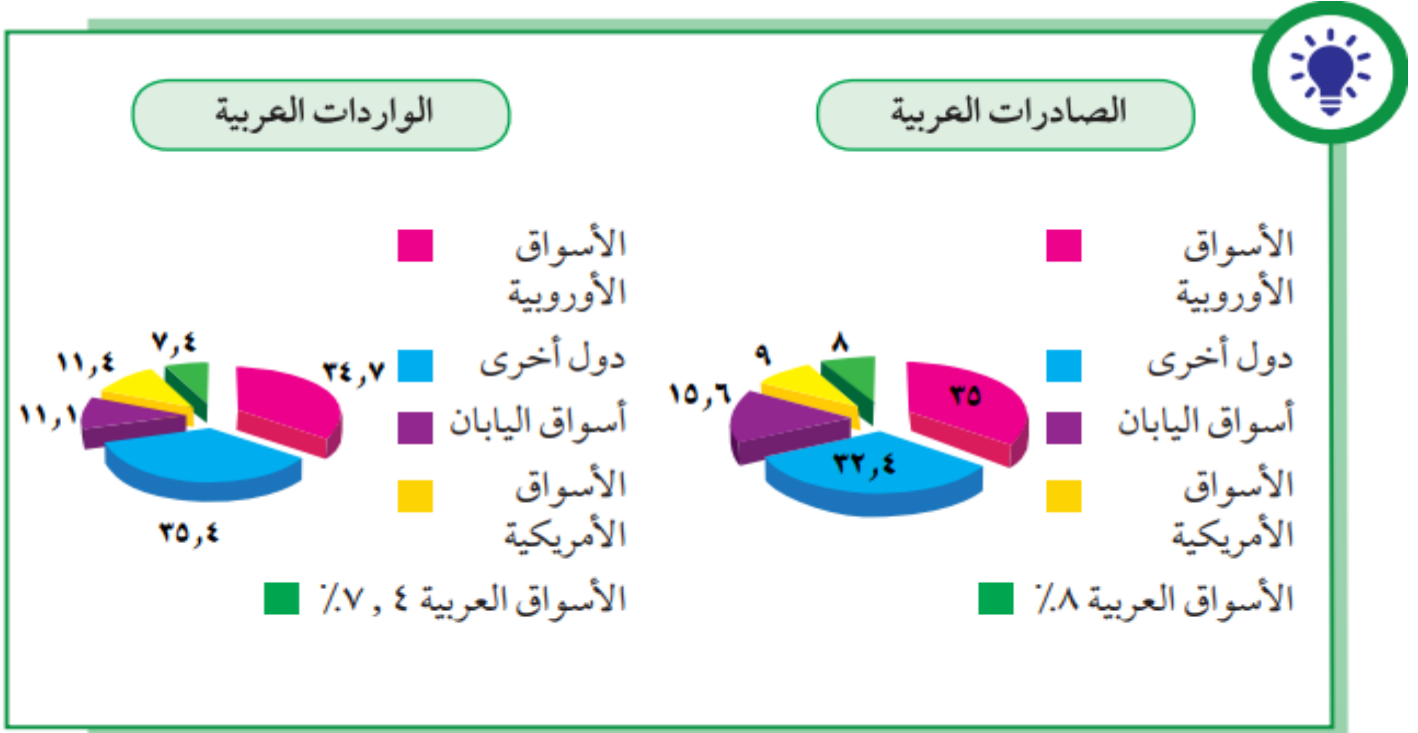
- مميزات النقل الجوي



- عرف التبادل التجاري :

نشاط (١) ما السلع التي يتم استيرادها أو تصديرها بين الدول العربية

نشاط (٢) لاحظ الرسوم البيانية شكل (٨٩) ثم اجب عما يلي :



شكل (٨٩) الصادرات والواردات العربية

- ١- الأسواق التي تحتل المكانة الأولى بالنسبة لتجارة الواردات العربية هي ...
- ٢- الأسواق التي تحتل المكانة الأولى بالنسبة لتجارة الصادرات العربية هي ...
- ٣- نسبة الصادرات بين الدول العربية ... ونسبة الواردات...

نشاط (٢) ساعد خالد من خلال دراستك السابقة ليفرق بين المفاهيم التالية :

- عرف التجارة البينية :

- الصادرات :

- الواردات :



أولاً : اكمل الفراغات في العبارات التالية :

- ١- تتنوع المحاصيل الزراعية في الوطن العربي بتنوع ... - ...
- ٢- تعتمد زراعة المحاصيل الزراعية في الوطن العربي على ...
- ٣- تنفرد اليمن بزراعة محصول ... والصومال بزراعة محصول ... عن باقي الدول العربية
- ٤- تتنافس مصر والسعودية على احتلال المركز الأول في زراعة نوع من أنواع الحبوب يعرف باسم ...
- ٥- يطلق اسم الغلات الصناعية والتجارية على محصول ...
- ٦- الصناعة هي تحويل المواد الخام الى مواد مصنعة يستفيد منها ...
- ٧- لقيام صناعة ناجحة لابد من توافر المقومات ...

ثانياً : علل لما يلي :

١- تتركز زراعة الحمضيات والمواالح في حوض البحر المتوسط

-

٢- انتشار زراعة النخيل بكثرة في السعودية


-

ثالثاً : أ - عرف المصطلحات التالية :

١- الزراعة التقليدية :

٢- الزراعة الحديثة :

ب - اكتب تقريراً مختصراً عن أهمية الزراعة في حياتنا



د - عدد الصناعات التي تقوم على المحاصيل الزراعية في الوطن العربي

- ١

- ٢

- ٣

رابعاً - أجب عن الأسئلة التالية

١- بماذا يمتاز النفط العربي

- ١

- ٢

- ٣

- ٤

٢- ما الدول الأكثر استيراداً للنفط العربي

٣- ما أثر العائدات النفطية على الاقتصاد العربي بوجه عام والخليجي بوجه خاص

-


-

-

٤- ما الفرق بين مفهوم الصادرات ومفهوم الواردات

- الصادرات :

- الواردات :



١- يطلق على الغاز الطبيعي الطاقة النظيفة

-

٢- قلة حجم النقل النهري بالنسبة لباقي وسائل النقل في الوطن العربي

-١

-٢

٣- السيارات والشاحنات أكثر وسائل طرق النقل البري انتشاراً

-١

-٢

-٣

٤- اهتمام الدول العربية بتحديث شبكة المواصلات

-١

-٢

٥- قلة التبادل التجاري بين دول الوطن العربي


-

٦- معظم صادرات دول الخليج العربية من النفط الخام

-

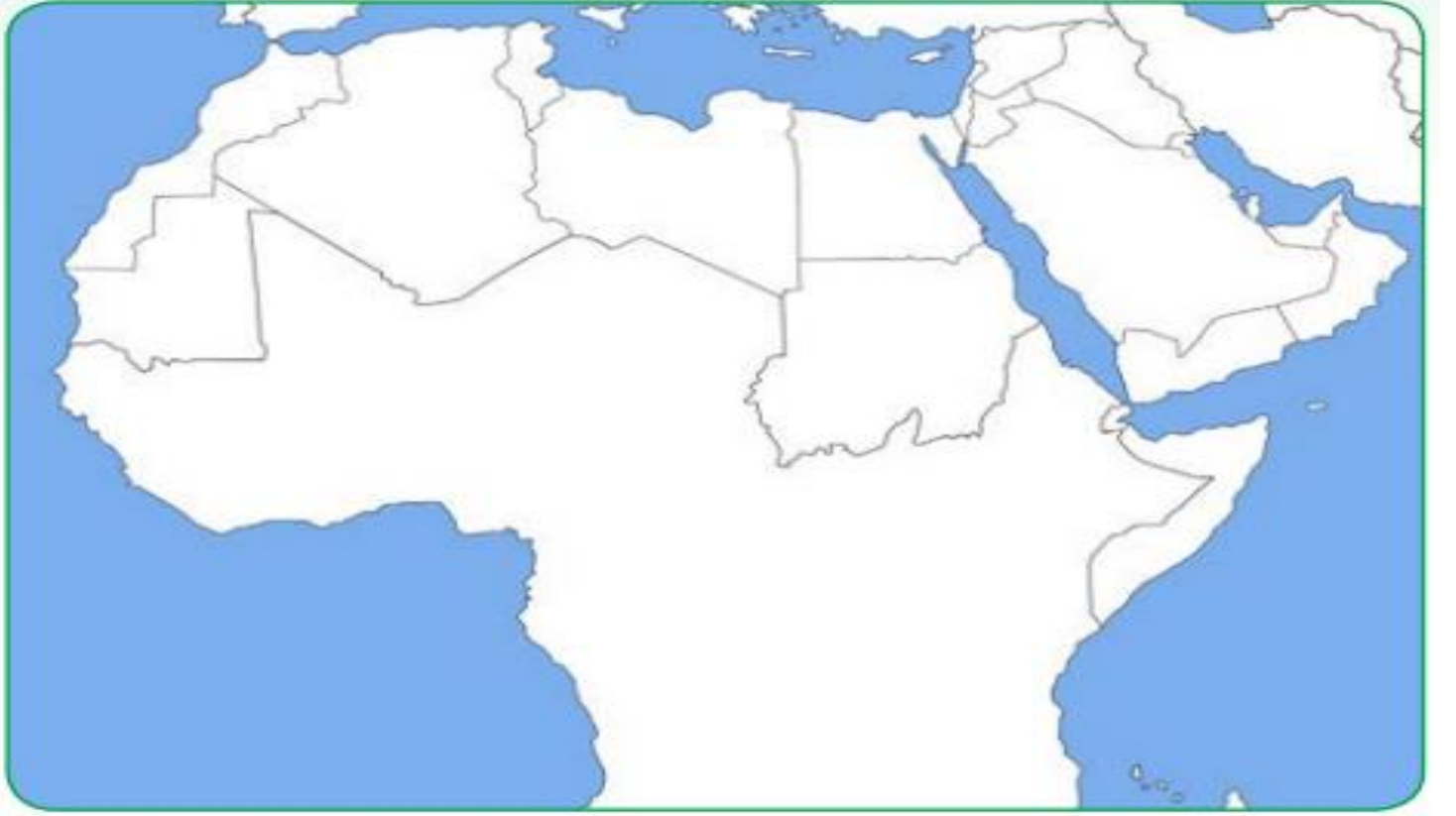
سادساً - صنف الصناعات حسب أنواعها في الجدول التالي

صناعات تحويلية	صناعات استخراجية



توجهت باخرة محملة بالنفط من مدينة الظهران بالسعودية إلى مدينة الدار البيضاء في المغرب عن طريق البحر الأحمر

- ارسم خط سير الباخرة مع ذكر المنافذ البحرية التي يجب أن تمر بها أثناء الرحلة



*

- اقترح وسائل لتنمية التجارة بين الدول العربية

-
-
-



أ - المشكلات المرتبطة بالزراعة

- عدد العقبات او الصعوبات التي تواجه الانتاج الزراعي في الوطن العربي

- ١
- ٢
- ٣
- ٤
- ٥




- علل عدم استغلال الاراضي القابلة للزراعة

- ١
- ٢
- ٣

- علل تلوث التربة الزراعية

- ١
- ٢



نشاط (١) هل تستطيع مساعدة خالد في اقتراح حلول لبعض مشاكل الزراعة في الوطن العربي

- ١
- ٢
- ٣
- ٤

نشاط (٢) اكتب عن اهتمام دولة الكويت بالقطاع الزراعي من خلال زيارة موقع الهيئة العامة

للزراعة والثروة السمكية

- ١
- ٢
- ٣

* مشكلة التصحر

- عرف التصحر :

- تنقسم اسباب التصحر الى اسباب ... - ...



شكل (٩٠)



* فكر واستنتج :

- السودان والصومال وموريتانيا أكثر الدول العربية تهديدا بالتصحر . لماذا ؟

-

- كيف تتحول الأراضي الزراعية الى ارض صحراوية غير منتجة

-



-

- أين تقع الاراضي غير المعرضة للتصحّر في الوطن العربي ؟ ولماذا ؟

-

- من الطرق المهمة لمعالجة مشاكل الزراعة ...

نشاط (٣) ابحث عن مراجع في المكتبة لكتابة تقرير في علاج مشكلة التصحر في الوطن العربي

- طرق التغلب على العقبات التي تواجه الانتاج الزراعي العربي

-١

-٢

-٣

-٤

- ما النتائج المترتبة على استخدام التكنولوجيا الحديثة في الزراعة


-١

-٢

-٣

نشاط (٤) أكتب أنواع المحاصيل الزراعية في الجدول التالي :

محاصيل زراعية يستوردها الوطن العربي من الخارج	محاصيل زراعية ينتجها الوطن العربي



- أسباب تدني وفرة المياه في الوطن العربي

-١

-٢

-٣

-٤

-٥

أجب عن ما يلي :

- ما مصدر المياه المستخدم في منزلك

-

- هل هي معرضة لخطر النقصان ؟ ولماذا ؟

- -

- طرق المحافظة على الثروة المائية

-١


-٢

-٣

-٤

-٥

-٦



- عرف التلوث : هو الضرر الذي يلحق بالتربة والهواء والماء .

- من مصادر التلوث البيئي المصادر ... - ...
- من اكثر الملوثات انتشارا التلوث ... مثل ...
- مصادر الغازات الكيميائية السامة ... - ...
- من مصادر التلوث البيئي ... - ...

نشاط (١) ساعد خالد في الحصول على إجابات للأسئلة التي تدور في ذهنه :

- ما المقصود بالتلوث البيئي ؟ وما أسبابه ؟

-

- اسبابه :

- ما أهم مظاهر التلوث ؟

-

- ما أثر التلوث على الإنسان والنبات والحيوان ؟

-

- ما الحلول المناسبة لمواجهة مشكلة التلوث البيئي برأيك ؟

-

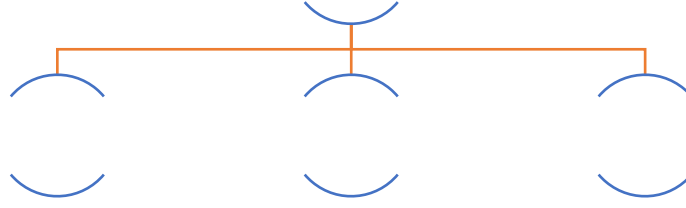
-

-

نشاط (٢) حدد أسباب التلوث في الصور التالية :



أنواع التلوث



- دلل على ان التلوث من اهم واخطر المشاكل التي تواجه العالم

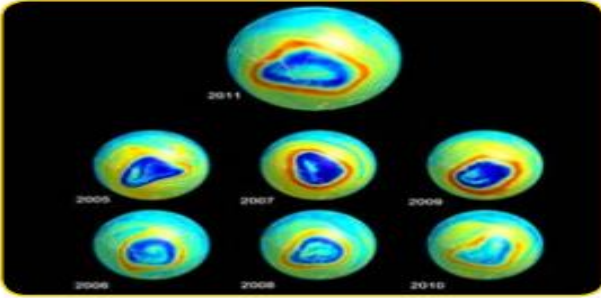
- اكبر مؤتمر لمواجهة التلوث عقدته الامم المتحدة يسمى ...

- العام الذي عقد فيه مؤتمر قمة الارض في ريودي جانيرو (قمة الارض) ...

- عدد الرؤساء الذي حضر مؤتمر ريودي جانيرو...

- الدولة التي عقد بها مؤتمر قمة الارض تسمى...

نشاط (٤) لاحظ الصور التالية واكتب تعليقا مناسباً تحت كل صورة



ثقب في طبقة الأوزون

نتيجة :



شاطئ ملوث بالنفايات

نتيجة :




مصنع لفرز النفايات ومعالجتها

نتيجة :



حرق آبار النفط في دولة الكويت عام ١٩٩١م

نتيجة :



- من المواد التي تؤدي الى ثقب الأوزون المواد ...
- تستخدم المواد الغازية الكلورية في ...
- تحمي طبقة الأوزون الارض من الاشعة ...
- **علل ارتفاع درجة حرارة الارض**

نشاط (٥) هل للإنسان دور في المحافظة على التوازن البيئي؟ أجب مستعيناً بالصور التالية



مصنع بعيد عن المناطق السكنية




أطفال يغرسون الأشجار

- لماذا نسعى إلى وطن أخضر؟
- ما أهمية الأشجار للهواء؟

نشاط (٦) استعن بمهارة خالد في الانترنت لمعرفة المحميات الطبيعية في دول الخليج العربية

الإمارات	سلطنة عمان	البحرين	الكويت	الدولة
-	-	-	-	اسم المحمية
-	-	-	-	

- ما الفائدة من إنشاء المحميات الطبيعية



- عرف التوازن البيئي :

- ما الأعمال السلبية التي يقوم بها بعض الناس وتؤدي إلى الإخلال بالتوازن البيئي

-

- ما مظاهر الإخلال بالتوازن البيئي في دولتك الكويت

-

- عدد طرق الحصول على بيئة فاعلة

- ١

- ٢

- ٣

تنمية الوعي البيئي	توليد طاقة نظيفة	حماية الموارد الطبيعية
-	-	-
-	-	-



شكل (٩٤) صورة توضح مصادر الطاقة المتجددة الشمس والرياح

- تعد الرياح والشمس من مصادر ...




١- التنمية في الوطن العربي

- علل التعاون بين الدول العربية في مجال التنمية

-٢

-١



شكل (٩٥) صورة توضح التعاون العربي

- عرف التنمية :

نشاط (١) هل تؤيد كلام خالد ؟ اذكر السبب

* وسائل وأساليب التنمية في الوطن العربي :

- عدد المحاور التي تركز عليها اساليب التنمية في الوطن العربي

-٣


-٢

-١

- ارسم مخطط سهمي يوضح محاور التنمية في الوطن العربي

التنمية في الوطن العربي





شكل (٩٧) صناعة الزيوت النباتية في المملكة المغربية

شكل (٩٦) استخدام التكنولوجيا في صناعة الأقمار الصناعية

نشاط (١) للتخطيط من أجل التنمية الاقتصادية يجب الاجابة على التساؤلات التالية

- كيف نستثمر الأراضي الزراعية ونستغل المساحات الصالحة للزراعة ...

- كيف نحسن انتاجنا الصناعي استخدام ... في الصناعة

- كيف نستثمر مواردنا المعدنية بدلا من تصديرها خاما ...

- عدد أهداف التنمية الاقتصادية

-١

-٢

ب - التنمية البشرية

- الثروة الحقيقية للأوطان هم ...

- اذكر أهداف التنمية البشرية

-١

-٢

-٣

-٤

-٥



شكل (٩٨)





نشاط (٢) - اذكر بعض البرامج التوعوية التي تحقق أهداف التنمية في دولة الكويت

-١

-٢

-٣

-٤

- عدد المشكلات التي تواجه التنمية البشرية

-١

-٢

-٣

-٤

- ما الأسباب التي تدعو الشباب والعلماء العرب للهجرة إلى الخارج؟ وما الحل برأيك؟

-١

-٢

-٣

-٤

- ما اثر التعليم في المجتمع ثقافيا ونفسيا واجتماعيا

-

- كيف تتصور مجتمعك من دون وجود معلمين ومثقفين

-

ج - التنمية المستدامة :

- عرف التنمية المستدامة :





شكل (٩٩) أهداف التنمية المستدامة

- جوهر التنمية المستدامة :

نشاط (١) بالاستعانة بالشكل رقم (٩٩) استخلص أهداف التنمية المستدامة

١- ٢-

٣- ٤-

نشاط (٢) ابحث وساعد خالد في التعرف على تخصصات أشهر علماء العرب في الخارج

من أشهر علماء العرب في الخارج :

١- الدكتور فاروق الباز :

التخصص :

٢- الدكتور أحمد زويل :

التخصص :





شكل (١٠٠) اجتماع وزراء الخارجية العرب

- عرف التضامن العربي :

أ - دور الجامعة العربية في تحقيق التكامل بين الدول العربية

- أهداف جامعة الدول العربية

- ١
- ٢
- ٣

- عدد اهم المؤسسات الاقتصادية لجامعة الدول العربية

- ١
- ٢

نشاط (١) تعرف على منظمة جامعة الدول العربية عن طريق موقع جامعة الدول العربية



شكل (١٠١)

- عرف جامعة الدول العربية :



- الدولة التي تأسست بها الجامعة العربية هي ...
- المدينة التي تأسست بها جامعة الدول العربية تسمى ...
- عدد الدول المؤسسة لجامعة الدول العربية يبلغ ...
- الدول المؤسسة لجامعة الدول العربية هي ...
- انضمت اليمن لجامعة الدول العربية في ...
- انضمت الكويت لجامعة الدول العربية عام ...
- عدد الدول الاعضاء في جامعة الدول العربية يبلغ ...

ب - مؤسسات التعاون العربي المشترك

- اهم مؤسسات التعاون العربي المشترك تسمى ...

- **علل أهمية الصناديق الإنمائية العربية**

- ١

- ٢

- عدد أهم الصناديق الوطنية على مستوى الدول

- ١

- ٢

- ٣



شكل (١٠٢)



شكل (١٠٤)



شكل (١٠٣)

- تم تأسيس الصندوق الكويتي للتنمية عام ...
- العام الذي تأسس فيه صندوق ابوظبي للتنمية عام ...
- تأسس الصندوق السعودي للتنمية عام ...



- ١

- ٢

- ٣

ج - نموذج التعاون العربي المشترك بين دول ذات انتماء جغرافي



- ابرز نماذج التعاون العربي المشترك ...

نشاط (١) حدد أهم أهداف مجلس التعاون الخليجي

- ١

- ٢

- ٣

- ٤



شكل (١٠٥) قادة دول مجلس التعاون الخليجي



شكل (١٠٦) اجتماعات قادة دول مجلس التعاون الخليجي

- اعلن قيام مجلس التعاون الخليجي في...

- المدينة التي اعلن فيها تأسيس مجلس التعاون الخليجي هي ...

- عدد الدول المؤسسة لمجلس التعاون الخليجي...

- الدول المؤسسة لمجلس التعاون الخليجي ...

... - ... - ... - ... -



د - دور الكويت في العمل العربي المشترك

... - ساهمت الكويت في العمل العربي المشترك ...

- عدد المنظمات العربية التي ساهمت الكويت فيها

- ١

- ٢

- ٣

نشاط (٢) اكتب نبذة مختصرة عن عمل كل منظمة

أ - المنظمة العربية للتنمية الزراعية



- ١

- ٢

- ٣

ب - المنظمة العربية للتنمية الصناعية والتعدين



المنظمة العربية
للتنمية الصناعية والتعدين

- ١

- ٢

- ٣

ج - ألكسو . ما المقصود بها



- اهم المساهمات التي قدمها الصندوق الكويتي للتنمية الاقتصادية العربية


-

-

-

-

-



٣- الصندوق الكويتي للتنمية الاقتصادية العربية

- اول مؤسسة للتنمية في الوطن العربي تسمى ...



الصندوق الكويتي للتنمية الاقتصادية العربية
KUWAIT FUND FOR ARAB ECONOMIC DEVELOPMENT



شكل (١٠٨) الشيخ / جابر الأحمد الصباح - رحمه الله -



شكل (١٠٧) الشيخ / عبد الله سالم الصباح - رحمه الله -

نشاط (١)

- أكمل الفقرة التالية من خلال زيارة موقع الصندوق الكويتي للتنمية الاقتصادية العربية
- تأسس الصندوق الكويتي للتنمية الاقتصادية العربية في عهد الشيخ ...
 - العام الذي تأسس فيه الصندوق الكويتي للتنمية في...
 - صاحب فكرة الصندوق الكويتي للتنمية العربية يسمى الشيخ ...
 - يتبع الصندوق الكويتي للتنمية العربية ...

نشاط (٢) ابحث عن هدف الصندوق الكويتي للتنمية الاقتصادية العربية

-١

-٢

-٣

نشاط (٣) اكتب تقريراً مختصراً لإنجازات الصندوق الكويتي للتنمية في الدول العربية

-١

-٢



أ - القمة العربية الاقتصادية والتنمية والاجتماعية (١٩-٢٠ يناير ٢٠٠٩)

- صاحب فكرة عقد القمة العربية الاقتصادية والتنمية والاجتماعية الشيخ ...

- علل دعى الشيخ صباح الاحمد لعقد القمة الاقتصادية والتنمية والاجتماعية



شكل (١٩) عقد أكبر وأهم مؤتمر قمة عربية منذ تاريخ نشأة جامعة الدول العربية في دولة الكويت يومي ١٩-٢٠ يناير ٢٠٠٩ م .

-١

-٢

-٣

-٤

- اذكر أهم أهداف القمة الاقتصادية والتنمية العربية

-١

-٢

-٣

-٤

- تعرض قطاع عزة لتدمير البنية التحتية بسبب ...

الغاشم عام ...

- كانت أولويات مؤتمر القمة العربية للتنمية الاقتصادية ...

نشاط (١) اقرأ الفقرة السابقة ثم اجب عما يلي

- من صاحب مبادرة عقد القمة العربية الاقتصادية والتنمية والاجتماعية عام ...

الشيخ ...

- ما سبب عقد هذا المؤتمر

-١

-٢

-٣



ب - المؤتمر الدولي للمانحين لدعم الوضع الإنساني في سوريا

(الأول - الثاني - الثالث)

- عقد المؤتمر الاول للمانحين لدعم سوريا عام ... بمبادرة من الشيخ ...



شكل (١١٠) كلمة الشيخ صباح الأحمد الجابر الصباح - طيب الله ثراه - في افتتاح المؤتمر .

نشاط (١) انظر الشكل (١١٠) ثم قم بتحليل الشعار مع زملائك للإجابة عن الاسئلة التالية :

١- اين عقد اول مؤتمر للمانحين لدعم الوضع الإنساني في سوريا في ...

٢- ماذا تمثل صورة اليد التي في الشعار شكل (١١٠)

-

نشاط (٢) بالاستعانة بالإنترنت قم بزيارة الديوان الاميري

أ - ساعد خالد في إكمال المخطط السهمي

المؤتمر الدولي للمانحين لدعم الوضع الإنساني في سوريا

المؤتمر الثالث

- تاريخ الانعقاد
- الدولة التي عقد فيها المؤتمر

المؤتمر الثاني

- تاريخ الانعقاد
- الدولة التي عقد فيها المؤتمر

المؤتمر الأول

- تاريخ الانعقاد
- الدولة التي عقد فيها المؤتمر





ب – اكتب ملخص عن أهم القرارات والتوصيات التي صدرت في مؤتمر المانحين الثاني والثالث من خلال زيارتك لموقع الديوان الاميري

- ١

- ٢

- ٣

نشاط (٣)

ماذا تستنتج من استضافة دولة الكويت لمؤتمر المانحين (الاول – الثاني – الثالث)

-



١- كيف تحافظ على نعمة المياه ؟ وما دورك كمواطن في ذلك

صنف ثلاثة أعمال على الأقل يمكن أن تقوم بها للحد من الإسراف

أفعل	أفعل	أفعل	الأعمال التي أقوم بها للحد من الإسراف في المياه

٢- ما أثر سوء استهلاك المياه على هذه الثروة مستقبلا ؟

-

٣- ماذا نقصد بترشيد الاستهلاك ؟

-

٤- بالتعاون مع زملائك خطط لحملة تحت على ترشيد استخدام المياه سجل الخطة في مجموعة من الخطوات

-

-

-

-

٥- هل استطاع الإنسان العربي مواجهة مشكلة المياه في الوقت الراهن ؟ كيف ؟ وما الاساليب الذي اتبعها ؟

-

-

-

-



٦- هل استطاع الإنسان العربي الاستفادة من مياه البحار المالحة؟ كيف؟ ما الآثار الإيجابية والسلبية لذلك

-

-

- الإيجابية :

- السلبية :

٧- ما أثر التصحر والزحف العمراني على تلوث البيئة

-

-

-

٨ - ما دورك في المحافظة على البيئة

-

-

-

٩- كيف تتعامل مع النفايات المنزلية للمساعدة في المحافظة على البيئة

-

-

-

١٠- ما أهم مخاطر التدهور البيئي في العالم

-

-

-

-



- في الجدول التالي أكمل المطلوب :

وسائل تحقيقه	مفهوم التضامن العربي
-	-
-	-


أكمل الفراغات في العبارات التالية

- ١- عملية تتطلب التخطيط والمشاركة من الجميع تسمى ...
- ٢- عقد أكبر مؤتمر قمة عربية اقتصادية منذ نشأة جامعة الدول العربية في دولة تسمى ...
- ٣- تقع المنظمة العربية للتنمية الزراعية في دولة تسمى ...
- ٤- أعلن عن قيام مجلس التعاون الخليجي في ٢٥ مايو عام...
- ٥- ارتكزت عملية التنمية في الوطن العربي على ثلاث محاور هي : التنمية الاقتصادية ...
- ...
- ٦- تأسس الصندوق الكويتي للتنمية الاقتصادية العربية في عهد الشيخ ...
- ٧- تم إنشاء الصندوق الكويتي للتنمية الاقتصادية العربية ٣١ ديسمبر عام ...

- أجب عما يلي :

١- ما مفهوم التنمية المستدامة ؟

٢- هل يمكن أن تشارك كمواطن عربي في مشاريع التنمية المستدامة ؟ كيف؟ اذكر أمثلة على ذلك



٣- كيف يمكن تحقيق تنمية اقتصادية عربية مستقبل افضل من وجهة نظرك ؟

-

-

-

٤- ما أهم المشكلات التي تواجه عمليات التنمية الاقتصادية في الوطن العربي

-١

-٢

-٣

-٤

٥- ما الهدف من تطوير قطاع الزراعة والصناعة في الوطن العربي ؟

-

-

٦- تتبع أحد مجالس التعاون لدول مجلس التعاون الخليجي واذكر أهم قراراته

* القمة الخليجية في الكويت عام ٢٠٠٩

-١

-٢

٧- اقترح بعض المشروعات الاقتصادية التي يمكن تحقيقها بواسطة الوحدة العربية

-١

-٢

-٣

-٤



٨- عدد أهداف التنمية الاقتصادية

-١

-٢

٩- ما التحديات التي تواجه التنمية البشرية

-١

-٢

-٣

-٤

١٠- ما أهداف التنمية المستدامة

-١

-٢

-٣

-٤

١١- ما الإنجازات التي قدمها الصندوق الكويتي للتنمية للدول العربية

-١

-٢

١٢- عدد أهداف الصندوق الكويتي للتنمية

-١

-٢

-٣

تم بعون الله

