

الدرس الأول : البيئة الطبيعية في الوطن العربي

أ – تعريف الوطن العربي

ابحث وتعلم :



شكل (١) موقع الوطن العربي على خريطة العالم

- نشاط (١) لاحظ الخريطة شكل (١) ثم شارك زملاءك في الإجابة عن الأسئلة التي تليها

علام يدل اللون الأصفر في الخريطة

-

ما اسم القارات التي يمتد فيها وطننا العربي ؟

-

ما موقع الوطن العربي بالنسبة إلى قارات العالم ؟

-

- نشاط (٢) لاحظ الجدول

الدولة	اللغة الرسمية	الدين
الكويت	اللغة العربية	الإسلام
المملكة المغربية	اللغة العربية	الإسلام
المملكة الأردنية	اللغة العربية	الإسلام

- ماذا نستنتج من الجدول السابق ؟

- نشاط (٣) من خلال نشاط (١) ونشاط (٢) أوجد تعريفا للوطن العربي حسب رأيك

- تعريف الوطن العربي : مجموعة من الدول العربية التي يجمعها عدد من السمات المشتركة (الدين واللغة) ويمتد ضمن قارتين من اكبر قارات العالم مساحة

- السمات المشتركة التي تجمع الدول العربية ... - ...

- القارات التي يمتد فيها الوطن العربي ... - ...

ب - دول الوطن العربي



شكل (٢) خريطة الوطن العربي السياسية

- يبلغ عدد دول الوطن العربي ...
- يبلغ عدد الدول العربية الافريقية ...
- يبلغ عدد الدول العربية الاسيوية ...
- يوجد القسم الاكبر من الوطن العربي في قارة... .
- يوجد القسم الاصغر من الوطن العربي في قارة ...
- يعتبر الجانب العربي الافريقي ... الجانب العربي الاسيوي
- يعتبر الجانب العربي الاسيوي ... الجانب العربي الافريقي
- البحر الذي يفصل الجناح العربي الافريقي عن الجناح العربي الاسيوي يسمى ...
- الدولة العربية التي تقع خارج نطاق موقع الوطن العربي دولة ...



- عدد الجزر التي تتكون منها دولة جزر القمر تبلغ ...
- المحيط التي تقع فيه دولة جزر القمر يسمى ...
- تقع دولة جزر القمر شمال غرب جزيرة... .
- عاصمة دولة جزر القمر تسمى ...
- انضمت دولة جزر القمر لجامعة الدول العربية عام ...

نشاط (١)

صنف الدول العربية الاسيوية والدول العربية الافريقية في الجدول التالي :

الدول العربية الأفريقية		الدول العربية الآسيوية	
-	أكبر دولة عربية	-	أكبر دولة عربية
-	أصغر دولة عربية	-	أصغر دولة عربية

- نسبة مساحة الوطن العربي من اجمالي مساحة العالم تقدر ب ...
- تبلغ مساحة الوطن العربي حوالي ...
- الدولة التي انفصلت عن دولة السودان تسمى دولة... .

نشاط (٢)

استعن بالشكل رقم (٢) ثم اجب عما يلي :

اسم البحر الذي يفصل الجناح الاسيوي عن الجناح الأفريقي ؟

...

ما الدولة التي انضمت حديثا لجامعة الدول العربية ؟

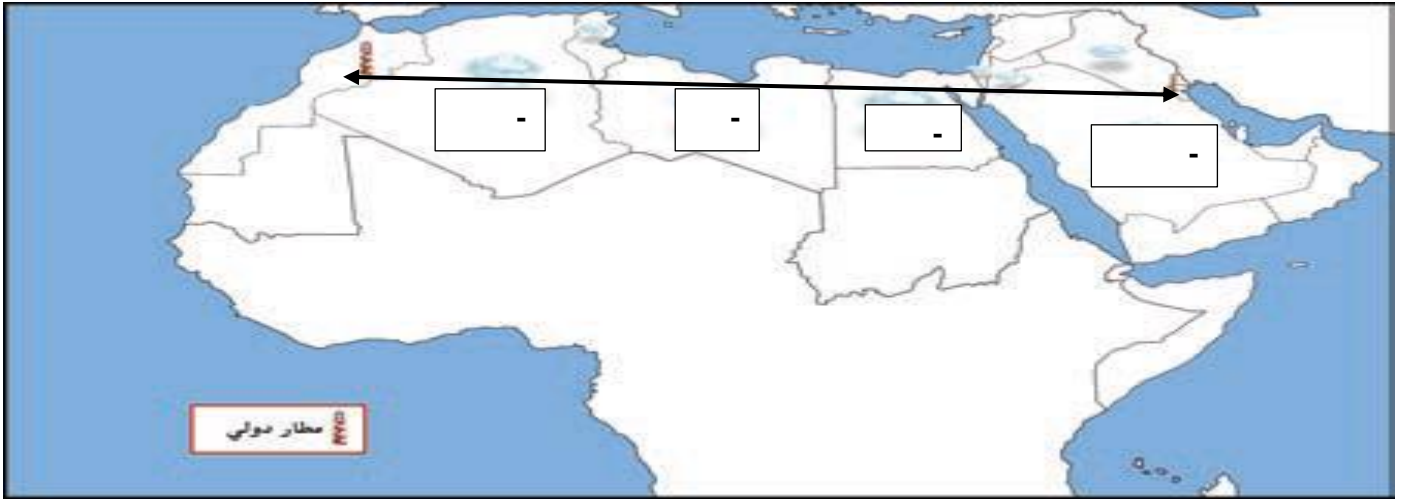
...

نشاط (٣)

أراد خالد السفر من مطار الكويت الدولي الى مطار المغرب الدولي

- هل تستطيع مساعدة خالد في رسم مسار رحلة الطائرة على الخريطة ؟
- اكتب اسماء الدول العربية التي سوف تمر الطائرة في اجوائها على الخريطة .







(... - ... - ... - ...)













نشاط (٤)

بالاستعانة بالأطلس المدرسي وشبكة الانترنت تعرف على أسماء الدول العربية وعواصمها

العلم	العلم	العلم	العلم	العلم	العلم	العلم
-	-	-	-	-	-	اسم الدولة العربية
-	-	-	-	-	-	عاصمتها

						العلم
-	-	-	-	-	-	اسم الدولة العربية
-	-	-	-	-	-	عاصمتها

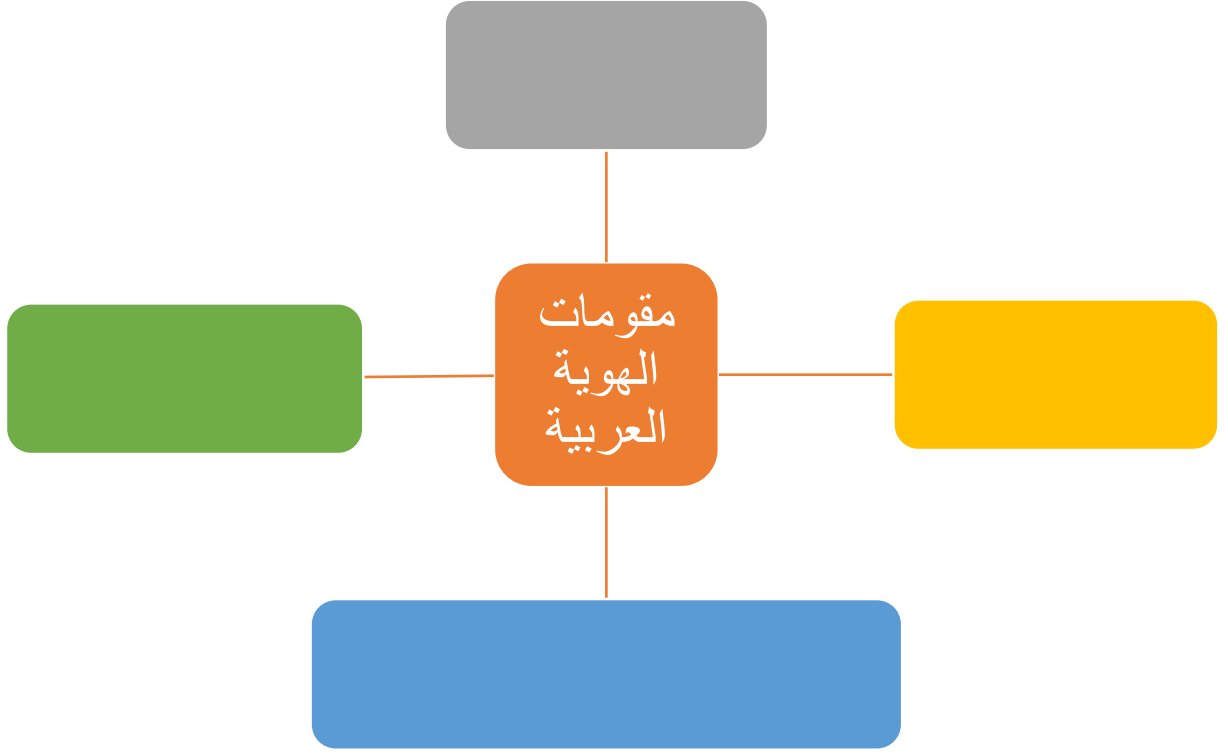
						العلم
-	-	-	-	-	-	اسم الدولة العربية
-	-	-	-	-	-	عاصمتها

				العلم
-	-	-	-	اسم الدولة العربية
-	-	-	-	عاصمتها

ج - هوية الوطن العربي

- نشاط (١)

أكمل المخطط السهمي التالي بعد الاستعانة بالفقرة السابقة



- عدد مقومات الهوية العربية

-٢

-١

-٤

-٣

نشاط (٢)

ساعد خالد في كتابة رسالة إلى احد اصدقائه في الخارج يبين فيها أهم العادات والتقاليد العربية في الوطن العربي

الدرس الثاني : موقع الوطن العربي

أ - موقع الوطن العربي وحدوده

- الموقع الاستراتيجي :

- المسطحات المائية :

- القناة :

- المضيق :



شكل (٤) خريطة توضح الموقع الاستراتيجي للوطن العربي

نشاط (١) استعن بالشكل رقم (٤) ثم أجب عما يلي

ما الصفات الأساسية التي يتمتع بها موقع الوطن العربي ؟





-
-
-

في اي قارة يمتد القسم الأكبر من الوطن العربي

-

نشاط (٢)

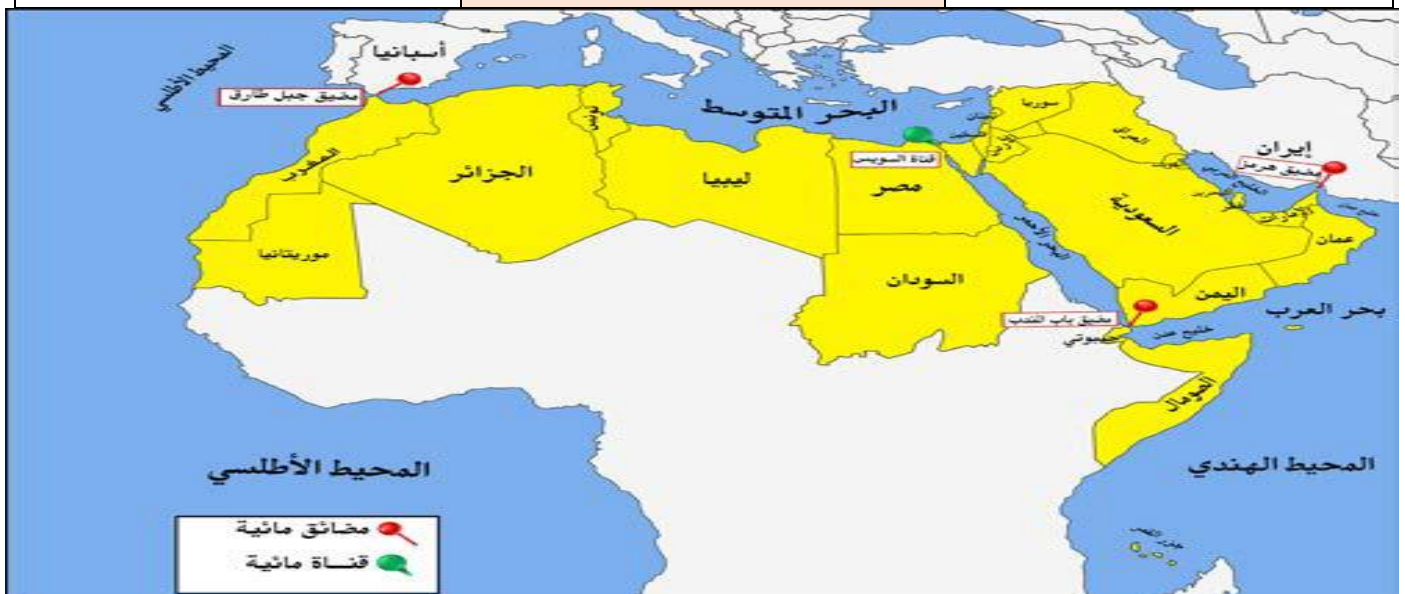
ساعد خالداً في التعرف على أسماء المضائق والممرات وكذلك أسماء المسطحات المائية التي تتصل بها

			
مضيق ... وهذا المضيق يصل بين البحر ... والمحيط ...	قناة ... وهذه القناة تصل بين البحر ... والبحر ...	مضيق ... وهذا المضيق يصل بين خليج ... والبحر ...	مضيق ... وهذا المضيق يصل بين الخليج ... وخليج ...

نشاط (٣)

صنف المسطحات المائية للوطن العربي من خلال خريطة شكل (٤) حسب الجدول التالي

محيطات	خلجان	بحار
-١	-١	-١
-٢	-٢	-٢
	-٣	-٣

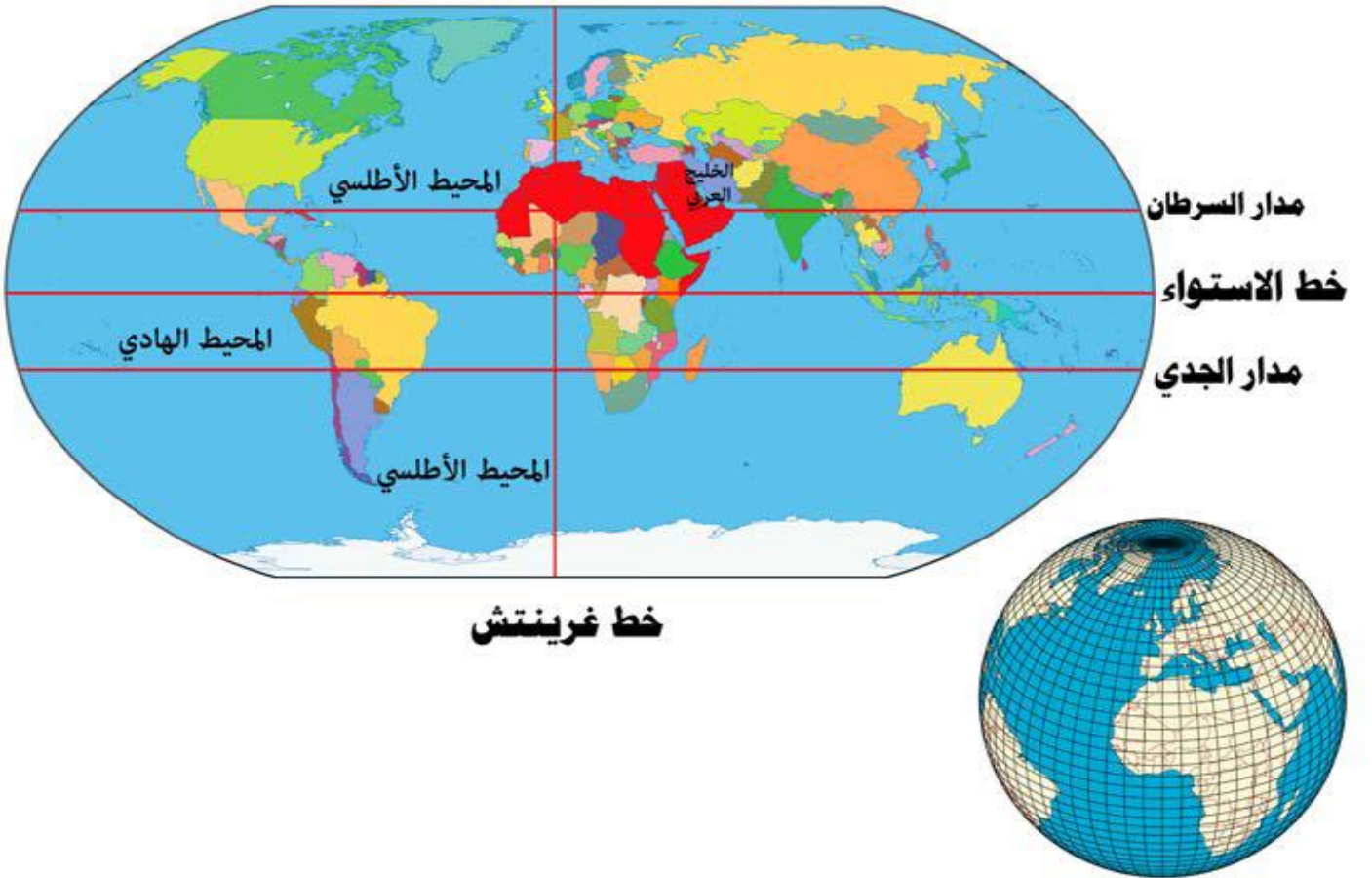


ب - الموقع الفلكي للوطن العربي

- خطوط الطول ودوائر العرض :

- الموقع الفلكي :

- يمتد الوطن العربي من ... غربا الى ... شرقا
ومن ... جنوبا الى ... شمالاً
- يحد الوطن العربي من جهة الغرب ...
- يحد الوطن العربي من جهة الشرق ...
- يحد الوطن العربي من جهة الجنوب ...
- يحد الوطن العربي من جهة الشمال ...



شكل (٥) خريطة توضح خطوط الطول ودوائر العرض

نشاط (١)

قارن بين خطوط الطول ودوائر العرض حسب الجدول التالي :

دوائر العرض	خطوط الطول	وجه المقارنة
		التعريف
		العدد
		الخط الرئيسي
		مميزاته

نشاط (٢)

من خلال شكل رقم (٥) أفكر ثم أجيب

...	ما الدولة العربية التي يمر بها خط الاستواء
...	ما الدولة العربية التي يمر بها خط جرينتش

ج - الموقع النسبي للوطن العربي

- الموقع النسبي :



شكل (٦) الخريطة السياسية للوطن العربي

نشاط (١)

لاحظ الشكل رقم (٦) ثم أجب عما يليه

ما القارة المجاورة للوطن العربي من جهة الشمال؟

...

ما المسطح المائي الذي يحده الوطن العربي من جهة الغرب

...

نشاط (٢)

بمساعدة معلمك استعن ببرنامج google earth لتحديد ما يلي :

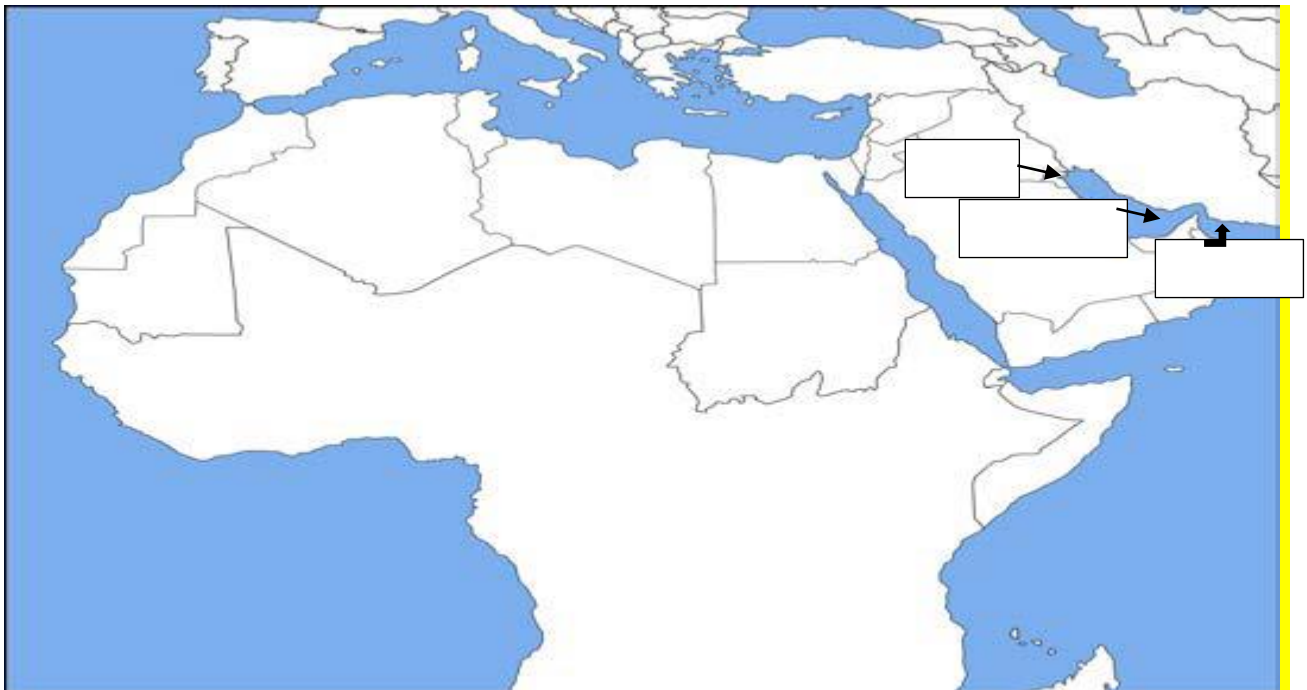
- موقع الوطن العربي بالنسبة لقارة اسيا وأفريقيا

قارة اسيا : ... قارة افريقيا : ...

- موقع بلادك الكويت على الخريطة

- اكتب أسماء المسطحات المائية التي تحده الوطن العربي من الشرق والجنوب الشرقي على الخريطة

- ظلل الحدود الجنوبية البرية للوطن العربي على الخريطة باللون الأصفر



- تنقسم حدود الوطن الى حدود ... - ...

- يحده الوطن العربي من جهة الشمال ... - ...

- يحده الوطن العربي من جهة الشرق ... - ...

- يحده الوطن العربي من جهة الغرب ...

د - أهمية موقع الوطن العربي

- علل أهمية موقع الوطن العربي

-٢

-١

-٣

- علل الأهمية الجغرافية لموقع الوطن العربي

-١

-٢

- ما النتائج المترتبة على الموقع الجغرافي للوطن العربي

-١

-٢

- علل قاومت الدول العربية الاستعمار

-١

- علل الأهمية الاقتصادية للوطن العربي

-١

-٢

-٣

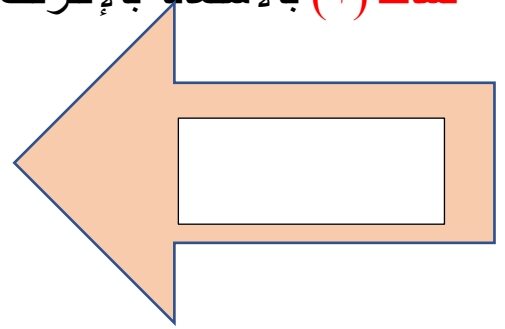
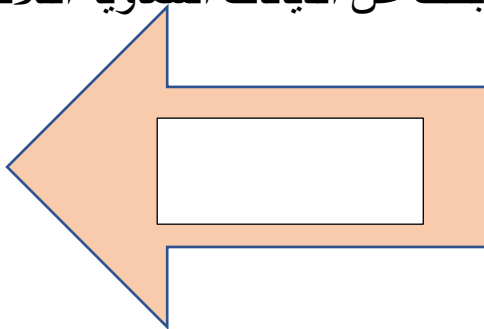
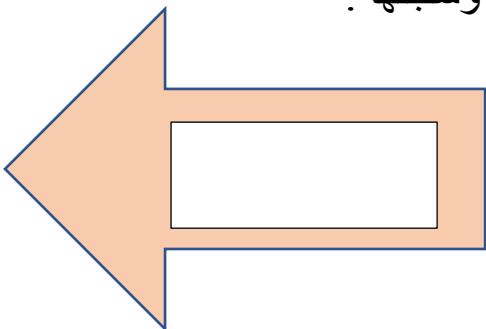
-٤

- علل الأهمية الحضارية والثقافية للوطن العربي

-١

-٢

نشاط (١) بالاستعانة بالإنترنت ابحث عن الديانات السماوية الثلاث وسجلها .



الدرس الثالث : ملامح السطح في الوطن العربي



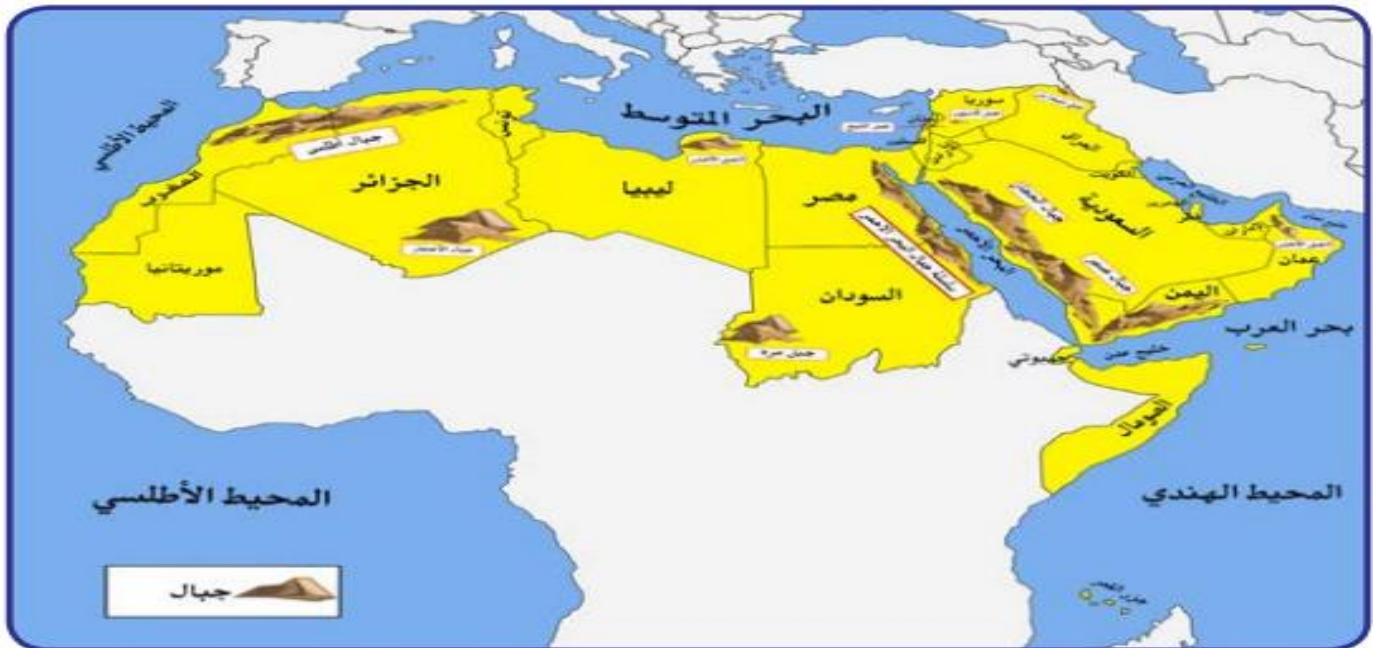
شكل (٧) مظاهر السطح

نشاط (١)

شارك زملاءك في التمييز بين ملامح السطح في شكل (٧) حسب الجدول التالي

الوديان	السهول	الهضاب	الجبال	أوجه المقارنة
				التعريف

أ - الجبال في الوطن العربي



شكل (٨) خريطة توضح الجبال في الوطن العربي

- الجبل :

وإذا قل الارتفاع عن ١٠٠٠م يسمى ...

تعرف على الجبال التي تقع في الوطن العربي في الجناح الآسيوي والأفريقي **نشاط (١)**

الجناح الافريقي		الجناح الآسيوي	
اسم الدولة التي يقع فيها الجبل	اسم الجبل	اسم الدولة التي يقع فيها الجبل	اسم الجبل
-	-١	-	-١
-	-٢	-	-٢
-	-٣	-	-٣

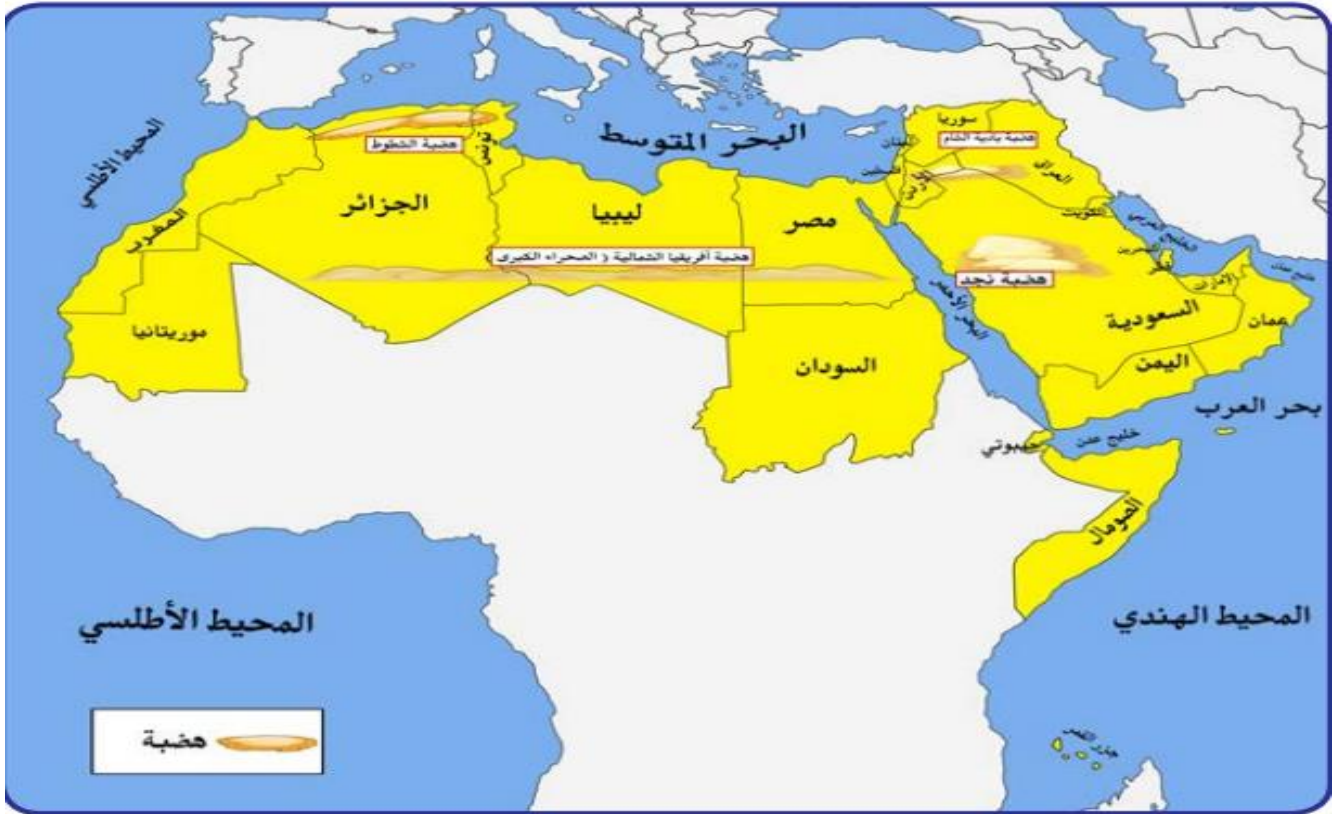
نشاط (٢) باستخدام google earth ابحث عن صور ومعلومات عن بعض الجبال في الوطن العربي

معلومات عن الجبل	صورة الجبل	الدولة	اسم الجبل
		السودان	١- جبل مرة
			٢- جبال اطلس
			٣- جبال عسير
			٤- جبل قاسيون

ب - الهضاب في الوطن العربي

- الهضبة :

- اكثر الأشكال التضاريسية انتشاراً في الوطن العربي تسمى ...
- ظاهرة تضاريسية تغطي معظم الوطن العربي وتمتد من الشرق الى الغرب تسمى ...
- تنقسم هضاب الوطن العربي الى هضبة ...
- هضبة ...
- أو ...



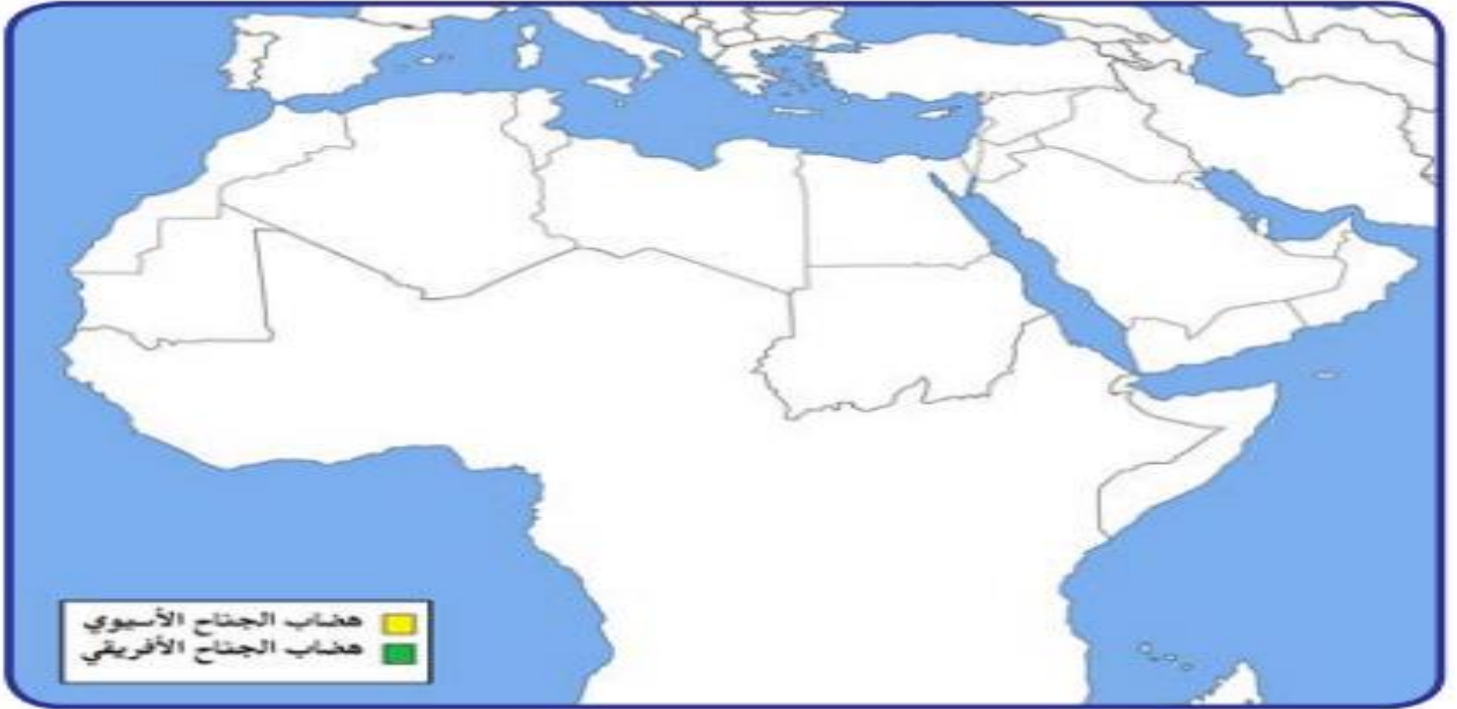
نشاط (١)

تعرف على أهم الهضاب التي تقع في الوطن العربي في الجناح الآسيوي والأفريقي

أهم الهضاب في الوطن العربي في الجناح الأفريقي		أهم الهضاب في الوطن العربي في الجناح الآسيوي	
اسم الدولة التي تقع فيها الهضبة	اسم الهضبة	اسم الدولة التي تقع فيها الهضبة	اسم الهضبة
-	١-	-	١- نجد
-	٢-	-	٢- بادية الشام

نشاط (٢)

ارسم الهضاب على خريطة الوطن العربي الصماء ثم لون هضاب الجناح الآسيوي باللون الأصفر وهضاب الجناح الأفريقي باللون الأخضر



ج - السهول في الوطن العربي

- عرف السهول :

- اذكر أنواع السهول في الوطن العربي

-١

-٢

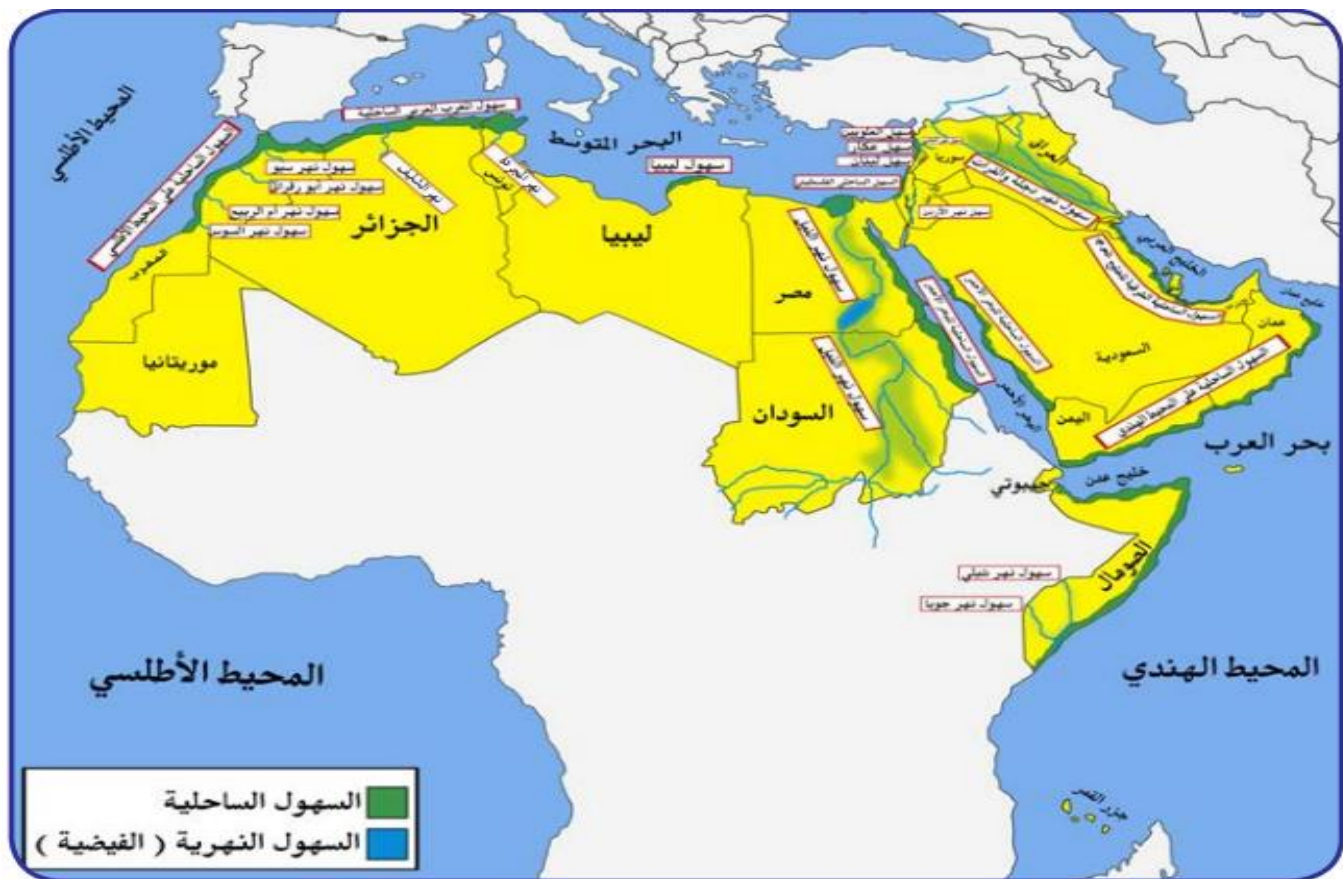
- اكمل من أنواع السهول في الوطن العربي ... -

- عرف السهول الفيضية (النهرية) :

- عرف السهول الساحلية : هي الاراضي المنبسطة التي تجاور سواحل البحار والمحيطات

- توجد السهول الساحلية على سواحل ... -

- توجد السهول الفيضية على ...



أهم السهول في الوطن العربي في الجناح الافريقي			أهم السهول في الوطن العربي في الجناح الاسيوي		
الدولة التي يقع فيها السهل	نوعه	اسم السهل	الدولة التي يقع فيها السهل	نوعه	اسم السهل

الدرس الرابع : المناخ في الوطن العربي

أ – ما المقصود بالمناخ ؟ وما الفرق بين الطقس والمناخ

- عرف المناخ :

- عرف الطقس :

- عرف الضغط الجوي :



شكل (١١)

من خلال ملاحظة الشكل (١١) تعرف على حالة الطقس في هاتين الدولتين العربيتين خلال الـ ٢٤ ساعة القادمة بعد كتابة اسم الدولتين تحت العلمين



...



...

نشاط (٢)

من خلال ملاحظة الصور التالية :-

تعرف على عناصر المناخ في المخطط السهمي :



نشاط (٣)

استعن بمكتبة المدرسة في كتابة تقارير عن الضغط الجوي كأحد عناصر المناخ

ب - العوامل التي تؤثر في مناخ الوطن العربي

- عدد العوامل المؤثرة في مناخ الوطن العربي

-١

-٢

-٣

-٤

- علل الأماكن القريبة من خط الاستواء تتميز بارتفاع درجة الحرارة

-

- عرف الإقليم :

- علل المدن الساحلية أكثر اعتدالاً صيفاً وأدفاً شتاءً

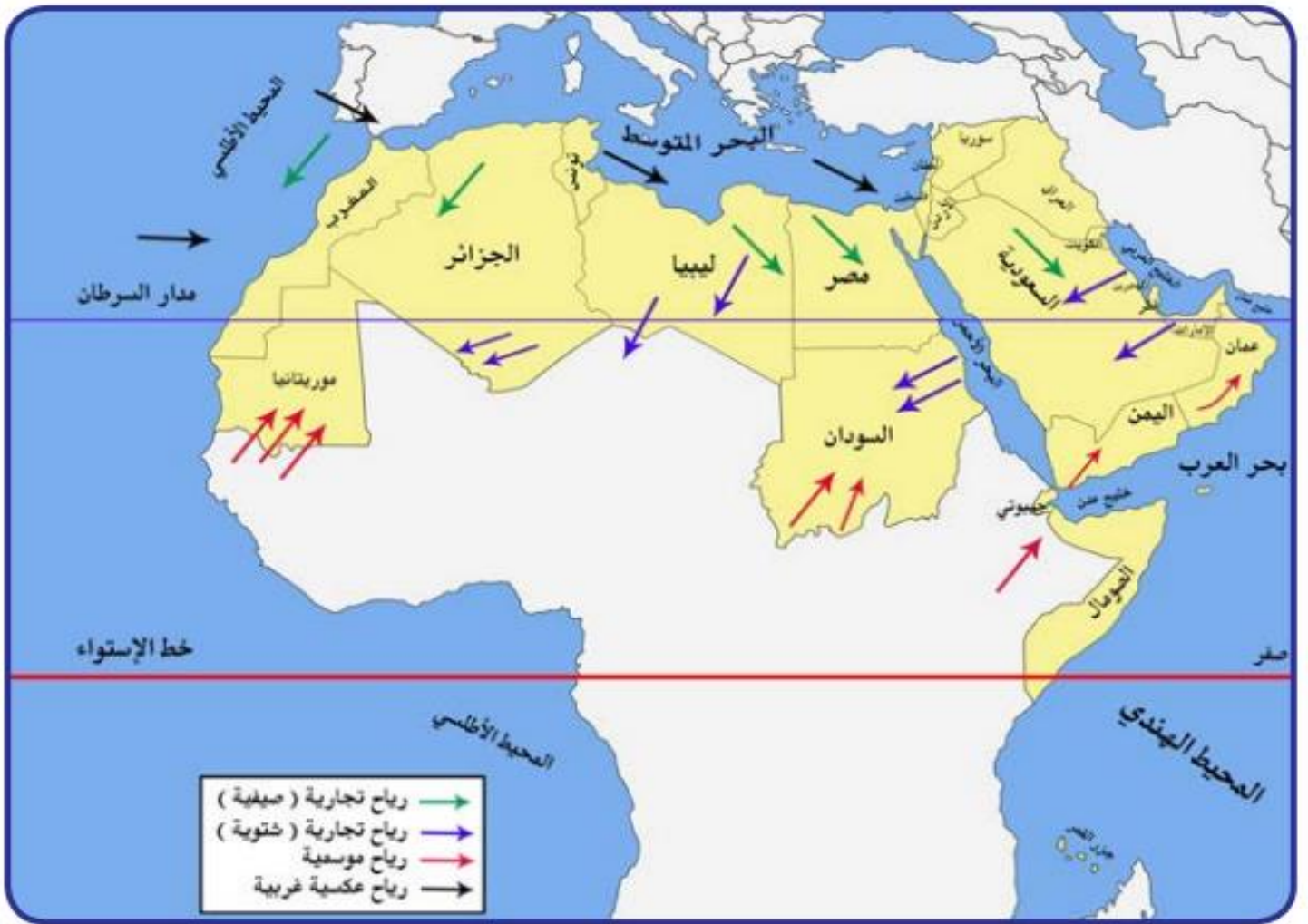
-

- اذكر تأثير التضاريس في المناخ

- ما النتائج المترتبة على هبوب الرياح من منطقة حارة

- ما النتائج المترتبة على هبوب الرياح من منطقة باردة

- علل سقوط الامطار من الرياح التي تمر على البحار وعدم سقوطها من التي تمر على اليابس



شكل (١٢) خريطة توضح الرياح الصيفية و الشتوية في الوطن العربي



شكل (١٣) خريطة توضح الرياح المحلية في الوطن العربي

نشاط (١)

شارك زملاك في التعرف إلى أسماء الرياح المحلية التي تهب على دول الوطن العربي مستعينا بالخريطة شكل (١٣) ثم أكمل الجدول التالي

الدولة	أسم الرياح المحلية

ج - مناخ الوطن العربي في فصل الصيف والشتاء

- في فصل الصيف

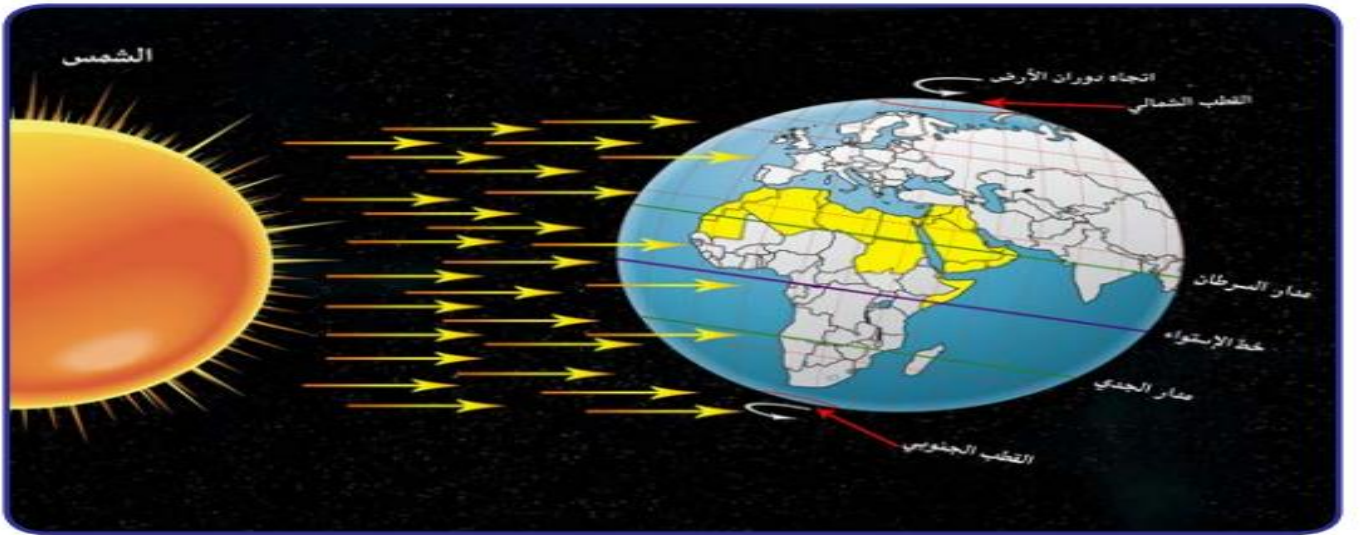
- في فصل الشتاء

- ما النتائج المترتبة على تعامد الشمس على مدار السرطان صيفا

-

- ما النتائج المترتبة على تعامد الشمس على مدار الجدي شتاء

-



شكل (١٤) أشعة الشمس و مُتَاخ الوطن العربي

نشاط (١)

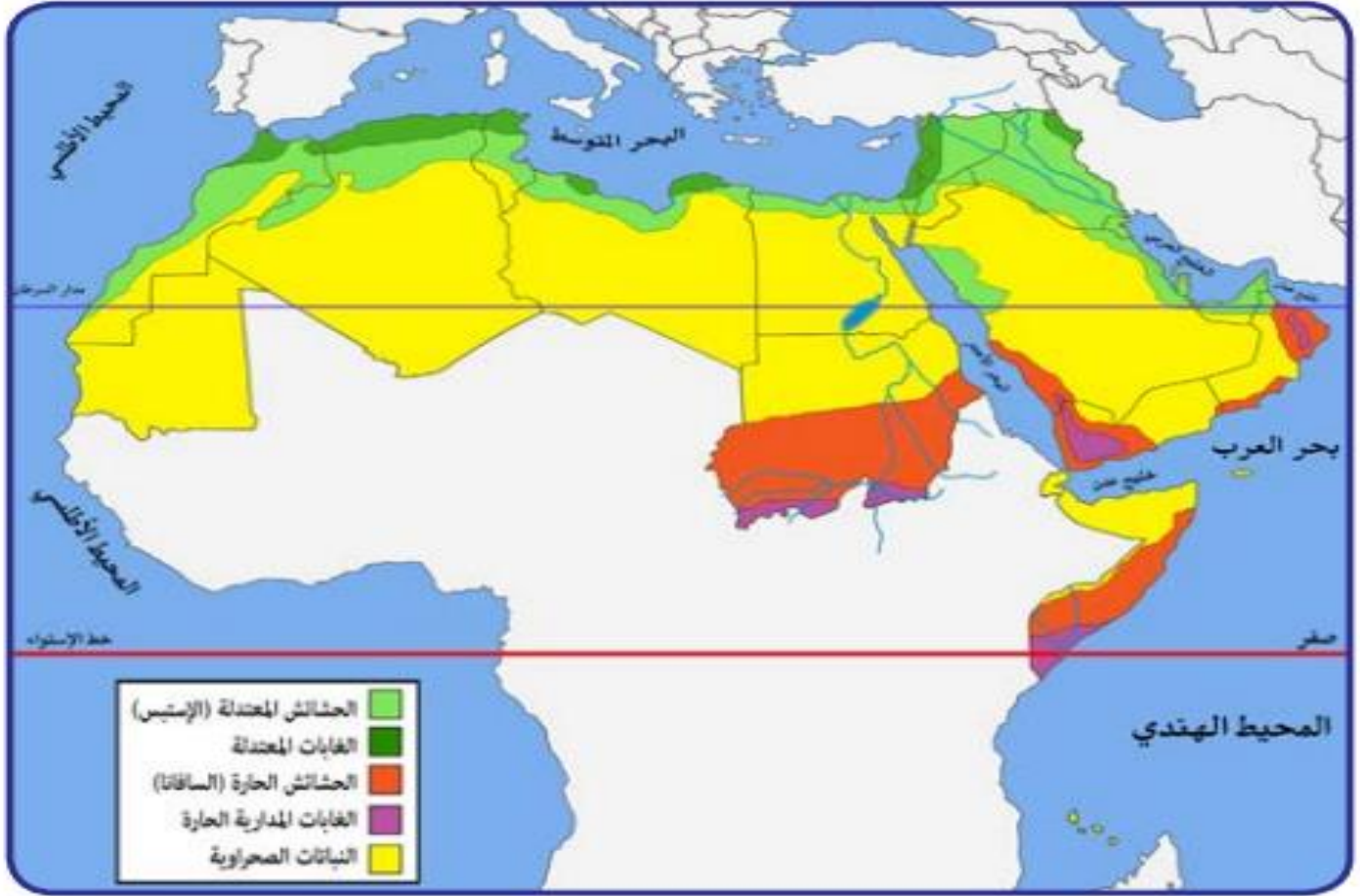
اكتب تقرير عن مناخ الوطن العربي

في فصل الشتاء	في فصل الصيف

الدرس الخامس النبات الطبيعي في الوطن العربي

أ - العوامل الرئيسية المؤثرة في تنوع النبات الطبيعي في الوطن العربي

- عرف النبات الطبيعي :



شكل (١٥) خريطة توضح توزيع النبات الطبيعي في الوطن العربي

- علل تنوع النبات الطبيعي في الوطن العربي

أو عدد العوامل المؤثرة في تنوع النبات الطبيعي في الوطن العربي

-٢

-١

- علل أهمية التربة بالنسبة للنبات

-

- علل تنوع النباتات الطبيعية في الوطن العربي أو تأثير المناخ في تنوع النباتات

-١

-٢

ب - الحياة النباتية في الوطن العربي

- ارسم مخطط سهمي يوضح انواع النبات الطبيعي في الوطن العربي

- ... - تنقسم الحياة النباتية في الوطن العربي الى ...
- ... - تنقسم الغابات في الوطن العربي الى الغابات ...
- ... - تنقسم الحشائش في الوطن العربي الى الحشائش ...



- اكتب عن الغابات المدارية الحارة

- ١

- ٢

- ٣

- ٤

- اكتب عن الغابات المعتدلة

- ١

- ٢

- ٣

- ٤



- علل اختلاف أنواع حشائش السافانا



- تنقسم السافانا الى ... - ... - ...

- تستخدم السافانا في ...

- تنمو حشائش الاستبس في فصل ...

- تعرف حشائش الاستبس في المغرب باسم ...

- تستخدم حشائش الاستبس في صناعة ... - ... - ...

- تستخدم الاستبس في تربية ... - ... - ...

- اذكر وسائل النباتات الصحراوية لمقاومة الجفاف

- ١

- ٢

- ٣

نشاط (١)

لاحظ خريطة شكل (١٥) ثم اكمل الجدول التالي

التوزيع الجغرافي (أين تنتشر؟)	نوع
	الغابات المدارية (الحارة)
	الغابات المعتدلة
	الحشائش الحارة (السافانا)
	الحشائش المعتدلة (الأستبس)
	نباتات صحراوية

نشاط (٢)

بعد النظر إلى المخطط السهمي السابق ص ٥٢ وقراءته فرق بين الغابات المدارية الحارة والغابات المعتدلة

وجه المقارنة	الغابات المدارية الحارة	الغابات المعتدلة
أهم اشجارها		
مميزات اشجارها		
استخداماتها		

نشاط (٣)

من خلال ملاحظة الشكل (١٦) و (١٧) استنتج أهم الخصائص النباتية للنباتات الصحراوية



شكل (١٧) نبات الصبار



شكل (١٦) نبات النخيل

-١

-٢

- من اهم الحيوانات السائدة في المناطق الصحراوية ...
- من الطيور في المناطق الصحراوية ...
- من انواع الحشرات في المناطق الصحراوية ...
- من الحيوانات القارضة في المناطق الصحراوية ...



الضب



الحبارى



العقرب



الجربوع

نشاط (٢)



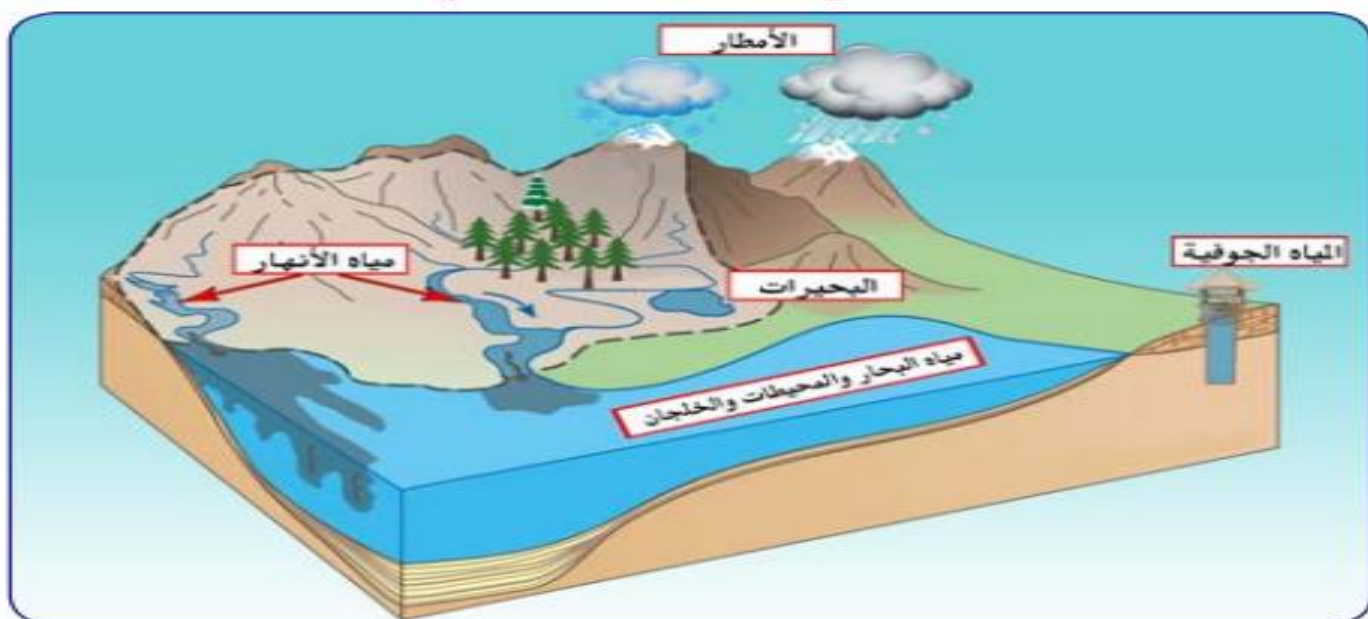
لاحظ الصورة التي امامك ثم ساعد خالد على الإجابة

ما اسم هذا الحيوان ؟ ...

ما لقب هذا الحيوان ؟ ...

ما الصفات التي يمتاز بها ؟ ...

الدرس السادس الثروة المائية في الوطن العربي



شكل (١٩) يوضح أهم مصادر المياه في الوطن العربي

نشاط (١)

أكمل المخطط السهمي مستعينا بشكل (١٩)



- أهم مصادر المياه في الوطن العربي وتتميز بأنها مياه عذبة هي مياه ...

- عرف **النهر** :

- عدد مميزات الأمطار في الوطن العربي

- ١

- ٢

- ٣

- من أشكال المياه الجوفية في الوطن العربي ... - ...

- المناطق التي تنتشر فيها المياه الجوفية تسمى ...

- عرف المياه الجوفية :

- عرف الأفلاج :

نشاط (١) فكر ثم أجب

ما مصادر المياه الجوفية ؟ ... - ...

أين تكثر الآبار الجوفية ؟ ...

- عرف البحيرات :

نشاط (١) مستعيناً بالمكتبة المدرسية اكتب تقريراً عن أهم البحيرات في الوطن العربي

- علل تحلية مياه البحار المالحة في بعض الدول العربية

-

- الدولة العربية التي تعتمد على تحلية المياه بشكل كامل منذ عام ١٩٥٣ تسمى ...

- اعتمدت الكويت على تحلية مياه البحر منذ عام ...

- المحطة الكبيرة لتحلية المياه التي انشأتها الكويت عام ١٩٣٥ تسمى محطة ...

- المنطقة التي تنتشر بها محطات تحلية المياه في السعودية تسمى ...

- من محطات تحلية المياه في قطر محطة ... - ...

- من الدول التي تنتشر بها محطات تحلية المياه ... - ...



شكل (٢١) محطة الدوحة لتحلية المياه بالكويت

نشاط (١) أجب عن ما يلي
عدد أهم محطات تحلية المياه في دولة الكويت .

... - ... - ... - ... - ...

أي مصدر من مصادر المياه تعتمد عليه دولة الكويت ؟ ولماذا ؟

ما المسطحات المائية التي تعتمد عليها دول الخليج العربية في تحلية المياه ؟

... - ...

نشاط (٢)

قام خالد بزيارة محطة لتحلية المياه واطلع هناك على بعض الاحصائيات لاستخدام بعض الدول للمياه المحلاة وكان له بعض التساؤلات اجب عنها بإطلاعات خارجية بمساعدة معلمك

١- ما أكثر الدول إنتاجا للمياه المحلاة ؟ ولماذا ؟

- ...

٢- بماذا تفسر اتجاه عدد من الدول العربية الى البحار لتأمين حاجاتها من المياه العذبة

-١

-٢

٢- ترشيد استخدام المياه

- عدد طرق الحفاظ على الثروة المائية وتخفيف مشكلة المياه

-١

-٢

-٣

-٤

-٥

-٦

- علل استخدام والوسائل الحديثة في الري

-

- من طرق الري الحديثة الري ... - ... - ...

نشاط (١)

عمل تعاوني : شارك زملاك في تخطيط حملة تحت على ترشيد استخدام المياه

اسم الحملة : ...

صمم بطاقة نصائح تحت على ترشيد استخدام المياه

-

-

-



تقويم الوحدة الأولى

أولاً – أكمل الفراغات التالية :

- ١- يمتد الوطن العربي في قارة آسيا وقارة ...
- ٢- أكبر دولة عربية في الجناح العربي الآسيوي هي ...
- ٣- الدائرة العرضية الرئيسية التي تقسم الكرة الأرضية إلى قسمين متساويين شمالي وجنوبي تسمى ...
- ٤- تشرف على قناة السويس دولة تسمى ...
- ٥- المسطح المائي الذي يحد الوطن العربي من الغرب يسمى ...
- ٦- وصف حالة الجو في مكان ما لمدة قصيرة تتراوح بين يوم و عدة أيام يسمى ...
- ٧- من عناصر المناخ درجة الحرارة والرياح والضغط الجوي وعنصر آخر يسمى ...
- ٨- سفينة الصحراء تطلق على حيوان يسمى ...
- ٩- تنتشر حشائش الاستبس في دولة عربية تسمى ...

ثانياً اكتب المصطلح العلمي المناسب فيما يلي :

- ١- مساحة واسعة من الأرض تمتد ضمن قارتين من أكبر قارات العالم مساحة ()
- ٢- مجرى مائي صناعي ضيق يشق لأغراض الري أو النقل ()
- ٣- نقطة من الكرة الأرضية يتحدد موقعها بخطوط الطول ودوائر العرض ()
- ٤- كل ما ارتفع عن الأرض له قمة لا يقل ارتفاعها عن ١٠٠٠ متر ()
- ٥- وزن الهواء فوق أي مكان ()
- ٦- مسطح مائي تحيط به اليابسة من جميع الجهات ()

ثالثاً - اجب عما يلي كما هو بين الأقواس :

- ١- أهمية الوطن العربي (اذكر نقطتين)

-٢

-١

-٣

٢- تركيز السكان في مناطق السهول الفيضية في الوطن العربي (علل)

-١

٣- للمسطحات المائية تأثير في المناخ (دلل)

-

٤- العوامل المؤثرة على توزيع النبات الطبيعي في الوطن العربي (اذكرها)

-٢

-١

٥- أهمية المياه في حياة الانسان (استشهد بآية قرآنية)

رابعاً - قارن بين المفاهيم التالية من حيث التعريف

المضيق

القناة

السهول	الهضاب
الأفلاج	المياه الجوفية

خامساً - أجب عما يلي

- عدد أسماء أربع دول تنتهي بحرف النون

- صنف المسطحات المائية في الوطن العربي حسب الجدول التالي :

المحيطات	الخلجان	البحار

لاحظ العلم الذي امامك فهو لدولة عربية تقع في الجناح الاسيوي



- اسم هذه الدولة العربية ؟ ...

- ما اسم النبات المرسوم على علم هذه الدولة ؟ ...

- ما دورك في المحافظة على النبات الطبيعي

...

بالاستعانة بالصور التالية اذكر أهم مصادر المياه الرئيسية المتوافرة في الوطن العربي

الوحدة الثانية

الوطن العربي مهد الحضارات والديانات السماوية

الدرس الاول

الأهمية الحضارية للوطن العربي

- عرف الحضارة :

- برعت الحضارات العربية القديمة في ... - ... - ...
- تقدمت الحضارات العربية القديمة في مجالات ... - ... - ...
- من الحضارات القديمة في الوطن العربي ... - ... - ...
- ... - ...



شكل (٢٣) خريطة الحضارات في الوطن العربي

نشاط (١)

استعن بالخريطة شكل (٢٣) ثم دون أهم الحضارات التي قامت في الوطن العربي على الشكل الذي امامك



نشاط (٢)

امامك مجموعة من الآثار لمجموعة من الحضارات في الوطن العربي اكتب اسم الحضارة التابعة لها أسفل كل صورة



اسم المعلم الحضاري :
الحضارة :



اسم المعلم الحضاري : ...
الحضارة : ...



اسم المعلم الحضاري ...
الحضارة : ...



اسم المعلم الحضاري ...
الحضارة : ...



اسم المعلم الحضاري ...
الحضارة : ...

- عدد او اذكر مقومات قيام الحضارة

-٢

-١

-٤

-٣

-٥

نشاط (٣)



الدرس الثاني

نماذج من الحضارات القديمة في الوطن العربي

١- الحضارة المصرية القديمة



نشاط (١)

اكتب أهم الآثار المصرية الموجودة حتى وقتنا الحاضر على ورقة البردي

-١


-٢

-٣

العوامل التي ساعدت على قيام الحضارة المصرية القديمة

(تنوع الصخور والمعادن - امتداد الصحراء - نهر النيل - اعتدال المناخ وجفافه)

نشاط (٢) صنف الكلمات التالية في مكانها المناسب



المحافظة على الآثار من التلف .

ربط بين أجزاء البلاد من الشمال إلى الجنوب وساعد على الاستقرار .

جعل الحضارة المصرية في أمن وحماية طبيعية .

ساعدت المصريين على نحت التماثيل وبناء المعابد .


أهم مظاهر الحضارة المصرية القديمة

أ - الحياة الاقتصادية

- تقدمت الحياة الاقتصادية في مصر في ... - ...
- من المحاصيل الزراعية في مصر القديمة ... - ...
- مهر المصريون القدماء في صناعة ... - ...

نشاط (١)

ساعد خالدًا في معرفة أهم المحاصيل الزراعية وأهم الصناعات الموجودة في الحضارة المصرية القديمة



ب - المعتقدات الدينية :

- اعتقاد المصريين القدماء بعودة الحياة للجسم بعد الموت تسمى ...

- ما الذي ترتب على اعتقاد المصريين في البعث والخلود

- ١

- ٢

- ٣



شكل (٢٤) مراحل تحنيط

نشاط (١)

ما سبب حرص المصريين القدماء على تحنيط جثث موتاهم

-

ج - العلوم والفنون :

- من مجالات العلوم والفنون التي تقدم فيها المصريين القدماء ... - ...

- تسمى الكتابة عند المصريين القدماء بالكتابة ...



شكل (٢٦) فن النحت



شكل (٢٥) بناء الأهرامات

نشاط (١)

استعن بالشكل (٢٧) ثم اكتب الاتي بالكتابة الهيروغليفية

١- اسمك :

٢- اسم دولتك :

أ	ب	ج	د
هـ	و	ز	ح
ط	ي	ك	ل
م	ن	س	ع
ف	ق	ظ	ر

شكل (٢٧) الكتابة الهيروغليفية

٢- حضارة بلاد الرافدين

- مفهوم بلاد الرافدين :



شكل (٢٨) خريطة توضح الممالك التي قامت في بلاد الرافدين

نشاط (١)

لاحظ الخريطة شكل (٢٨) ثم استخراج اسم النهرين في بلاد الرافدين

-٢

-١

- مميزات بلاد الرافدين

-١

-٢

-٣

-٤

- عدد الشعوب الذي سيطرت على بلاد الرافدين يبلغ ...

- سميت الحضارات في العراق القديمة بأسماء ... التي قامت فيها

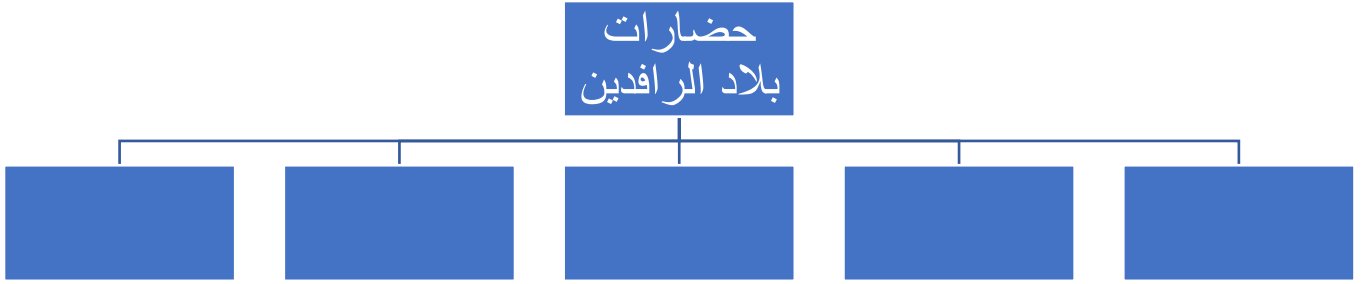
- عدد الحضارات التي قامت في بلاد الرافدين حضارة ... - ...

... -

... -

نشاط (٢)

اكتب أسماء الحضارات التي قامت في بلاد الرافدين في المخطط السهمي الذي امامك من خلال الاستعانة بالخريطة رقم (٢٨)




أهم المظاهر الحضارية في بلاد الرافدين

اولاً – الحياة الاقتصادية :

١- الزراعة :

- عئل عرف سكان بلاد الرافدين الزراعة



شكل (٢٩) طبيعة بلاد الرافدين

-١

-٢

-٣

-٤

ما العوامل التي ساهمت في ازدهار الزراعة في بلاد الرافدين

نشاط (١)

-٢

-١

-٣

٢- التجارة

نشاط (١) صنف المنتجات التجارية الواردة والمصدرة من والى بلاد الرافدين حسب الجدول التالي :

الواردات	الصادرات

٣- الصناعة :

- من اهم الصناعات في بلاد الرافدين ...



شكل (٣١) عقد بابلي



شكل (٣٠) آنية فخارية تعود للعصر الأكادي

ثانيا : العلوم والفنون :

- برع سكان بلاد الرافدين في العلوم مثل ...

... - ... - ...

- برع سكان بلاد الرافدين في الفنون مثل فن ...

... - ... - ...



شكل (٣٣) فن النحت



شكل (٣٢) حدائق بابل المعلقة

ثالثا – الحياة الفكرية

- اخترع السومريون نوعا من الكتابة يسمى بالكتابة ...

- تعتبر الكتابة المسمارية من اقدم الكتابات في العالم وتشبه حروفها ...

- يبلغ عدد حروف اللغة المسمارية ...

نشاط (١)

من خلال الفقرة السابقة ساعد خالداً في الإجابة عن التساؤلات التالية



شكل (٣٤) أحرف الكتابة المسمارية

١- ماذا تشبه حروف الكتابة المسمارية

-

٢- ما الأدوات المستخدمة في الكتابة المسمارية

-

-

٣- كم يبلغ عدد حروفها

-

نشاط (٢)

لاحظ الشكل (٣٤) ثم نفذ المطلوب منك

١- اكتب اسمك بالخط المسماري

- من أشهر الشرائع القانونية في بلاد الرافدين شريعة ...

- الملك حمورابي كان من حكام مملكة ...

- عدد المواد القانونية في شريعة حمورابي حوالي ...

- ما النتيجة التي حققتها شريعة حمورابي في بلاد الرافدين ...



شكل (٣٦) حمورابي



شكل (٣٥) مسلة حمورابي

٣- حضارة جنوب غرب شبه الجزيرة العربية (بلاد اليمن)

- علل تعدد منطقة جنوب غرب شبه الجزيرة العربية أكثر المناطق في شبه الجزيرة ملائمة لقيام الحضارة



شكل (٣٧) خريطة حضارات بلاد اليمن

١- توافر المياه العذبة

٢- المناخ المناسب لقيام الزراعة

٣- الموقع الذي يسمح بالنشاط التجاري

- تأسست حضارة بلاد اليمن منذ ...

- من دويلات حضارة بلاد اليمن ... -

نشاط (١) من خلال الخريطة شكل (٣٧) والصور (٤٠-٣٨) أجب عما يلي



شكل (٣٨) مدينة يثل الدينية في معين



شكل (٣٩) نقش سبأ بالخط المستد



شكل (٤٠) مائدة قرايين تعود لمملكة حمير

١- حضارة معين : (١٣٠٠ - ٦٥٠ ق.م)

أين تقع حضارة معين؟ وما عاصمتها وأهم معالمها؟

-الموقع :

- العاصمة :

-اهم المعالم :

٢- حضارة سبأ : (٩٥٠ - ١١٥ ق.م)

أين تقع حضارة سبأ؟ وما أهم مدنها وأهم معالمها

- الموقع : ... عاصمتها : ...

- أهم المدن : ... -

- أهم معالمها : ... -

٣- حضارة حمير : (١١٥ ق.م - ٥٢٥ م)


أين تقع حضارة حمير؟ وما أهم مدنها وأهم معالمها

- الموقع : ... العاصمة : ...

- أهم المدن : ... -

- أهم المعالم : ... -

نشاط (٢) أكمل الخط الزمني لحضارات بلاد اليمن وقم بترتيبها زمنيا من الاقدم الى الاحدث



- اشهر ممالك اليمن القديمة تسمى مملكة ...
- مملكة يمنية قديمة ورد ذكرها في القران الكريم هي مملكة ...
- اشهر ملوك مملكة سبأ ملكة تسمى الملكة ...
- ابو الملكة بلقيس الذي ينحدر من سلالة ملكية عبر ... من الملوك يسمى ...

- اشهر المشاريع الزراعية في بلاد اليمن ...
- من اشهر المنتجات الزراعية في بلاد اليمن ... - ...

نشاط (١)

ابحث مع زملاك في احدى محركات البحث عن سد مأرب واكتب تقريرا عنه من اربع أسطر



شكل (٤١) بقايا مأرب



شكل (٤٢) الطبيعة في اليمن

- اسياذ التجارة العربية هم ...
- **علل يعتبر اهل اليمن اسياذ التجارة العربية**
-
-
-
- عرف اهل اليمن الابدجية التي كانت تتألف من ... **حرف** وتسمى بالخط ...

٤- حضارة دلمون (البحرين)

- حضارة من حضارات الشرق القديم وسط الخليج العربي تسمى حضارة ...
- حضارة كانت مركز المواصلات والتجارة بين البلدان المطلة على الخليج العربي ...

- اذكر حضارتين من هذه الحضارات :

١-

٢-

- ازدهر الاقتصاد في دلمون ومارس السكان الانشطة الاقتصادية

مثل ... - ... - ...

- كانت دلمون البحرين قبل الاسلام تسمى ...

- سميت البحرين قبل الاسلام اوال نسبة الى ...

- القبيلة التي كانت تحكم البحرين قبل الاسلام تسمى ...



شكل (٤٣) خريطة توضح مملكة البحرين



شكل (٤٥) ختم يعود لحضارة دلمون



شكل (٤٤) رأس الثور

الدرس الثالث

الوطن العربي مهد الديانات السماوية الثلاث

- علل اكتسب الوطن العربي مكانة روحية مقدسة ؟

-

- نزلت الديانة اليهودية على سيدنا ... وكتابتها ...

- نزلت الديانة المسيحية على سيدنا ... وكتابتها ...

نشاط (١)

١- ما اسم الكتاب الذي أنزل على سيدنا موسى (عليه السلام) ...

٢- متى ولد سيدنا عيسى بن مريم (عليه السلام) واين ؟

-

- خاتم الرسالات السماوية هو ...

- نزلت الديانة الاسلامية على ... وكتابتها ...

١- متى نزل الوحي على سيدنا محمد ؟ واين ؟

...

٢- دلل على ان الله (سبحانه وتعالى) تكفل بحفظ القرآن الكريم من التحريف والتغيير

-

نشاط (٢) اكتب أسماء الأماكن المقدسة الموجودة في الصور التالية



الدرس الرابع

الحضارة العربية الإسلامية

- قامت الحضارة الإسلامية على ...
- ركن يحقق التكافل الاجتماعي في الدولة الإسلامية يسمى ...
- مبادئ الإسلام ... - ... - ...
- أثرت الحضارة الإسلامية في الحضارة الأوروبية منذ القرن ...
- **علل عاشت أوروبا عصور الظلام**

- طرق انتقال الحضارة الإسلامية الى أوروبا

- ١

- ٢

أكمل المخطط السهمي بالمناقشة مع معلمك

نشاط (١)

انتقال الحضارة الإسلامية
الى أوروبا عن طريق



أشكال توضح الجانب المعماري من الحضارة الإسلامية التي برع فيها العرب المسلمون



شكل (٤٨) جامع المنصور



شكل (٤٧) قصر الحمراء



شكل (٤٦) مسجد قرطبة

تقويم الوحدة الثانية

اولاً : أكمل الفراغات التالية بكلمات مناسبة :

- ١- كل ما يطرأ على المجتمع من تقدم وتطور في جميع نواحي الحياة الدينية والسياسية والاقتصادية والاجتماعية والفكرية يسمى ...
- ٢- تعتبر الاهرامات مظهراً من مظاهر الحضارة ...
- ٣- عرفت الكتابة المصرية القديمة باسم ...
- ٤- يطلق اسم بلاد الرافدين او بلاد ما بين النهرين على دولة عربية تسمى ...
- ٥- من أشهر ملوك الحضارة البابلية في العراق ملك يسمى ...
- ٦- يطلق على البحرين قديماً دلمون اسم ...

ثانياً - أكمل المخطط التالي :



ثالثاً – اذكر اشهر المعالم الدينية حسب الصور في الجدول التالي

اسم المعلم الديني :	اسم الدولة :	
اسم المعلم الديني :	اسم الدولة :	

رابعاً – لاحظ الصورة التالية ثم اجب عما يلي :

١- اسم الشخصية التي في الصورة .

-

٢- ما أهم ما اشتهر به ؟

-

٣- ما المبدأ الذي اعتمد عليه ؟

-

خامساً – علل لما يأتي :

- كان الوطن العربي مركزاً للحضارات المختلفة عبر التاريخ .

-

- اهتمام المصريين القدماء بتحنيط جثث موتاهم .

-



- ازدهار الزراعة في بلاد الرافدين

-

- اقتصر ظهور المجتمعات الحضارية على الجزء الجنوبي الغربي من شبه الجزيرة العربية

-

-

سادساً – صنف الأسماء التالية في مكانها الصحيح في الجدول التالي :

(الإنجيل – موسى "عليه السلام" – القرآن الكريم – عيسى "عليه السلام" - التوراة – محمد "صل الله عليه وسلم")

الديانة	الكتاب	النبي
الإسلام		
المسيحية		
اليهودية		

سابعاً – أجب عن الأسئلة التالية كما هو مطلوب بين القوسين :

- تعد حضارة (دلمون) مركزاً للمواصلات البحرية . (علل)

-

- انتقلت الحضارة العربية الإسلامية إلى قارة أوروبا بفضل مراكز الإشعاع (عددها)

- ١

- ٢

- ٣

تم بعون الله