



المادة: فيزياء - الفصل الدراسي 1 الصف: 12

# مذكرات 2025



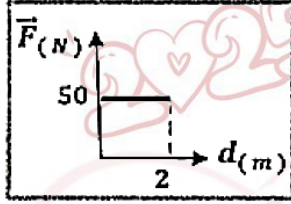
## مؤسسة سما التعليمية

حولي مجمع بيروت الدور الأول

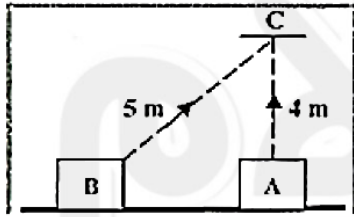
## مراجعة نهائية فيزياء للصف الثاني عشر – 1

### السؤال الأول :

(أ) - ضع علامة ( ✓ ) في المربع الواقع أمام أنسب إجابة لكل من العبارات التالية :



- 1- الشكل المقابل يمثل العلاقة البيانية لقوة أفقية ( $\vec{F}$ ) مؤثرة في جسم فأزاحته باتجاهها مسافة ( $d$ ) ، فإن الشغل المبذول على الجسم بوحدة ( J ) يساوي:
- 100       50       25       0.04



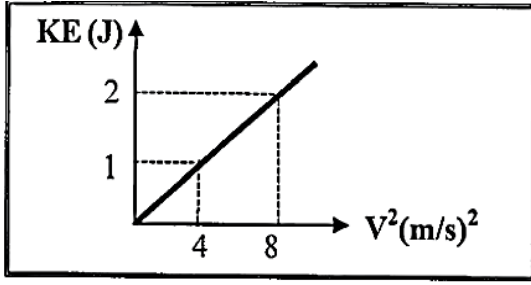
- 2- الشكل المجاور يوضح جسمان ( A, B ) متساويان في الكتلة، كتلة كل منهما ( 10 ) kg تم تحريك كل منهما الى النقطة ( C ) عبر المساران الموضحان على الرسم، فإن الشغل المبذول لتحريك الجسم من ( A ) الى ( C ):

- يساوي الشغل المبذول لتحريك الجسم من ( B ) الى ( C )  
 أكبر من الشغل المبذول لتحريك الجسم من ( B ) الى ( C )  
 أصغر من الشغل المبذول لتحريك الجسم من ( B ) الى ( C )  
 يساوي صفرأ



- 3- الشكل المقابل يمثل نابض مرن ثابت القوة له ( $k = 100$  N/m) علقته به كتلة ( $m$ )، فاستطال النابض بتأثيرها مسافة ( $\Delta x = 0.03$  m) فإن الشغل المبذول من الكتلة على النابض بوحدة (J) يساوي:

- 0.9       0.045       450       4.5

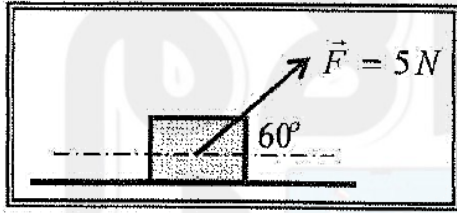


4- الخط البياني في الشكل المجاور يمثل العلاقة بين مربع السرعة الخطية ( $v^2$ ) والطاقة الحركية (KE) لجسم متحرك فإن كتلة هذا الجسم بوحدة (Kg) تساوي:

- 0.25  0.5  1  4

5- تفاحة كتلتها (0.2)Kg موجودة على غصن الشجرة ، وكانت الطاقة الكامنة التثاقلية للتفاحة وهي معلقة على الغصن (1.6)J فإذا سقطت التفاحة فجأة فإن السرعة التي تصل بها الى سطح الارض (السطح المرجعي ) بوحدة (m/s) تساوي :

- 0.25  1.6  4  16



6- وضع صندوق خشبي علي سطح أفقي أملس وأثرت عليه قوة منتظمة مقدارها (5)N وتصنع زاوية مقدارها ( $60^\circ$ ) مع المحور الأفقي . كما في الشكل المجاور . فأزاحته مسافة (10)m . فإن مقدار الشغل المبذول لإزاحة الصندوق بوحدة الجول يساوي :

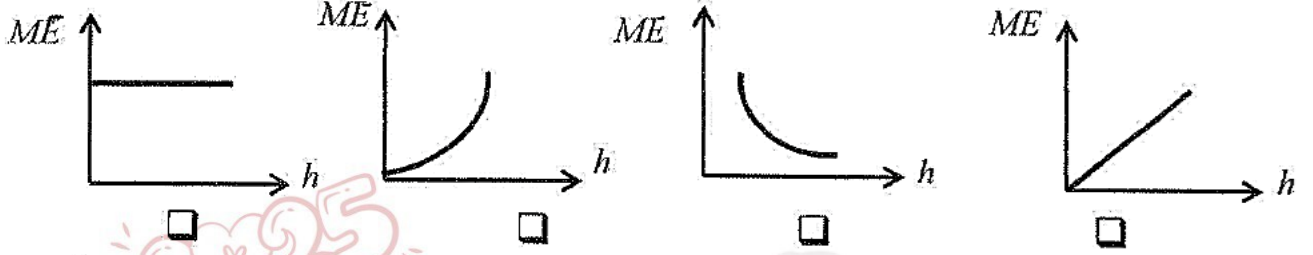
- 50  43.3  25  4

7- علقت كتلة مقدارها (0.4) kg بالطرف الحر لزنبرك معلق رأسياً فاستطال لمسافة (0.02) m فإن مقدار الشغل المبذول لاستطالة الزنبرك بوحدة (J) يساوي (علماً بأن  $g = 10 \text{ m/s}^2$ ):

- 0.008  0.08  0.004  0.04



8- سقط جسم سقوطاً حراً وبإهمال مقاومة الهواء ، فإن أفضل علاقة بيانية بين الطاقة الميكانيكية ( ME ) ومقدار الارتفاع عن سطح الأرض ( h ) هو :



9- جسم طاقة وضعه  $J(200)$  عندما يكون على ارتفاع  $m(h)$  من سطح الأرض فإذا ترك ليسقط سقوطاً حراً في غياب الاحتكاك ، فإن طاقة حركته تصبح  $J(50)$  عندما يكون على ارتفاع من سطح الأرض بوحدة ( m ) يساوي:

- $\frac{1}{4} h$         $\frac{1}{2} h$         $\frac{3}{4} h$         $h$



المستوى المرجعي

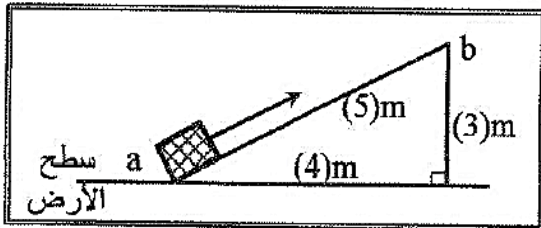
10- حوض زرع ساكن كتلته ( m ) موضوع على المستوى المرجعي كما في الشكل فإن:

- طاقة وضعه فقط معدومة       طاقة الحركة والوضع معدومتان  
 طاقة حركته فقط معدومة       طاقة الحركة والوضع غير معدومتان

11- عندما تزداد السرعة الخطية لجسم متحرك إلى مثلي ما كانت عليها فإن الطاقة الحركية لهذا الجسم:

- تزداد إلى أربعة أمثال       تزداد إلى المثلين  
 تقل إلى النصف       تقل إلى الربع

12- في الشكل المجاور عند رفع حجر يزن  $N(10)$  على

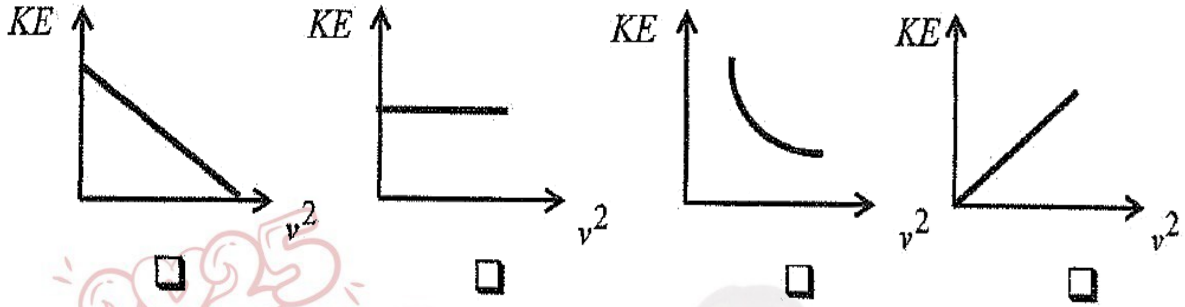


السطح المائل الأملس من ( a ) إلى ( b ) فإن الطاقة الكامنة الثقالية للحجر عند ( b ) بوحدة ( J ) تساوي:

- 10       30  
 40       50



13) أفضل علاقة بيانية بين الطاقة الحركية التي يمتلكها جسم ( $KE$ ) ومربع سرعته الخطية ( $v^2$ ) هو :



14) عندما تكون الطاقة الميكانيكية محفوظة في الأنظمة المعزولة فإن التغير في الطاقة الكامنة (الوضع):

- يساوي التغير في الطاقة الحركية.  يساوي معكوس التغير في الطاقة الحركية.  
 أكبر من التغير في الطاقة الحركية.  أصغر من التغير في الطاقة الحركية.

(ب) - ضع بين القوسين علامة (✓) أمام العبارة الصحيحة وعلامة (x) أمام العبارة

غير الصحيحة فيما يلي:

- 1- ( ) السيارة التي تتحرك بسرعة ثابتة لا تبذل شغل ( $W = 0$ ).
- 2- ( ) الجسم الذي وزنه  $N (20)$  ، يمتلك طاقة وضع تناقلية  $J (200)$  عندما يكون ارتفاعه الرأسي عن سطح الأرض (المستوى المرجعي) مساوياً  $m (100)$  .
- 3- ( ) عندما ترفع حقيبتك بقوة إلى أعلى وتتحرك باتجاه أفقي عمودياً على اتجاه القوة فإن شغل تلك القوة يساوي صفراً.
- 4- ( ) التغير في مقدار طاقة الوضع التناقلية يساوي معكوس الشغل المبذول من وزن الجسم خلال الإزاحة العمودية .
- 5- ( ) عندما تكون القوة ( $F$ ) المؤثرة في الجسم متغيرة أثناء إزاحته ( $x$ ) فإن الشغل الناتج يمكن تمثيله بيانياً بالمساحة تحت المنحنى ( $F-x$ ).

## السؤال الثاني :

(أ) - أكمل العبارات التالية بما تراه مناسباً علمياً :

- 1- يصنف الشغل من الكميات الفيزيائية ..... .
- 2- طائر كتلته  $(0.2) \text{ kg}$  يطير على ارتفاع  $(30) \text{ m}$  من سطح الأرض بسرعة مقدارها  $(10) \text{ m/s}$  فإذا علمت أن عجلة الجاذبية الأرضية  $(g = 10 \text{ m/s}^2)$  ، فإن طاقته الميكانيكية بوحدة  $(J)$  تساوي .....
- 3- الشغل الناتج عن قوة منتظمة هو كمية عددية تساوي حاصل الضرب العددي لمتجهي القوة و ..... .
- 4- عندما يتحرك جسم بسرعة منتظمة في اتجاه محدد فإن الشغل المبذول عليه يساوي .....
- 6- الطاقة الكامنة التناظرية لجسم ما قد تكون موجبة المقدار أو سالبة بحسب موضع الجسم بالنسبة إلى .....

(ب) - أكتب بين القوسين الاسم أو المصطلح العلمي الذي تدل عليه كل عبارة من

العبارات التالية:

- 1- الشغل الذي تبذله قوة مقدارها  $(1) \text{ N}$  تحرك جسماً في اتجاهها ( ) مسافة متر واحد .
- 2- طاقة يخترنها الجسم وتسمح له بإنجاز شغل للتخلص منها. ( )

## السؤال الثالث:

(أ) - أذكر العوامل التي يتوقف عليها كل من :

- 1- الشغل الذي تبذله قوة مؤثرة على جسم يتحرك في نفس اتجاه تأثيرها.  
1-القوة 2-الإزاحة
- 2- الطاقة الكامنة ( الوضع ) التناظرية لجسم في مكان ما  
1-وزن الجسم 2-الارتفاع عن المستوى المرجعي

### 3- ثابت مرونة الجسم المرن .

1-طول الجسم 2-سماكته 3-الخصائص الميكانيكية

4-طاقة الحركة :

1-كتلة الجسم 2-مربع السرعة الخطية

5-الشغل الناتج من وزن الجسم عند إزاحته رأسياً لأعلى :

1-وزن الجسم 2-الازاحة الرأسية

6-الشغل المبذول على نابض : ( الطاقة الكامنة في النابض )

1-ثابت المرونة للنابض 2-مربع الاستطالة

7-الطاقة الكامنة المرنة عند لي خيط مطاطي :

1-ثابت مرونة الخيط 2-مربع الإزاحة الزاوية

8-الشغل الناتج عن قوة منتظمة :

1-القوة 2-الإزاحة 3-الزاوية بين القوة والإزاحة

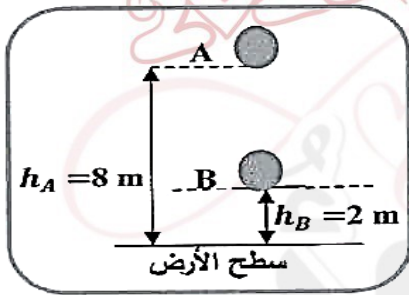


( ب ) على المحاور التالية ، أرسم المنحنيات البيانية المطلوبة :



1- الطاقة الميكانيكية (ME) للجسم الذي يسقط سقوطاً حراً والارتفاع (h).

( ج ) - حل المسألة التالية :

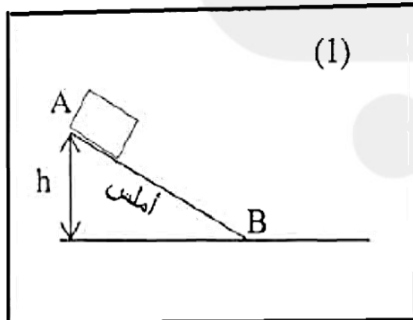


الشكل يوضح جسم كتلته kg (3) سقط سقوطاً حراً نحو سطح الأرض من النقطة (A) إلى النقطة (B) .

وباعتبار أن عجلة الجاذبية الأرضية (  $g = 10 \text{ m/s}^2$  ) ، احسب :

1- الشغل المبذول من وزن الجسم خلال الإزاحة من النقطة (A) إلى النقطة (B) .

2- سرعة الجسم لحظة وصوله للنقطة (B) .



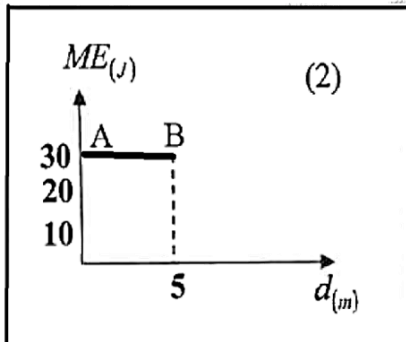
جسم كتلته kg (5) تحرك من السكون من النقطة (A) على سطح مستوي مائل

أملس كما بالشكل (1)، تم تمثيل علاقة الطاقة الميكانيكية (ME) للجسم مع

إزاحته (d) بيانياً، فحصلنا على الخط البياني الموضح بالشكل (2) من خلال

هذه البيانات، علماً بأن (  $g = 10 \text{ m/s}^2$  ) احسب :

1- ارتفاع المستوى المائل (h).



2- مقدار سرعة الجسم عند نهاية المستوى المائل ( $v_B$ ) .

**السؤال الرابع****( أ ) - علل لكل مما يلي تعليلاً علمياً دقيقاً :**

1- إذا أسقطت مطرقة على مسمار من مكان مرتفع ، ينغرز المسمار مسافة أكبر مقارنة بإسقاطها من مكان أقل ارتفاعاً.

..... لأن المطرقة في المكان المرتفع تمتلك طاقة كامنة ثقالية أكبر .....

2- يكون شغل القوة التي اتجاهها معاكساً تماماً لاتجاه الإزاحة سالب .

..... لأن الزاوية =  $180^\circ$  و  $\cos 180 = -1$   $W = Fd \cos 180 = -Fd$  .....

3- لا تبدل شغلاً إذا وقفت حاملاً حقيبتك الثقيلة على جانب الطريق.

..... لأن الإزاحة =  $0$  و  $W = Fd \cos \theta = 0$  .....

**( ب ) - ماذا يحدث في الحالات التالية :**

١ - لمقدار الشغل المبذول لاستطالة زنبرك ثابت مرونته (K) عند زيادة استطالة الزنبرك إلى مثلي ما كانت عليه؟

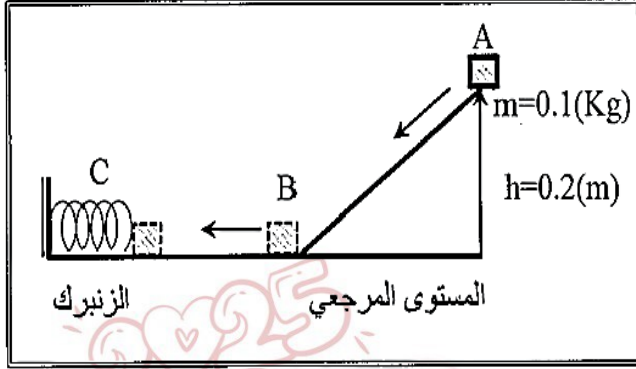
الحدث : ..... التفسير : .....

٢ - للطاقة الكامنة الثقالية عندما يوجد الجسم عند المستوى المرجعي ؟

الحدث : ..... التفسير : .....

( ج ) حل المسألة التالية :

في الشكل المقابل تنزلق الكتلة (m) من السكون على السطح الأملس (ABC) بفرض أن الطاقة الميكانيكية محفوظة وأن  $(g=10m/s^2)$ ، احسب:  
1 - سرعة الكتلة (m) عند النقطة (B) .



.....

.....

.....

.....

2- أقصى مسافة ينضغطها الزنبرك ( علماً بأن ثابت المرونة للزنبرك  $k=10 N/m$  ) .

.....

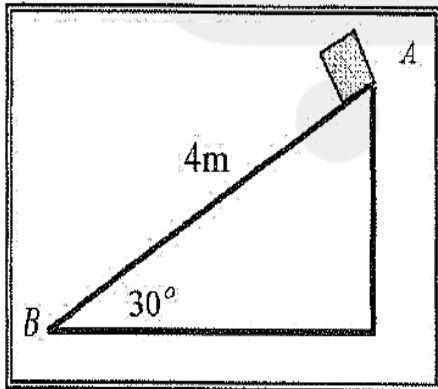
.....

.....

.....

( ج ) حل المسألة التالية :

وضع صندوق خشبي كتلته  $(0.4)Kg$  على مستوي مائل أملس طوله  $AB = 4m$  ويميل بزواوية  $(30^\circ)$  مع المستوي الأفقي . فإذا تحرك الصندوق من النقطة (A) إلى النقطة (B) كما في الشكل المجاور . احسب:  
1 - الشغل الناتج عن وزن الصندوق .



.....

.....

2- سرعة الصندوق عند وصوله إلى النقطة (B) .

.....

.....

.....

.....

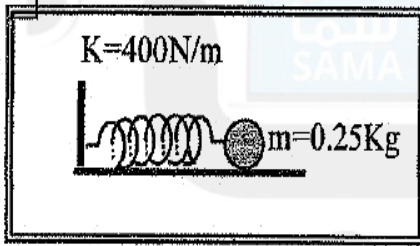


### حل المسألة التالية :

ثمرة كتلتها  $0.1\text{kg}$  موجودة على غصن ارتفاعه  $4\text{m}$  عن سطح الارض . (بإهمال الاحتكاك مع الهواء )  
وعلماً بأن عجلة الجاذبية الأرضية  $g=(10)\text{ m/s}^2$  ، أحسب :  
1 - الطاقة الكامنة التثاقلية للثمرة وهي معلقة على الغصن .

2- سرعة الثمرة لحظة اصطدامها بسطح الأرض.

### حل المسألة التالية :



وضعت كرة ساكنة كتلتها  $0.25\text{kg}$  علي سطح أفقي أملس ،  
أمام زنبرك ثابت مرونته  $400\text{N/m}$  ومضغوط مسافة مقدارها  
 $0.01\text{m}$  . كما هو موضح بالشكل المجاور . أحسب :  
1 - مقدار الشغل المبذول خلال عملية إنضغاط الزنبرك .

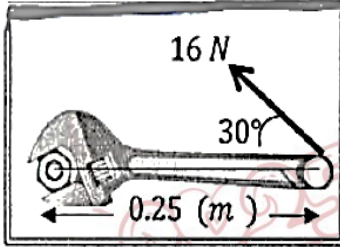
2 - سرعة انطلاق الكرة ،إذا أفلت الزنبرك فجأة .

**قارن بين ما يلي:**

الزاوية بين اتجاه القوة واتجاه الحركة $180^{\circ}$ (متعاكسين)	الزاوية بين اتجاه القوة واتجاه الحركة $0^{\circ}$ (بنفس الاتجاه)	
		مقدار الشغل
الزاوية بين اتجاه القوة واتجاه الحركة منفرجة	الزاوية بين اتجاه القوة واتجاه الحركة حادة	
		نوع الشغل
		تغير السرعة
الشغل المقاوم للحركة	الشغل المنتج للحركة	
		قيمة الزاوية بين متجه القوة و متجه الإزاحة
		التأثير على سرعة الجسم
جسم تحرك أدنى من موقعه (سقط لأسفل)	جسم تحرك أعلى من موقعه (قذف لأعلى)	
		الشغل
		التغير في طاقة وضعه
		طاقة حركته

## مراجعة نهائية فيزياء للصف الثاني عشر - 2

(أ) - ضع علامة ( ✓ ) في المربع الواقع أمام أنسب إجابة لكل من العبارات التالية :



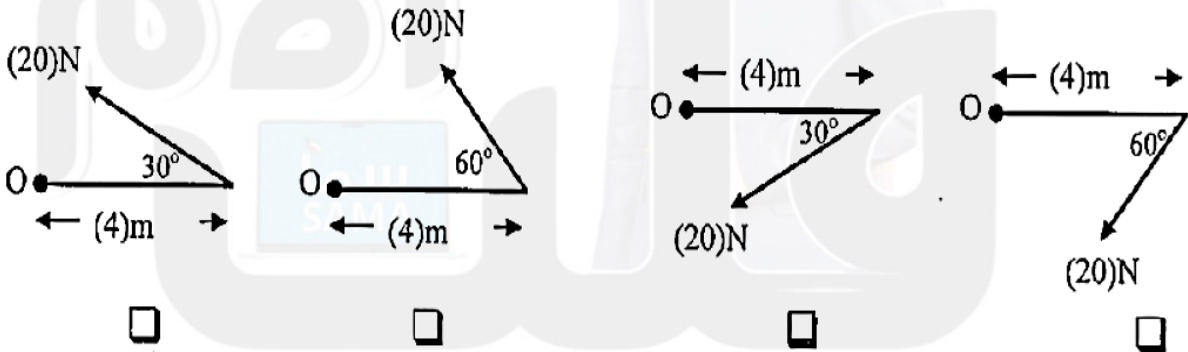
1- الشكل المجاور يوضح مفك طول ذراعه  $m$  ( 0.25 ) يستخدم لربط صامولة بتأثير قوة مقدارها  $N$  ( 16 ) تصنع زاوية  $( 30^\circ )$  مع ذراع المفك، فيكون مقدار عزم تلك القوة بوحدة  $( N.m )$  يساوي :

- 2       3.46       4       32

2- عند وجود قوى احتكاك في نظام معزول يكون التغير في الطاقة الميكانيكية  $(\Delta ME)$  للنظام مساوياً:

- 0        $\Delta E$         $\Delta U$         $-\Delta U$

3- الشكل الذي يوضح قوة عزمها  $(40)N.m$  واتجاه العزم عمودي على الصفحة نحو الداخل هو :



4- المعادلة التي تعبر عن الطاقة الكلية للنظام عندما تكون طاقته الداخلية متغيرة وطاقته الميكانيكية ثابتة هي :

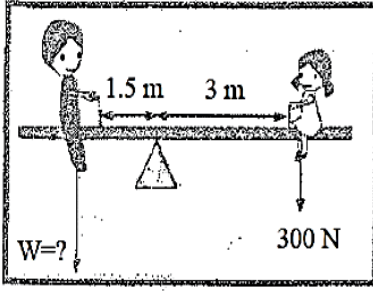
- $\Delta E = -\Delta ME$         $\Delta E = 0$         $\Delta E = \Delta ME$         $\Delta E = \Delta U$

5- لربط صامولة في محرك باستخدام مفتاح ربط طوله  $m$  ( 0.2 ) تحتاج إلى عزم مقداره  $(40) N.m$

فإن مقدار القوة التي يجب بذلها لربط الصامولة بوحدة  $( N )$  يساوي :

- 300       40.2       8       0.005





6- في الشكل المقابل إذا كان وزن الفتاه (300)N فكمي يصبح النظام في حالة اتزان وبياهمال وزن اللوح فإن وزن الولد يجب ان يكون بوحدة (N) يساوي :

300

150

600

450

7- نظام معزول مؤلف من مظلي والأرض والهواء المحيط به فعندما يصل المظلي إلى سرعته الحدية أثناء هبوطه فإن:

الطاقة الكلية	طاقته الميكانيكية	طاقته الحركية	
ثابتة	ثابتة	تزداد	<input type="checkbox"/>
تقل	تقل	تزداد	<input type="checkbox"/>
ثابتة	تقل	ثابتة	<input type="checkbox"/>
تزداد	تزداد	تقل	<input type="checkbox"/>

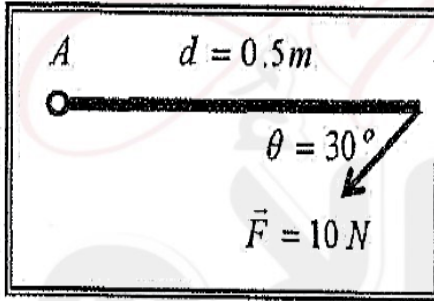
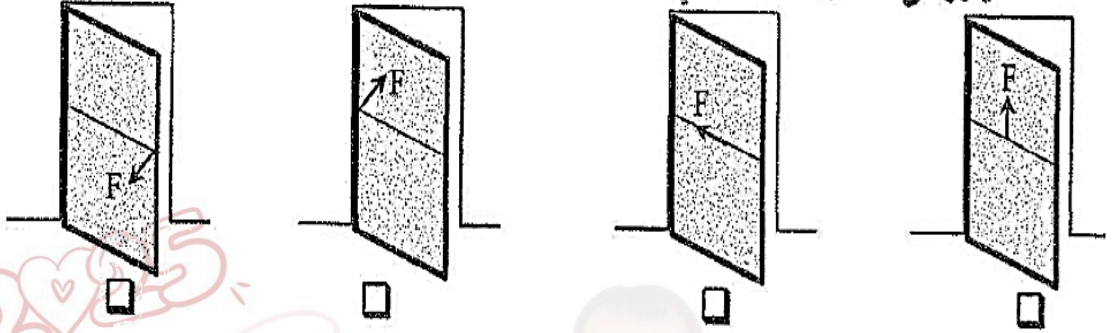
8- اتجاه عزم القوة الذي يؤدي إلى دوران الجسم عكس اتجاه عقارب الساعة يكون:

عمودي على الصفحة نحو الخارج  عمودي على الصفحة نحو الداخل

عكس اتجاه عقارب الساعة  في اتجاه عقارب الساعة

9- أثار في باب الصف المبين في الأشكال التالية بقوة  $(\vec{F})$  تعمل في الإتجاهات المبينة على الرسم فإن الباب

يدور في حالة واحدة فقط وهي :



10- ساق متجانسة طولها  $0.5m$  قابلة للدوران حول نقطة  $(A)$

فإذا أثرت عليها قوة مقدارها  $10N$  كما هو مبين بالشكل

فإن مقدار عزم القوة المؤثر على الساق بوحدة  $(N.m)$  يساوي :

40

20

5

2.5

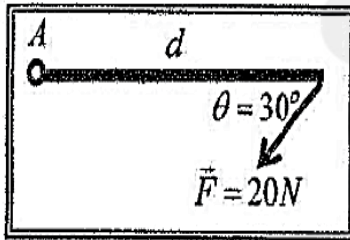
11- الطاقة الكامنة الميكروسكوبية :

تتغير أثناء تغير درجة حرارة النظام .

تتغير أثناء تغير حالة النظام.

تتغير مع تغير الطاقة الحركية الميكروسكوبية .

لا تتغير بتغير حالة النظام.



12- أثرت قوة مقدارها  $20N$  على ساق متجانسة قابلة للدوران حول

نقطة  $(A)$  كما هو مبين بالشكل . فإذا كان مقدار عزم القوة المؤثر على

الساق يساوي  $25N.m$  فإن طول ذراع القوة  $(d)$  بوحدة المتر يساوي :

2.5

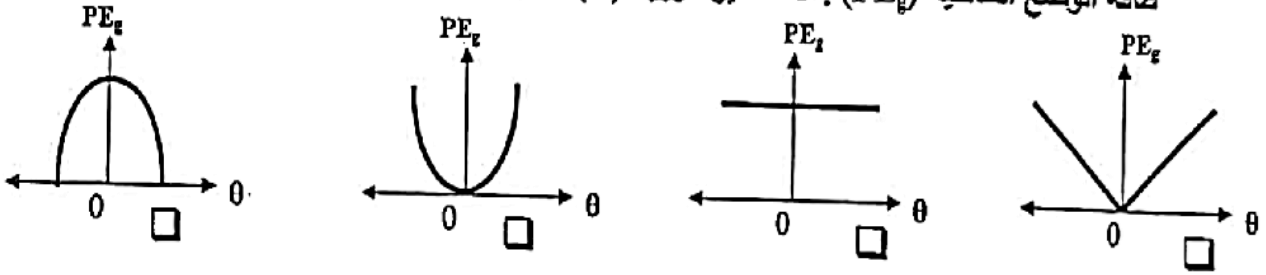
1.25

0.8

0.4

13- عندما يتحرك بندول بسيط كنظام معزول محفوظ الطاقة الميكانيكية فإن أفضل منحنى بياني يمثل تغير

طاقة الوضع التناظرية ( $PE_p$ ) بدلالة تغير الزاوية ( $\theta$ ) لحركة هذا البندول هو :

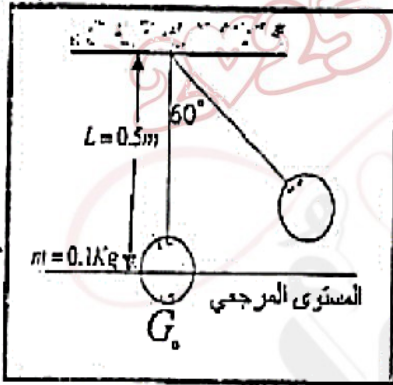


14- في الشكل بندول بسيط سحبته الكتلة مع إبقاء الخيط مشدوداً من

وضع الاتزان ( $G_0$ ) بزاوية ( $60^\circ$ ) وأقلت من سكون لتتهزز في

غياب الاحتكاك فإن الطاقة الميكانيكية للنظام بوحدة (J) تساوي

علماً بأن ( $g=10\text{m/s}^2$ ):



2.5

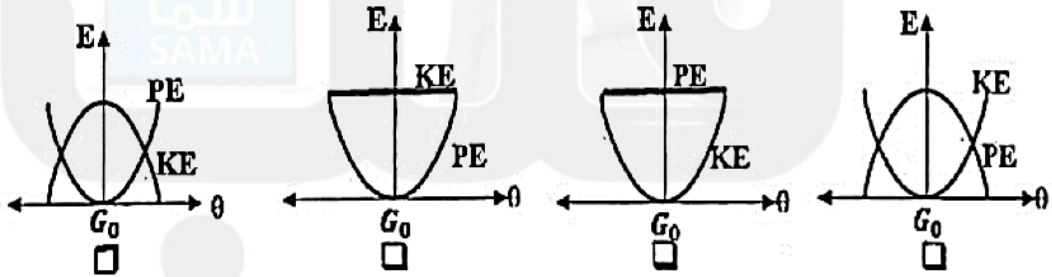
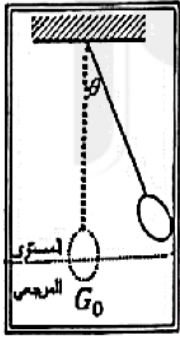
1

0.5

0.25

15- أفضل منحنى بياني يمثل تبادل الطاقة الحركية (KE)، وطاقة الوضع التناظرية (PE) لبندول

بسيط أقلت من السكون ماراً بموضع الاتزان  $G_0$  بتغير الزاوية ( $\theta$ ) (في غياب الاحتكاك) هو :



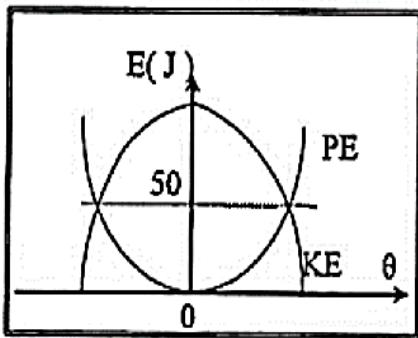
16- المنحنى البياني في الشكل المجاور يمثل تبادل الطاقة

الحركية (KE) وطاقة الوضع التناظرية (PE) بدلالة

تغير الزاوية ( $\theta$ ) لبندول بسيط متحرك كنظام معزول

محفوظ الطاقة فإن الطاقة الميكانيكية للبندول بوحدة

(J) تساوي:



50

25

200

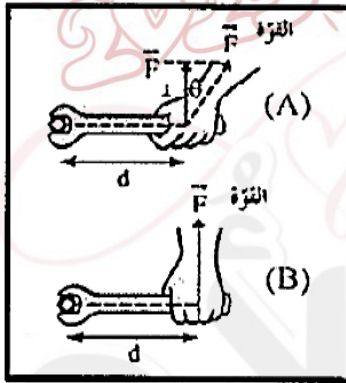
100



(ب) - ضع بين القوسين علامة (✓) أمام العبارة الصحيحة وعلامة (×) أمام العبارة غير الصحيحة فيما يلي:

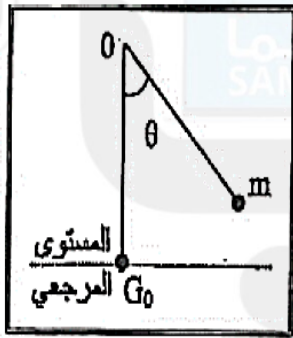
1- ( ) يعتمد ائزان الميزان الذي يعمل بالأوزان المنزقة على ائزان العزوم وليس على ائزان الأوزان (القوى) .

2- ( ) عندما يملك الجسم ابعادا يمكن قياسها ورؤيتها بالعين يوصف بالجسم الميكروسكوبي.



3- ( ) في الشكل المجاور يكون بذل الجهد أقل وفعل رافعة أكبر عند استخدام مفتاح ربط في الحالة (A) عن الحالة (B) .

4- ( ) كلما زادت المسافة بين مركز كتلة الجسم والمحور الذي يدو حوله قل قصوره الذاتي الدوراني .



5- ( ) في الشكل المجاور بعد إفلات البندول (m) من السكون وعندما يصل إلى النقطة (G0) تصبح طاقة وضعه الثقالية قيمة عظمى (في غياب الاحتكاك) .

## السؤال الثاني :

( أ ) - أكمل العبارات التالية بما تراه مناسباً علمياً :

1- عندما تؤدي القوة الى دوران الجسم عكس اتجاه عقارب الساعة ، اصطلاح أن يكون اتجاه عزم القوة

.....

2- اصطلاح أن يكون اتجاه عزم القوة موجباً عندما يؤدي إلى الدوران ..... اتجاه حركة عقارب الساعة .

3- تسمى المسافة العمودية من محور الدوران إلى نقطة تأثير القوة المؤثرة على جسم قابل للدوران حول محور ثابت.....

4- عند وجود قوى احتكاك في نظام معزول ، التغير في الطاقة الميكانيكية لنظام ما يساوي معكوس التغير في الطاقة .....

5- يوصف الجسم عندما يملك أبعاداً يمكن قياسها ورؤيتها بالعين بالجسم. ....

( ب ) - أكتب بين القوسين الاسم أو المصطلح العلمي الذي تدل عليه كل عبارة من

العبارات التالية:

1- الطاقة لا تفنى ولا تستحدث من عدم ، ويمكن داخل أي نظام معزول ( ) أن تتحول من شكل إلى آخر ، فالطاقة الكلية للنظام ثابتة لا تتغير .

2- مجموع الطاقة الداخلية (U) والطاقة الميكانيكية (ME) لنظام ما . ( )

3- مجموع طاقات الوضع والحركة لجسيمات النظام. ( )

4- كمية فيزيائية تعبر عن مقدرة القوة على إحداث حركة دورانية للجسم حول محور الدوران. ( )

**السؤال الرابع :****قارن بين كل مما يلي :**

الطاقة الكلية ( E )	الطاقة الميكانيكية ( ME )	1- وجه المقارنة
		العلاقة الرياضية المستخدمة لحسابها
في حالة وجود احتكاك	في حالة عدم وجود احتكاك	2- وجه المقارنة
		التغير في الطاقة الداخلية

**ما العوامل التي يتوقف عليها :****1- الطاقة الكلية :**

2- الطاقة الداخلية

1- الطاقة الميكانيكية

**2- الطاقة الميكانيكية :**

2- الطاقة الكامنة (أو طاقة الوضع)

1- طاقة الحركة

**3- القصور الذاتي الدوراني :**

3- بعد محور الدوران بالنسبة لمركز الكتلة

1- كتلة الجسم 2- شكل الجسم وتوزع كتلته

**4- عزم القوة :**

3- الزاوية بين القوة والذراع

2- ذراع القوة

1- القوة (مركبة القوة العمودية)

**5- عزم الازدواج :**

2- ذراع الازدواج (المسافة العمودية بين القوتين)

1- إحدى القوتين

## السؤال الخامس :

(أ) ماذا يحدث في كل من الحالات التالية:

1- للطاقة الحركية وطاقة الوضع التناظرية للمظلي الذي يهبط باستخدام المظلة من لحظة وصوله للسرعة الحدية ؟

..... الطاقة الحركية .....

..... طاقة الوضع .....

(ب) نشاط

الشكل المجاور يوضح نظاماً معزولاً مؤلفاً من مظلي والأرض والهواء المحيط .

أجب عما يلي :

1- عندما يصل المظلي إلي سرعة حدية ثابتة ،ماذا يحدث لكل من :  
طاقتي الحركة والوضع التناظرية .



2- فسر سبب ارتفاع درجة حرارة الهواء المحيط والمظلة.

(ج) لدرجة حرارة كل من الهواء المحيط بالمظلي والمظلة أثناء هبوط المظلي باستخدام المظلة، اذا كان النظام المؤلف من المظلي والأرض والهواء المحيط معزولاً ؟ .

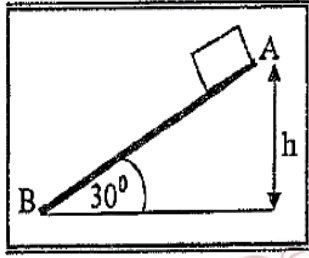
(د) عند وضع مقبض الباب قريباً من محور دوران الباب الموجود عند مفصلاته؟

(هـ) للطاقة الحركية الميكروسكوبية بارتفاع درجة حرارة الجسم .



## السؤال السابع :

### (ب) حل المسألة التالية :-



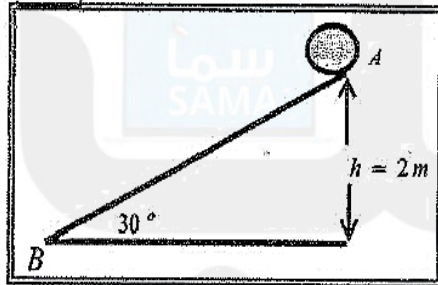
في الشكل المقابل أفلت جسم كتلته  $1 \text{ kg}$  من السكون من النقطة (A) على المستوى المائل الخشن  $(AB) = 2 \text{ m}$  الذي يصنع زاوية  $(30^\circ)$  مع المستوى الأفقي حيث تكون قوة الاحتكاك ثابتة المقدار على طول المستوى فوصل إلى النقطة (B) عند نهاية المستوى بسرعة  $V_B = 4 \text{ m/s}$  احسب:

١- الشغل الناتج عن وزن الجسم إذا تحرك على المستوى المائل إلى النقطة (B).

.....  
 .....

٢- مقدار قوة الاحتكاك الثابتة المقدار.

.....  
 .....



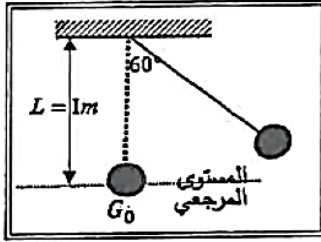
كرة كتلتها  $0.2 \text{ kg}$  موضوعة على مستوي مائل خشن يميل بزاوية  $(30^\circ)$  مع المستوى الأفقي كما في الشكل المجاور ، أفلتت الكرة من السكون من النقطة (A) ، لتصل إلى النقطة (B) بسرعة  $V_B = 6 \text{ m/s}$  احسب :

١ - مقدار التغير في الطاقة الميكانيكية بين الموضعين (A, B)

.....  
 .....

٢ - مقدار قوة الاحتكاك على المستوي المائل باعتبارها قوة ثابتة .

.....  
 .....



في الشكل المجاور بندول بسيط مؤلف من كرة كتلتها  $0.1 \text{ kg}$  معلقة بطرف خيط عديم الوزن غير قابل للتمدد طوله  $1 \text{ m}$  سحبت الكرة مع إبقاء الخيط مشدود بزاوية  $(60^\circ)$  وأطلقت من السكون لتتهتز في غياب الاحتكاك مع الهواء . وباعتبار المستوى المرجعي هو المستوى الأفقي المار بمركز كتلة الكرة عند موضع الاتزان  $G_0$  احسب :

1- طاقة الوضع التثاقلية عندما تكون  $(\theta_m = 60^\circ)$  .

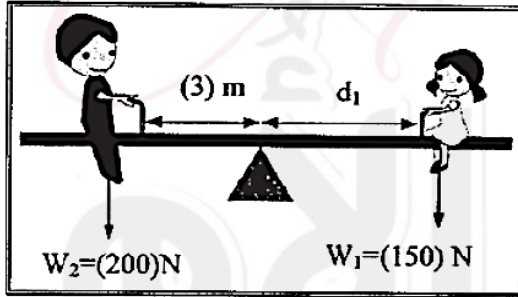
.....  
.....

2- سرعة كرة البندول لحظة مرورها بالنقطة  $G_0$ .

.....  
.....

حل المسألة التالية :

من الشكل المجاور ، احسب :



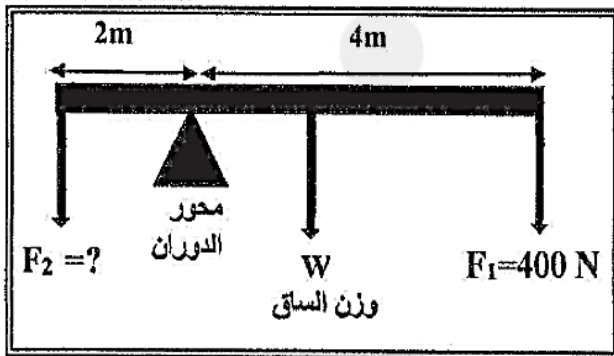
1- مقدار عزم القوة لوزن الولد  $(W_2)$  .

.....  
.....  
.....

2- المسافة  $(d_1)$  التي تفصل بين الفتاة ومحور ارتكاز اسنوح المتارجح والنظام في حالة اتزان .

.....  
.....  
.....

حل المسألة التالية :



الشكل المجاور يمثل ساق متجانسة طولها  $6 \text{ m}$

ووزنها  $100 \text{ N}$  ترتكز علي حاجز معدني . وتؤثر

فيها قوتان لأسفل  $F_1 = 400 \text{ N}$  و  $F_2$  مجهولة

فإذا كان النظام في حالة اتزان . احسب:

1- عزم الدوران للقوة  $(F_1)$  .

.....  
.....

2- مقدار القوة  $(F_2)$  .

.....  
.....

## مراجعة نهائية فيزياء للصف الثاني عشر – مراجعة للصف 12

### السؤال الاول :

(أ) - ضع علامة ( ✓ ) في المربع الواقع أمام أنسب إجابة لكل من العبارات التالية :



1- يعتبر ثني الساقين عند الجري مهماً لأن عزم القصور الذاتي الدوراني :

يزيد  يقل  ينعدم  يكون ثابتاً

2- إذا تحرك جسم كتلته kg ( 5 ) بكمية حركة مقدارها  $100 \text{ kg.m/s}$  ، فتكون السرعة التي يتحرك

بها بوحدة ( m/s ) تساوي:

0.05  20  100  500

3- أحد هذه الحيوانات له قصور ذاتي دوراني قليل مما يجعله يتحرك بسرعة أكبر وهو:



4- جسم ساكن كتلته  $0.2 \text{ Kg}$  أثرت عليه قوة لفترة زمنية مقدارها  $0.1 \text{ s}$  فأصبحت السرعة النهائية لهذا

الجسم  $20 \text{ m/s}$  فإن مقدار تلك القوة بوحدة ( N ) يساوي :

4  20  40  80

5- عندما ترتد الأجسام المتصادمة بعد اصطدامها بعيداً عن بعضها البعض بسرعات مختلفة عن سرعتها قبل

التصادم وتكون الطاقة الحركية غير محفوظة يكون التصادم :

لا مرن  لا مرن كلياً  مرن  تام المرونة

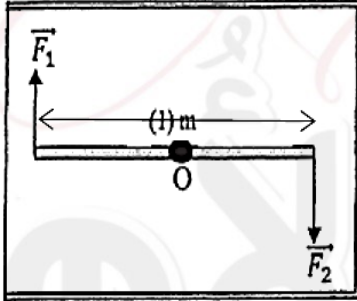
6- يعتبر ثقب الساقين عند الجري مهما حيث انه :

- يقلل القصور الذاتي الدوراني  لا يغير من القصور الذاتي الدوراني  
 يزيد من القصور الذاتي الدوراني  يقلل من وزن الجسم فيسهل حركته

7- انفجر جسم كتلته  $0.1 \text{ kg}$  وانقسم إلى نصفين متساويين فكانت سرعة الجزء الأول

$v_1 = (-0.5) \text{ m/s}$  على المحور الأفقي فإن سرعة الجزء الثاني بوحدة  $(\text{m/s})$  تساوي:

- $0.5$    $0.05$    $-0.5$    $-0.05$

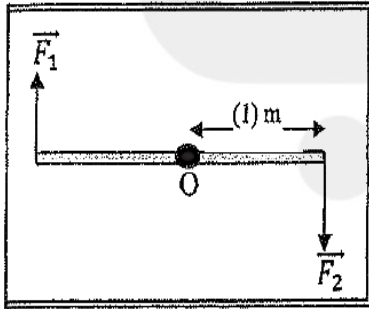


8- في الشكل المقابل تؤثر قوتين متساويتين في المقدار  $F_1 = F_2 = (20) \text{ N}$

على ساق معدنية منتظمة ومتجانسة قابلة للدوران حول نقطة (O) في

منتصفها فإن مقدار عزم الازدواج المؤثر في الساق بوحدة  $\text{N} \cdot \text{m}$  يساوي :

- 20  10  
 40  22



9- في الشكل المقابل تؤثر قوتين متساويتين في المقدار  $F_1 = F_2 = (20) \text{ N}$

على ساق معدنية منتظمة ومتجانسة قابلة للدوران حول نقطة (O) في

منتصفها فإن مقدار عزم الازدواج المؤثر في الساق بوحدة  $\text{N} \cdot \text{m}$  يساوي :

- 21  10  
 40  22

10- عصا منتظمة طولها  $2 \text{ m}$  وكتلتها  $2 \text{ kg}$  قصورها الذاتي الدوراني حول محور عمودي يمر بمركز

كتلتها  $20 \text{ kg} \cdot \text{m}^2$  فيكون القصور الذاتي الدوراني حول محور يمر بأحد طرفيها بوحدة  $\text{kg} \cdot \text{m}^2$  مساويا:

- 24  22  10  5



11- التصادم اللامرن كلياً هو تصادم تكون فيه الطاقة الحركية للنظام :

محفوظة وكمية الحركة محفوظة  غير محفوظة وكمية الحركة غير محفوظة

غير محفوظة وكمية الحركة محفوظة  محفوظة وكمية الحركة غير محفوظة

12- إيقاف شاحنة كبيرة أصعب من إيقاف سيارة صغيرة تسير بنفس السرعة وهذا لأن:

القصور الذاتي للشاحنة المتحركة أقل من القصور الذاتي للسيارة المتحركة بنفس السرعة.

الطاقة الحركية للشاحنة أقل من الطاقة الحركية للسيارة.

كمية حركة الشاحنة أكبر من كمية حركة السيارة.

طاقة الوضع الثقالية للشاحنة أكبر من طاقة الوضع الثقالية للسيارة.

13- أثرت قوة مقدارها  $N(400)$  لمدة  $s(2)$  في كتلة فإن التغير في مقدار كمية الحركة لهذه الكتلة بوحدة

$(kg.m/s)$  يساوي:

100  200  800  1600

14- في تصادم الجزيئات الصغيرة والذرات يكون جميع ما يلي صحيحاً ما عدا :

الطاقة الحركية للنظام محفوظة.

كمية الحركة للنظام محفوظة.

التغير في الطاقة الحركية للنظام معدوم.

متجه السرعة للجسيمين ثابت.

15- جسم ساكن كتلته  $kg(10)$  أثرت عليه قوة منتظمة لمدة  $s(20)$ ، فأصبحت سرعته  $m/s(25)$ .

فإن مقدار الدفع الذي تلقاه الجسم بوحدة  $(N.m)$  يساوي :

450  250  200  50

16- يتساوى مقدار كمية الحركة الخطية لجسم مع مقدار طاقته الحركية عندما يتحرك بسرعة منتظمة

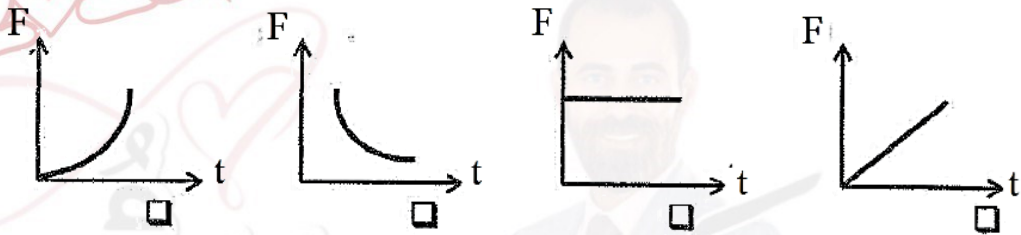
مقدارها بوحدة  $(m/s)$  تساوي:

8  4  2  1

17- اصطدم جسم متحرك كتلته ( $m$ ) بجسم آخر ساكن مساو له في الكتلة وكان التصادم تام المرنة  
فإن الجسم المتحرك:

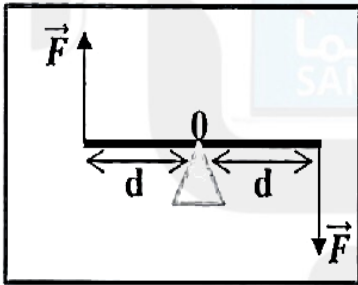
- يرتد بنفس سرعته .  
 يرتد بسرعة أقل .  
 يستمر في حركته بسرعة أكبر .  
 يسكن .

18- عند ثبات التغير في كمية الحركة الخطية لجسم متحرك . فإن أفضل علاقة بيانية بين قوة الدفع المؤثرة على الجسم وزمن التأثير هو :

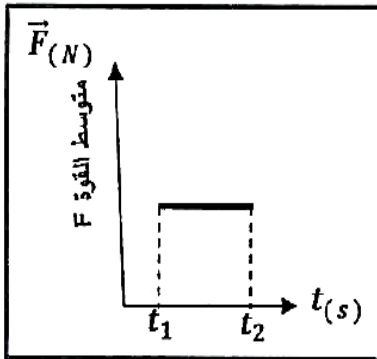


(ب) - ضع بين القوسين علامة (✓) أمام العبارة الصحيحة وعلامة (x) أمام العبارة

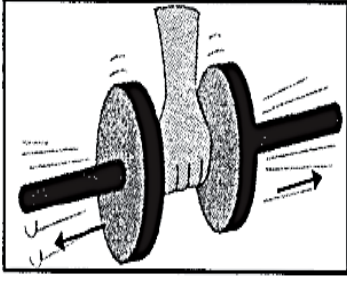
غير الصحيحة فيما يلي:



1- ( ) في الشكل المجاور إذا استقر ساق من منتصفه فوق دعامة ، واثرت عليه عند طرفيه قوتان متساويتان مقداراً ومتعاكستان اتجاهاً مقدار كل منهما ( $\vec{F}$ ) فإنه بتأثير هاتين القوتين يدور الساق.



2- ( ) في الشكل المقابل المساحة تحت منحنى متوسط القوة ( $\vec{F}$ ) و الزمن ( $t$ ) تساوي الشغل عددياً .



3- ( ) في الشكل المجاور كلما زادت المسافة بين كتلة الجسم والمحور الذي يحدث عنده الدوران كان من السهل أن يدور.

4- ( ) لا يحدث تغير في كمية الحركة إلا في وجود قوة خارجية مؤثرة في الجسم أو النظام.

5- ( ) يزداد القصور الذاتي الدوراني لجسم عندما تتوزع الكتلة نفسها داخل الجسم بتباعد عن محور الدوران

6- ( ) إذا حدث التغير لكمية الحركة في فترة زمنية أطول يكون تأثير قوة الدفع  $(\vec{F})$  أقل .

7- ( ) في النظام المؤلف من ( مدفع - قذيفة) تكون القوة التي تؤثر في القذيفة لدفعها للأمام تساوي في المقدار وتعاكس بالاتجاه قوة ارتداد المدفع للخلف.

8- ( ) كلما زادت المسافة بين مركز كتلة الجسم والمحور الذي يدو حوله قل قصوره الذاتي الدوراني .

9- ( ) مشتق كمية الحركة بالنسبة إلى الزمن يساوي محصلة القوى الخارجية المؤثرة في النظام.

10- ( ) انفجر جسم كتلته  $0.6\text{Kg}$  وانقسم إلي نصفين متساويين، وكانت سرعة الجزء الأول  $m/s (2)$ ،

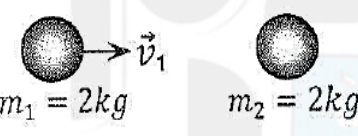

فإن سرعة الجزء الثاني تساوي  $m/s (-2)$

- 11- ( ) مقدار القصور الذاتي الدوراني لمسطرة حول محور يمر في منتصفها لا يختلف عن مقدار القصور الذاتي الدوراني لها حول محور مواز يمر في أحد طرفيها .
- 12- ( ) مقدار الدفع على جسم في فترة زمنية ما يساوي التغير في كمية حركة الجسم في الفترة الزمنية نفسها .
- 13- ( ) يقوم مبدأ عمل البندول القنفي على قوانين حفظ كمية الحركة والطاقة الميكانيكية.
- 14- ( ) القوة والزمن عاملان ضروريان لإحداث تغير في كمية الحركة .
- 15- ( ) عندما يمسك البهلوان المتحرك على سلك رفيع عصا طويلة ، فإنه يحظى بوقت أطول لضبط مركز ثقله وبالتالي يقل قصوره الذاتي الدوراني .
- 16- ( ) عزم الازدواج الذي يخضع له جسم قابل للدوران حول محور يمر بمنتصفه يساوي مثلي عزم إحدى القوتين المحدثتين له .
- 17- ( ) كرة كتلتها 0.1 kg تصطدم بجدار بسرعة مقدارها 10 m/s وترتد بنفس السرعة فإن مقدار الدفع الذي تتلقاه بوحدة يساوي 2 N.s .
- 18- ( ) إذا تحرك جسم كتلته 5 kg بكمية حركة مقدارها 100 kg.m/s فتكون السرعة التي يتحرك بها تساوي 20 m/s .
- 19- ( ) ترتبط طاقة الحركة وكمية الحركة بالعلاقة الرياضية التالية  $KE = \frac{1}{2} P v$
- 20- ( ) إذا كان مقدار التغير في كمية الحركة يساوي صفراً فإن هذا يعني بالضرورة أن طاقة حركته تساوي صفر .



## السؤال الثاني :

(أ) - أكمل العبارات التالية بما تراه مناسباً علمياً :

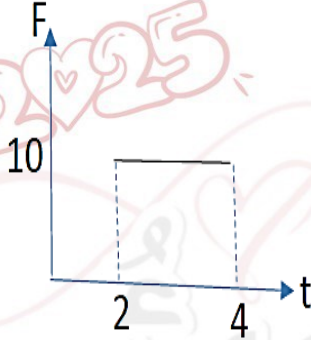
- 1- يعتبر تصادم الجزيئات الصغيرة والذرات تصادماً .....
  - 2- المساحة تحت منحنى ( القوة - الزمن ) تمثل عددياً مقدار .....
  - 3- عندما تكون الطاقة الحركية للنظام ( أثناء التصادم ) محفوظة يوصف التصادم بأنه .....
  - 4- جزئ غاز كتلته  $kg$  ( $m$ ) يصدم عمودياً بسرعه  $m/s$  ( $v$ ) جدار الإناء الحاوي له ويرتد بالاتجاه المعاكس بنفس مقدار سرعته فإن مقدار التغير في كمية الحركة بوحدة ( $kg.m/s$ ) يساوي .....
  - 5- جسم ساكن كتلته  $kg$  ( $2$ ) أثرت عليه قوة منتظمة فتغيرت سرعته بانتظام حتى أصبحت  $m/s$  ( $5$ ) في الاتجاه الموجب للمحور ( $x$  ) ، فإن الدفع على الجسم بوحدة ( $N.S$ ) يساوي .....
  - 6- في الشكل المقابل عندما تصطدم الكتلة ( $m_1$ ) المتحركة بسرعة متجهة ( $\vec{v}_1$ ) بالكتلة الساكنة ( $m_2$ ) تصادم تام المرنة نجد أن الكتلة ( $m_1$ ) بعد التصادم تصبح .....
- 
- 7- نلاحظ في الشكل المجاور إن الغزال ذو القوائم الطويلة له قصور ذاتي دوراني ..... من القصور الذاتي الدوراني للكلب.
- 
- 8- عندما ترتد الأجسام المتصادمة بعد اصطدامها بعيداً عن بعضها البعض بسرعات مختلفة عن سرعتها قبل التصادم وتكون الطاقة الحركية للنظام غير محفوظة يكون التصادم .....
  - 9- مدفع كتلته  $kg$  ( $1200$ ) يطلق قذيفة كتلتها  $kg$  ( $200$ ) بسرعة  $m/s$  ( $60$ ) . فإن سرعة ارتداد المدفع بوحدة  $m/s$  تساوي .....

10- عندما تكون محصلة القوى المؤثرة على الجسم تساوي صفر فإن كمية الحركة.....

11- القوة المؤثرة على جسم متحرك تساوي ..... للتغير في كمية الحركة .

12- التغير في كمية الحركة للجسم الذي يمثله منحنى (القوة-الزمن)

يساوي بوحدة N.s.....





13- تغيرت كمية حركة جسم بمقدار 5 kg.m/s فإنه يكون قد تلقى

دفعاً يساوي .....

14- تتحرك شاحنة فارغة كتلتها m بسرعة v فكانت كمية حركتها P فإذا حملت بشحنة فأصبحت كتلتها 2m وتحركت بسرعة 0.5 v فإن كمية حركتها تصبح .....

15- عند تصادم جسم كتلته m يتحرك بسرعة v مع جسم ساكن مساو له في الكتلة فالتحما بعد التصادم فإن سرعتهما المشتركة تساوي .....

16- تدافع جسمان كتلة الأول m وكتلة الثاني 2m على سطح أفقي أملس فيكون  $\Delta P_2$  تساوي .....

		وجه المقارنة
ركل كرة بقوة خط عملها لا يمر بمركز ثقلها	ركل كرة بقوة خط عملها يمر بمركز ثقلها	دوران الكرة

التصادم اللامرن	التصادم اللامرن كلياً	السرعة بعد الصدم
الصدم اللامرن	الصدم تام المرونة	حفظ كمية الحركة
		حفظ طاقة الحركة
الدفع	كمية الحركة	إذا تحرك الجسم بسرعة منتظمة (ثابتة)

\*ما العوامل التي يتوقف عليها: 1- القصور الذاتي الدوراني:

1- كتلة الجسم      2- بعد مركز الكتلة عن محور الدوران      3- شكل الجسم وتوزع كتلته

2- كمية الحركة الخطية:

1- الكتلة      2- متجه السرعة

3- الدفع: او (التغير في كمية الحركة)

1- القوة      2- زمن تأثير القوة

## علل لما يلي:

1- إيقاف شاحنة كبيرة أصعب من إيقاف سيارة صغيرة تسير بنفس السرعة.

لأن كمية حركة للشاحنة أكبر بسبب كتلتها الكبيرة

2- يعتبر ثني الساقين عند الجري مهماً.

لتقليل القصور الذاتي الدوراني فيسهل تأرجحهما للمام والخلف

3- سرعة ارتداد المدفع أقل من سرعة إطلاق القذيفة.

حسب قانون حفظ كمية الحركة تكون سرعة الكتلة الكبيرة أقل من سرعة الكتلة الصغيرة وبالاتجاه المعاكس

4- ينقلب الشخص الذي يحاول أن يلمس أصابع قدميه وهو واقف وظهره ملاصق للحائط.

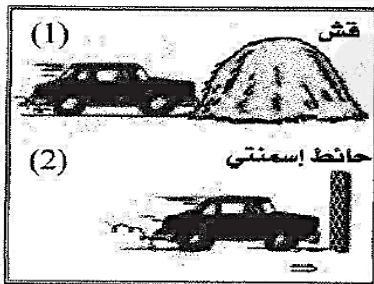
لوجود عزم دوران حيث يقع مركز ثقله امام قدميه

5- البهلوان المتحرك على سلك رفيع يمسك بيده عصا طويل.

ليزيد من قصوره الذاتي الدوراني مما يساعده على مقاومة السقوط

6- يعتبر النظام المتفجر نظاماً معزولاً . (أو كمية الحركة محفوظة)

لأنه يحدث خلال فترة زمنية قصيرة جداً فنكون القوى الخارجية تساوي صفراً بينما القوى الداخلية هائلة



7- في الشكل المجاور يكون تأثير الاصطدام في الحالة الاولى (1) أقل بكثير من تأثير الاصطدام في الحالة الثانية (2).

لأن زمن تأثير القوة في (1) أكبر من الحالة (2) فيكون تأثير القوة في (1) أقل من (2).

8- كتلة البندقية أكبر من كتلة القذيفة.

لكي تكون سرعة ارتداد البندقية أقل من سرعة انطلاق القذيفة حسب قانون حفظ كمية الحركة

9- إذا تحرك جسم بسرعة متجهة ثابتة فإنه لا يمتلك دفعا.

(الدفعا يساوي صفراً عندما يتحرك الجسم بسرعة ثابتة)

لأن العجلة تساوي صفراً فتكون القوى تساوي صفراً فلا يوجد دفعا حيث  $I = F \Delta t$

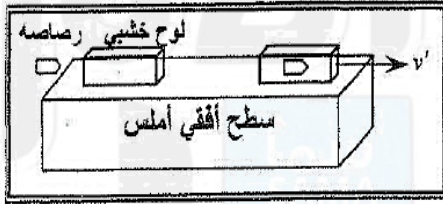


- 1- جسمان كتلة الأول 5Kg ويتحرك الى اليمين بسرعة مقدارها 2m/s ، وكتلة الثاني 3Kg ويتحرك نحو اليسار بسرعة مقدارها 2m/s فإذا تصادم الجسمان والتحما ليصبحا جسماً واحداً ، احسب :  
1- سرعة النظام المؤلف من الجسمين بعد التصادم.

.....  
.....

2- مقدار التغير في الطاقة الحركية.

.....  
.....  
.....  
.....



- 2- في الشكل أطلقت رصاصة كتلتها 0.1 Kg بسرعة 200 m/s على لوح سميك من الخشب ساكن كتلته 0.9 kg موضوع على سطح أفقي أملس، فإذا انغرست الرصاصة داخل اللوح وتحركت المجموعة معاً كجسم واحد .  
احسب :

1- سرعة النظام المؤلف من الكتلتين بعد التصادم .

.....  
.....

2- مقدار الطاقة الحركية للنظام بعد التصادم .

.....  
.....

- 3- كرة كتلتها  $(0.6)kg$  وتتحرك بسرعة  $(10) m/s$  ، تصادمت مع كرة أخرى ساكنة كتلتها  $(0.4)kg$  فإذا كان النظام معزولاً ، وبفرض أن هذا التصادم هو تصادم تام المرنة . المطلوب :
- 1 - حساب سرعة الكرتين بعد الصدم مباشرة .

2 - صف اتجاه حركة الكرتين بعد التصادم.

- 4- \*بندول قذفي يتكون من قطعة خشبية كتلتها  $5 kg$  اطلقت باتجاهها رصاصة كتلتها  $0.02 kg$  فسكنت داخلها وتحركا معا كجسم واحد ليرتفع البندول مسافة  $0.1 m$  احسب :
- 1-سرعة جملة الجسمين معا بعد التصادم :

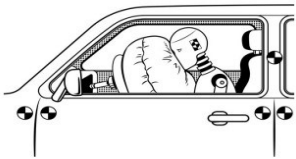
2-سرعة إطلاق الرصاصة :

- \*سيارة كتلتها  $1000 kg$  تتحرك بسرعة  $20 m/s$  يقودها سائق كتلته  $100 kg$  اصطدمت السيارة بحائط فتوقفت خلال  $0.5 s$  دون أن تفتح الوسادة الهوائية احسب :

1-التغير في كمية حركة السيارة :

2-القوة المؤثرة على الرجل :

- 3-وإذا فتحت الوسادة الهوائية سيكون زمن توقف الرجل  $4 s$  فكم تكون القوة المؤثرة عليه ؟



## أسئلة إضافية من البنك

- 1- عملية تقوم فيها قوة مؤثرة بإزاحة جسم في اتجاهها. ( الشغل )
- 2- الشغل الذي تبذله قوة مقدارها  $N$  (1) تُحرك جسمًا في اتجاهها مسافة متر واحد. ( الجول )
- 3- كمية عددية تساوي حاصل الضرب العددي لمتجهي القوة والإزاحة. ( الشغل )
- 1- المقدره على إنجاز شغل. ( الطاقة )
- 2- شغل ينجزه الجسم بسبب حركته. ( الطاقة الحركية )
- 3- طاقة يخترنها الجسم وتسمح له بإنجاز شغل للتخلص منها. ( الطاقة الكامنة )
- 4- الشغل المبذول على الجسم لرفعه إلى نقطة ما. ( الطاقة الكامنة الثقالية )
- 5- الطاقة اللازمة لتغيير موضع الجسم وتساوي مجموع الطاقة الحركية والطاقة الكامنة. ( الطاقة الميكانيكية )
- 1- مجموع الطاقة الحركية والطاقة الكامنة للجسم. ( الطاقة الميكانيكية )
- 2- مجموع الطاقة الداخلية  $U$  والطاقة الميكانيكية  $ME$ . ( الطاقة الكلية )
- 3- نظام لا تتبادل فيه الطاقة مع محيطها وتكون الطاقة الكلية محفوظة. ( النظام المعزول )
- 4- الطاقة لا تفنى و لا تستحدث من عدم، ويمكن داخل أي نظام معزول أن تتحول من شكل إلى آخر، فالطاقة الكلية للنظام ثابتة لا تتغير. ( قانون حفظ الطاقة )
- 1 - كمية فيزيائية تعبر عن مقدره القوة على إحداث حركة دورانية للجسم حول محور الدوران. ( عزم القوة )
- 2- المسافة العمودية من محور الدوران إلى نقطة تأثير القوة. ( ذراع الرافعة )
- 3- قوتان متساويتان بالمقدار ومتعاكستان بالاتجاه وليس لهما خط عمل. ( الازدواج )
- 4- حاصل ضرب مقدار إحدى القوتين بالمسافة العمودية بينهما. ( عزم الازدواج )
- 5- موقع محور الدوران حيث تكون محصلة عزوم قوى الجاذبية المؤثرة في الجسم الصلب حول هذا المحور تساوي صفرا. ( مركز الثقل )
- 1- مقاومة الجسم لتغير حركته الدورانية (القصور الذاتي الدوراني)
- 1- القصور الذاتي للجسم المتحرك. ( كمية الحركة الخطية )
- 2- حاصل ضرب الكتلة ومتجه السرعة. ( كمية الحركة الخطية )
- 3- حاصل ضرب مقدار القوة في زمن تأثيرها على الجسم. ( الدفع )
- 4- القوة الثابتة التي لو أثرت في الجسم للفترة الزمنية نفسها لأحدثت الدفع نفسه الذي تحدثه القوة المتغيرة. ( متوسط القوة )
- 1- كمية حركة النظام في غياب القوى الخارجية المؤثرة تبقى ثابتة ومنتظمة ولا تتغير. ( حفظ كمية الحركة الخطية )
- 2- التصادم الذي تكون فيه الطاقة الحركية للنظام محفوظة. ( التصادم المرن كليا )



علل لكل مما يلي تعليلاً علمياً سليماً :

1- ينعلم الشغل المبذول على جسم عندما يتحرك الجسم في مسار دائري. أو حركة الأقمار الصناعية

في الحركة الدائرية المنتظمة تكون القوة عمودية على الإزاحة وبالتالي  $\theta = 90^\circ$

$$W = F d \cos 90 = 0$$

2- ينعلم الشغل المبذول على جسم عندما يتحرك بسرعة ثابتة المقدار والاتجاه.

بسبب أن السرعة ثابتة المقدار والاتجاه فالعجلة تساوي الصفر وبالتالي محصلة القوى المؤثرة على الجسم

تساوي الصفر فيكون الشغل المبذول يساوي صفرًا،

$$\text{حيث } W = Fd \cos \theta = 0 \text{ أو من العلاقة ثابتة } v \rightarrow w = \Delta KE$$

3- ينعلم الشغل المبذول على جسم عندما يكون تأثير القوة عمودياً على اتجاه الإزاحة.

لأن الزاوية بين القوة والإزاحة  $\theta = 90^\circ$

$$\cos 90 = 0 \rightarrow W = Fd \cos 90 = 0$$

5- الشغل المبذول ضد قوى الاحتكاك يكون سالباً .

لأن اتجاه قوة الاحتكاك يكون معاكس لاتجاه حركة الجسم، أي أن  $\theta = 180^\circ$

$$\cos 180 = -1 \rightarrow W = Fd \cos 180 < 0$$

1- الكرة المقذوفة بسرعة أفقية كبيرة على مستوى أفقي تستطيع أن تقطع مسافة أكبر قبل أن تتوقف من كرة مماثلة لها

قذفت على نفس المستوى بسرعة أقل قبل أن تتوقف.

لأن الكرة في الحالة الأولى تمتلك طاقة حركية أكبر

2- إذا أسقطت مطرقة على مسمار من مكان مرتفع ينغرز المسمار مسافة أكبر مقارنة بإسقاطها من مكان أقل ارتفاعاً.

لأن المطرقة في الحالة الأولى تمتلك طاقة كامنة تتأقلية أكبر فتبدل شغل أكبر على المسمار.

3- المياه الساقطة من الشلالات يمكنها إدارة التوربينات التي تولد الطاقة الكهربائية.

لأن الطاقة الكامنة التآقلية تتحول إلى طاقة حركية وتقوم بإدارة التوربينات .

4- ينطلق الحجر الموضح بالشكل المقابل لمسافة بعيدة عند شد الخيط المطاطي بقوة

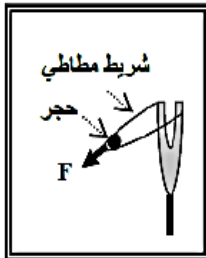
كبيرة للخلف.

لكي يخترن طاقة وضع مرونية كبيرة تتحول إلى طاقة حركة كبيرة

1- عند الهبوط بالمظلة ترتفع درجة حرارتها وكذلك الهواء المحيط بها.

لأن المظلي أثناء هبوطه بها يصل إلى سرعته الحدية الثابتة فتثبت طاقته الحركية وتتاقص طاقة الوضع

( التآقلية)، ويتحول هذا النقص إلى طاقة حرارية.





- 2- في الأنظمة المعزولة المغلقة تكون الطاقة الكلية محفوظة.  
لأنه النظام المعزول لا يتبادل الطاقة مع الوسط المحيط .
- 3- لا يتغير مقدار الشغل لرفع جسم من مستوى مرجعي إلى مرتفع معين باستخدام مستوى مائل بتغير زاوية ميل المستوى في غياب الاحتكاك.  
لأن الشغل المبذول على الجسم لا يتوقف على المسار الذي يسلكه إنما يتوقف على الإزاحة الرأسية.
- 1- يصنف العزم ككمية متجهة.  
لأنه ناتج من الضرب الاتجاهي لمتجهي القوة ونراعتها.
- 2- يصعب فك صامولة باستخدام مفتاح صغير.  
لأن ذراع العزم صغير وكلما قل الذراع قل عزم القوة فتقل الفائدة الميكانيكية وبالتالي تحتاج جهد أكبر لفك الصامولة.
- 3- استخدام مفتاح ذو ذراع طويلة عند فتح صواميل إطارات السيارات.  
لزيادة عزم القوة لتصبح الفائدة الميكانيكية أكبر والجهد المبذول أقل.
- 4- يوضع مقبض الباب عند الطرف البعيد عن محور الدوران.  
لزيادة ذراع العزم فيزداد عزم الدوران فتكون الفائدة الميكانيكية أكبر والجهد المبذول أقل.
- 5- تستخدم مطرقة مخرقة ذات ذراع طويلة لسحب مسمار من قطعة خشب.  
لكي يزداد طول ذراع القوة ويزداد عزم القوة وتبذل قوة أقل.
- 6- لا يمكنك فتح باب غرفة مقفل بالتأثير عليه بقوة خط عملها يمر بمحور الدوران مهما كانت القوة.  
لانعدام ذراع العزم حيث أن  $d = 0$ ، ومن القانون  $\tau = Fd = 0$ .
- 7- لا يترن الجسم القابل للدوران حول محور تحت تأثير قوتين متوازيتين ومتعاكستين في الاتجاه.  
لأن القوتين ليس لهما خط عمل واحد مما يسبب عزم ازدواج يؤدي إلى دوران الجسم
- 8- انقلاب شخص واقف وظهره وكعبا قدميه ملاصقان للحائط عند محاولته لمس أصابع قدميه.  
بسبب أن موقع مركز الثقل سيكون خارج المساحة الحاملة لجسمه فينتج عن ذلك عزم قوة يسبب انقلاب الشخص.
- 9- انطلاق كرة دون دوران عند التأثير عليها بقوة خط عملها يمر بمركز الدوران.  
لأنه لا ينتج عن هذه القوة أي أثر دوراني على الكرة.
- 1- يسهل عليك الجري وتحريك قدمك إلى الأمام والخلف عند ثنيهما قليلا.  
لأن ثني الساقين يقلل من عزم القصور الذاتي الدوراني فيسهل تأرجحهما إلى الأمام وإلى الخلف.
- 2- البندول القصير يتحرك إلى الأمام والخلف أكثر من تحرك البندول الطويل.  
لأن البندول القصير قصوره الذاتي الدوراني أقل ولذلك يسهل تأرجحه.
- 3- الكلب ذو القوائم الصغيرة يتحرك أسرع من الغزال.  
لأن الكلب قصوره الذاتي الدوراني أقل مما يجعله يتحرك بسرعة أكبر .

1 - يصعب إيقاف شاحنة كبيرة عن إيقاف سيارة صغيرة تتحرك بنفس سرعة الشاحنة.  
لأن كمية الحركة للشاحنة أكبر أو القصور الذاتي للشاحنة أكبر لأن كتلة الشاحنة أكبر  
2- كمية الحركة الخطية لجسم كمية متجهة.

لأنها تساوي حاصل الضرب لكمية متجهة ( السرعة المتجهة ) في كمية عددية ( الكتلة )  
3- الدفع كمية متجهة.

لأنه يساوي حاصل الضرب لكمية متجهة ( القوة ) في كمية عددية ( زمن التأثير).

4- توجد حقيبة هوائية داخل عجلة القيادة في السيارات الحديثة.

بسبب زيادة زمن التلامس وبالتالي يقل تأثير القوة ويقل احتمال إصابة السائق.

1- سرعة ارتداد المدفع أقل من سرعة انطلاق القذيفة.

بسبب حفظ كمية الحركة وبما أن كتلة المدفع أكبر من كتلة القذيفة فنكون سرعة ارتداده أقل من سرعة انطلاق القذيفة .

2- تصادم نرتين يعتبر تصادم مرناً.

لأنه تحقق عند تصادمهما حفظ كمية الحركة وحفظ طاقة الحركة فلا ينتج تشوهاً أو يولد حرارة بين النرتين.

3- يعتبر النظام المؤلف من الأجسام المتصادمة نظاماً معزولاً.

لأن التصادمات تستمر لفترة زمنية قصيرة جداً تكون خلالها القوى الخارجية مهملة مقارنة بالقوة الداخلية المسببة للتصادم.