

الفصل الأول

معالم الكويت الجغرافية والاقتصادية والحضارية

جغرافية دولة الكويت



١- الموقع والمساحة

- علل دراسة موقع الدول

-١

-٢

-٣

- تقع دولة الكويت بالنسبة لشبه الجزيرة العربية في الجزء ...
- تقع دولة الكويت بالنسبة للخليج العربي في الجهة ...
- المسطح المائي الذي يحده دولة الكويت من جهة الشرق يسمى ...
- الدولة التي تحده الكويت من الشمال والشمال الغربي تسمى دولة ...
- الدولة التي تحده الكويت من الجنوب والجنوب الغربي تسمى ...



- تقع دولة الكويت بين دائرتي عرض ...
- تقع دولة الكويت بين خطي طول ...
- تبلغ مساحة دولة الكويت ...

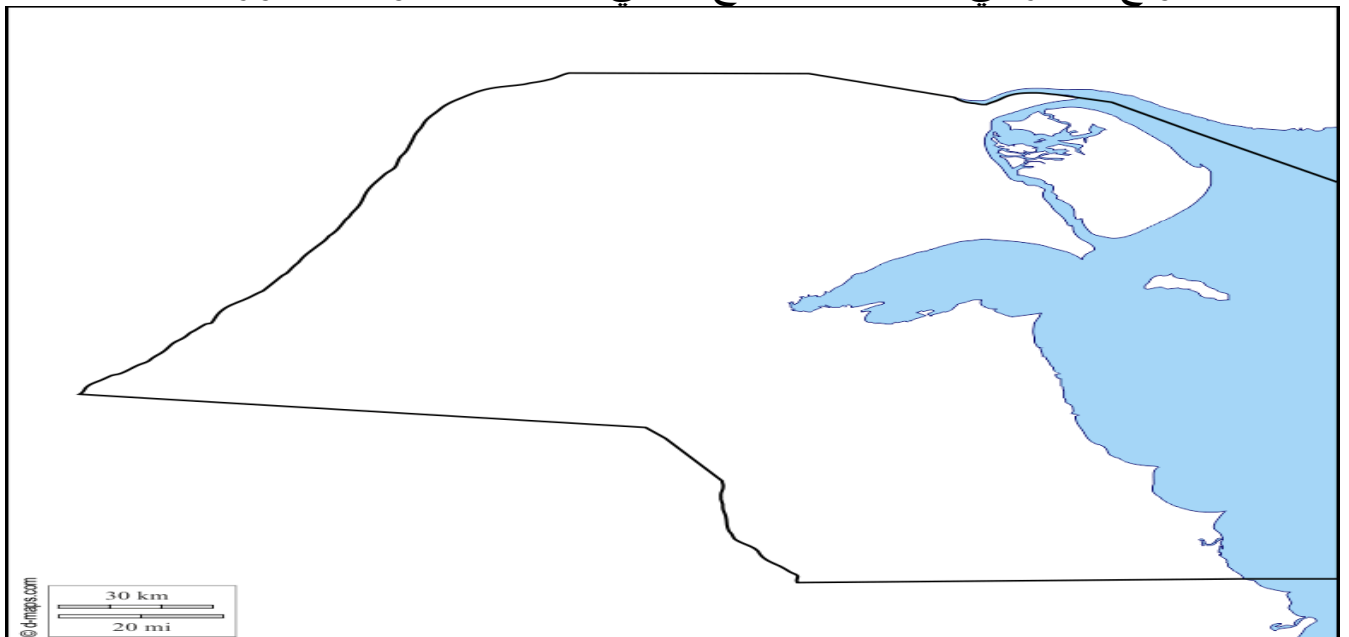


- علل اهمية الموقع الاستراتيجي لدولة الكويت شمال غرب الخليج العربي

- ١
- ٢
- ٣
- ٤
- ٥

حل اسئلة الكتاب ص ٢١ ، ٢٢

- على خريطة دولة الكويت الصماء أدناه سجل التالي
- * الموقع الجغرافي
- * المسطح المائي
- * الدول المجاورة



- اكتب عن مميزات موقع دولة الكويت

- ١
- ٢
- ٣
- ٤
- ٥

- هل دولة الكويت بحرية أم هي دولة مغلقة

- فرق بين الدول البحرية والدول المغلقة من حيث المفهوم

الدول المغلقة	الدول البحرية

٢- التضاريس



- ينحدر سطح دولة الكويت من ...

- ينحدر سطح دولة الكويت باتجاه ساحل ...

- يبلغ اعلى ارتفاع في المناطق الغربية الى ...

- أهم التلال الموجودة في شمال دولة الكويت تلال : ...

- أهم التلال الموجودة في جنوب دولة الكويت على شكل قباب تلال ...

- التل الذي يقع جنوب مدينة الاحمدي يسمى ...

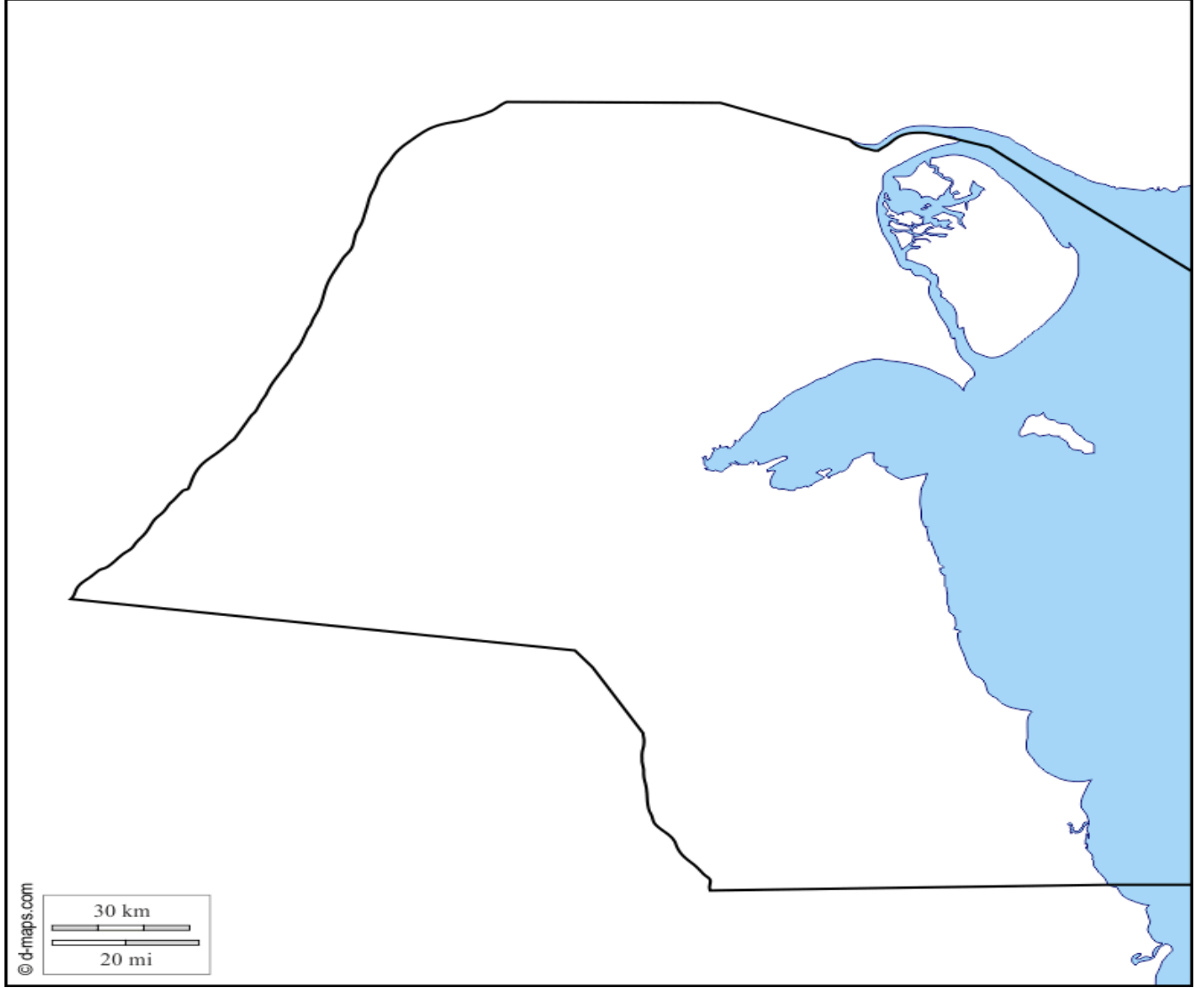
- من اهم المعالم التضاريسية في دولة الكويت ...

- وتمتد لمسافة ... من الشمال للجنوب

- الوادي الذي يمثل الحد الفاصل بين الحدود العراقية - الكويتية ...
- الوادي الذي يسير مع الحدود الغربية لدولة الكويت لمسافة ١٥٠ كم يسمى ...
- السهل الذي يحتل مساحة كبيرة في غرب وجنوب دولة الكويت ...

حل اسئلة الكتاب ص ٢٤

- ارسم خريطة دولة الكويت ثم حدد عليها المظاهر الطبيعية التالية



- أشهر السهول الموجودة في دولة الكويت ...
- سهل يمتد من جون الكويت باتجاه الجنوب موازيا للساحل يسمى ...
- من التلال التي تقع في سهل برقان تلال ...

- علل أهمية سهل برقان

- ١
- ٢
- ٣
- ٤

- السهل الذي يقع في شمال دولة الكويت وينحدر نحو الشرق والشمال الشرقي

حل اسئلة الكتاب ص ٢٥

- فرق بين السهل والتل من حيث ما هو مطلوب بالجدول التالي

وجه المقارنة	السهل	التل
المفهوم		

- ابحث عن مميزات سهل الروضتين

-١

-٢

- صنف المظاهر التضاريسية في دولة الكويت من خلال استعانتك بالكتاب المدرسي شكل ٢ حسب الجدول

سهول	وديان	تلال

- دولة الكويت ذات طبيعة ...

- من المناطق الصالحة للزراعة في دولة الكويت بسبب توفر المياه الجوفية ...

... -

... -

... -

... -

... -

- علل وجود بعض المناطق الزراعية في الكويت

-

- من الناحية الجيولوجية دولة الكويت جزء من ...

٣- جزر الكويت

و تمتلك دولة الكويت العديد من الجزر و يبلغ عددها 9 جزر



- الجزر التي توجد بالمياه الإقليمية لدولة الكويت يبلغ عددها ...

- أكبر الجزر في دولة الكويت تسمى ...

- نسبة مساحة جزيرة بوبيان من إجمالي مساحة الكويت تقدر ب ...

- الجزيرة التي أصبحت جزء من ميناء الشويخ تسمى جزيرة ...

- الجزيرتان اللتان كانتا مطمع لدولة العراق في مختلف مراحل الصراع مع الكويت هما ...

- علل طمع العراق في جزيرتي وربة وبوبيان

-١-

- اهم الجزر الكويتية تاريخيا والثانية من حيث المساحة وتسمى إيكاروس هي...
 - جزيرة كويتية ذكرها الرحالة الغربيون والمصادر اليونانية القديمة تسمى...
 - اخر الجزر الكويتية من ناحية الشمال تسمى ...
 - اخر الجزر الكويتية من ناحية الجنوب تسمى ...
 - أصغر الجزر الكويتية من حيث المساحة جزيرتا ...
 - جميع الجزر الكويتية كانت غير مأهولة بالسكان عد جزيرة...
 - وإصبحت غير مأهولة
 - بعد ...

حل اسئلة الكتاب ص ٢٧ : ٢٩

- على خريطة دولة الكويت الصماء التالية حدد الجزر الكويتية



- ٢- رتب الجزر الكويتية حسب موقعها من الشمال الى الجنوب في الجدول التالي

- ٣- وضح نسبة مساحة جزيرة بوبيان نسبة للمساحة الإجمالية للكويت على الدائرة البيانية

- ٤- قارن بين الجزيرة وشبه الجزيرة من حيث المفهوم في الجدول التالي

شبه الجزيرة	الجزيرة	وجه المقارنة
		المفهوم

٥- اكتب تقريراً لا يتعدى خمسة أسطر عن أهمية جزيرة فيلكا التاريخية :

-

٦- اقترح ثلاث مشاريع لجعل جزيرة فيلكا ذات أهمية استراتيجية

-١

-٢

-٣

٤- المناخ

- الإقليم المناخي الذي تنتمي له دولة الكويت يسمى ...
- علل تمتاز دولة الكويت بمناخ قاري جاف قارس

-

- علل اختلاف المناخ بين مناطق ودول العالم

-

- صف مناخ دولة الكويت او علل لموقع الكويت الفلكي أثر كبير على المناخ

-١

-٢

-٣

-٤

-٥

-٦

- من مناطق المياه الجوفية العذبة في الكويت ...
- ...
- ...

حل اسئلة الكتاب ص ٣١

* علل : اختلاف المناخ بين مناطق دول العالم

-

* ما الإقليم المناخي الذي تنتمي إليه دولة الكويت

-

* صف حالة الجو في دولة الكويت خلال فصلي الشتاء والصيف

-

-

* اقترح حلولاً لترشيد المياه في دولة الكويت للمحافظة على هذه الثروة

-

الرياح في دولة الكويت

- عدد اهم الرياح التي تهب على الكويت

-٢

-١

-٤

-٣

- الرياح التي تهب على الكويت معظم ايام السنة تسمى الرياح ...

- علل تتميز الرياح الشمالية الغربية بالجفاف

-

- () هي الرياح الجنوبية الشرقية وهي رياح رطبة دافئة تتسبب في

رفع درجة الحرارة والرطوبة في فصل الصيف وممطرة شتاء

- علل تتميز الرياح الجنوبية الشرقية بأنها رطبة ودافئة

-

- () هي رياح جافة ذات حرارة عالية تهب من الشمال أو الشمال الشرقي

وترفع درجات الحرارة إلى مستوى عالٍ جداً في فصل الصيف

- () هي رياح تهب في أواخر الربيع وأوائل الصيف وتكون

مصحوبة بعواصف رعدية يسقط بسببها المطر الشديد

- فرق بين

السموم	الكوس

- فرق بين

السرايات	الرياح الشمالية الغربية

حل أسئلة الكتاب ص ٣٣

* علل لما يأتي

١- تمتاز الرياح الشمالية الغربية بالجفاف

-

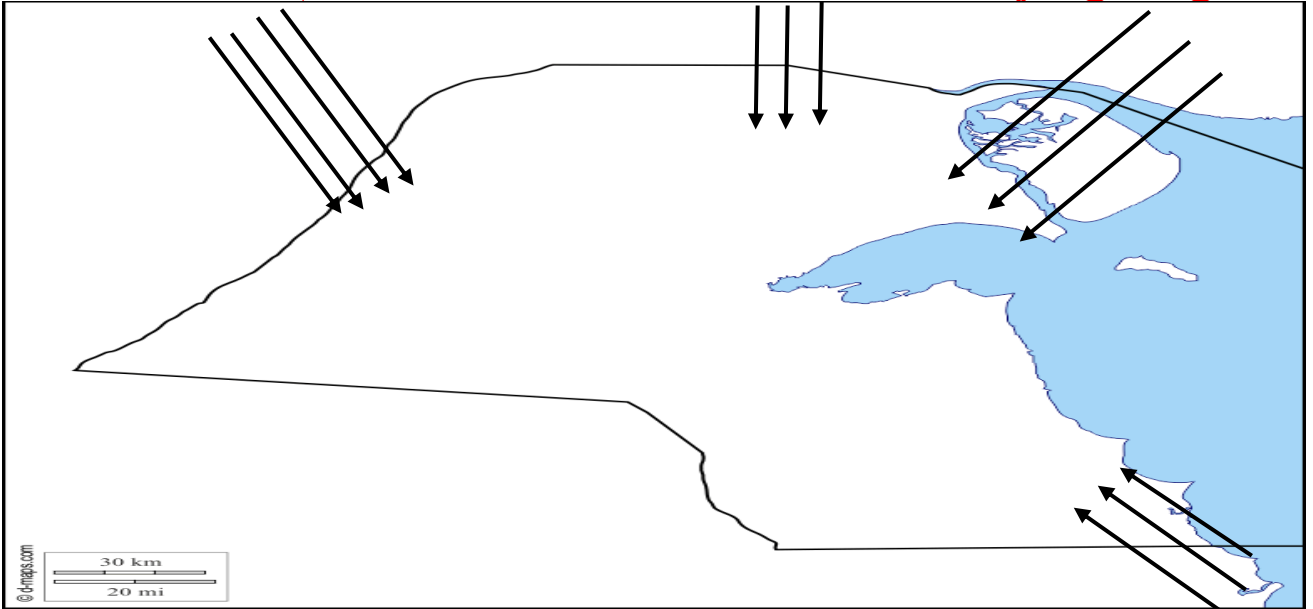
٢- تمتاز الرياح الجنوبية الشرقية بأنها رطبة ودافئة

-

* من أنا :

- () أهب من الجنوب الشرقي وأنا رطبة ودافئة)
() أهب معظم أيام السنة وأنا جافة وتنخفض بسببي درجات الحرارة)
() ظاهرة مناخية تهب في أواخر الربيع وأوائل الصيف)
() من أشهر الفلكيين في دولة الكويت)

* أذكر أنواع الرياح التي تهب على دولة الكويت محددًا اتجاهاتها بالرسم على الخريطة



١- رياح السموم رياح شمالية وشمالية شرقية

٢- رياح الكوس رياح جنوبية شرقية

٣- الرياح الشمالية الغربية

٥- السكان

- **دلل على ان الكويت لم تكن منطقة مهجورة او خالية من السكان منذ القدم**

-١

-٢

- **علل ارتباط سكان الكويت بالتركيبة السكانية لسكان شبه الجزيرة العربية**

-

- **الاقليم الذي يحتل المنطقة الغربية للخليج العربي ويمتد من جنوب البصرة شمالا حتى عمان جنوبا**

يسمى ...

- الكويت افتقدت قبل نزول العتوب بها لاهم عنصرين لبناء الدولة هما ...
- يعود الوجود البشري في دولة الكويت الى أكثر من ...
- **دلل على وجود البشر في الكويت من ٤٠٠٠ سنة قبل الميلاد**

- الحضارة التي قامت في الكويت قبل ٤٠٠٠ سنة تسمى ...
- العام الذي اجري فيه اول تعداد رسمي للسكان في الكويت عام ...
- الامير الذي تم في عهده اول تعداد لسكان الكويت الشيخ ...
- تولى الشيخ عبد الله السالم الصباح الحكم بين عامي ...
- الجهة التي قامت بأجراء اول تعداد سكاني عام ١٩٥٧ ...
- بلغ عدد سكان الكويت عام ١٩٩٠ حوالي ...
- نسبة الوافدين في الكويت عام ١٩٩٠ بلغ ...
- **علل قلة الوافدين في دولة الكويت عام ١٩٩٠**

- بلغ عدد سكان الكويت عام ٢٠١٤ حوالي ...
- الامير الذي اجري في عهده تعداد ٢٠١٤ يسمى الشيخ ...
- **علل زيادة اعداد الوافدين على نسبة الكويتيين في تعداد ٢٠١٤**

-١
-٢

- بلغ عدد السكان الكويتيون في الكويت عام ٢٠١٤ حوالي ...

حل اسئلة الكتاب ص ٣٥ : ٣٦

* **علل ما يلي زيادة نسبة الوافدين على نسبة الكويتيين**

-١
-٢

* **اكتب حقيقة واحدة استنتجها من الجدول البياني**

* **حول تصنيف البيانات الواردة نسبة الوافدين عام ١٩٩٠ إلى دائرة بيانية توضح النسبة**

* **علل قلة الوافدين بعد عام ١٩٩٠**

الأنشطة الاقتصادية قديما

- عدد خصائص المجتمع الكويتي قبل اكتشاف النفط

- ١
- ٢
- ٣
- ٤
- ٥
- ٦
- ٧

- دال على صحة هذه العبارة (تميز النشاط الاقتصادي للمجتمع الكويتي القديم بالتنوع)

- ١
- ٢
- ٣
- ٤

- علل تميز النشاط الاقتصادي للمجتمع الكويتي القديم بالتنوع

- من القرى الزراعية خارج مدينة الكويت ... -

(أ) الخليج العربي أحد أهم الطرق التجارية القديمة

- علل يعد الخليج العربي اهم الطرق التجارية القديمة

- ١
- ٢
- ٣
- ٤
- ٥
- ٦

(ب) طريق الحرير

- عرف طريق الحرير :

- المحور الأكثر أهمية للتجارة الدولية في العالم القديم يسمى ...
- الدولة التي يبدأ منها طريق الحرير تسمى ... وينتهي في ...
- لطريق الحرير مساران ...
- الميناء الصيني الذي يبدأ منه طريق الحرير هو ...

- عل الأهمية الاقتصادية لطريق الحرير

- ١

- ٢



- يتفرع طريق الحرير البحري الى فرعين الاول يتجه شمالا الى ...
والثاني يتجه غربا الى ...

حل النشاط ص ٣٩

* لاحظ الخريطة التالية ثم حدد

أ- أسماء المسطحات المائية التي يمر بها طريق الحرير البحري

١- المحيط الهادي ٢- المحيط الهندي ٣- الخليج العربي



أنواع الأنشطة الاقتصادية

اولاً النشاط البحري

- علل يعد النشاط البحري هو النشاط السائد في الكويت قديماً
او علل ضعف مشاركة النشاط البري في الاقتصاد الكويتي قديماً

-١

-٢

-٣

- عدد اهم الانشطة البحرية في الكويت

-٢

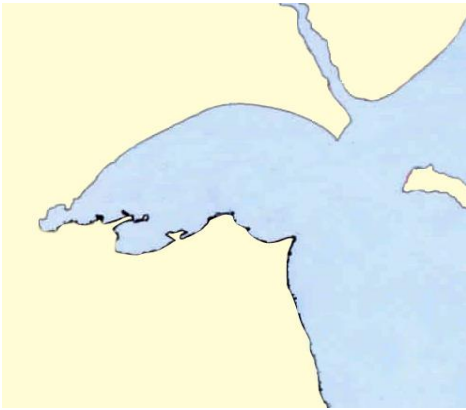
-١

-٣

- دلل على صحة هذه العبارة لعب المناخ دور مهم في اتجاه معظم الكويتيين للنشاط البحري

-١

-٢



حل النشاط ص ٤٠

* اكتب فقرة لا تتعدى ثلاثة أسطر عن أهمية جون الكويت

-

-

-

١- صيد الاسماك

- علل اهمية حرفة صيد الاسماك

-١

-٢

-٣

-٤

-٥

- الحرفة التي لم يتوقف سكان الكويت عن ممارستها قبل وبعد النفط هي ...

- من أنواع الأسماك في الكويت ...

...- ...-

- من طرق الصيد في الكويت ...

...- ...- ...-

- عرف القمبار:

- من السفن التي تستخدم للصيد في الكويت ...

- من أماكن الصيد في الكويت شمالاً ...

...- ...-

- من أماكن الصيد في الكويت جنوباً ...

...-

٢- صناعة السفن

- علل تطور صناعة السفن في الكويت قديما



- ١
- ٢
- ٣
- ٤
- ٥

- عرف العمائر الساحلية :

- عرف الأستاذ :


- عرف القلاف :

- علل ساعدت الواجهة البحرية للكويت على ازدهار صناعة السفن

- ١
- ٢
- ٣
- ٤

- صمم مخطط سهمي يوضح أنواع السفن في دولة الكويت قديما

- من سفن النقل التجاري في الكويت قديما ...
- من سفن الغوص بحثا عن اللؤلؤ ...
- من سفن الصيد في الكويت قديما ...
- تجلب الاخشاب المستخدمة في صناعة السفن من ...
- من المواد المستخدمة في صناعة السفن ...



- **دلل على اعتزاز دولة الكويت بتراثها البحري**

- ١
- ٢
- ٣

حل النشاط ص ٤٢ : ٤٣

* ابحث في موقع الكتروني أو كتاب عن استخدامات كل نوع من انواع السفن الكويتية

- سفن النقل التجاري في الكويت قديما ... -
- سفن الغوص بحثا عن اللؤلؤ ... -
- سفن الصيد في الكويت قديما ... -
- * من اين كانت تجلب الاخشاب المستخدمة في صناعة السفن من ... -
- * اذكر المواد المستخدمة في صناعة السفن قديما ... -
- * لاحظ الصورتين وحدد المشترك بينهما ... -

٣- الغوص على اللؤلؤ

- علل للبحر أهمية كبيرة للكويتيين الأوائل

-١

-٢

- اشهر حرفة مارسها اهل الكويت منذ النشأة حتى الخمسينات ...
- علل سبقت حرفة الغوص على اللؤلؤ غيرها من الأنشطة الاقتصادية

-

- بداية موسم الغوص تسمى... ونهايته تسمى...

- عرف الدشة :

- عرف القفال :

- عرف الهيرات :

- من مسميات اللؤلؤ ... -

- من السفن المستخدمة في الغوص بحثا عن اللؤلؤ ... -

... -

- علل كساد تجارة الغوص على اللؤلؤ في الكويت

-

- العام الذي صدر فيه قانون الغواصين في عهد الشيخ احمد الجابر عام...

- علل اصدر الشيخ احمد الجابر قانون الغواصين

-١

-٢

- صمم مخطط سهمي يوضح العاملين في حرفة الغوص

- عرف النوخدة :



- عرف المجدمي :

- عرف الغيص :

- عرف السيب :

- عرف النهام :

- عرف الرضيف :

- الطواش :

- علل لحرفة الغوص على اللؤلؤ تأثير كبير على حياة اهل الكويت

-١

-٢

-٣

-٤

حل النشاط ص ٤٦

- علل انقراض حرفة الغوص للبحث عن اللؤلؤ - أو -

* ابحث ودون ملاحظاتك حول انقراض حرفة الغوص للبحث عن اللؤلؤ



-١

-٢

-٣

٤- التجارة

- عرف الترانزيت :

- تأسست الكويت عام ...

- علل ازدهار وتطور الكويت بعد التأسيس عام ١٦١٣

-٢

-١

-٣

- علل الكويت قديما من المراكز التجارية المهمة

-١

-٢

-٣

-٤

-٥

- عرف موسم السفر :

- علل إغلاق موسم السفر في شهر مايو

-

- يبدأ موسم السفر بتوجه السفن الكويتية الى ميناء...
- اذكر القرارات الحكومية التي ساعدت على الازدهار التجاري والاقتصادي

- ١
-٢
-٣
-٤
-٥
-٦

حل النشاط ص ٤٨ ، ٤٩

* علل لما يأتي

أ- كانت الكويت قديماً مركزاً تجارياً مهماً

- ١
-٢
-٣
-٤
-٥
-٦

ب - يعد حجم السوق الكويتي قديماً صغيراً جداً

* فرق بين مفهومي الدشة والقفال لموسم الغوص

الدشة :
القفال :

ثانياً النشاط البري

١- الرعي

- الحرفة الأساسية لسكان البادية في الكويت حرفة ...
- من النباتات الموسمية التي تقوم عليها حرفة الرعي في الكويت ...
- من النباتات المعمرة التي تقوم عليها حرفة الرعي في الكويت ...
- علل تراجع حرفة الرعي حالياً في الكويت

- ١
-٢

٢- الزراعة

- علل قلة الزراعة في الكويت

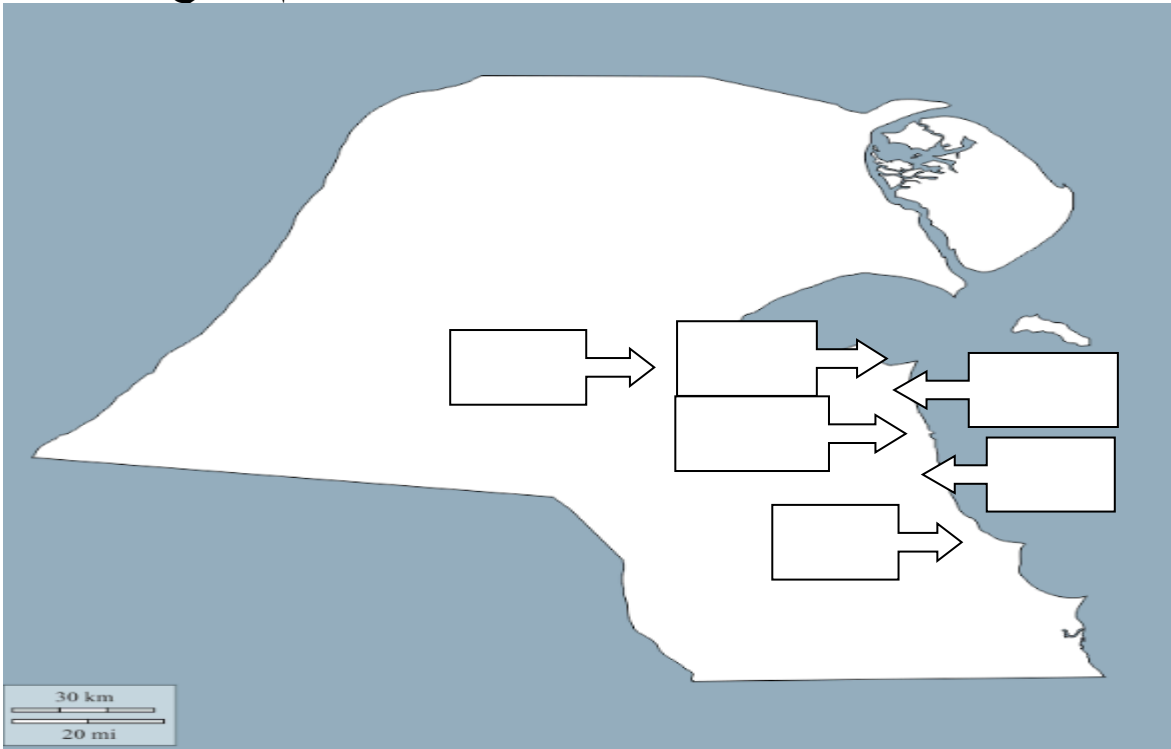
- ١

- من مصادر المياه المستخدمة في الزراعة ...
- صمم مخطط سهمي يوضح اهم المناطق الزراعية في الكويت قديما

- قام الكويتيون بزراعة ...
- من الاشجار التي استخدمها الكويتيون كمصدات للرياح ...
- من النباتات البرية في الكويت ...

حل نشاط الكتاب ص ٥١

* حدد على خريطة دولة الكويت الصماء المناطق الزراعية القديمة ثم استنتج حقيقة واحدة



* الحقيقة :

* اكتب نصاً لا يقل عن ثلاثة اسطر تبين من خلاله تطور الزراعة في دولة الكويت

ثالثا الحرف اليدوية

- من الحرف اليدوية قديما ...

- عرف النجارة :

- كان النجار يستخدم الاخشاب المستوردة من ...

- يقوم النجار بصناعة ...

- عرف الشداخة :

- عرف الحداد :



- من الادوات التي يصنعها الحداد ...

- عرف الصخين :

- عرف الصفار :

- عرف التناك :

- عرف القفاص :



- عرف المنز :

- عرف الرك :

- عرف الحياك :

- عرف النداف :



- عرف السدو :

- من الحرف اليدوية النسائية في الكويت قديما ...

- من الصناعات التي تتعلق بالسدو حياكة ...

- عرف العدول :

- عرف المزاد :

حل النشاط ص ٥٤ ، ٥٥

* ابحث عن معنى المصطلحات الكويتية القديمة التالية حسب الجدول الذي امامك

	الباسجيل
	السحارة
	الصخين
	الهييب
	المرازيم
	الجدوم
	التختة

* اختر ثلاث حرف أخرى لم يتم ذكرها في الكتاب المدرسي ثم استعن بمحرك البحث لكتابة تقرير عنها ثم دعم كل حرفه منها بصورة مناسبة

١- الصايغ



٢- الوزن



٣- الصراف



المعالم الحضارية لدولة الكويت

- علل لعبت الكويت دور في التواصل بين حضارات شمال الخليج وجنوبه

-

- المناطق التي تم فيها رصد اثار الانسان القديم في جنوب الكويت ...
- من المناطق التي تم فيها اثار بشرية ...

- أهم مراحل التطور الحضاري لدولة الكويت قديما

-١

-٢

- علل أهمية حضارة الصبية (العبيد)

-١

-٢

-٣

-٤

-٥

- اقدم قارب في منطقة الخليج العربي قارب ...



- الحضارة التي سيطرت على منطقة الخليج في النصف الثاني من الالف الأولى قبل الميلاد تسمى ...

- من الجزر التي اكتشف فيها آثار الحضارة الإغريقية جزيرة ...

- **دلل على سيطرة الحضارة الاغريقية على منطقة الخليج العربي**



- أقدم حضارة توجد في جزيرة فيلكا الحضارة ...

- بدأت اعمال التنقيب الاثري في جزيرة ... عام ...

- **عدد اهم اثار الحضارة الاغريقية في جزيرة فيلكا**

- ١

- ٢

- ٣

- استمر الوجود الإغريقي على جزر جون الكويت حتى ...

- **علل لعبت جزيرة فيلكا دورا رئيسيا في منطقة الخليج العربي خلال الألفين الثالث والثاني قبل الميلاد**

- ١

- ٢



- **اذكر ابرز ما خلفته حضارة دلمون في جزيرة فيلكا**

- ١

- ٢

- ٣

- **اذكر استخدامات أختام دلمون**

- ١

- ٢

- ٣

صور لآثار جزيرة فيلكا



الكويت والحضارة الإسلامية

- منطقة في الكويت التي وقعت فيها معركة ذات السلاسل بين المسلمين والفرس عام ١٢ هـ تسمى...
- علل الأهمية التاريخية لمعركة كاظمة (ذات السلاسل)

-

- عدد أبرز ما خلفته الحضارة الإسلامية في الكويت

- ١
- ٢
- ٣

حل اسئلة الكتاب ص ٥٨ : ٦١

* دون في الجدول التالي الآثار التي وجدت في الصبية وفيلكا . ماذا تلاحظ

آثار فيلكا	آثار الصبية
ماذا لاحظت :	

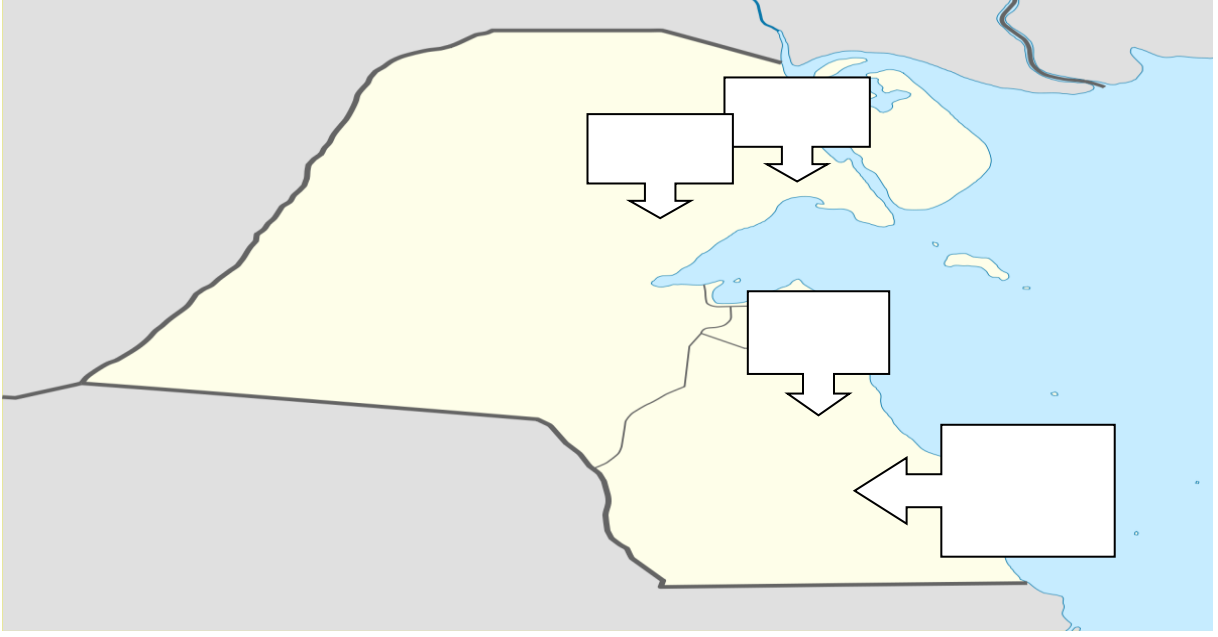
* اذكر بعض مظاهر الامتداد الحضاري لمنطقة الكويت قديما

-

* علل لما يأتي : الكويت همزة الوصل بين حضارة بلاد الرافدين شمالاً وبلاد السند جنوباً

-

* ظلل جزيرة فيلكا على الخريطة الصماء التالية
* حدد المواقع التاريخية لـ (منطقة تل وارة - سهل برقان - الصبية - كاظمة)



* عرف الحضارات التالية
* الحضارة الإغريقية :

* الحضارة الدلمونية :

* الحضارة الهلينستية :

صور لمجموعة من الآثار المكتشفة في دولة الكويت



...

...



...



...



...



...

* أكتب تقريراً لا يتعدى خمسة أسطر عن آخر اكتشاف أثري في دولة الكويت عام ٢٠١٦م في منطقة بحرة الأثرية

-

الفصل الثاني نشأت الكويت

نشأت الكويت عام ١٦١٣م

- تأسست الكويت في الجزء الشمالي الغربي من الخليج العربي في العام ...

- عرف الكويت :

- يطلق على الحصون المتعددة ذات القلاع والاسوار ...
- انتهى حكم الكوت الى آل صباح عندما كانت تسمى ...

- عرف القرين :

- المرتفع التي نشأت حوله وفوقه مدينة الكويت يسمى مرتفع ...

حل النشاط ص ٦٥

- علل بناء القلاع قديما

-

نشأة الكويت وتأسيسها ١٦١٣م

الحكم عام...-

- تولى الشيخ مبارك الصباح حاكم الكويت ...
- موطن جماعات العتوب كان في نجد بمنطقة تسمى ...
- المنطقة التي استقر فيها العتوب تسمى ...
- القبيلة التي نزل العتوب في حمايتها تسمى قبيلة ...

- ما النتائج المترتبة على سيطرة بني خالد على المنطقة

-١

-٢

-٣

-٤

- اول حاكم للمجتمع الجديد في الكويت هو ...

- علل اختيار صباح الاول حاكم للكويت

-

العتوب

- عرف العتوب :

...-

...-

- اشهر من ينتمي للعتوب من قبائل العرب...-

-علل تسمية العتوب بهذا الاسم

-

- محطة الاستقرار الاولى للعتوب كانت...-

- علل هجرة العتوب من موطنهم الأصلي

-١

-٢

- كانت قطر هي محطة الاستقرار الأولى للعتوب حيث استقروا في منطقة تسمى ...
بالقرب من منطقة ...

- الفترة التي استقر فيها العتوب في قطر حوالي ...

- تعلم العتوب خلال استقرارهم بقطر حرفة ...

- علل هجرة العتوب من قطر

-



- بعد خلاف العتوب في قطر هاجروا الى ...
منطقة الكوت او القرين (...)
ثم الى ...
واخيرا استقروا في

اختيار (آل صباح) لحكم الكويت

- اول من حكم الكويت منذ التأسيس هم ...

- موظف شركة الهند الشرقية الذي تحدث عن الاسر المؤسسة للكويت هو ...

- صمم مخطط سهمي يوضح تقسيم المهام بين الاسر الثلاثة الكبيرة في الكويت



- علل اختيار الشيخ صباح الأول للحكم في الكويت

-١

-٢

-٣

-٤

- علل اختيار اهل الكويت لمنطقة صحراوية حارة قليلة المياه للعيش فيه

-

-

- **دلل على يعد اختيار الشيخ صباح الأول للحكم بداية لظهور الكويت ككيان سياسي**

- ١
- ٢
- ٣

الكويت بعد التأسيس

- **عدد مراحل استقرار الحكم لآل صباح بعد عملية التأسيس**

- ١
- ٢
- ٣

- استقر كل من الجلاهمة آل خليفة بعد رحيلهم من الكويت في منطقة ...
- القبيلة القوية التي امتد نفوذها من قطر جنوباً حتى البصرة شمالاً بمحاذاة ساحل الخليج تسمى قبيلة ...

حل النشاط ص ٦٩

- * ابحث عن مواطن استقرار كل من الجلاهمة وآل خليفة بعد رحيلهم من الكويت
-
- * من هم العتوب؟ اكتب تعريفاً موجزاً عن العتوب في حدود سطرين
-

علاقة الكويت وبني خالد

- **اكتب عن دور بني خالد في نمو واستقرار امارة الكويت**

- ١
- ٢
- ٣

- القبيلة التي امتد نفوذها من قطر جنوباً حتى حدود البصرة شمالاً تسمى ...

حل النشاط ص ٧٠

- * من هم بني خالد؟ وما طبيعة الخلاف بينهم وبين العثمانيين من جهة والسعوديين من جهة اخرى؟
-

* طبيعة الخلاف بين بنو خالد والعثمانيين

* طبيعة الخلاف بين بنو خالد والسعوديين

حكام الكويت

١- الحاكم الاول : الشيخ صباح الأول بن جابر ١٧٥٢ – ١٧٦٣

- اول حكام الكويت بعد استقرار العتوب فيها حاكم اسمه الشيخ ...

- تولى الشيخ صباح الاول الحكم بين عامي ...

- عدد اهم اعمال الشيخ صباح الاول بن جابر

-١

-٢

-٣

-٤

-٥

٢- الحاكم الثاني : الشيخ عبدالله الأول بن صباح بن جابر ١٧٦٣ – ١٨١٤

- الحاكم الثاني للكويت يسمى ...

- تولى الشيخ عبدالله الاول الحكم بين عامي ...

- علل اختيار الشيخ عبد الله الأول حاكم للكويت رغم انه أصغر الابناء سن

-١

-٢

- عدد أهم اعمال الشيخ عبد الله الاول بن صباح

-١

-٢

- اذكر اهم الاحداث في زمن الشيخ عبد الله الأول

-١

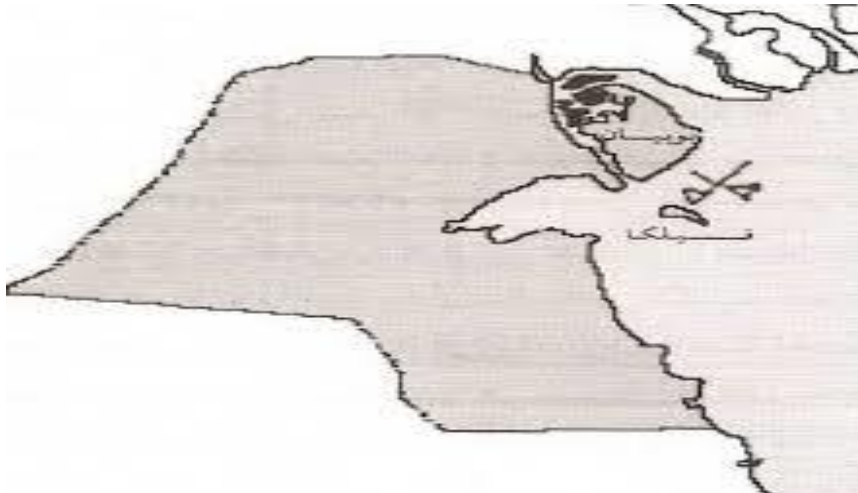
-٢

- وقعت معركة الرقة البحرية بين الكويت ...

- العام الذي وقعت فيه معركة الرقة التاريخية عام ...

- اول معركة بحرية في تاريخ امارة الكويت معركة ...

- المكان الذي وقعت فيه معركة الرقة البحرية بالقرب من ...



- علل معركة الرقة البحرية

- ١
- ٢
- ٣
- ٤

- نتائج معركة الرقة

- ١
- ٢



- تعرض ميناء البصرة لنكبات على يد ...
- العام الذي تم فيه بناء السور الاول حول الكويت عام ...
- علل بناء سور الكويت الأول عام ١٧٩٧ م

حل النشاط ص ٧٣

* علل : بناء أسوار الكويت الثلاثة

- لحماية الكويت من الاخطار الخارجية

* نظم جدولاً لمعركة الرقة يحتوي على (تاريخ المعركة – الأطراف المتحاربة – الأسباب – النتائج)

تاريخ المعركة	
الأطراف المتحاربة	
الأسباب	
النتائج	

٣- الحاكم الثالث الشيخ جابر الأول بن عبدالله الصباح ١٨١٤ – ١٨٥٩م

- الحاكم الثالث للكويت الشيخ ...
- تولى الشيخ جابر الاول الحكم بين عامي ...
- الدولة التي كان يوجد بها الشيخ جابر الأول حين وفاة والده تسمى ...

- عدد صفات الشيخ جابر الأول

- ١
- ٢

- علل تسمية الشيخ جابر بجابر العيش

- ١
- ٢
- ٣

- زار البريطاني بروكس الخليج عام ...
- البريطاني الذي زار منطقة الخليج عام ١٨٣٠ الكابتن ...
- من القائل (إن لأهل الكويت علينا حق عظيماً ولو كانت تحت يدي ثروة طائلة لقمتم بحاجة الفقراء والمحتاجين منها إلى ان يموتوا) هو ...

- عدد أهم اعمال الشيخ جابر الأول بن عبدالله الصباح

-١

-٢

-٣

-٤

-٥

- العام الذي طلب فيه المقيم البريطاني رفع الراية الانجليزية في الكويت ...
- علل تعتبر فترة حكم الشيخ جابر الأول فترة ازدهار بحري للكويت

-١

-٢

-٤- الحاكم الرابع الشيخ صباح الثاني بن جابر ١٨٥٩ – ١٨٦٦

- الحاكم الرابع للكويت يسمى ...
- تولى الشيخ صباح الثاني الحكم بين عامي ...
- عدد اهم اعمال الشيخ صباح الثاني بن جابر
- ١
- ٢
- علل ألغى الشيخ صباح الثاني فرض رسوم على بضائع التجار

-

- المعتمد البريطاني الذي زار الكويت عام ... يسمى ...
- الرحال الاجنبي الذي زار الكويت في عهد الشيخ صباح الثاني هو ...

-٥- الحاكم الخامس الشيخ عبدالله بن صباح الثاني ١٨٦٦ – ١٨٩٢ م

- الحاكم الخامس للكويت يسمى الشيخ ...
- تولى الشيخ عبدالله الحكم بين عامي ...
- عدد صفات الشيخ عبدالله بن صباح الثاني
- ١
- ٢
- ٣
- اذكر اهم اعمال الشيخ عبدالله بن صباح الثاني

-

- العام الذي قاد مدحت باشا حملة العثمانيين على الاحساء عام ...

- امير الكويت الذي قاد الاسطول البحري في حملة الاحساء الشيخ ...
- الذي قاد الجيش البري في حملة الاحساء ...
- عدد السفن الكويتية التي شاركت في حملة الاحساء ...

الحاكم السادس الشيخ محمد بن صباح ١٨٩٢ - ١٨٩٦ م

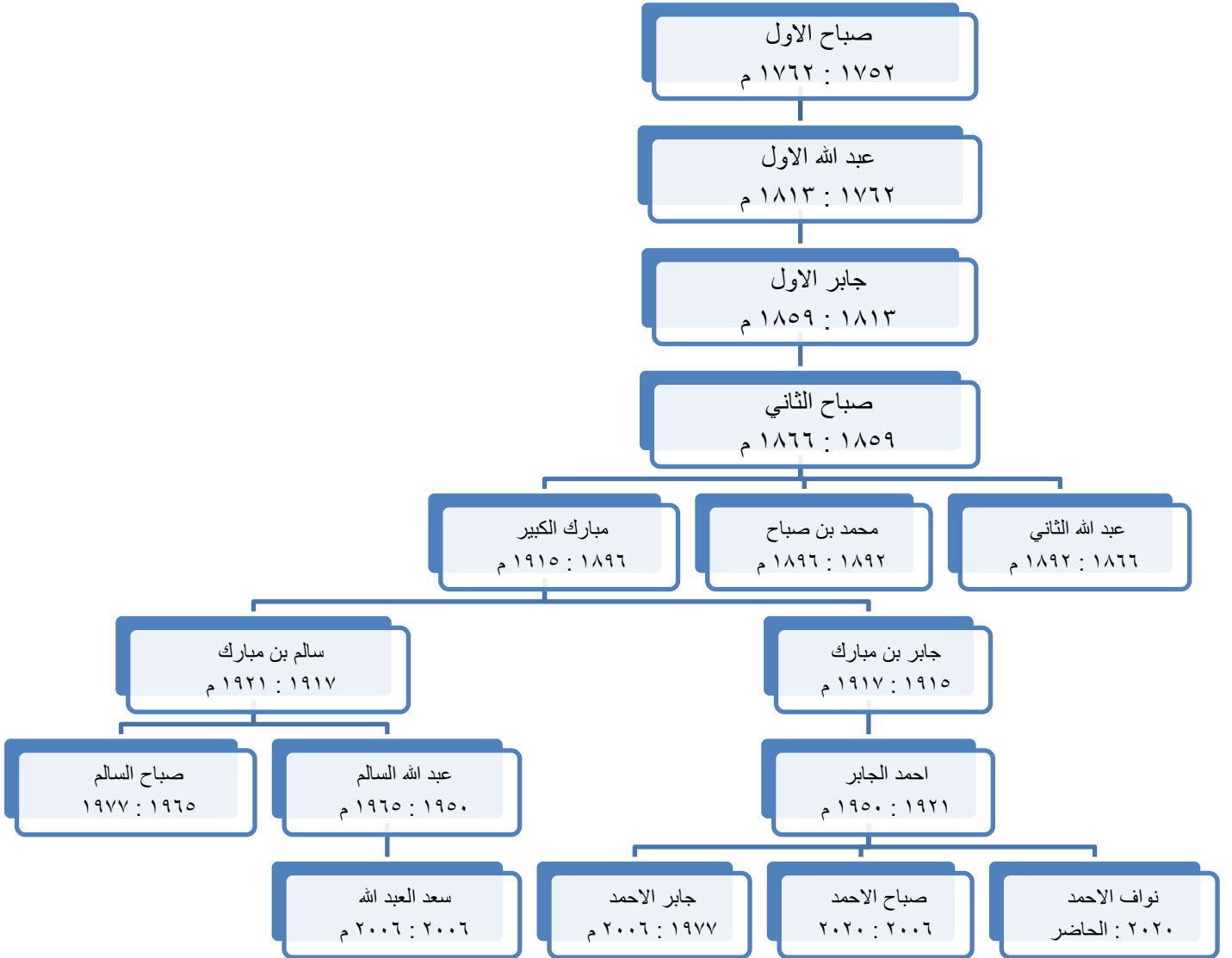
- الحاكم السادس للكويت الشيخ ...
- تولى الشيخ محمد بن صباح الحكم بن عامي ...
- عدد صفات الشيخ محمد بن صباح ...
- ساعد الشيخ محمد بن صباح في الحكم اخواه ...
- تولى الشيخ جراح الشؤون ...
- تولى الشيخ مبارك شؤون ...
- استقبل الشيخ محمد بن صباح اسرة ...
- مؤسس الدولة السعودية الثالثة يسمى ...
- في الكويت عام ...

حل النشاط ص ٧٦

- قارن بين حكام دولة الكويت من حيث فترة الحكم – اهم الاعمال – اهم الاحداث

أهم الاحداث في عهده	أهم الاعمال	فترة الحكم	الحاكم
			الشيخ صباح الأول بن جابر
			الشيخ عبد الله الأول بن صباح بن جابر
			الشيخ جابر الأول بن عبد الله الصباح) جابر العيش)
			الشيخ صباح الثاني بن جابر
			الشيخ عبد الله بن صباح الثاني
			الشيخ محمد بن صباح

- شجرة حكم آل صباح



النمو التجاري والاقتصادي للكويت تحت حكم آل صباح

- علل النمو التجاري والاقتصادي للكويت تحت حكم آل صباح

- ١
- ٢
- ٣
- ٤
- ٥

...

- انتقلت الوكالة البريطانية من البصرة الى الكويت مرتين عام ...

حل النشاط ص ٧٨ : ٧٩

* فرق بين أساليب التجارة قديماً وحديثاً

أساليب التجارة حديثاً	أساليب التجارة قديماً

* اكتب حقيقة واحدة استنتجها من المقارنة

-

* أشرح : ما العلاقة بين الاستقرار الأمني والازدهار التجاري

-

عوامل نمو وازدهار دولة الكويت تحت حكم آل صباح

- اذكر عوامل نمو وازدهار دولة الكويت تحت حكم آل صباح

-١

-٢

-٣

-٤

-٥

-٦

- عرف تجارة المسابرة :

حل النشاط ص ٨٠

* ما المقصود بـ " نظام الحكم القائم على الشورى "

-

* اكتب تقريراً لا يقل عن خمسة أسطر عن تجارة المسابرة

-

الفصل الثالث

الكويت والتنافس الأوروبي على منطقة الخليج العربي
من القرن السادس عشر حتى القرن التاسع عشر الميلادي

التنافس الاستعماري الأوروبي على منطقة لخليج العربي

- القرن الذي بدأ فيه التنافس الاوروبي على الخليج العربي القرن ...
- من أوائل الدول الاوربية الاستعمارية في منطقة الخليج العربي ...
- علل التنافس الاستعماري الأوروبي على منطقة الخليج العربي

- ١
- ٢
- ٣
- ٤

حل النشاط ص ٨٣

- * لاحظ خريطة العالم القديم وحدد عليها ما يلي حسب الرمز
- ١- ← خط سير الطرق التجارية البحرية بالاستعانة بالفقرة السابقة
- ٢- + دولة تعد مركزاً للتوابل في جنوب اسيا
- ٣- ضع مفتاحاً للخريطة



* ابحث عن دوافع أخرى لحركة الكشوف الجغرافية

- ١
- ٢

- * عرف المفاهيم التالية
- * الكشوف الجغرافية :
- * الاستعمار :

اولاً البرتغاليون

- استمرت السيطرة البرتغالية على منطقة الخليج ...
- أسوا النظم الاستعمارية في الخليج العربي الاستعمار ...

- **علل تغير وانهيار أوضاع البرتغاليين في منطقة الخليج منذ أواخر القرن ١٦**

- ١
- ٢
- ٣
- ٤



- الدولة الخليجية التي ظهر فيها اليعاربة تسمى ...

- **علل أهمية اليعاربة في منطقة الخليج العربي في أواخر القرن ١٦**

-

حل النشاط ص ٨٥

- **ما الاسباب التي دفعت المستعمر البرتغالي الى مهادنة الدول المستعمرة**

-

ثانيا الهولنديون

- القرن الذي بدا فيه الوجود الهولندي في اسيا والشرق هو ...

- **علل الوجود الهولندي في اسيا والشرق**

-

- العام الذي خرج فيه اول اسطول هولندي الى اسيا عام ...

- اول منطقة سيطر عليها الهولنديون في اسيا هي ...

- **اذكر خطوات هولندا للسيطرة على اسيا ومنطقة الخليج**

- ١
- ٢
- ٣
- ٤



- الميناء الذي اتخذه الهولنديون مركزا تجاريا لهم يسمى ...

- **علل انهيار النفوذ الهولندي في منطقة الخليج العربي**

-

حل النشاط ص ٨٦

* ابحث عن أسباب أخرى لانتهاء الاستعمار الهولندي في الخليج العربي



ثالثا البريطانيون

- علل اهتمام بريطانيا بمنطقة الخليج العربي

-١

-٢

- عدد الخطوات التي اتخذتها بريطانيا للسيطرة على الخليج العربي

-١

-٢

-٣

-٤

-٥

الكويت وبريطانيا

- علل أهمية الكويت بالنسبة لبريطانيا في نهاية القرن ١٨

-١

-٢

-٣

-٤

- قام الصراع بين الدولة العثمانية والدولة الفارسية بين عامي ...

- علل قيام بريطانيا بنقل مركز البريد والتجارة للكويت عام ١٧٧٥

-

- علل اتخذت بريطانيا من الكويت مقرا مؤقتا بين عامي ١٧٩٣ - ١٧٩٥

-

- دلل على أهمية الكويت بالنسبة لبريطانيا في نهاية القرن الثامن عشر الميلادي

-

حل النشاط ص ٨٧

* علل لما يأتي : نقل مركز البريد والتجارة البريطاني من البصرة الى الكويت عام ١٧٧٥

* **دلل على اهمية الكويت بالنسبة لبريطانيا في نهاية القرن الثامن عشر الميلادي**

الكويت والعثمانيون

- كانت العلاقة بين الكويت والدولة العثمانية اسمية قائمة على

- **دلل على كانت العلاقة الكويتية العثمانية علاقة اسمية وليست تبعية**

-١

-٢

٣- ادار حكام الكويت شؤونها الداخلية باستقلالية تامة عن الدولة العثمانية

-٤

- **علل حملة مدحت باشا على الاحساء ١٨٧١ م**

- **ما النتائج المترتبة على دعم الكويت للحملة العثمانية على الاحساء عام ١٨٧١ م**

-١

-٢

- **برهن على تناول الفرمان العثماني العديد من الإيجابيات بالنسبة للكويت**

-١

-٢

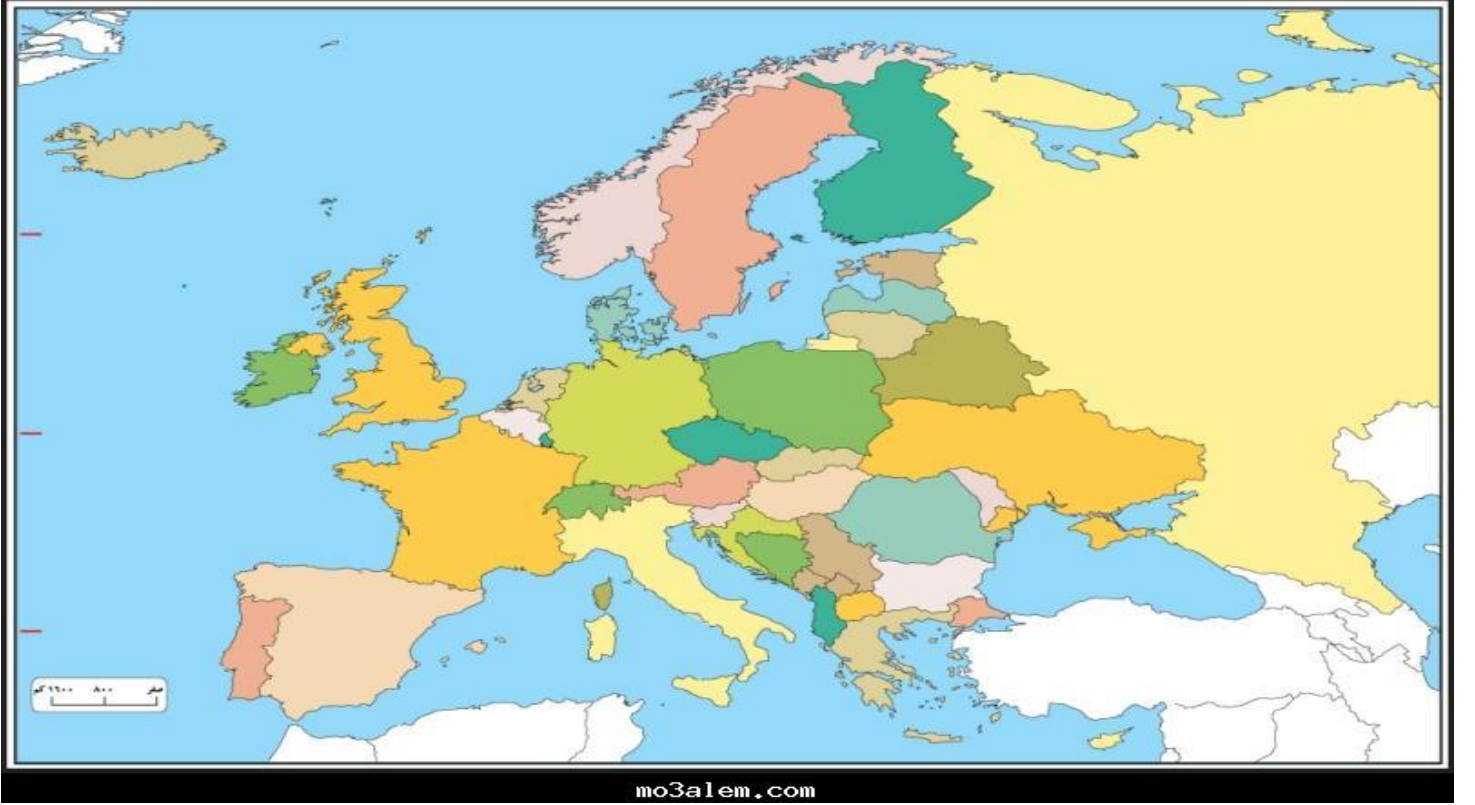
-٣

-٤

-٥

-٦

* لاحظ خريطة أوروبا أمامك
حدد الدول الاستعمارية (البرتغال – هولندا – إنجلترا)



- علل حملة مدحت باشا عام ١٨٧١م على الاحساء

-
-

فسر المفاهيم التالية

- الدولة العثمانية :

- قائم مقام :

- الفرمان :

* تناول فرمان الوالي العثماني من حيث الإيجابيات والسلبيات على الكويت

-

الإيجابيات:

السلبيات:

الشيخ مبارك الكبير

مؤسساً لإمارة الكويت الحديثة

١٨٩٦ - ١٩١٥ م

الحاكم السابع الشيخ مبارك الصباح ١٨٩٦ - ١٩١٥ م



- الحاكم السابع للكويت يسمى الشيخ ...
- تولى الشيخ مبارك الصباح الحكم بين عامي ...
- علل فترة حكم الشيخ مبارك فترة حاسمة في تاريخ الكويت

- دلل على البراعة السياسية للشيخ مبارك الكبير

تطور الأوضاع الداخلية والخارجية في الكويت

اولاً : الأوضاع الداخلية

- اكتب عن الاوضاع الداخلية للكويت في عهد الشيخ مبارك الصباح

-١

-٢

-٣

- عدد المجالات الداخلية التي تطورت في عهد الشيخ مبارك

-٢

-١

-٤

-٣

- اذكر جهود الشيخ مبارك الصباح في حفظ الامن وتشجيع التجارة

-١

-٢

-٣

-٤

-٥

-٦

-٧

وتسمى المدرسة ...

- أول مدرسة نظامية تأسست في الكويت عام ...

وتسمى المستشفى ...

- تم تأسيس اول مستشفى في الكويت عام ...

- اذكر جهود الشيخ مبارك الكبير في مجالي الصحة والتعليم

-١

-٢

- اذكر جهود الشيخ مبارك الكبير في مجال الجيش

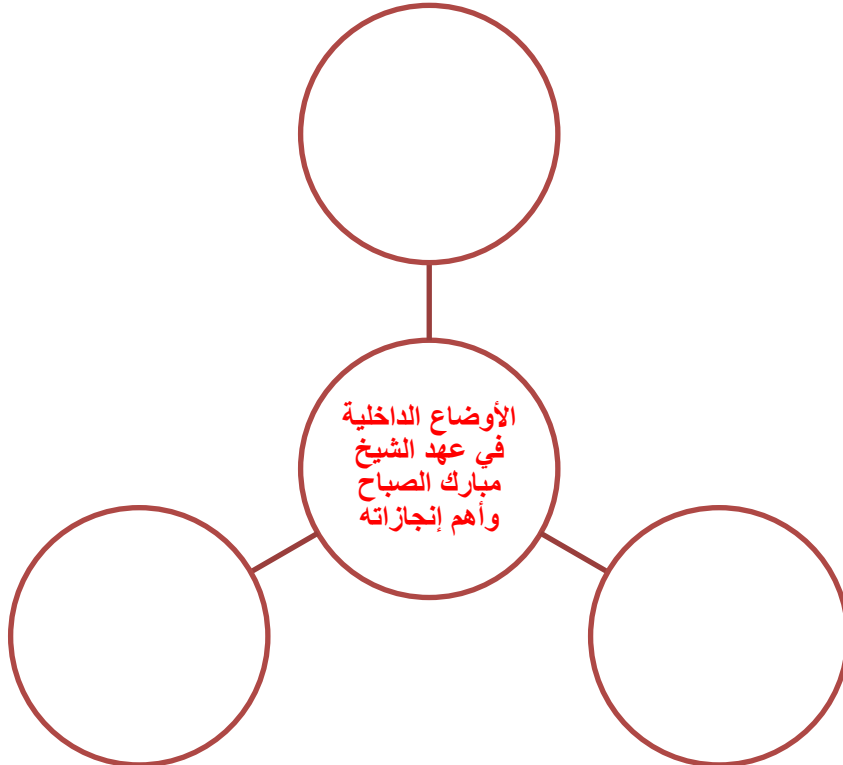
-١

-٢

-٣



حل النشاط ص ٩٥



ثانيا : الأوضاع الخارجية

الأطماع الدولية تجاه الكويت في عهد الشيخ مبارك الصباح

١- الروس

- حاولت روسيا تعزيز نفوذها في الكويت منذ نهاية القرن... .
- الدولة الأوروبية التي حاولت إنشاء محطة للفحم وميناء لتزويد السفن بالوقود وتنفيذ مشروع كابنيست لمد خط حديدي في الكويت تسمى... .
- عرف مشروع كابنيست :

- عدد الخطوات الروسية لتعزيز نفوذها في الكويت

- ١
- ٢
- ٣
- ٤

- علل فشل المشاريع الروسية في الكويت

- برهن على حذر الشيخ مبارك من التعامل مع المشاريع الروسية

حل النشاط ص ٩٦ ، ٩٧

* لخص الأطماع الروسية نحو تعزيز نفوذها في الكويت وتأثيرها على الشيخ مبارك منذ نهاية القرن التاسع عشر الميلادي

* ظهرت الاطماع الروسية من خلال المشاريع الاقتصادية مثل

- ١
- ٢
- ٣
- ٤

● تعامل معها الشيخ مبارك بكل حذر وحاول الاستفادة من روسيا في دعم سياسي واقليمي وفي النهاية رفض كل هذه المشاريع وتوجه للجانب البريطاني

* فرق بين السبب المعلن وغير المعلن لخطوات روسيا للتأثير على الشيخ مبارك الصباح في القرن التاسع عشر الميلادي

- * السبب المعلن :
- * السبب الحقيقي :

* اكتب ما تعرفه عن مشروع كابنيست

-

٢- الألمان

- اذكر جهود الألمان لتعزيز علاقتهم مع الكويت

-١

-٢

- الدولة الأوروبية التي سعت لجعل الكويت نهاية لخط سكة حديد برلين - بغداد عام ١٩٠٠ م تسمى ...

- علل رفض الشيخ مبارك للمشاريع الألمانية في الكويت

-

٣-الدولة العثمانية

- دلل حاولت الدولة العثمانية فرض سيطرتها المباشرة على الكويت

-

- فرق بين سياسة الدولة العثمانية تجاه الكويت قبل وبعد معاهدة ١٨٩٩

بعد معاهدة ١٨٩٩ م	قبل معاهدة ١٨٩٩ م

- علل معارضة الشيخ مبارك الكبير لمشروع خط سكة حديد المانيا بالتعاون مع الدولة العثمانية

-١

-٢

- دلل على براعة الشيخ مبارك الصباح السياسية بعلاقته بالدولة العثمانية

-١

-٢

- علل فشل التحركات العثمانية في الكويت

-

- برهن بالأدلة التاريخية على عدم تبعية دولة الكويت للدولة العثمانية

-١

-٢

-٣

حل النشاط ص ٩٨ ، ٩٩

* علل : رفض الشيخ مبارك لمشروع سكة الحديد مع الدولة العثمانية والألمان

-

-

-

* دلل على براعة الشيخ مبارك الصباح السياسية بعلاقته مع الدولة العثمانية

-

-

* دلل على دور الشيخ مبارك الصباح في التصدي للأطماع الخارجية من خلال الجدول التالي

-	الروس
-	الألمان
-	الدولة العثمانية

* برهن بالأدلة التاريخية على عدم تبعية دولة الكويت للدولة العثمانية

-١

-٢

-٣

٤- البريطانيون

- علل تزايد رغبة الشيخ مبارك الصباح في تأمين وضع الكويت ١٨٩٩

-

- اذكر خطوات الشيخ مبارك لإجبار بريطانيا على توقيع اتفاقية الحماية

-١

-٢

اتفاقية الحماية ١٨٩٩ وأثرها على الكويت

- علل اتجاه الشيخ مبارك نحو بريطانيا لعقد اتفاقية الحماية

-١

-٢

- نتائج توقيع اتفاقية الحماية البريطانية في ٢٣ يناير عام ١٨٩٩

-١

-٢

-٣

-٤

-٥

- اذكر سلبيات اتفاقية الحماية مع بريطانيا

-١

-٢

-٣

- علل أهمية معاهدة عام ١٨٩٩ بالنسبة للكويت

-

- عقدت معاهدة الحماية بين الكويت ... عام ... في عهد ...

- المقيم السياسي البريطاني الذي عقد اتفاقية الحماية مع الشيخ مبارك الصباح عام ١٨٩٩ م اسمه ...

- اكتب ما تعرفه عن بنود اتفاقية الحماية البريطانية عام ١٨٩٩ بين الكويت وبريطانيا

-١

-٢

- من الشهود في الكويت على اتفاقية الحماية مع بريطانيا ...

حل النشاط ص ١٠٠

* عدد الجوانب الإيجابية والسلبية لاتفاقية الحماية عام ١٨٩٩

الجوانب الإيجابية:

-١

-٢

-٣

-٤

الجوانب السلبية :

- ١
- ٢
- ٣

* **علل : تزايد رغبة الشيخ مبارك في تأمين وضع إمارة الكويت عام ١٨٩٩م**

الاتفاقيات والمعاهدات

الاتفاقية المرقمة (٣٦) البريطانية الكويتية الأولى

المعقودة مع شيخ الكويت سنة ١٨٩٩

بسم الله تعالى شأنه . إن الغاية من تحرير هذه الاتفاقية المشرفة هو إتمام التعهد والاتفاق بين الليفتان كولونيل مالكولم جون ميد المقيم السياسي لصاحبة الجلالة بالنيابة عن الحكومة البريطانية كطرف أول وبين الشيخ مبارك بن صباح شيخ الكويت كطرف ثان ؛ بأن الشيخ مبارك ابن صباح بكامل حرية . يرغب أن يرتبط ويلزم وراثيه وخلفه في الحكم بأن لا يستقبل أى وكيل أو ممثل لأى سلطة أو حكومة في الكويت أو في أى مكان آخر من حدود مقاطعته بدون الموافقة السابقة للحكومة البريطانية . وهو بالإضافة إلى ذلك يلزم نفسه ووارثيه وخلفه في الحكم بأن لا يتنازل أو يبيع أو يؤجر أو يرهن أو يعطى للاستغلال لأى غرض كان أى جزء من مقاطعته لأى حكومة أو رعايا أى سلطة بدون الموافقة السابقة لهذه الأغراض من حكومة صاحبة الجلالة .

وهذا الاتفاق يمتد لأى جزء من المقاطعة التابعة للشيخ المذكور مبارك ابن الشيخ صباح التي قد تقع الآن في حوزة رعايا أى حكومة أخرى . ورمز للصدقة على توقيع هذه الاتفاقية القانونية المشرفة بين الليفتان كولونيل مالكولم جون ميد المقيم السياسي لصاحبة الجلالة في الخليج الفارسي والشيخ مبارك بن الشيخ صباح . يقوم الطرف الأول بالنيابة عن الحكومة البريطانية والطرف الثاني بالنيابة عن نفسه ووارثيه وخلفائه، بالتوقيع على هذه الاتفاقية بحضور الشهود في اليوم العاشر من رمضان سنة ١٣١٦ الموافق اليوم الثالث والعشرين من كانون الثاني ١٨٩٩ .

التوقيع
مبارك الصباح

التوقيع
م . ج . ميد
المقيم السياسي في الخليج الفارسي

الشهود

اى . وكهام هور . كابتن . ج كالكوت جاسكن

السيد محمد رحيم ابن عبد النبي

حل النشاط ص ١٠٢

* **ما أسباب توقيع اتفاقية الحماية**

-

-

* **اذكر اثنين من بنود اتفاقية الحماية**

- ١

- ٢

* ما أهمية الاتفاقية لدولة الكويت
- حماية الكويت من الاخطار الخارجية

الشيخ مبارك الصباح وقيام الدولة السعودية الثالثة ١٩٠٢ م
- اذكر دور الشيخ مبارك الصباح في إنشاء الدولة السعودية الثالثة

- غادر الأمير عبد العزيز آل سعود الكويت عام ... في عهد...
- استقر آل سعود في الكويت ...
- علل تأييد الشيخ مبارك الصباح ودعمه للأمير عبد العزيز آل سعود



الشيخ مبارك الصباح والى جانبه الأمير عبد العزيز آل سعود

سياسة الشيخ مبارك الاستقلالية
- اذكر أهم ملامح سياسة الشيخ مبارك الصباح (الكبير) الاستقلالية

- ١
- ٢
- ٣
- ٤
- ٥

- من القائل ولمن ؟ (لقد قاومت هذا طيلة عمري وانت تطالبني بالموافقة على ذلك)

- القائل :
- لمن :



- المعركة التي قادها الشيخ مبارك عام ... م تسمى ...
- المعركة التي قادها الشيخ مبارك عام ... م تسمى ...
- العام الذي توفي فيه الشيخ مبارك الكبير عام ...
- استمر الشيخ مبارك في الحكم لفترة حوالي ...

حل النشاط ص ١٠٥

* اكتب ملخصاً تاريخياً عن معركتي الصريف وهدية مبيناً دور الشيخ مبارك الصباح فيهما

- معركة هدية :

* برهن على دور الشيخ مبارك الصباح في ترسيخ دعائم استقرار الإمارة

- فرق بين : تطور الأوضاع في عهد الشيخ مبارك الصباح قبل وبعد اتفاقية الحماية

بعد معاهدة ١٨٩٩ م	قبل معاهدة ١٨٩٩ م

الحمد لله