

سما
SAMA

سما- المعلم الذكي

i teacher
المعلم الذكي

WWW.SAMAKW.NET/AR

نماذج اختبار نهائية الفصل (الثاني)

التاريخ


الصف

12



2024 - 2025

 www.samakw.com

 iteacher_q8

 60084568 / 50855008

 حولي مجمع بيروت الدور الأول



وزارة التربية
التوجيه الفني العام للاجتماعيات

العام الدراسي: ٢٠٢٢ / ٢٠٢٣ م
الزمن: ساعتان وربع
عدد الصفحات: ٥

امتحان نهاية الفترة الدراسية الثانية
مقرر / تاريخ العالم الحديث والمعاصر
للفص الثاني عشر / القسم الأدبي

أجب عن جميع الاسئلة

السؤال الأول: موضوعي ويتكون من (أ - ب - ج - د) :

(أ) ظلل الخيار الصحيح من بين الخيارات التي تلي كل عبارة :

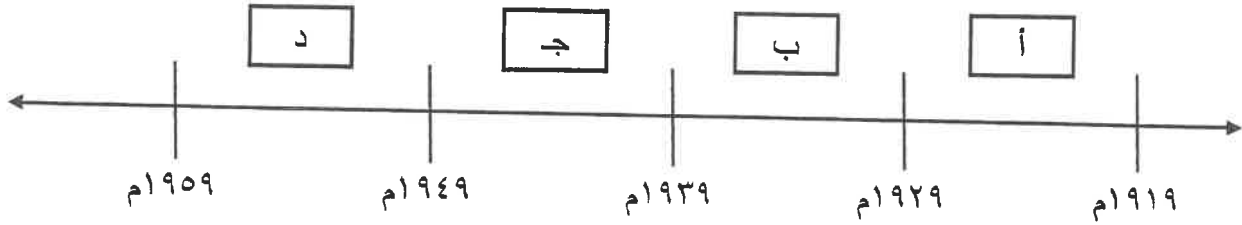
١- الحلف الذي ضم (روسيا و بريطانيا وفرنسا) عام ١٩٠٧م :

عصبة الأباطرة	الحلف الثلاثي	الاتفاق الودي	الوفاق الودي
---------------	---------------	---------------	--------------

٢- الوكالة المتخصصة والتي لها صلة بالأمم المتحدة :

الأمانة العامة	مجلس الأمن	منظمة الصحة الدولية	محكمة العدل الدولية
----------------	------------	---------------------	---------------------

٣- الفترة الزمنية للأزمة الاقتصادية العالمية يمثلها على الخط الزمني الحرف :



٤- المؤتمر الذي اجتمع فيه الزعماء الثلاثة في الصورة المقابلة :



يالطا	فرساي
-------	-------

ميونيخ	سان فرانسيسكو
--------	---------------

تابع السؤال الأول : موضوعي

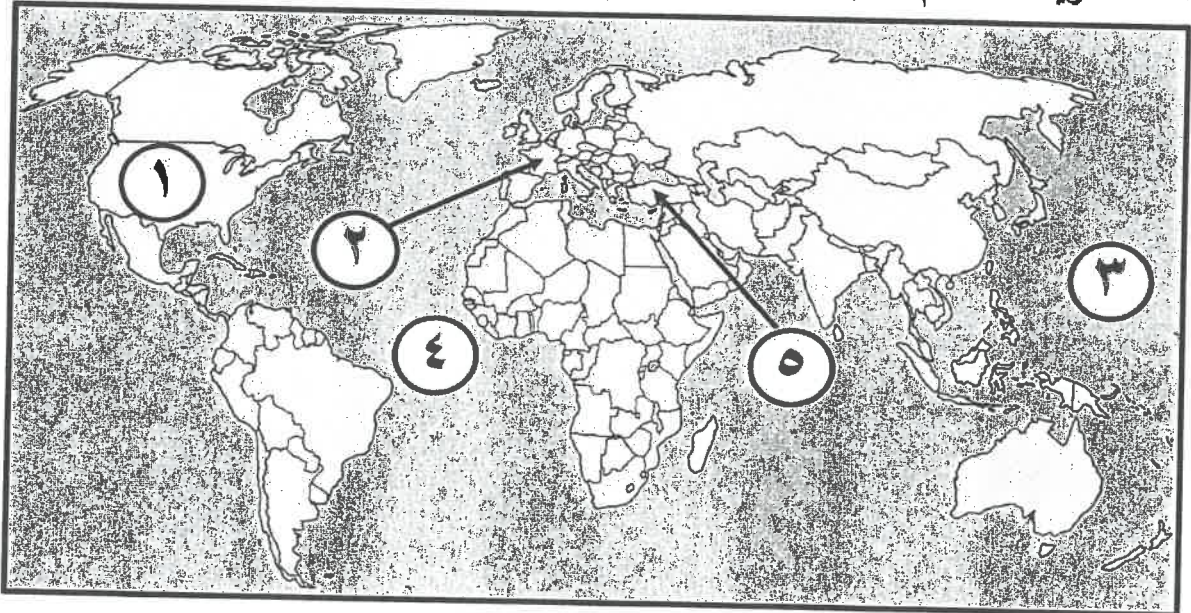
(ب) صوب ما تحته خط في العبارات التالية :

م	العبارة	التصويب
١	مفكر ألف كتاب (العقد الاجتماعي) فولتير .	
٢	مستعمرة إسبانية منافسة لإنجلترا في أمريكا جيمس تون .	
٣	دولة اجتاحتها موسوليني عام ١٩٣٦ م الصومال .	
٤	مدينة أعتقل فيها الملك " لويس السادس عشر" بعد محاولة هروبه الفاشلة باريس .	

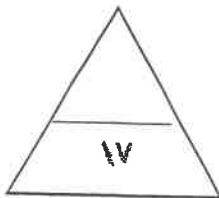
(ج) أكمل العبارات التالية بما يناسبها فيما درست :

- ١- زعيم أمريكي دعا المستعمرات لإعلان الاستقلال عن إنجلترا اسمه
- ٢- مجلس نيابي يمثل الأرستقراطية الإنجليزية اسمه
- ٣- دولة أعلنت الحرب على ألمانيا عام ١٩١٤م بعد أن انتهكت حياد البلجيك اسمها
- ٤- ملك فرنسي توالى الهزائم العسكرية على الجيش الفرنسي في أواخر عهده اسمه
- ٥- معاهدة عُقدت بعد حرب السنين السبع عام ١٧٦٣م أسمها

(د) أمامك خريطة العالم السياسية - أكتب الرقم الدال على العبارات التي تليها :



- دولة أوروبية يقع فيها نهر المارن يمثلها على الخريطة الرقم ()
- مدينة " يورك تاون " تقع في دولة يمثلها على الخريطة الرقم ()
- دولة تزعمها الدكتاتور " مصطفى كمال أتاتورك " يمثلها على الخريطة الرقم ()
- مسطح مائي تقع فيه جزر هاواي يمثلها على الخريطة الرقم ()



السؤال الثاني : مقالتي ويتكون من (أ - ب - ج) :

(أ) لاحظ الصورة المقابلة ثم أجب عن الأسئلة التالية:

١- ما اسم النظام الذي يتزعمه صاحب الصورة المقابلة .



.....

٢- عدد عوامل نجاح نظامه في الوصول إلى السلطة .

.....

.....

.....

(ب) فرّق بين أحداث كل مما يلي :

حفلة شاي بوسطن عام ١٧٧٣م	مذبحة بوسطن عام ١٧٧٠م
.....
.....
الحرب العالمية الأولى (المرحلة الثانية)	الحرب العالمية الأولى (المرحلة الأولى)
.....
.....

(ج) دال على صحة العبارات التالية :

١- شهدت الحرب العالمية الثانية تسخير للطاقات البشرية .

.....

.....

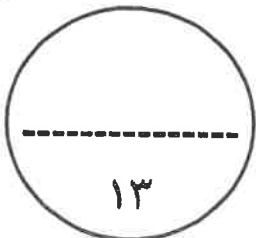
٢- إهتمام " نابليون بوناپرت " بإصلاح التعليم في زمن حكومة القناصل .

.....

.....

٣- تقارب الأنظمة الدكتاتورية التي قامت في ما بين الحربين العالميتين .

.....



السؤال الثالث : مقالتي ويتكون من (أ - ب - ج) :

(أ) اقرأ الفقرة التالية ثم أجب عما يليها من أسئلة :

"كان ثمن هجوم اليابان على ميناء بيرل هاربر في جزر هاواي وتدميرها للأسطول الأمريكي ، كارثة عليها حيث استطاعت الولايات المتحدة الأمريكية من وقف التقدم الياباني في الحرب العالمية الثانية ، وإجبارها على الاستسلام دون قيد ، وذلك بعد إلقاء القنبلتين الذريتين على مدينتي " هيروشيما وناجازاكي " ، ليعم الدمار والخراب ، مما أثار مخاوف الدول إلى عقد إتفاقيات سالت لحماية نفسها ."

١- عرف ما تحته خط :

٢- استخرج من الفقرة السابقة النتائج المترتبة على إلقاء القنبلة الذرية على مدينتي " هيروشيما وناجازاكي "

(ب) قارن بين كل من :

وجه المقارنة	مؤتمر فيلادلفيا الأول (الكونجرس الأول)	مؤتمر فيلادلفيا الثاني (الكونجرس الثاني)
سبب الإنعقاد
القرارات

(ج) علل لما يلي :

١- تعتبر معركة فالمي من أهم معارك التاريخ على الرغم من صغرها .

٢- وقوف عصبة الأمم المتحدة عاجزة أمام القضايا المهمة .

السؤال الرابع : مقالي ويتكون من (أ - ب - ج) :

(أ) أكتب نتيجة واحدة فقط لكل من :

١- توقيع معاهدة " كامبو فروميو " .

.....

٢- مهاجمة الغواصات الألمانية السفن التجارية الأمريكية عام ١٩١٧ م .

.....

٣- هجوم ألمانيا على ممر دانزج عام ١٩٣٩ م .

.....

٤- عهد الأرباب في فرنسا .

.....

(ب) عرّف المفاهيم والمصطلحات التالية :

.....	١- حصن الباستيل
.....	٢- العلاقات الدولية
.....	٣- الحلف الفولاذي
.....	٤- قانون التمتع

(ج) فنّد العبارات التالية :

١- انحصرت نتائج الثورة الأمريكية على أمريكا فقط .

.....

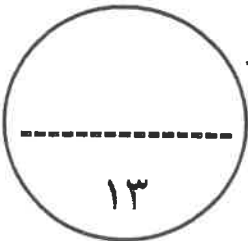
.....

.....

٢- تأييد البرلمان الإنجليزي سياسة الملك جيمس الثاني .

.....

.....



(انتهت الأسئلة)

العام الدراسي: ٢٠٢٢ / ٢٠٢٣ م
الزمن: ساعتان وربع
عدد الصفحات: ٥

نموذج الإجابة
امتحان نهاية الفترة الدراسية الثانية
مقرر / تاريخ العالم الحديث والمعاصر
للصف الثاني عشر / القسم الأدبي


وزارة التربية
التوجيه الفني العام للاجتماعيات

أجب عن جميع الاسئلة

السؤال الأول: موضوعي ويتكون من (أ - ب - ج - د) : (لكل نقطة درجة = ١٧ درجة)

(أ) ظلل الخيار الصحيح من بين الخيارات التي تلي كل عبارة :

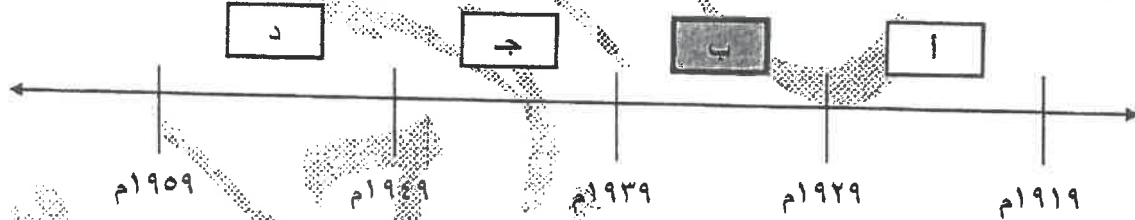
١- الحلف الذي ضم (روسيا وبريطانيا وفرنسا) عام ١٩٠٧م : ص ٩٨

عصبة الأباطرة	الحلف الثلاثي	الاتفاق الودي	الوفاق الودي
---------------	---------------	---------------	--------------

٢- الوكالة المتخصصة والتي لها صلة بالأمم المتحدة: ص ١١٨

الأمانة العامة	مجلس الأمن	منظمة الصحة الدولية	محكمة العدل الدولية
----------------	------------	---------------------	---------------------

٣- الفترة الزمنية لأزمة الاقتصادية العالمية يمثلها على الخط الزمني الحرف: ص ١٠٥



٤- المؤتمر الذي اجتمع فيه الزعماء الثلاثة في الصورة المقابلة: ص ١٠٦



فرساي	بالطا
-------	-------

ميونيخ	سان فرانسيسكو
--------	---------------



وزارة
التربية
التوجيه الفني العام للاجتماعيات

تابع السؤال الأول : موضوعي

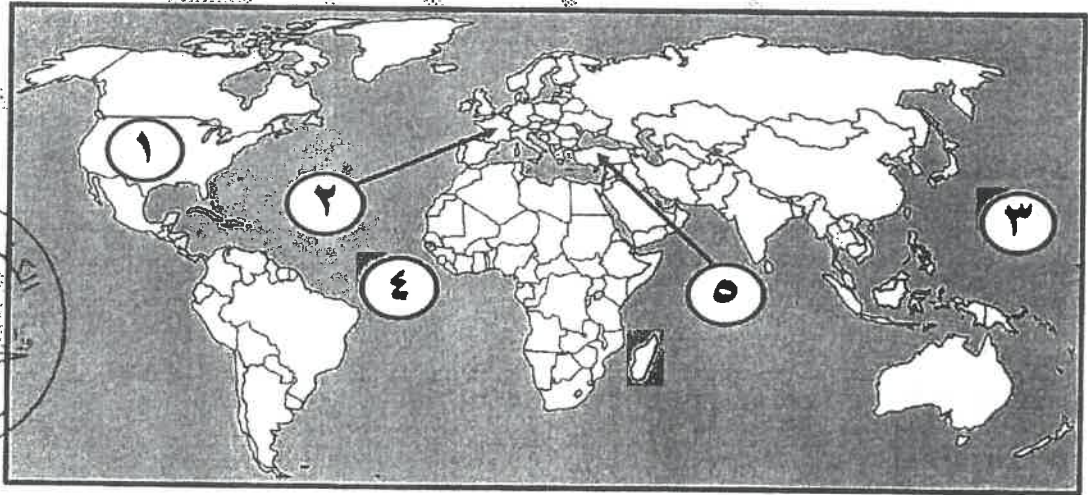
(ب) صوب ما تحته خط في العبارات التالية :

م	العبرة	التصويب
١	مفكر ألف كتاب (العقد الاجتماعي) فولتير.	روسو / ص ٨٥
٢	مستعمرة إسبانية منافسة لإنجلترا في أمريكا <u>جيمس تون</u> .	فلوريدا / ص ٧٧
٣	دولة اجتاحتها موسوليني عام ١٩٣٦م <u>الصومال</u> .	أثيوبيا / ص ١٠٩
٤	مدينة أعتقل فيها الملك " لويس السادس عشر" بعد محاولة هروبه الفاشلة <u>باريس</u> .	فاران / ص ٨٩

(ج) أكمل العبارات التالية بما يناسبها فيما درست :

- ١- زعيم أمريكي دعا المستعمرات لإعلان الاستقلال عن إنجلترا اسمه لي ص ٨١
- ٢- مجلس نيابي يمثل الأرستقراطية الإنجليزية اسمه مجلس اللوردات ص ٧٥
- ٣- دولة أعلنت الحرب على ألمانيا عام ١٩١٤م بعد أن انتهكت حياد البلجيك اسمها بريطانيا ص ١٠٠
- ٤- ملك فرنسي توالى الهزائم العسكرية على الجيش الفرنسي في أواخر عهده اسمه لويس الرابع عشر ص ٨٤
- ٥- معاهدة عقدت بعد حرب السنين السبع عام ١٧٦٣م اسمها معاهدة باريس ص ٧٧

(د) أمامك خريطة العالم السياسية - أكتب الرقم الدال على العبارات التي تليها :



- ١ - دولة أوروبية يقع فيها نهر المارن يمثلها على الخريطة الرقم (٢) ص ١٠١
- ٢ - مدينة " يورك تاون " تقع في دولة يمثلها على الخريطة الرقم (١) ص ٨٢
- ٣ - دولة تزعمها الدكتاتور " مصطفى كمال أتاتورك " يمثلها على الخريطة الرقم (٥) ص ١٠٨
- ٤ - مسطح مائي تقع فيه جزر هاواي يمثلها على الخريطة الرقم (٣) ص ١١١

السؤال الثاني : مقالتي ويتكون من (أ - ب - ج) : (أربع درجات لكل نقط درجة)

(أ) لاحظ الصورة المقابلة ثم أجب عن الأسئلة التالية :



١- ما اسم النظام الذي يتزعمه صاحب الصورة المقابلة :

- النظام الشيوعي في روسيا . ص ١٠٦

٢- عدد عوامل نجاح نظامه في الوصول إلى السلطة : **(يكتفى بثلاث نقاط)**

- فساد الحكم القيصري في روسيا واستبداده- / الهزائم الكبرى التي حلت بالجيش الروسي منذ

عام ١٩٠٥م على يد اليابان ثم الحرب العالمية الأولى وسقوط ملايين من الجرحى والقتلى .

- سوء الحالة الاقتصادية التي تأثر بها العمال والفلاحون إنتشار البطالة والمجاعات

والأمراض.

- شخصية "لينين" وقدرته على إقناع الجماهير من خلال رفع شعاره المشهور (السلام للجيش / الأرض للفلاحين / الغذاء

للجميع / الحكم الشيوعي) وتنظيم الحزب الشيوعي.

(ب) فرّق بين أحداث كل مما يلي : (أربع درجات لكل نقطة درجة)

حفلة شاي بوسطن ١٧٧٣م / ص ٧٩	مذبحة بوسطن ١٧٧٠م / ص ٧٩
- تنكر عدد من الأمريكيين في زي الهنود الحمر وتسلموا إلى ميناء بوسطن ليلاً حيث كان هناك ثلاثة سفن إنجليزية تحمل حمولة من الشاي وقاموا بإلقاء حمولتها في البحر .	- مهاجمة المواطنين في بوسطن للقوات الإنجليزية إعتراضاً على تطبيق إنكلترا للقوانين سبب السمعة فاطقت القوات النار على السكان وقررت الحكومة الإنجليزية إلغاء جميع الضرائب عدا ضريبة الشاي ليبقى حق فرض الضرائب قائماً على المستعمرات .
الحرب العالمية الأولى (المرحلة الثانية) / ص ١٠١	الحرب العالمية الأولى (المرحلة الأولى) / ص ١٠١
- دخول الدولة العثمانية الحرب إلى جانب ألمانيا . - انتصار الحلفاء في معركة فردان عام ١٩١٦م .	- اجتاحت ألمانيا بلجيكا وشمال فرنسا . - تمكنوا الحلفاء من إيقاف زحف الألمان في معركة المارن الأولى ١٩١٤م .
(يكتفى بنقطة)	(يكتفى بنقطة)

(ج) دليل على صحة العبارات التالية :

(يكتفى بنقطتين)

١- شهدت الحرب العالمية الثانية تسخير للطاقات البشرية.

- سخرت دول المحور أسرى الحروب للعمل في المصانع والحقول . ص ١١٣

- دفع الحلفاء بالإناث للعمل في هذا المجال بدل الرجال- / فتحت الولايات المتحدة باب الهجرة للعمل .

٢- إهتمام " نابليون بوناپرت " بإصلاح التعليم في زمن حكومة القناصل . **(يكتفى بنقطتين)**

- وضع " نابليون بوناپرت " مشروع لتنظيم التعليم في كل أنحاء فرنسا .

- العمل على مجانية التعليم للفقراء خاصة التعليم الثانوي / أتاح للطبقات الفقيرة إمكانية التعليم . ص ١٣

(يكتفى بنقطة واحدة)

٣- تقارب الأنظمة الديكتاتورية التي قامت في ما بين الحربين العالميتين .

- دعمت كل من النازية والفاشية النظام الديكتاتوري بقيادة " فرانكو " في أسبانيا / سيطر العسكريون في اليابان على الحكم

وتحالفوا مع ألمانيا النازية ونشأ ما يسمى بمحور (برلين / طوكيو) . ص ١٠٨

وزارة التربية



السؤال الثالث : مقالتي ويتكون من (أ - ب - ج) :

(أربع درجات لكل نقطة درجة)

(أ) اقرأ الفقرة التالية ثم أجب عما يليها من أسئلة :

"كان ثمن هجوم اليابان على ميناء بيرل هاربر في جزر هاواي وتدميرها للأسطول الأمريكي ، كارثة عليها حيث استطاعت الولايات المتحدة الأمريكية من وقف التقدم الياباني في الحرب العالمية الثانية ، وإجبارها على الاستسلام دون قيد ، وذلك بعد إلقاء القنبلتين الذريتين على مدينتي " هيروشيما ونجازاكي " ، ليضع الدمار والخراب ، مما أثار مخاوف الدول إلى عقد اتفاقيات سالت لحماية نفسها ."

١- عرف ما تحته خط :

اتفاقيات سالت : اتفاقيات لوقف التسليح واستخدام الأسلحة الفتاكة . ص ١١٥

٢- استخرج من الفقرة السابقة النتائج المترتبة على إلقاء القنبلة الذرية على مدينتي " هيروشيما ونجازاكي " :

- وقف التقدم الياباني في الحرب العالمية الثانية .

- عم الدمار والخراب .

- إستسلام اليابان دون قيد أو شرط .



(ب) قارن بين كل من: (أربع درجات لكل نقطة درجة)

وجه المقارنة	مؤتمر فيلادلفيا الأول (الكونجرس الأول)	مؤتمر فيلادلفيا الثاني (الكونجرس الثاني)
سبب الإنعقاد	- لمساعدة وتأييد بوسطن على تجاوز القوانين الجائرة .	- قيام المواطنين الأمريكيون طرد الحكومات الملكية الإنجليزية واستلام زمام الأمور .
القرارات	- عدم الرضوخ للقوانين الجائرة التي أصدرتها إنجلترا ضد ميناء بوسطن . / وجهوا طلباً من الشعب الأمريكي للملك الإنجليزي بإلغاء تلك القوانين الجائرة . / إعادة سلاح المقاطعة التجارية لل بضائع الإنجليزية وتشكيل لجان في كل المدن لتنظيم عملية المقاطعة والإشراف عليها .	- اعترف جيش بوسطن جيشاً أمريكياً يخص كل المستعمرات . / تعيين " جورج واشنطن " قائد الجيش الوطني الذي سيخوض حرب الاستقلال الأمريكية ضد إنجلترا .
	(يكتفى بنقطه) ص ٨٠	(يكتفى بنقطه) ص ٨٠

(خمس درجات لكل نقطة درجة)

(ج) علل لما يلي :

(يكتفى بثلاثة نقاط)

١- تعتبر معركة فالمي من أهم معارك التاريخ على الرغم من صغرها . ص ٩٠

- انقذت أفكار الثورة الفرنسية من الضياع . / انتصار الجيش الفرنسي .

- رفعت الروح المعنوية للفرنسيين . / حالت دون وقوع باريس .

- تحول جيش الثورة بعدها من الدفاع إلى الهجوم . / أصبح مصدر رعب للدول الأوروبية فيما بعد .

(يكتفى بنقطتين)

٢- وقوف عصبة الأمم المتحدة عاجزة أمام القضايا المهمة . ص ١٠٤

- عدم التزام الدول الكبرى بميثاق العصبة . / لم يكن للعصبة قوة عسكرية قادرة على تنفيذ قراراتها .

- لم تشارك الولايات المتحدة في عضويتها على الرغم من أنها صاحبة الفكرة . وزارة

التربية



وزارة

السؤال الرابع : مقالتي ويتكون من (أ - ب - ج) :

(أ) أكتب نتيجة واحدة فقط لكل من :

(أ) أكتب نتيجة واحدة فقط لكل من :

- ١- توقيع معاهدة " كامبو فروميو " . ص ٩٢ .
- أعطت فرنسا مكاسب كبيرة . / - حققت للفرنسيين الفخر والعزة للإنتصار على عددهم اللود النمسا .
- ٢- مهاجمة الغواصات الألمانية السفن التجارية الأمريكية عام ١٩١٧ م . ص ١٠٠ .
- دخول الولايات المتحدة الحرب ضد ألمانيا في الحرب العالمية الأولى .
- ٣- هجوم ألمانيا على ممر دانزج عام ١٩٣٩ م . ص ١١٠ .
- انقسم العالم إلى معسكرين الحلفاء والمحور / - بداية الحرب العالمية الثانية .
- ٤- عهد الأرهااب في فرنسا . ص ٩١ .
- عقدت فيها محاكمة أطلق عليها " محكمة الثورة " لمئات من المواطنين وقتل الكثير دون محاكمة عادلة بل كانت تأخذ الناس في الشبهات ووجهت لهم تهمة الخيانة العظمى .

(ب) عرّف المفاهيم والمصطلحات التالية :

(ب) عرّف المفاهيم والمصطلحات التالية :

١- حصن الباستيل من الحصون الإقطاعية القديمة وتحول إلى سجن للدولة وأصبح رمزاً من رموز الظلم والطغيان والاستبداد . ص ٨٨	١- حصن الباستيل
٢- العلاقات الدولية الاتصالات بين الدول وبين المنظمات الدولية في جميع المجالات . ص ٩٧	٢- العلاقات الدولية
٣- الحلف الفولاذي حلف وقعه هتلر مع موسوليني في أغسطس عام ١٩٣٩ م . ص ١٠٩	٣- الحلف الفولاذي
٤- قانون التمجّه قانون فرض رسوم مالية جديدة على كل المستندات التجارية وعقود البيع والرهن . ص ٧٨	٤- قانون التمجّه

(ج) فنّد العبارات التالية :

(ج) فنّد العبارات التالية :

- ١- انحصرت نتائج الثورة الأمريكية على أمريكا فقط . ص ٨٣ .
- انتشرت عداوة بل على العكس:
- أنتشرت عداواها إلى سكان أمريكا الجنوبية اللاتينية .
- تشجع سكان المستعمرات البريطانية في آسيا وأفريقيا على القيام بثورات ضدها كي يتخلصوا من استعمارها .
- صارت الولايات المتحدة ملاذ لدعاة الفكر من الأوروبيين ورمزا للحرية والتجديد/كانت الثورة الأمريكية السبب المباشر في قيام الثورة الفرنسية لأن فرنسا انفقت أموال طائلة في حربها ضد بريطانيا في العالم الجديد .
- ٢- تأييد البرلمان الإنجليزي سياسة الملك جيمس الثاني . ص ٧٣ .
- العبارة خاطئة بل على العكس تبنى الملك سياسة ذات عناصر ثلاثة :
- إيمانه بمبدأ الملكية المطلقة .
- التسامح حيال الكاثوليكية . / التعاون مع "لويس الرابع" عشر ملك فرنسا .

(يكتفى بنقطتين)

(يكتفى بثلاثة نقاط)



التسريية

وزارة

التوجيه الفني العام للإجتماعيات



وزارة التربية

التوجيه الفني العام للاجتماعيات

امتحان الدور الثاني (الفترة الدراسية الثانية)

العام الدراسي: ٢٠٢٢ / ٢٠٢٣ م

مقرر / تاريخ العالم الحديث والمعاصر

الزمن: ساعتان وربع

للمصف الثاني عشر / القسم الأدبي

عدد الصفحات: (٥)

أجب على جميع الاسئلة

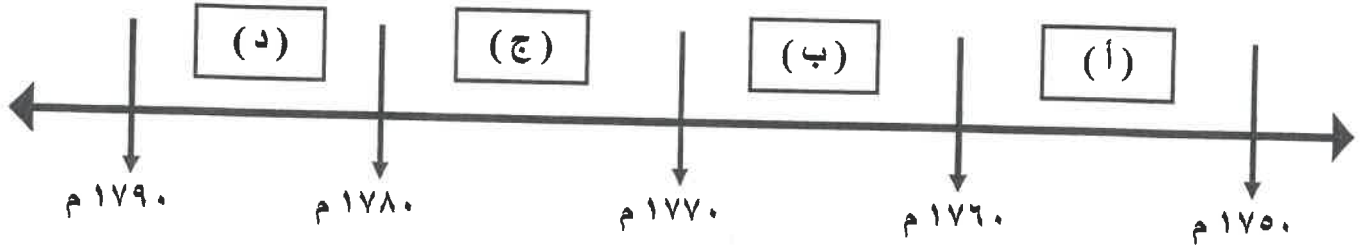
السؤال الأول : موضوعي و يتكون من (أ - ب - ج - د) :

(أ) ظلل الخيار الصحيح من بين الخيارات التي تلي كل عبارة :

١- صاحب النظرية السياسية المعروفة بـ (السيادة الشعبية) :

فولتير	جون لوك	روسو	مونتيسكيو
--------	---------	------	-----------

٢- الفترة الزمنية التي وقعت فيها معركة ساراتوجا يمثلها على المخطط الزمني الحرف :



٣- مؤتمر عقد عام ١٩٣٨م طالب فيه هتلر بحق تقرير مصير الألمان في منطقة السودان :

ميونخ	باريس	فرساي	برلين
-------	-------	-------	-------

٤- القائد الذي رفع شعار (السلام للجيش / الأرض للفلاحين / الغذاء للجميع / الحكم للثوريين) :

ستالين	زوكوف	رومل	لينين
--------	-------	------	-------

٥- مهام المنظمة التي يمثلها الشعار المقابل :



تحسين إنتاج المزارع والغابات	الإنشاء والتعمير
مواجهة المشاكل الصحية	تحسين ظروف العمل

(ب) صنف الأحلاف العسكرية التالية طبقاً لأسباب نشأتها في الجدول التالي:

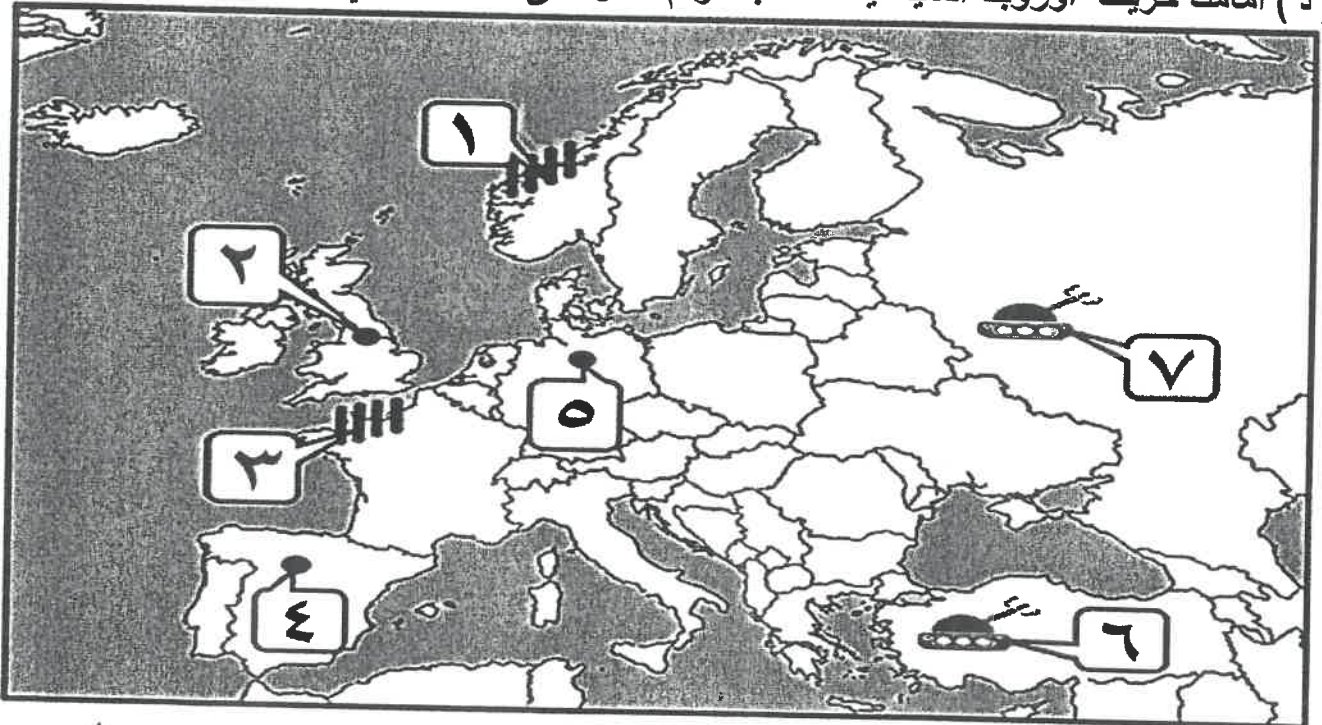
(عصبة الأباطرة - الثلاثي - الاتفاق الودي - الفولاذي - الوفاق الودي)

نسوية مناطق النفوذ في آسيا (إيران / أفغانستان / التبت)	انضمت إيطاليا لتحالف ألمانيا والنمسا رداً على احتلال فرنسا لتونس	قيام الإتحاد الألماني على عزل فرنسا بالتحالف مع النمسا وروسيا	تقدم ألمانيا الصناعي والاقتصادي ونمو قوتها البحرية
.....

(ج) أكمل العبارات التالية بما يناسبها فيما درست :

- ١- المجلس النيابي الذي يمثل الأرسقراطية الإنجليزية اسمه
- ٢- المستعمرة الأسبانية المنافسة لإنجلترا في أمريكا بعد حرب السنين السبع اسمها
- ٣- الرئيس الأمريكي الذي تبنى سياسة اقتصادية جديدة عُرفت بالنظام الجديد new deal اسمه
- ٤- الحركة اليمينية المتطرفة التي قادها موسوليني في إيطاليا اسمها

(د) أمامك خريطة أوروبا السياسية - أكتب الرقم الدال على العبارات التي تليها :

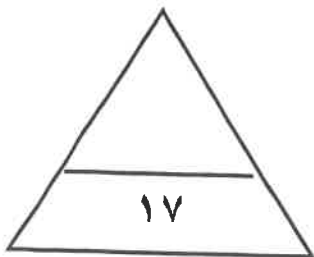


- معركة ستالينجراد عام ١٩٤٢م يمثلها على الخريطة الرقم (.....)

- دولة تزعمها الدكتاتور " فرانسيس فرانكو " يمثلها على الخريطة الرقم (.....)

- ساحل النورماندي يمثلها على الخريطة الرقم (.....)

- دولة قامت بها الثورة المجيدة عام ١٦٨٩م يمثلها على الخريطة الرقم (.....)



السؤال الثاني مقال و يتكون من (أ - ب - ج) :

(أ) اقرأ الفقرة التالية ثم أجب عما يليها من أسئلة :

" اختلفت الحرب العالمية الثانية عن جميع الحروب التي سبقتها بما فيها الحرب العالمية الأولى إذ أنها لم تكن مواجهة عسكرية بين شعوب متخاصمة بل كانت شاملة معظم دول العالم بالاشتراك المباشر أو بالتحالف مع الدول ، فكانت احتياجات الحرب دافعاً للتطور العلمي والتقني في مجال الأسلحة التي ساعدت على إنهاء الديكتاتوريات في إيطاليا وألمانيا واليابان ، ولمخاوف العالم من التطور التكنولوجي للأسلحة تمَّ عقد اتفاقيات سالت . "

١- عرف ما تحته خط .

- اتفاقيات سالت :

٢- استخرج من الفقرة السابقة ما يلي :

■ دليل على اختلاف الحرب العالمية الثانية عن جميع الحروب التي سبقتها.

■ نتائج الحرب العالمية الثانية في المجالات .

العلمية :

السياسية :

(ب) قارن بين كل من:

وجه المقارنة	مؤتمر فيلادلفيا الأول (الكونجرس الأول)	مؤتمر فيلادلفيا الثاني (الكونجرس الثاني)
العام	م	م
القرارات	-	-

(ج) أكتب فيما يلي :

١- العوامل الاقتصادية لقيام الثورة الفرنسية .

٢- سبب عجز منظمة عصبة الأمم في حل القضايا المهمة .

السؤال الثالث مقالى و يتكون من (أ - ب - ج) :

(أ) لاحظ الصورة المقابلة ثم أجب عن الأسئلة التالية :



١- أكتب - اسم المؤتمر الدالة عليه الصورة ؟

..... -

٢- عدد - أهداف منظمة "الأمم المتحدة" ؟

..... -

..... -

(ب) فرّق بين كل مما يلي :

مبادئ الحزب النازي	مبادئ الحزب الشيوعي
..... - - - -
السبب المباشر لقيام الحرب العالمية الثانية	السبب المباشر لقيام الحرب العالمية الأولى
..... - - - -

(ج) فند العبارات التالية :

١- اقتصررت إصلاحات الجمعية الوطنية على إصدار وثيقة الحقوق الفرنسية ودستور ١٧٩١ م .

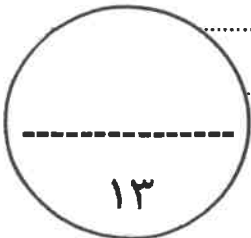
..... -

..... -

٢- امتياز الملك الإنجليزي بصلاحيات مطلقة وفق لائحة الحقوق الإنجليزية الصادرة عن البرلمان .

..... -

..... -



السؤال الرابع مقالى و يتكون من (أ - ب - ج) :

(أ) أكتب النتائج المترتبة على كل من :

.....	- حرب السنين السبع على سكان المستعمرات الإنجليزية	١
.....	- معركة فالمي عام ١٧٩٢ م	٢
.....	- مؤتمر صلح فرساي عام ١٩١٩ م	٣

(ب) علل لما يلى :

١- تعتبر الثورة الفرنسية واحدة من أهم الثورات الكبرى في العالم .

.....
.....

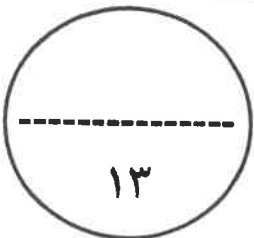
٢- كانت القارة الأوروبية محور العلاقات الدولية في بداية القرن العشرين .

.....
.....

(ج) عَرِّف المفاهيم والمصطلحات التالية :

.....	١- القوانين الجائرة
.....	٢- الثورة المضادة
.....	٣- المارن

(انتهت الأسئلة مع تمنياتنا لكم بالتوفيق والنجاح)



١٣

نموذج اجابة



الدور الثاني
العام الدراسي: ٢٠٢٢ / ٢٠٢٣ م

الزمن: ساعتان وربع

عدد الصفحات: (٦)

امتحان نهاية الفترة الدراسية الثانية

مقرر / تاريخ العالم الحديث والمعاصر

للفصل الثاني عشر / القسم الأدبي

وزارة التربية

التوجيه الفني العام للاجتماعيات

تم التحصيل من شبكة ياكويت التعليمية



Telegram:
ykuwait_net_home

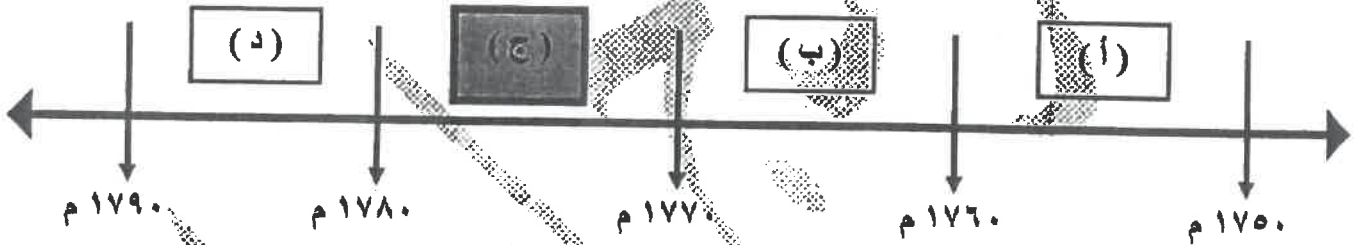
اجب على جميع الاسئلة

السؤال الأول : موضوعي و يتكون من (أ - ب - ج - د) : (لكل نقطة درجة = ١٧ درجة)
(أ) ظلل الخيار الصحيح من بين الخيارات التي تلي كل عبارة :

١- صاحب النظرية السياسية المعروفة ب (السيادة الشعبية) : ص ٧٦

منتيسكيو	روسو	جون لوك	فولتير
----------	------	---------	--------

٢- الفترة الزمنية التي وقعت فيها معركة ساراتوجا يمثلها على المخطط الزمني الحرف : ص ٨٢



٣- مؤتمر عقد عام ١٩٣٨م طالب فيه هتلر بحق تقرير مصير الألمان في منطقة السودان : ص ١٠٩

برلين	فرساي	باريس	ميونيخ
-------	-------	-------	--------

٤- القائد الذي رفع شعار (السلام للجيش / الأرض للفلاحين / الغذاء للجميع / الحكم للسوفييت) : ص ١٠٦

لينين	رومل	زوكوف	ستالين
-------	------	-------	--------

٥- مهام المنظمة التي يمثلها الشعار المقابل : ص ١١٨



تحسين إنتاج المزارع والغابات	الإنشاء والتعمير
مواجهة المشاكل الصحية	تحسين ظروف العمل

وزارة التربية

التوجيه الفني العام للاجتماعيات

(ب) صنف الأحلاف العسكرية التالية طبقاً لأسباب نشأتها في الجدول التالي : ص ٩٧ و ٩٨

(عصابة الأباطرة - الثلاثي - الاتفاق الودي - الفولاذي - الوفاق الودي)

تقدم ألمانيا الصناعي والاقتصادي ونمو قوتها البحرية	قيام الإتحاد الألماني على عزل فرنسا بالتحالف مع النمسا وروسيا	الضمت إيطاليا لتحالف ألمانيا والنمسا رداً على احتلال فرنسا لتونس	تسوية مناطق النفوذ في آسيا (إيران / أفغانستان / التبت)
الاتفاق الودي	عصبة الأباطرة	الثلاثي	الوفاق الودي

تم التحميل من شبكة ياكويت للتعليمية



Telegram: ykuwait_net_home

(ج) أكمل العبارات التالية بما يناسبها فيما درست :

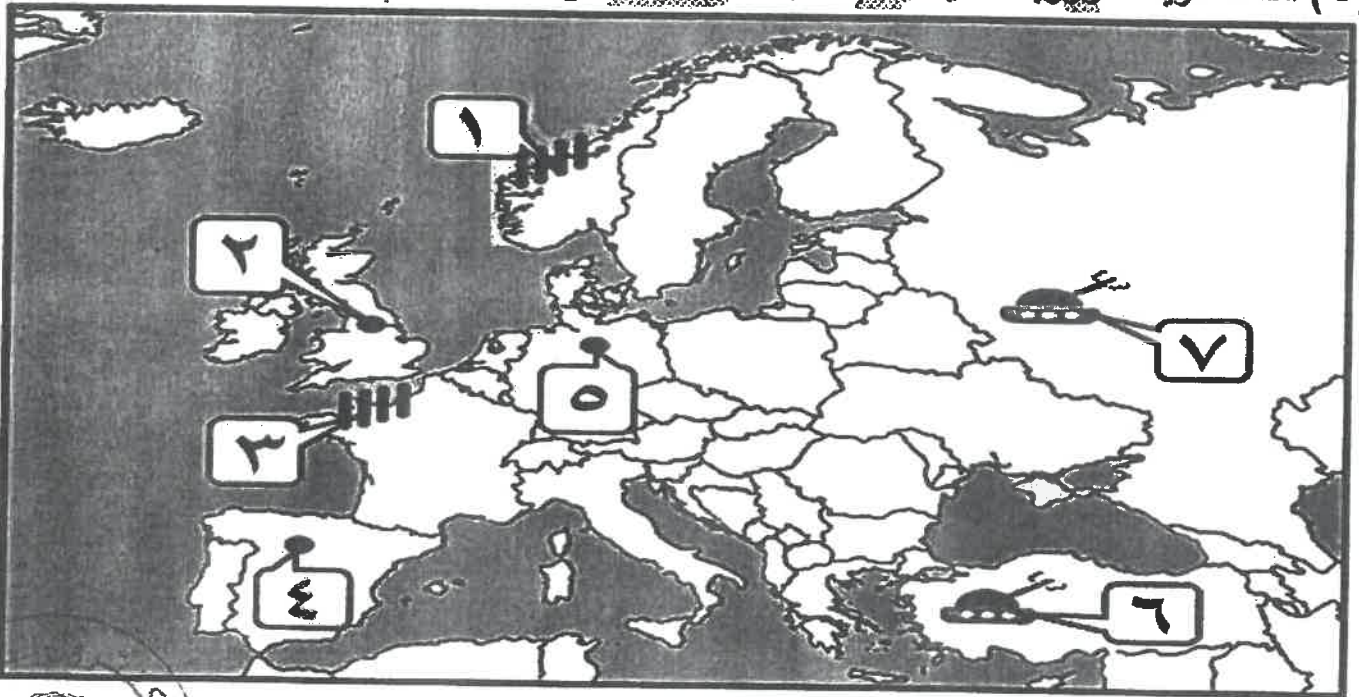
١- المجلس النيابي الذي يمثل الأرستقراطية الإنجليزية أسمه اللوردات ص ٧٥

٢- المستعمرة الأسبانية المنافسة لإجلترا في أمريكا بعد حرب السنين السبع اسمها فلوريدا ص ٧٧

٣- الرئيس الأمريكي الذي تبني سياسة اقتصادية جديدة عُرفت بالنظام الجديد **new deal** اسمه فرانكلين روزفلت ص ١٠٥

٤- الحركة اليمينية المتطرفة التي قادها موسوليني في إيطاليا اسمها الفاشية ص ١٠٨

(د) أمامك خريطة أوروبا السياسية - أكتب الرقم الدال على العبارات التي تليها :



- معركة ستالينجراد عام ١٩٤٢ م يمثلها على الخريطة الرقم (٧) ص ١١١

- دولة تزعمها الدكتاتور " فرانسيس فرانكو " يمثلها على الخريطة الرقم (٤) ص ١٠٨

- ساحل النورماندي يمثلها على الخريطة الرقم (٣) ص ١١٢

- دولة قامت بها الثورة المجيدة عام ١٦٨٩ م يمثلها على الخريطة الرقم (٢) ص ٧٣

التربية



وزارة

السؤال الثاني مقالتي و يتكون من (أ - ب - ج) :

(أ) اقرأ الفقرة التالية ثم أجب عما يليها من أسئلة : (أربع درجات لكل نقطة درجة)

" اختلفت الحرب العالمية الثانية عن جميع الحروب التي سبقتها بما فيها الحرب العالمية الأولى إذ أنها لم تكن مواجهة عسكرية بين شعوب متخاصمة بل كانت شاملة معظم دول العالم بالاشتراك المباشر أو بالتحالف مع الدول ، فكانت احتياجات الحرب دافعاً للتطور العلمي والتقني في مجال الأسلحة التي ساعدت على إنهاء الديكتاتوريات في إيطاليا وألمانيا واليابان ، ولمخاوف العالم من التطور التكنولوجي للأسلحة تم عقد اتفاقيات سالت ."

١- عرف ما تحته خط :

١- اتفاقيات سالت : اتفاقيات وقف التسليح واستخدام الأسلحة الفتاكة . ص ١١٥

٢- استخرج من الفقرة السابقة ما يلي :

أ - دليل على اختلاف الحرب العالمية الثانية عن جميع الحروب التي سبقتها. ص ١١٣

- كانت شاملة معظم دول العالم بالاشتراك المباشر أو بالتحالف مع الدول .

ب - نتائج الحرب العالمية الثانية في المجالات . ص ١١٤

العلمية : كانت احتياجات الحرب دافعاً للتطور العلمي والتقني في مجال الأسلحة .

السياسية : إنهاء الديكتاتوريات في إيطاليا وألمانيا واليابان .

(ب) قارن بين كل من: (أربع درجات لكل نقطة درجة)

وجه المقارنة	مؤتمر فيلادلفيا الأول (الكونجرس الأول)	مؤتمر فيلادلفيا الثاني (الكونجرس الثاني)
العام	١٧٧٤ م	١٧٧٥ م
القرارات	- عدم الرضوخ للقوانين الجائرة التي أصدرتها إنجلترا ضد ميناء بوسطن . - وجهوا طلباً من الشعب الأمريكي للملك الإنجليزي بإلغاء تلك القوانين الجائرة . - إعادة سلاح المقاطعة التجارية للبيضانج الإنجليزية و تشكيل لجان في كل المدن لتنظيم عملية المقاطعة و الاشراف عليها .	- اعتبر جيش بوسطن جيشاً أمريكياً يخص كل المستعمرات . - تعيين جورج واشنطن قائد الجيش الوطني الأمريكي الذي سيخوض حرب الاستقلال الأمريكية ضد إنجلترا .
	(الافتقاء بنقطة واحدة) ص ٨٠	(الافتقاء بنقطة واحدة) ص ٨٠

تابع / السؤال الثاني :

(ج) أكتب فيما يلي : (خمس درجات لكل نقطة درجة)

١- العوامل الاقتصادية لقيام الثورة الفرنسية . ص ٨٦ (يكتفى بنقطتين)

- الخسائر الكبيرة التي ترتبت على الحروب الخاسرة التي خاضتها فرنسا خلال القرن الثامن عشر أدت إلى استنزاف كثير من أموال الخزانة الفرنسية وفقد الفرنسيون الكثير من المستعمرات التي كانت تدر دخلاً كبيراً لا سيما تلك المستعمرات الفرنسية في أمريكا الشمالية والهند .

- اشترك فرنسا في حرب الاستقلال الأمريكية مدفوعة في ذلك بالثأر لكرامتها من جراء هزيمتها أمام إنجلترا في حرب السنين السبع ونتيجة لذلك تحملت الخزانة الفرنسية أموالاً طائلة أجهزت على خزينة الدولة وأصبحت فرنسا على شفا الإفلاس.

- سياسة الامتيازات والإعفاءات الضريبية التي كانت فرنسا تطبقها حيث كانت الطبقة الممتازة التي تملك الثروة معفاة من جميع أنواع الضرائب وكذلك الكنيسة مما حرم الخزانة الفرنسية من مصدر مهم من مصادر الدخل وساهمت بشكل كبير في تفاقم الأوضاع الاقتصادية في فرنسا ولا سيما في عصر الملك لويس السادس عشر.

- حياة الترف والبلذخ التي يعيش فيها البلاط الفرنسي في الوقت الذي كان الشعب الفرنسي فيه ينن تحت وطأة المجاعة والفقر والحرمان وارتفاع الأسعار والبطالة.

٢- سبب عجز منظمة عصبة الأمم في حل القضايا المهمة . ص ١٠٤ (يكتفى بثلاث نقاط)

- عدم التزام الدول الكبرى بميثاق العصبة .

- لم يكن للعصبة قوة عسكرية قادرة على تنفيذ قراراتها .

- أصبحت أداة لمصلحة الدول الكبرى في ذلك الوقت فانهارت هذه المنظمة نتيجة لسياسة الدول المنتصرة في الحرب.

- لم تشارك الولايات المتحدة في عضويتها على الرغم من أنها صاحبة الفكرة.

تم التحميل من شبكة ياكويت التعليمية



Telegram:
[ykuwait_net_home](https://t.me/ykuwait_net_home)



وزارة التربية

التوجيه الفني العام للإجتماعيات

السؤال الثالث مقالتي و يتكون من (أ - ب - ج) :

(أ) لاحظ الصورة المقابلة ثم أجب عن الأسئلة التالية : (ثلاث درجات لكل نقطة درجة) ص ١١٦



١- اكتب - اسم المؤتمر الدالة عليه الصورة ؟ - مؤتمر يالطا

٢- عدد - أهداف منظمة "الأمم المتحدة" ؟ (يكتفى بنقطتين)

- المحافظة على السلام والأمن الدوليين وحل النزاعات بالطرق السلمية .
- تنمية العلاقات الودية بين الدول على المساواة واحترام حقوق الانسان .
- تحقيق التعاون الدولي في جميع المجالات .
- تكون الأمم المتحدة أداة للتنسيق بين أعمال الدول والمنظمات الأخرى .

(ب) فرّق بين كل مما يلي : (ست درجات لكل نقطة درجة)

مبادئ الحزب النازي ص ١٠٧	مبادئ الحزب الشيوعي ص ١٠٦
- تفوق العنصر البشري الجرمانى الألماني على جميع العناصر البشرية / قيام ألمانيا الكبرى التي تضم كل الألمان - امتلاك الدولة للشركات الاحتكارية / إلغاء معاهدة فرساي / - استعادة المستعمرات الألمانية . (الاكتفاء بنقطتين)	- سيطرت الدولة على جميع مصادر الثروة ووسائل الإنتاج / - إلغاء الملكية الخاصة وإشراف الدولة على التخطيط الاقتصادي . - تحقيق العدالة الاجتماعية بين أفراد الشعب . - محو الفوارق بين القوميات في روسيا . (الاكتفاء بنقطتين)
السبب المباشر لقيام الحرب العالمية الثانية ص ١١٠	السبب المباشر لقيام الحرب العالمية الأولى ص ١٠٠
- اجتياح هتلر بولندا عام ١٩٣٩م والهجوم على ممر دانزج (دانزيج)	اغتيال طالب صربي ولي عهد النمسا الأرشدوق فرينناوند وزوجته في مدينة سراييفو عاصمة البوسنة عام ١٩١٤م .

(ج) فند العبارات التالية : (أربع درجات لكل نقطة درجة)

١- اقتصر إصلاحات الجمعية الوطنية على إصدار وثيقة الحقوق الفرنسية ودستور ١٧٩١م . ص ٨٩
عبارة غير صحيحة و الدليل على ذلك بنود اللانحة : - إصلاح النظام الإداري حيث قسمت فرنسا إلى محافظات جغرافية وليس على أساس طبقي . / - ألغت النظام القضائي القديم وأصبح منصب القاضي انتخابياً . / - إصلاح النظام الضريبي والمالي حيث وزعت الضرائب على أساس التساوي بين جميع الأفراد وطبقاً لمخاطر كل فرد . / - وجهت إصلاحاتها نحو الكنيسة الفرنسية فصدر قرار لمصادرة أملاكها . (يكتفى بنقطتين)

٢- امتياز الملك الإنجليزي بصلاحيات مطلقة وفق لائحة الحقوق الإنجليزية الصادرة عن البرلمان . ص ٧٤
عبارة غير صحيحة و الدليل على ذلك بنود اللانحة :

- لا يجوز للملك ابطال أو تعديل قانون صادر عن البرلمان .

- لا يحق للملك فرض ضرائب جديدة أو تشكيل الجيش أو إعلان الحرب دون موافقة البرلمان .

السؤال الرابع مقال و يتكون من (أ - ب - ج) :

(أ) اكتب النتائج المترتبة على كل من : (ست درجات لكل نقطة درجة)

١	حرب السنين السبع على سكان المستعمرات الإنجليزية ص ٧٨	- شعورهم بقوتهم الحقيقية وقدرتهم . / - برز كثير من أبنائهم في تلك الحروب من أمثال جورج واشنطن . / - اشتركهم في الحرب جعلهم يعتادون التعاون فيما بينهم ويشعرون بأنهم كيان واحد . / - الانتصارات أزالت التهديد الخارجي من الفرنسيين نحو المستعمرات الأمريكية . / - فتح الباب أمام الأمريكيين للتوسع نحو الغرب دون حدود أو قيود . (يكتفى بنقطتين)
٢	معركة فالمي عام ١٧٩٢ م ص ٩٠	- انتصار الجيش الفرنسي / - انقذت أفكار الثورة الفرنسية من الضياع . - حالت دون وقوع باريس . / - رفعت الروح المعنوية للفرنسيين . - تحول جيش الثورة بعدها من الدفاع إلى الهجوم . / - أصبح جيش الثورة الفرنسية مصدر رعب للدول الأوروبية فيما بعد . (يكتفى بنقطتين)
٣	مؤتمر صلح فرساي عام ١٩١٩ م ص ١٠٣	- تفكك إمبراطوريات عريقة مثل (الألمانية / النمسا / الروسية / الدولة العثمانية) وظهرت دول قومية جديدة في أوروبا مثل (بولندا / تشيكوسلوفاكيا / يوغسلافيا / المجر) . / - أن تتحمل ألمانيا مسؤولية الحرب حيث فرض عليها دفع تعويضات مالية كبيرة للحلفاء . / - تخفيض عدد الجيش الألماني و منع ألمانيا من تصنيع أو اقتناء الأسلحة العسكرية . / - اقتطاع أجزاء من ألمانيا و ضمها لدول أخرى . - وضع إقليم (الساار) تحت الإدارة الدولية . (يكتفى بنقطتين)

(ب) علل ما يلي : (أربع درجات لكل نقطة درجة)

- ١- تعتبر الثورة الفرنسية واحدة من أهم الثورات الكبرى في العالم . ص ٨٣ **(يكتفى بنقطتين)**
- لأنها أعطت مفاهيم جديدة للعالم . / - وُضعت في حيز التنفيذ مبادئ عامة كانت قبلها مجرد نظريات .
- شمل التغيير جميع مناحي الحياة الفرنسية . / - لم تقتصر على فرنسا بل شملت جميع أنحاء العالم فاستحقت أن تلقب بالنموذج الشامل للثورة .

٢- كانت القارة الأوروبية محور العلاقات الدولية في بداية القرن العشرين . ص ٩٧ **(يكتفى بنقطتين)**

- مركز الثورة الصناعية .
- وفرة الموارد والإمكانات الاقتصادية .
- النفوذ الاستعماري في جميع القارات .
- نشوء الإمبراطوريات الكبرى .

(ج) عَرِّف المفاهيم والمصطلحات التالية : (ثلاث درجات لكل نقطة درجة)

١- القوانين الجائرة	القوانين التي أصدرها البرلمان الإنجليزي لمعاقبة ميناء بوسطن عام ١٧٧٣م بعد حادثة حفلة الشاي ص ٧٩
٢- الثورة المضادة	ثورة قام بها أصحاب تيار الملكية الدستورية احتجاجاً على إعدام الملك . ص ٩١
٣- المارن	نهر في فرنسا كان مسرحاً لمعركتين حاسمتين في الحرب العالمية الأولى . ص ١٠١





وزارة التربية

التوجيه الفني العام للاجتماعيات

امتحان نهاية الفترة الدراسية الثانية

مقرر / تاريخ العالم الحديث والمعاصر

للسف الثاني عشر / القسم الأبي

العام الدراسي: ٢٠٢١ / ٢٠٢٢ م

الزمن: ساعتان وربع

عدد الصفحات: (*)

اجب عن جميع الاسئلة

السؤال الأول : موضوعي ويتكون من (أ - ب - ج - د) :

(أ) ظلل الخيار الصحيح من بين الخيارات التي تلي كل عبارة :

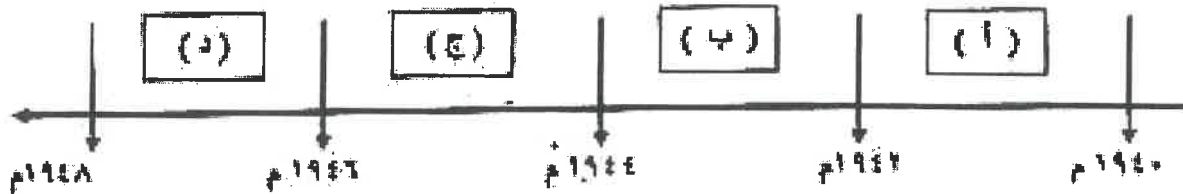
١- المدينة التي تضم مقر محكمة العدل الدولية :

واشنطن	لاهاي	باريس	برلين
--------	-------	-------	-------

٢- الاتفاق الذي عقد عام ١٩٠٤م بين كل من بريطانيا وفرنسا :

الاتفاق الودي	الوفاق الودي	صلح باريس	الحلف الثلاثي
---------------	--------------	-----------	---------------

٣- الفترة الزمنية لهجوم اليابان على " ميناء بيرل هاربر " يمثلها على الخط الزمني العرفي :



٤- النظام الذي أقامه صليحب السورة المتدابة :

التشويهي	التنكري
----------	---------

المتشويهي	الزائمتي
-----------	----------



تابع / السؤال الأول : موضوعي :

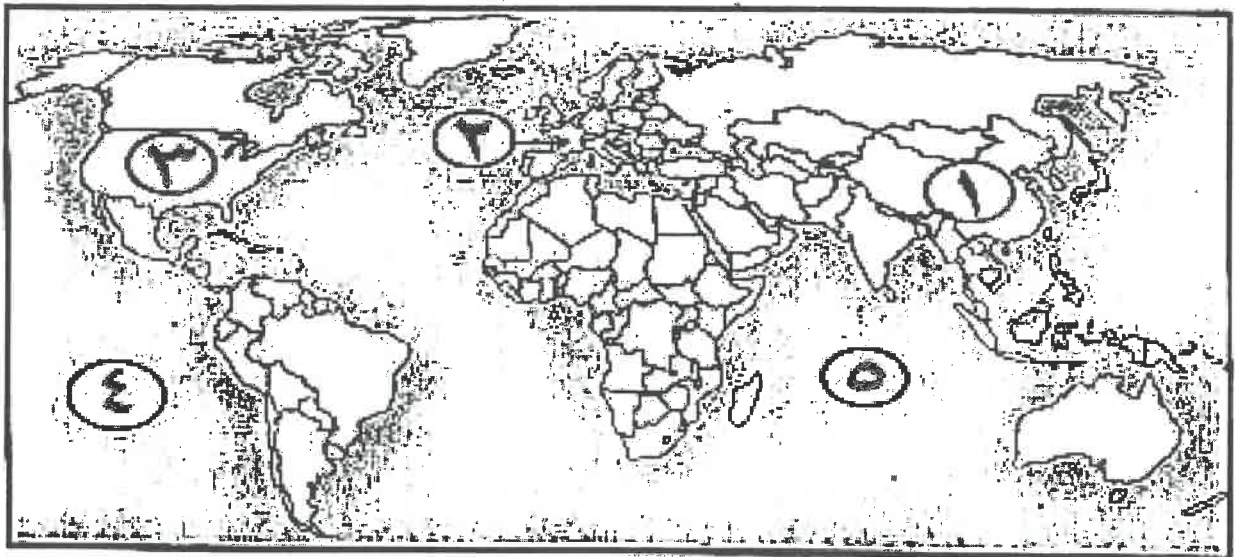
(ب) صوب ما تحته خط في العبارات التالية :

م	العبارة	التصويب
١	ذات القوات الأمريكية في معركة " ساراتوجا " <u>لاقيت</u>	
٢	معاهدة أعطت فرنسا مكاسب كبيرة وحقت الغزى والعزة <u>فرساي</u> .	
٣	مدينة أُغتيل فيها ولي عهد النمسا الأرشيدوق فرديناند وزوجته <u>روما</u> .	
٤	حصن إقطاعي قديم في فرنسا تحول إلى سجن للدولة <u>باريس</u> .	

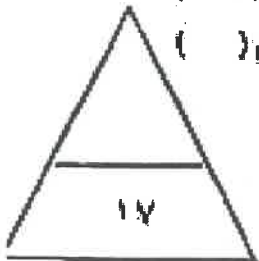
(ج) أكمل العبارات التالية بما يناسبها فيما برمت :

- ١- العام الذي حدثت فيه الأزمة الاقتصادية العالمية م
- ٢- الوزير الفرنسي الذي دعا لعقد مجلس طليقات الأمة عام ١٧٨٩ م اسمه
- ٣- المستعمرة الإنجليزية التي تأسست في أمريكا الشمالية عام ١٦٠٧ م اسمها
- ٤- المعركة التي انتصر فيها الجيش الفرنسي على القوات المشتركة عام ١٧٩٢ م اسمها
- ٥- العام الممالي الذي كان سبباً مباشراً في قيام الحرب العالمية الثانية اسمه

(د) أمامك خريطة العالم الميلاسية - اكتب أرقام الدال على العبارات التي تليها :



- دولة كبرى معقدة ظهرت بعد الحرب العالمية الثانية بقيادة " ماوتسي تونج " يمثلها على الخريطة الرقم ()
- مسطح مائي كان مسرحاً لتسارع الأمريكي الياباني في الحرب العالمية الثانية يمثل على الخريطة الرقم ()
- الدولة التي يقع فيها سملل التورماندي يمثلها على الخريطة الرقم ()
- معركة " لجنجستون " وقعت في دولة يمثلها على الخريطة الرقم ()



عدد / امتحان اللغة العربية - تاريخ العلم الحديث - المصاحف - تعاليم كائنات علم الأحياء - تطور النواصي ٢٠١١ / ٢٠١٢ م

المسائل الثماني مقالتي و يتكون من (أ - ب - ج) :

(أ) علل لما يلي:

١- انضمام إيطاليا للحلف الثلاثي عام ١٨٨٢ م.

٢- دخول الولايات المتحدة الأمريكية للحرب العالمية الأولى عام ١٩١٧م ضد ألمانيا .

٣- تخبير الثورة الفرنسية واحدة من أهم الثورات الكبرى في العالم .

(ب) أكتب النتائج المعرفية على كل من :

الحرب العالمية الثانية من الناحية الاقتصادية	الحرب العالمية الثانية من الناحية البحرية
.....
معركة الملون الثانية	معركة الملون الأولى
.....

(ج) فند العبارات التالية :

١- اختصرت نتائج الحرب العالمية الأولى على الجانب الإنجليزي فقط .

٢- فشلت الجمعية الوطنية في دورها الإصلاحي في فرنسا .



تدريج / استخرج من الفقرة الدراسة التالية : تاريخ علم الحديث - المجتمع - أصل الفقه - علم الفقه - العلم الفرنسي - ٢٠٢٢

السؤال الثالث مقالي ويتكون من (أ - ب - ج) :

(أ) اقرأ الفقرة التالية ثم أجب عما يليها من أسئلة :

"الفترة الأوروبية جزء من العلم الذي انقسم سياسياً في أواخر القرن التاسع عشر وبداية القرن العشرين بسبب عدة عوامل ، أهمها بروز النزعة القومية وتصلب الأيديولوجيات وتضارب المصالح الاقتصادية ، وسهنة التوسع للسيطرة على مناطق مختلفة من العلم وما صاحبه من سبق للتصالح فتجهت إلى الاحتفالات الدولية للفن الآثار السلبية الناتجة من الإنقسام ."

١- عرف ما تحته خط .

الاحتفالات الدولية :

١- استخرج من الفقرة السابقة عوامل انقسام العلم سياسياً في أواخر القرن التاسع عشر وبداية القرن العشرين .

(ب) قارن بين كل من :

وجه المقارنة	الطبقة الممتدة في المجتمع الفرنسي	الطبقة لعملة في المجتمع الفرنسي
الفن
الخصائص

(ج) تأخذ المطلوب منك فيما بين القوسين :

١- مؤتمر فيانغيا الأول ١٧٧٤ م " التويز من الأول " . (القبول)

٢- الثورة الشيوعية في روسيا بقيادة لينين . (العوامل)

تتم الاجتماع لدراسة القضية المقرر تاريخ العلم الحديث و المعاصر - أصل التلاميذ على الكتيب - العلم الحديث / ٢٠١١ / ٢٠٢٢ م

الموازل الرابع مقالتي و يتكون من (أ - ب - ج) :

(أ) عرّف المفاهيم والمصطلحات التالية :

.....	١- جناحة أبناء الخربة
.....	٢- عصبة الأمم
.....	٣- النازية
.....	٤- اتفاقيات سالت

(ب) نل على صحة العبارات التالية :

١- نتج عن حرب السنين التسع (١٧٥٦ - ١٧٦٣ م) أثراً إيجابية على سكان المستعمرات الإنجليزية في أمريكا .


.....
.....

٢- التوتر الدولي سهل قيام الحرب العظمى للثوية .

.....
.....

٣- اتخذ البرلمان الإنجليزي قرارات صارمة لمعاقبة ميناء بوسطن عام ١٧٧٢ م .

.....
.....



(ج) لاحظ الصورة المعقولة ثم اجب عن الأسئلة التالية :

١- اكتب اسم الحدث الذالفة عليه الصورة .

.....

٢- ما النتائج المترتبة على هذا الحدث؟

داخلية :

خارجية :



(انتهت الأسئلة مع تمثيقتنا لكم بالتوفيق والنجاح)

نموذج الاجابة

العام الدراسي: ٢٠٢١ / ٢٠٢٢ م

امتحان نهاية الفترة الدراسية الثانية

الزمن: ساعتان وربع

مقرر / تاريخ العالم الحديث والمعاصر

عدد الصفحات: (٥)

للف الثاني عشر / القسم الأدبي

التوجيه الفني العام للاجتماعيات



وزارة التربية

أجب عن جميع الاسئلة

السؤال الأول : موضوعي ويتكون من (أ - ب - ج - د) : (لكل نقطة درجة = ١٧ درجة)

(أ) ظل الخيار الصحيح من بين الخيارات التي تلي كل عبارة :

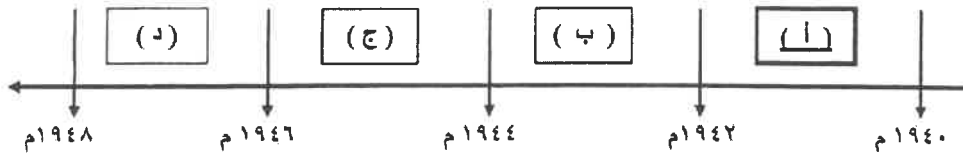
١- المدينة التي تضم مقر محكمة العدل الدولية : ص ١٠٤

برلين	باريس	لاهاي	واشنطن
-------	-------	-------	--------

٢- الاتفاق الذي عُقد عام ١٩٠٤م بين كل من بريطانيا وفرنسا : ص ٩٨

الحلف الثلاثي	صلح باريس	الوفاق الودي	<u>الاتفاق الودي</u>
---------------	-----------	--------------	----------------------


٣- الفترة الزمنية لهجوم اليابان على " ميناء بيرل هاربر " يمثلها على الخط الزمني الحرف : ص ١١١



٤- النظام الذي اقامه صاحب الصورة المقابلة : ص ١٠٨

النازي	الشيوعي
--------	---------

الراسمالي	<u>الفاشي</u>
-----------	---------------



التربية



وزارة

التوجيه الفني العام للاجتماعيات

تابع / نموذج احياء امتحان الفترة الدراسية الثانية لمقرر تاريخ العالم الحديث والمعاصر - الصف الثاني عشر الأبي - العام الدراسي ٢٠٢١ / ٢٠٢٢ م

تابع / السؤال الأول : موضوعي :

(ب) صوب ما تحته خط في العبارات التالية :

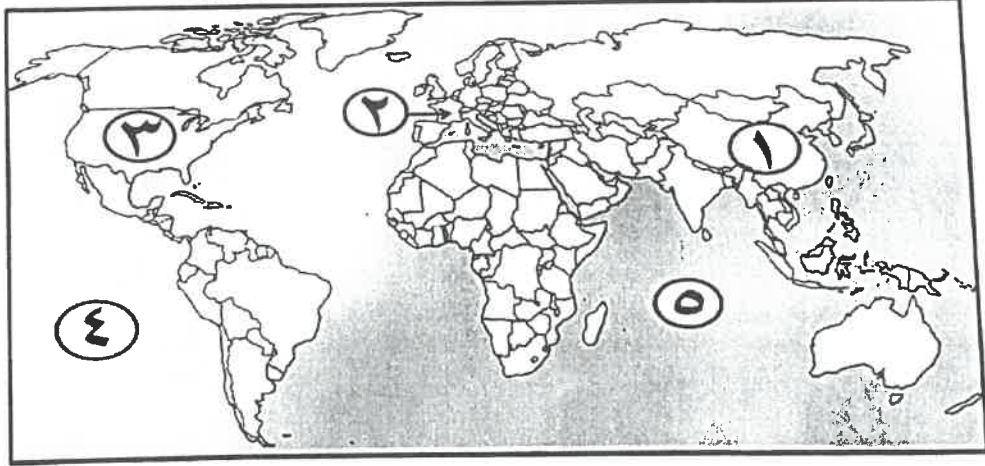
م	العبرة	التصويب
١	قائد القوات الأمريكية في معركة " ساراتوجا " <u>لافيتت</u> .	واشنطن ص ٨٢
٢	معاهدة أعطت فرنسا مكاسب كبيرة وحقت الفخر والعزة <u>فرساي</u> .	كامبوفروميو ص ٩٢
٣	مدينة أُغتيل فيها ولي عهد النمسا الأرشيدوق فريديناند وزوجته <u>روما</u> .	سراييفو ص ١٠٠
٤	حصن إقطاعي قديم في فرنسا تحول إلى سجن للدولة <u>باريس</u> .	الباستيل ص ٨٨

(ج) أكمل العبارات التالية بما يناسبها فيما درست :



- ١- العام الذي حدثت فيه الأزمة الاقتصادية العالمية ١٩٢٩م ص ١٠٥
- ٢- الوزير الفرنسي الذي دعا لعقد مجلس طبقات الأمة عام ١٧٨٩م اسمه نيكر ص ٨٧
- ٣- المستعمرة الإنجليزية التي تأسست في أمريكا الشمالية عام ١٦٠٧م اسمها جيمس تون ص ٧٦
- ٤- المعركة التي انتصر فيها الجيش الفرنسي على القوات المشتركة عام ١٧٩٢م اسمها فالمي ص ٩٠
- ٥- الممر المائي الذي كان سبباً مباشراً في قيام الحرب العالمية الثانية اسمه دانريغ / دانزج ص ١١٠

(د) أمامك خريطة العالم السياسية - أكتب الرقم الدال على العبارات التي تليها :



- دولة كبرى مستقلة ظهرت بعد الحرب العالمية الثانية بقيادة " ماوتسي تونج " يمثلها على الخريطة الرقم (١) ص ١١٥
- مسطح مائي كان مسرحاً للصراع الأمريكي الياباني في الحرب العالمية الثانية يمثلها على الخريطة الرقم (٤) ص ١١٢
- الدولة التي يقع فيها ساحل النورماندي يمثلها على الخريطة الرقم (٢) ص ١١٢
- معركة " لكنجستون " وقعت في دولة يمثلها على الخريطة الرقم (٣) ص ٨٠

وزارة التربية

التوجيه الفني العام للإجتماعيات

تابع / نموذج إجابة امتحان الفترة الدراسية الثانية لمقرر تاريخ العالم الحديث و المعاصر - الصف الثاني عشر الأبي - العام الدراسي ٢٠٢١ / ٢٠٢٢ م

السؤال الثاني مقالى و يتكون من (أ - ب - ج) :

(أ) علل لما يلي: (أربع درجات لكل نقطة درجة)

- ١- انضمام إيطاليا للحلف الثلاثي عام ١٨٨٢ م . ص ٩٨
- رداً على احتلال فرنسا لتونس .
- ٢- دخول الولايات المتحدة الأمريكية للحرب العالمية الأولى عام ١٩١٧م ضد ألمانيا . ص ١٠٠
- بسبب مهاجمة الغواصات الألمانية السفن التجارية الأمريكية .
- ٣- تعتبر الثورة الفرنسية واحدة من أهم الثورات الكبرى في العالم .
- لأنها أعطت مفاهيم جديدة للعالم .
- وضعت في حيز التنفيذ مبادئ عامة كانت قبلها مجرد نظريات .
- شمل التغيير جميع مناحي الحياة الفرنسية / - لم يكن قاصراً على فرنسا أو أوروبا فقط بل تعداه ليصل إلى جميع أنحاء العالم .

(ب) أكتب النتائج المترتبة على كل من : (أربع درجات لكل نقطة درجة)

الحرب العالمية الثانية من الناحية الاقتصادية (يكتفى بنقطة واحدة) ص ١١٤	الحرب العالمية الثانية من الناحية البشرية (يكتفى بنقطة واحدة)
كانت نفقات الحرب باهظة أدت إلى تحمل كثير من الدول ديوناً كبيرة . / - الدمار الذي حل بالمساكن والمصانع والطرق والمؤسسات . / - تحولت دول أوروبا إلى دول مستوردة بعد أن كانت دولاً مصدرة .	سقط حوالي ٥٠ مليون قتيل / - شرد الملايين في أوروبا واليابان / - عم الخراب والدمار معظم أنحاء العالم . / - برزت مشكلة المشوهين والمعاقين / - انتشار ممارسة العنف .
معركة المارن الثانية ص ١٠١	معركة المارن الأولى
شن الحلفاء هجوماً معاكساً أدى إلى إنزال الهزيمة بالألمان	أوقف الحلفاء فيها زحف الألمان على باريس

(ج) فند العبارات التالية : (خمس درجات لكل نقطة درجة)



- ١- اقتصر نتائج الحرب العالمية الأولى على الجانب الإيجابي فقط .
- تسببت في دماراً هائلاً وخسائر مادية وبشرية فسقط ملايين القتلى والجرحى .
- الركود الاقتصادي في العالم .
- تغيير جذري في خريطة أوروبا السياسية .
- ٢- فشلت الجمعية الوطنية في دورها الإصلاحي في فرنسا .
- اصدار وثيقة الحقوق الفرنسية ودستور ١٧٩١ م .
- إصلاح النظام الإداري حيث قسمت فرنسا إلى محافظات جغرافية وليس على أساس طبقي .
- إصلاح النظام الضريبي والمالي حيث قسمت الضرائب على أساس التساوي بين جميع الأفراد وطبقاً لدخل كل فرد .
- ألغت النظام القضائي القديم وأصبح منصب القاضي انتخابياً .
- اصلاحاتها نحو الكنيسة الفرنسية فصدر قرار بمصادرة أملاكها .

وزارة التربية

التوجيه الفني العام للإجتماعيات

السؤال الثالث مقالاً و يتكون من (أ - ب - ج) :

(أ) اقرأ الفقرة التالية ثم أجب عما يليها من أسئلة : (أربع درجات لكل نقطة درجة)

"القارة الأوروبية جزء من العالم الذي انقسم سياسياً في أواخر القرن التاسع عشر وبداية القرن العشرين بسبب عدة عوامل ، أهمها بروز النزعة القومية وتصادم الأيديولوجيات وتضارب المصالح الاقتصادية ، وسياسة التوسع للسيطرة على مناطق مختلفة من العالم وما صاحبه من سباق للتسلح فاتجهت إلى الاتفاقيات الدولية لتفادي الآثار السلبية الناتجة من الانقسام ."

١- عرف ما تحته خط .

الاتفاقيات الدولية : تشريعات يتفق عليها دولياً وهي مقننة لتلزم الدول المشتركة بها . ص ٩٧

٢- استخرج من الفقرة السابقة عوامل انقسام العالم سياسياً في أواخر القرن التاسع عشر وبداية القرن العشرين .

- بروز النزعة القومية وتصادم الأيديولوجيات .

- تضارب المصالح الاقتصادية . / - سياسة التوسع للسيطرة على مناطق مختلفة من العالم . / - سباق للتسلح .

(ب) قارن بين كل من : (أربع درجات لكل نقطة درجة)

وجه المقارنة	الطبقة الممتازة في المجتمع الفرنسي	الطبقة العامة في المجتمع الفرنسي ص ٨٥
الفئات	الطبقة الأرستقراطية الغنية ورجال الدين	تشمل عامة الشعب من الزراعة والصناع وأصحاب الحرف وصغار التجار
الخصائص	تمتعوا بجميع المزايا الاجتماعية من ارتفاع مكافئهم في المجتمع / تولي المناصب العليا في الدولة والجيش / ليس عليهم أي حقوق تجاه الدولة / التصاقها الشديد بالملك / تمثل أقلية لا تزيد على ١٪ من مجموع الشعب الفرنسي .	تمثل نحو ٩٩٪ من مجموع الشعب الفرنسي حيث عانت هذه الطبقة من جميع صنوف الظلم والاستبعاد / - فرضت عليهم جميع أنواع الضرائب / - استبعدت من جميع الوظائف العليا في الدولة وعاشت في بؤس وشقاء شديدين جعلها تتحيزت الفرصة للتخلص من هذا النظام الذي أنقل كاملها

(ج) نفذ المطلوب منك فيما بين القوسين : (خمس درجات لكل نقطة درجة)

١- مؤتمر فيلادلفيا الأول ١٧٧٤ م " الكونجرس الأول " . (القرارات) ص ٨٠

- عدم الرضوخ للقوانين الجائرة التي أصدرتها إنجلترا ضد ميناء بوسطن .

- وجهوا طلباً من الشعب الأمريكي للملك الإنجليزي بإلغاء تلك القوانين الجائرة .

- إعادة استخدام سلاح المقاطعة للبضائع الإنجليزية وتشكيل لجان في كل المدن لتنظيم عملية المقاطعة والإشراف عليها .

٢- الثورة الشيوعية في روسيا بقيادة لينين . (العوامل) (يكتفى بنقطتين) ص ١٠٦

- فساد الحكم القيصري في روسيا واستبداده . / - الهزائم الكبرى التي حلت بالجيش الروسي منذ عام ١٩٠٥ م على يد

اليابان ثم الحرب العالمية الأولى وسقوط ملايين من الجرحى والقتلى . / - سوء الحالة الاقتصادية التي تأثر بها العمال والفلاحون

وانتشار البطالة والمجاعات والأمراض . / - شخصية لينين وقدرته على اقناع الجماهير من خلال رفع شعاره المشهور " السلام للجيش / الأرض للفلاحين / الغذاء للجميع / الحكم للسوفيت " وتنظيم الحزب الشيوعي .

وزارة التربية

التوجيه الفني العام للإجتماعيات

تابع / نموذج إجابة امتحان الفترة الدراسية الثانية لمقرر تاريخ العالم الحديث و المعاصر - الصف الثاني عشر الأبي - العام الدراسي ٢٠٢١ / ٢٠٢٢ م

السؤال الرابع مقالي و يتكون من (أ - ب - ج) :

(أ) عَرِّف المفاهيم والمصطلحات التالية : (أربع درجات لكل نقطة درجة)

١- جماعة أبناء الحرية	جماعة أخذت على عاتقها تنظيم معارضة ومقاومة الضرائب الإنجليزية الجديدة. ص ٧٨
٢- عصبة الأمم	منظمة دولية أنشأت عام ١٩١٩م لتنظيم العلاقات الدولية وإحلال السلام. ص ١٠٤
٣- النازية	كلمة ألمانية مختصرة تعني الاشتراكية الوطنية وهي التسمية التي أطلقها أدولف هتلر على الحزب النازي ص ١٠٧
٤- اتفاقيات سالت	اتفاقيات لوقف التسلح واستخدام الأسلحة الفتاكة. ص ١١٥

(ب) دُل على صحة العبارات التالية : (ست درجات لكل نقطة درجة)

١- نتج عن حرب السنين السبع (١٧٥٦ - ١٧٦٣ م) آثاراً إيجابية على سكان المستعمرات الإنجليزية في أمريكا الشمالية.

- شعورهم بقوتهم الحقيقية وقدرتهم / - بروز شخصيات أمثال جورج واشنطن. (يكتفى بنقطتين) ص ٧٨

- اشتراكهم في الحرب جعلهم يعتادون التعاون فيما بينهم ويشعرون بأنهم كيان واحد.

- الانتصارات أزالت التهديد الخارجي من الفرنسيين نحو المستعمرات الأمريكية.

- فتح الباب أمام الأمريكيين للتوسع نحو الغرب دون حدود أو قيود.

٢- التوتر الدولي سهل قيام الحرب العالمية الثانية.

- احتلال موسوليني أثيوبيا عام ١٩٣٦ م. / - احتلال هتلر منطقة الراين عام ١٩٣٦ م. / - مساندة هتلر

وموسوليني نظام فرانكو في أسبانيا عام ١٩٣٨ - ١٩٣٩ م. / - ضمت ألمانيا كل من النمسا وطاليت بضم منطقة


السوديت في تشيكوسلوفاكيا. / - اعترضت بريطانيا وفرنسا على هذه الخطوة. / - عقد مؤتمر ميونخ عام ١٩٣٨م

٣- اتخذ البرلمان الإنجليزي قرارات صارمة لمعاقبة ميناء بوسطن عام ١٧٧٣م. (يكتفى بنقطتين) ص ٧٩

- إغلاق ميناء بوسطن حتى يتم دفع ثمن الشاي. / - تعيين الجنرال جيدج حاكماً عسكرياً على بوسطن.

- منع الاجتماعات إلا بإذن من السلطات العسكرية الإنجليزية.

(ج) لاحظ الصورة المقابلة ثم أجب عن الأسئلة التالية : (ثلاث درجات لكل نقطة درجة) ص ٩١



١- أكتب اسم الحدث الدالة عليه الصورة. - اعدام الملك لويس السادس عشر

٢- ما النتائج المترتبة على هذا الحدث؟

- داخليا: اندلاع الثورة المضادة من أصحاب تيار الملكية الدستورية.

- خارجياً: تشكل التحالف الدولي الأول ضد الثورة الفرنسية بانضمام كل من

إنجلترا وأسبانيا والبابوية والدويلات الإيطالية وبروسيا ضد فرنسا في فبراير سنة ١٧٩٣م.

وزارة التربية

التوجيه الفني العام للإجتماعيات



العام الدراسي: ٢٠٢٠ / ٢٠٢١ م

امتحان نهاية الفترة الدراسية الثانية

الزمن: ساعتان وربع

مقرر / تاريخ العالم الحديث والمعاصر

وزارة التربية

عدد الصفحات: (٥)

للمصف الثاني عشر / القسم الأدبي

التوجيه الفني العام للاجتماعيات

اجب على جميع الاسئلة

السؤال الأول : موضوعي يتكون من (أ - ب) :

(أ) ظلل الخيار الصحيح من بين الخيارات التي تلي كل عبارة :

١- أول مستعمرة انجليزية في أمريكا الشمالية تأسست عام ١٦٠٧ م :

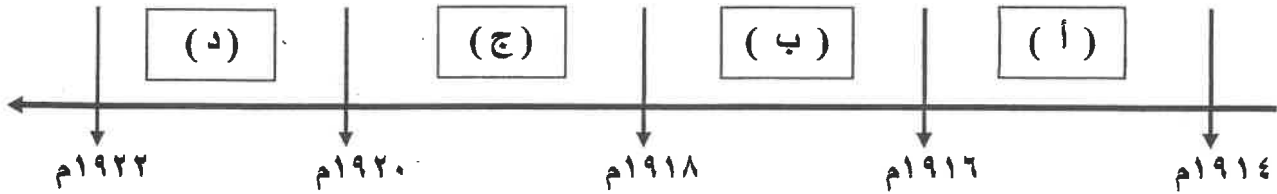
فيلادلفيا	جيمس تون	بوسطن	كونكوردي
-----------	----------	-------	----------

٢- صاحب مقولة "إننا هنا بإرادة الشعب ولن نبرح أماكننا إلا على أسنة الرماح" :

دمورييه	دانتون	جيدج	ميرابو
---------	--------	------	--------

--	--	--	--

٤- الفترة الزمنية التي دخلت بها الولايات المتحدة الأمريكية الحرب العالمية الأولى يمثلها على المخطط الزمني الحرف :



٥- الحركة التي قادها صاحب الصورة المقابلة :

الفاشية	النازية
الشيوعية	الرأسمالية



تابع السؤال الأول :

٦- المدينة التي أعتيل فيها ولي عهد النمسا الأرشيدوق "فريديناند" وزوجته :

سراييفو	روما	لندن	جنيف
---------	------	------	------



(ب) صوب ما تحته خط في العبارات التالية :

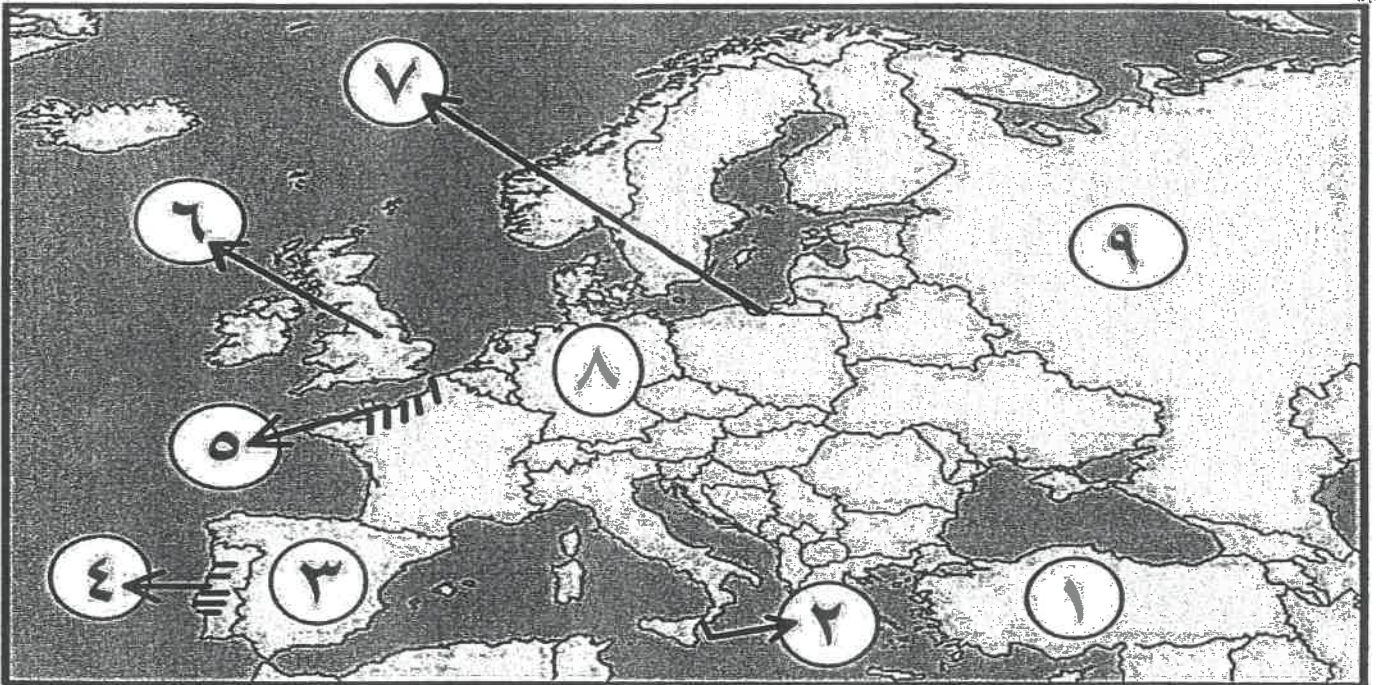
م	العبارة	التصويب
١		
٢	معاهدة أبرمت عام ١٧٨٣م اعترفت فيها بريطانيا باستقلال الولايات المتحدة الأمريكية تسمى صلح فرساي.	
٣	الملك الفرنسي الذي نفذ فيه حكم الإعدام بتاريخ ٢١ يناير ١٧٩٣م اسمه <u>لويس الرابع عشر</u>	
٤	نهر في فرنسا كان مسرحاً لمعركتين حاسمتين في الحرب العالمية الأولى اسمه <u>الراين</u> .	
٥	الأزمة الاقتصادية العالمية حدثت عام <u>١٩١٩م</u> .	
٦	أحدى ملامح عالمنا المعاصر بروز "الولايات المتحدة" كزعيمة للكتلة الغربية <u>الشيوعية</u> .	
٧	كتاب ألفه المفكر منتيسكيو (<u>العقد الاجتماعي</u>).	

السؤال الثاني : موضوعي يتكون من (أ - ب) :-

(أ) اكمل العبارات التالية بما يناسبها فيما درست :

- ١- وزير الخزانة الفرنسي الذي دعا إلى انعقاد مجلس طبقات الأمة لبحث الأزمة المالية اسمه
- ٢- زوجة الملك لويس السادس عشر ساهمت بإضعاف شخصيته اسمها
- ٣- الرئيس الأمريكي الذي طالب بإنشاء منظمة عصبة الأمم عام ١٩١٩ م اسمه
- ٤- دولة أقيمت عليها قنبلتين ذريتين عام ١٩٤٥ م في الحرب العالمية الثانية اسمها
- ٥- المعاهدة التي حققت للفرنسيين مكاسب كبيرة بعد هزيمة الجيش النمساوي في إيطاليا عام ١٧٩٧ م اسمها
- ٦- قانون أثار الأمريكيين لفرضه رسوم مالية جديدة على المستندات التجارية وعقود البيع والرهن اسمه
- ٧- المدينة التي وقعت على أرضها معركة العلمين عام ١٩٤٢ م اسمها

(ب) أمامك خريطة أوروبا الصماء - اكتب الرقم الدال على العبارات التي تليها :



- دولة ظهر فيها حزب السوفييت بقيادة لينين عام ١٩١٧ م يمثلها على الخريطة الرقم (.....
- ساحل النورماندي الذي نزلت فيه قوات الحلفاء لتحرير فرنسا يمثلها على الخريطة الرقم (.....)
- دولة تزعمها الديكتاتور " فرانكو" يمثلها على الخريطة الرقم (.....
- ممر دانريغ الذي كان السبب المباشر لقيام الحرب العالمية الثانية يمثلها على الخريطة الرقم (.....)
- الدولة العثمانية يمثلها على الخريطة الرقم (.....)
- ألمانيا يمثلها على الخريطة الرقم (.....)

السؤال الثالث (مقال) يتكون من (أ - ب - ج) :

(أ) علل لما يلي :

١- كانت القارة الأوروبية محور العلاقات الدولية في بداية القرن العشرين .

.....
.....

٢- قيام الثورة الشيوعية في روسيا .

.....
.....
.....

(ب) فرق بين كل من:

الإصلاح الإداري	إصلاح التعليم
.....
سبب إنشاء الحلف الثلاثي	سبب إنشاء حلف الوفاق الودي
.....

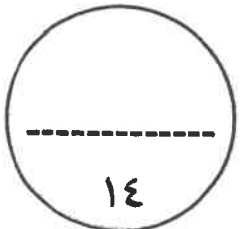
(ج) اكتب فيما يلي:

١- قرارات مؤتمر فيلادلفيا سنة ١٧٧٤م (الكونجرس الأول) .

.....
.....

٢- النتائج السياسية للحرب العالمية الثانية .

.....
.....
.....



السؤال الرابع (مقالى) يتكون من (أ - ب - ج) :

(أ) اقرأ الفقرة التالية ثم أجب عما يليها من أسئلة :

" في ١٤ يوليو سنة ١٧٨٩م هاجم الجمهور الغاضب حصن الباستيل وقتل جميع حراسه وأفرج عن السجناء وداروا بالشوارع في نشوة انتصار عاطفية كبيرة وهي في الحقيقة تعبر عن كبت طويل جداً عاشه الشعب الفرنسي تحت الحكم الملكي المستبد فعمت الفوضى في كل مكان وتوقف الفلاحون عن دفع الضرائب ثم انقضوا على قصور النبلاء وقتلوا من فيها ففر النبلاء إلى خارج فرنسا هرباً بحياتهم . "

١- عرف ما تحته خط:

- حصن الباستيل :

٢- استخرج من الفقرة السابقة النتائج المترتبة على سقوط حصن الباستيل ..

-

-

-

(ب) قارن بين كل من :

فانصى عام ١٧٩٢م	سارانتوجا عام ١٧٧٧م	وجه المقارنة
-	-	النتائج
-	-	
-	-	
-	-	

(ج) عدّد ما يلي :

-

-

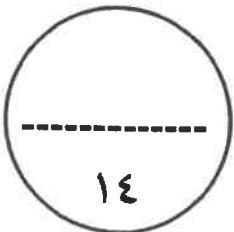
-

٢- نتائج مؤتمر صلح فرساي عام ١٩١٩م.

-

-

-



(انتهت الأسئلة مع تمنياتنا لكم بالتوفيق والنجاح) (٥)



نموذج اجابة

العام الدراسي: ٢٠٢٠ / ٢٠٢١ م

الزمن: ساعتان وربع

عدد الصفحات: (٥)

امتحان نهاية الفترة الدراسية الثانية

مقرر / تاريخ العالم الحديث والمعاصر

للمصف الثاني عشر / القسم الأدبي

أجب على جميع الاسئلة

السؤال الأول : موضوعي يتكون من (أ - ب) : (لكل سؤال درجة = ١٤ درجة)

(أ) ظلل الخيار الصحيح من بين الخيارات التي تلي كل عبارة :

١- أول مستعمرة انجليزية في أمريكا الشمالية تأسست عام ١٦٠٧ م : ص ٧٦

فيلانديا	<u>جيمس تون</u>	بوسطن	كونكوردي
----------	-----------------	-------	----------

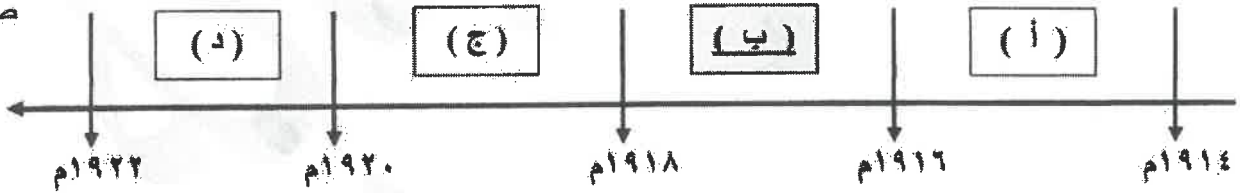
٢- صاحب مقولة "إننا هنا بإرادة الشعب ولن نبرح أمانتنا إلا على أسنة الرماح" : ص ٨٧

موربيه	دانتون	جيدج	<u>ميرابو</u>
--------	--------	------	---------------

--	--	--	--

٤- الفترة الزمنية التي دخلت بها الولايات المتحدة الأمريكية الحرب العالمية الأولى يمثلها على المخطط الزمني الحرف :

ص ١٠٢



٥- الحركة التي قادها صاحب الصورة المقابلة : ص ١٠٧

<u>الفاشية</u>	<u>النازية</u>
الشيوعية	الراسمالية



تابع السؤال الأول :

٦- المدينة التي اغتيل فيها ولي عهد النمسا الأرشيدوق "فريديناند" وزوجته : ص ١٠٠

سرايفو	روما	لندن	جنيف
--------	------	------	------



الإجابة الصحيحة هي:	لندن
السؤال الثاني:	مدينتي

(ب) صوب ما تحته خط في العبارات التالية :

م	العبارة	التصويب
١	تركزت الحياة النيابية "الإنجليزية" في مجلسين هما اللوردات وطبقات الأمة.	العموم ص ٧٥
٢	معاهدة أبرمت عام ١٧٨٣م اعترفت فيها بريطانيا باستقلال الولايات المتحدة الأمريكية تسمى صلح فرساي.	صلح باريس ص ٨٢
٣	الملك الفرنسي الذي نفذ فيه حكم الإعدام بتاريخ ٢١ يناير ١٧٩٣م اسمه لويس الرابع عشر.	لويس السادس عشر ص ٩١
٤	نهر في فرنسا كان مسرحاً لمعركتين حاسمتين في الحرب العالمية الأولى اسمه الراين.	المارن ص ١٠١
٥	الأزمة الاقتصادية العالمية حدثت عام ١٩١٩م.	١٩٢٩ ص ١٠٥
٦	أحدى ملامح عالمنا المعاصر بروز "الولايات المتحدة" كزعمة للكتلة الغربية الشيوعية.	الرأسمالية ص ١١٥
٧	كتاب ألفه المفكر منتيسكيو (العقد الاجتماعي).	روح القوانين ص ٨٥



وزارة التربية

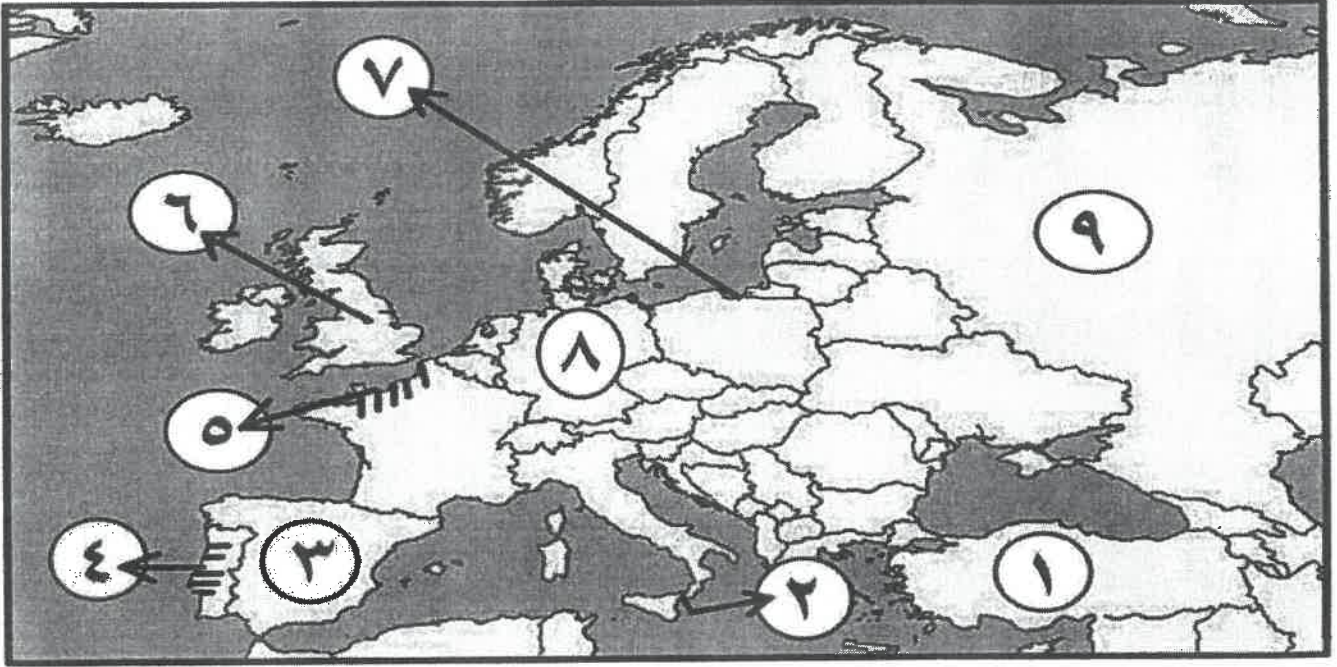
التوجيه الفني العام للإجتماعيات

السؤال الثاني : موضوعي يتكون من (أ - ب) :- (لكل سؤال درجة = ١٤ درجة)

(أ) اكمل العبارات التالية بما يناسبها فيما درست :

- ١- وزير الخزانة الفرنسي الذي دعا إلى انعقاد مجلس طبقات الأمة لبحث الأزمة المالية اسمه نيكير ص ٨٧
- ٢- زوجة الملك لويس السادس عشر ساهمت بإضعاف شخصيته اسمها ماري أنطوانيت ص ٨٤
- ٣- الرئيس الأمريكي الذي طالب بإنشاء منظمة عصبة الأمم عام ١٩١٩م اسمه ولسن ص ١٠٤
- ٤- دولة أقيمت عليها قنبلتين ذريتين عام ١٩٤٥م في الحرب العالمية الثانية اسمها اليابان ص ١١٣
- ٥- المعاهدة التي حققت للفرنسيين مكاسب كبيرة بعد هزيمة الجيش النمساوي في إيطاليا عام ١٧٩٧م اسمها كامبو فروميو ص ٩٢
- ٦- قانون أثار الأمريكيين لغرضه رسوم مالية جديدة على المستندات التجارية وعقود البيع والرهن اسمه التمغة ص ٧٨
- ٧- المدينة التي وقعت على أرضها معركة العلمين عام ١٩٤٢م اسمها الإسكندرية ص ١١١

(ب) أمامك خريطة أوروبا الصماء - اكتب الرقم الدال على العبارات التي تليها :



- دولة ظهر فيها حزب السوفيت بقيادة لينين عام ١٩١٧م يمثلها على الخريطة الرقم (٩) ص ١٠٦
- ساحل النورماندي الذي نزلت فيه الحلفاء قواتهم لتحرير فرنسا يمثلها على الخريطة الرقم (٥) ص ١١٢
- دولة تزعمها الديكتاتور " فرانكو " يمثلها على الخريطة الرقم (٣) ص ١٠٨
- ممر دانريغ الذي كان السبب المباشر لقيام الحرب العالمية الثانية يمثلها على الخريطة الرقم (٧) ص ١١٠
- الدولة العثمانية يمثلها على الخريطة الرقم (١) ص ١٠١
- ألمانيا يمثلها على الخريطة الرقم (٨) ص ٨٣

السؤال الثالث (مقالى) يتكون من (أ - ب - ج) :
(أ) علل لما يلي : (خمس درجات لكل نقطة درجة واحدة) .

١- كانت القارة الأوروبية محور العلاقات الدولية في بداية القرن العشرين . ص ٩٧ (يكتفى بنقطتين)
- مركز الثورة الصناعية . / - وفرة الموارد والإمكانات الاقتصادية .
- النفوذ الاستعماري في جميع القارات . / - نشوء الإمبراطوريات الكبرى .

٢- قيام الثورة الشيوعية في روسيا . ص ١٠٦ (يكتفى بثلاث نقاط)

- فساد الحكم القيصري في روسيا واستبداده . / - الهزائم الكبرى التي حلت بالجيش الروسي منذ ١٩٠٥م على يد اليابان ثم الحرب العالمية الأولى وسقوط ملايين من الجرحى والقتلى . / - سوء الحالة الاقتصادية التي تأثر بها العمال والفلاحون وانتشار البطالة والمجاعة والأمراض . / - شخصية لينين وقدرته على اقناع الجماهير من خلال رفع شعاره المشهور (السلام للجيش - الأرض للفلاحين - الغذاء للجميع - الحكم للسوفييت) وتنظيم الحزب الشيوعي .

(ب) فرق بين كل من : (أربع درجات لكل نقطة درجة واحدة) .

الإصلاح الإداري ص ٩٣	إصلاح التعليم ص ٩٣
اهتم نابليون بالإدارة وأصدر قانوناً سنة ١٨٠٠م الذي تبني التقسيم الإداري القديم الذي أصدرته الجمعية الوطنية إلا أنه جعل الحكام يعينون من قبل القنصل الأول " نابليون " .	وضع نابليون مشروعاً لتنظيم التعليم في كل أنحاء فرنسا والعمل على مجانية التعليم للفقراء وخاصة التعليم الثانوي وبذلك أتاح للطبقات الفقيرة إمكانية التعليم .
سبب انشاء الحلف الثلاثي ص ٩٨	سبب انشاء حلف الوفاق الودي ص ٩٨
تجديد التحالف بين ألمانيا والنمسا للوقوف ضد روسيا وقد انضمت إليهما إيطاليا رداً على احتلال فرنسا لتونس .	سعى فرنسا للتقرب بين بريطانيا وروسيا لتسوية مناطق النفوذ في آسيا (إيران ، أفغانستان ، التبت) .

(ج) أكتب فيما يلي : (خمس درجات لكل نقطة درجة واحدة) .

١- قرارات مؤتمر فيلادلفيا سنة ١٧٧٤م (الكونجرس الأول) . ص ٨٠ (يكتفى بنقطتين)
- عدم الرضوخ للقوانين الجائرة التي أصدرتها إنجلترا ضد ميناء بوسطن . / - رجوعاً طلباً من الشعب الأمريكى للملك الإنجليزي بإلغاء تلك القوانين الجائرة . / - إعادة سلاح المقاطعة التجارية للبضائع الإنجليزية وتشكيل لجان في كل المدن لتنظيم عملية المقاطعة والإشراف عليها .

٢- النتائج السياسية للحرب العالمية الثانية . ص ١١٤ (يكتفى بثلاث نقاط)

- تغيرت خريطة أوروبا السياسية وجرى تعديل على كثير من الحدود . / - تراجعت مكانة دول أوروبا (بريطانيا وفرنسا) إلى الدرجة الثانية وتقلص نفوذها الاستعماري . / - انتهت الدكتاتوريات في إيطاليا وألمانيا واليابان . / - قامت أنظمة شيوعية في دول أوروبا الشرقية وظلت قائمة بمساندة الاتحاد السوفيتي وسقطت مع سقوطه . / - انقسام ألمانيا بعد احتلالها إلى قسمين غربي يتبع النظام الرأسمالي وشرقي يتبع النظام الشيوعي وقسمت برلين إلى قسمين يفصلهما جدار عازل . / - لم تصب إيطاليا بخسائر مباشرة في أراضيها وإنما فقدت كل مستعمراتها . / - فقدت اليابان كل ممتلكاتها التي حصلت عليها منذ نهاية القرن التاسع ودمرت أراضيها . / - برز قطبان جديان في العالم هي الولايات المتحدة والإتحاد السوفيتي (السابق) باعتبارهما أقوى دولتين في العالم .



السؤال الرابع (مقالى) يتكون من (أ - ب - ج) :

(أ) اقرأ الفقرة التالية ثم أجب عما يليها من أسئلة : (أربع درجات لكل نقطة درجة واحدة) .

" في ١٤ يوليو سنة ١٧٨٩م هاجم الجمهور الغاضب حصن الباستيل وقتل جميع حراسه وأفرج عن السجناء وداروا بالشوارع في نشوة انتصار عاطفية كبيرة وهي في الحقيقة تعبر عن كبت طويل جداً عاشه الشعب الفرنسي تحت الحكم الملكي المستبد فعمت الفوضى في كل مكان وتوقف الفلاحون عن دفع الضرائب ثم انقضوا على قصور النبلاء وقتلوا من فيها ففر النبلاء إلى خارج فرنسا هرباً بحياتهم ."

١- عرف ما تحته خط : - حصن الباستيل : من الحصون الإقطاعية القديمة وتحول إلى سجن للدولة، وكان هذا الحصن قد أحيط بهالة من الأساطير المرعبة وأصبح رمزاً من رموز الظلم والطغيان والاستبداد . ص ٨٨

٢- استخرج من الفقرة السابقة النتائج المترتبة على سقوط حصن الباستيل . (يكتفى بثلاث نقاط)
 - قتل جميع حراس حصن الباستيل . - وأفرج عن السجناء . - عمّت الفوضى في كل مكان . - وتوقف الفلاحون عن دفع الضرائب . - انقض الفلاحون على قصور النبلاء وقتلوا من فيها . - ففر النبلاء إلى خارج فرنسا هرباً بحياتهم .

(ب) قارن بين كل من : (أربع درجات لكل نقطة درجة)

وجه المقارنة	ساراتوجا عام ١٧٧٧م ص ٨٢	فالمي عام ١٧٩٢م ص ٩٠
النتائج	- خسر الإنجليز جيشاً كاملاً من ستة آلاف جندي واستسلم . - سيطر الأمريكيين على حصن هدسون . - اعترف فرنسا باستقلال الثوار الأمريكيين ودخلها الحرب إلى جانبهم . - زاد تعاطف الشعوب الأوروبية مع الثورة الأمريكية . <u>(يكتفى بنقطتين)</u>	- انتصار الجيش الفرنسي . - انقذت أفكار الثورة الفرنسية من الضياع . - حالت دون وقوع باريس . - رفعت الروح المعنوية للفرنسيين . - تحول جيش الثورة بعدها من الدفاع إلى الهجوم . - أصبح جيش الثورة الفرنسية مصدر رعب للدول الأوروبية فيما بعد . <u>(يكتفى بنقطتين)</u>

(ج) عدد ما يلي : (ستة درجات لكل نقطة درجة واحدة)

(يكتفى بثلاث نقاط)

٢- نتائج مؤتمر صلح فرساي عام ١٩١٩م . ص ١٠٣ (يكتفى بثلاث نقاط)
 - تفكك امبراطوريات عريقة مثل (الألمانية / النمسا / الروسية / الدولة العثمانية) وظهرت دول قومية جديدة في أوروبا مثل (بولندا / تشيكوسلوفاكيا / يوغسلافيا / المجر) . / - أن تتحمل ألمانيا مسؤولية الحرب حيث فرض عليها دفع تعويضات مالية كبيرة للحلفاء . / - تخفيض عدد الجيش الألماني و منع ألمانيا من تصنيع أو اقتناء الأسلحة العسكرية . / - اقتطاع أجزاء من ألمانيا و ضمها لدول أخرى - وضع إقليم (الساار) تحت الإدارة الدولية .





اجب عن (اربعة) أسئلة فقط على أن يكون السؤال الأول منها (إجبارياً) :
السؤال الأول : (إجباري) يتكون من (أ ، ب ، ج ، د) :

(ا) ضع خطأ تحت الخيار الصحيح من بين الخيارات التي تلي كل عبارة :

- ١- الملك الفرنسي الذي عُرف بضعف شخصيته :
أ- لويس الثالث عشر ب- لويس الرابع عشر ج- لويس الخامس عشر د- لويس السادس عشر
- ٢- العام الذي سقط فيه حصن الباستيل بيد الثوار الفرنسيين :
أ- ١٧٦٩ م ب- ١٧٧٩ م ج- ١٧٨٩ م د- ١٧٩٩ م
- ٣- المؤتمر الذي عُقد في الاتحاد السوفيتي عام ١٩٤٥م للدول المحبة للسلام :
أ- بالما ب- فرساي ج- ميونخ د- ستالينجراد
- ٤- المعركة التي وقعت في غرب مدينة الإسكندرية عام ١٩٤٢م :
أ- النورماندي ب- العلمين ج- ريفولي د- كونكورد
- ٥- الاتفاق الذي عُقد عام ١٨٨٢م بين كل من ألمانيا والنمسا وإيطاليا :
أ- الحلف الثلاثي ب- الوفاق الودي ج- معاهدة باريس د- الاتفاق الودي

ب) أكمل العبارات التالية بما يناسبها فيما درست :

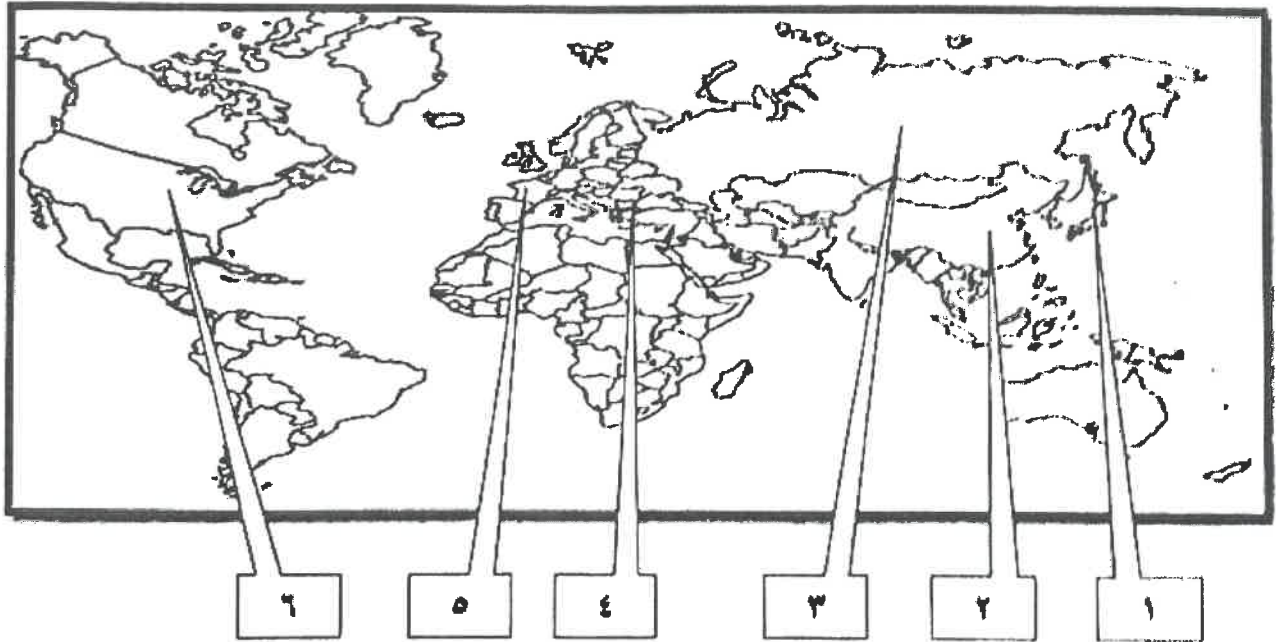
- ١- الدولة التي كان يحكمها "وليم أورنج" قبل تتويجه ملكا على إنجلترا اسمها
- ٢- الممر المائي الذي كان السبب المباشر في قيام الحرب العالمية الثانية اسمه
- ٣- الرئيس الأمريكي صاحب فكرة إنشاء عصبة الأمم اسمه
- ٤- القائد الذي أعاد لفرنسا أمجادها ولُقّب بـ "رجل فرنسا الأول" اسمه

تابع السؤال الأول (إجباري) :

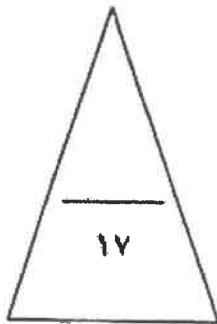
جـ) صوب ما تحته خط في العبارات التالية :

م	العبارة	التصويب
١	عدد الدول المشاركة في الحرب العالمية الأولى بلغ ٢٢ دولة .	
٢	اصطلح سياسي يطلق على مجموعة دول أوروبا الشرقية الاتحاد الأوروبي .	
٣	قائل مقولة (إننا هنا بإرادة الشعب ولن نبرح أماكننا إلا على أسنة الرماح) اسمه لاهايت .	
٤	العام الذي انتهت فيه الحرب العالمية الأولى ١٩١٤م .	

د) أمامك خريطة العالم الصماء - اكتب الرقم الدال على العبارات التالية :



- الدولة التي وقعت على أراضيها معركة لجنستون يمثلها على الخريطة الرقم () .
- الدولة التي ظهر فيها النظام الديكتاتوري بقيادة "لينين" يمثلها على الخريطة الرقم () .
- الدولة التي استسلمت بعد قصفها بقنبلتين ذريتين بالحرب العالمية الثانية يمثلها على الخريطة الرقم () .
- الدولة التي يمر فيها نهر المارن يمثلها على الخريطة الرقم () .



السؤال الثاني (اختياري) ويتكون من (أ ، ب ، ج) :

أ) دلي على صحة العبارات التالية :

١- كان رد فعل البرلمان الإنجليزي قاسياً اتجاه ميناء بوسطن عام ١٧٧٣م .

.....

.....

٢- مساهمة المفكرين بدور كبير في قيام الثورة الفرنسية .

.....

.....

٣- لم تقتصر إصلاحات الجمعية الوطنية على إصدار وثيقة الحقوق الفرنسية ودستور ١٧٩١م فقط.

.....

.....

ب) عرف المفاهيم أو المصطلحات التالية :

١- حزب اليعاقية :

٢- القوانين سبنة السمعة :

٣- الاتفاقات الدولية :

٤- السوقيت :

.....

ج) اقرأ الفقرة التالية ثم أجب عما يليها من أسئلة :

" انقسم العالم سياسياً في أواخر القرن التاسع عشر وبداية القرن العشرين الميلادي بسبب عدة عوامل أهمها بروز النزعة القومية وتصادم الأيديولوجيات وتضارب المصالح الاقتصادية وسياسة التوسع للسيطرة على مناطق مختلفة من العالم وما صاحبه من السباق إلى التسلح "

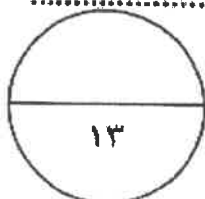
١- عرف ما تحته خط .

.....

٢- اكتب العوامل التي أدت إلى انقسام العالم سياسياً في أواخر القرن التاسع عشر وبداية القرن العشرين .

.....

.....



السؤال الثالث (اختياري) ويتكون من (أ ، ب ، ج) :

(أ) عطل لما يلي :

١- تعتبر العوامل السياسية من أهم عوامل قيام الثورة الفرنسية .

..... -

..... -

٢- قيام الثورة الشيوعية في روسيا .

..... -

..... -

٣- انعقاد مجلس طبقات الأمة في الخامس من مايو عام ١٧٨٩م في فرنسا .

..... -

٤- تأخر دخول الولايات المتحدة الأمريكية الحرب العالمية الأولى حتى عام ١٩١٧م .

..... -

(ب) قارن بين كل من :

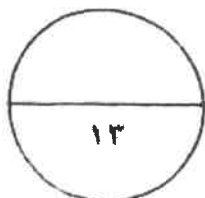
الطبقة العامة (في المجتمع الفرنسي قبيل الثورة)	الطبقة الممتازة (في المجتمع الفرنسي قبيل الثورة)	أوجه المقارنة
..... - - - -	الفئات
..... - - - -	المزايا

(ج) اكتب الوكالات الخاصة ذات الصلة بالأمم المتحدة (مع الشرح) :

..... -

..... -

..... -



السؤال الرابع (اختياري) ويتكون من (أ ، ب ، ج) :

أ) فند العبارات التالية :

١- ساعد سقوط حصن الباستيل على استقرار الأوضاع العامة في فرنسا .

.....
.....

٢- اقتصررت الحرب العالمية الثانية على المواجهة العسكرية فقط .

.....
.....

ب) نفذ المطلوب منك ما بين القوسين :

١- النظام النازي . (المبادئ)

.....
.....

٢- انهيار سوق الأوراق المالية " وول ستريت " عام ١٩٢٩ م . (النتائج)

.....
.....

٣- تعد معركة " فالمي " من أهم معارك التاريخ الفرنسي . (النتائج)

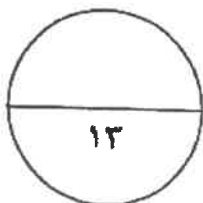
.....
.....

ج) من خلال دراستك لموضوع (بداية تكوين المستعمرات الإنجليزية) كون فقرة مناسبة باستخدام

الكلمات التالية :

(حركة الكشوف الجغرافية - أمريكا الشمالية - جيمس تون)

.....
.....
.....



السؤال الخامس (اختياري) ويتكون من (أ - ب - ج) :
(أ) فسر كل مما يلي :

١- إصدار إعلان بلننز عام ١٧٩١ م .

.....

٢- احتفال الفرنسيين بيوم ١٤ يوليو من كل عام .

.....

٣- تحالف الإتحاد الألماني مع النمسا وروسيا فيما يعرف بعصبة الأباطرة .

.....

٤- تسمية عام ١٩٤٢ م بالسنة الانقلابية .

.....

(ب) فرق بين كل مما يلي :

مهام المحاكم النيابية في المستعمرات الإنجليزية	مهام الحاكم في المستعمرات الإنجليزية
.....
.....
محكمة العدل الدولية	مجلس الوصايا في الأمم المتحدة
.....
.....

(ج) اكتب النتائج المترتبة على الأحداث التالية :

١- الثورة الإنجليزية عام ١٦٨٩ م .

.....

.....

٢- الحرب العالمية الثانية (سياسياً) .

.....

.....

.....

(انتهت الأسئلة)





أجب عن (أربعة) أسئلة فقط على أن يكون السؤال الأول منها (إجبارياً) :
السؤال الأول : (إجباري) يتكون من (أ ، ب ، ج ، د) :

(أ) ضع خطأ تحت الخيار الصحيح من بين الخيارات التي تلي كل عبارة :
(٥ درجات كل نقطة درجة)

- ١- الملك الفرنسي الذي عُزف بضعف شخصيته : ص ٨٤
أ- لويس الثالث عشر ب- لويس الرابع عشر ج- لويس الخامس عشر د- لويس السادس عشر
- ٢- العام الذي سقط فيه حصن الباستيل بيد الثوار الفرنسيين : ص ٨٨
أ- ١٧٦٩ م ب- ١٧٧٩ م ج- ١٧٨٩ م د- ١٧٩٩ م
- ٣- المؤتمر الذي عُقد في الاتحاد السوفيتي عام ١٩٤٥ م للدول المحبة للسلام : ص ١١٦
أ- يالطا ب- فرساي ج- ميونخ د- ستالينجراد
- ٤- المعركة التي وقعت في غرب مدينة الإسكندرية عام ١٩٤٢ م : ص ١١١
أ- النورماندي ب- العلمين ج- ريفولي د- كونكورد
- ٥- الاتفاق الذي عُقد عام ١٨٨٢ م بين كل من ألمانيا والنمسا وإيطاليا : ص ٩٨
أ- الحلف الثلاثي ب- الوفاق الودي ج- معاهدة باريس د- الاتفاق الودي

(ب) أكمل العبارات التالية بما يناسبها فيما درست :
(٤ درجات كل نقطة درجة)

- ١- الدولة التي كان يحكمها "وليم أورانج" قبل تتويجه ملكا على إنجلترا اسمها هولندا . ص ٧٤
- ٢- الممر المائي الذي كان السبب المباشر في قيام الحرب العالمية الثانية اسمه دانزيغ أو دائزج . ص ١١٠
- ٣- الرئيس الأمريكي صاحب فكرة إنشاء عصبة الأمم اسمه ولسن . ص ١٠٤
- ٤- القائد الذي أعاد لفرنسا أمجادها ولقب بـ "رجل فرنسا الأول" اسمه نابليون بونابرت . ص ٩٣



تابع السؤال الأول (إجباري) :

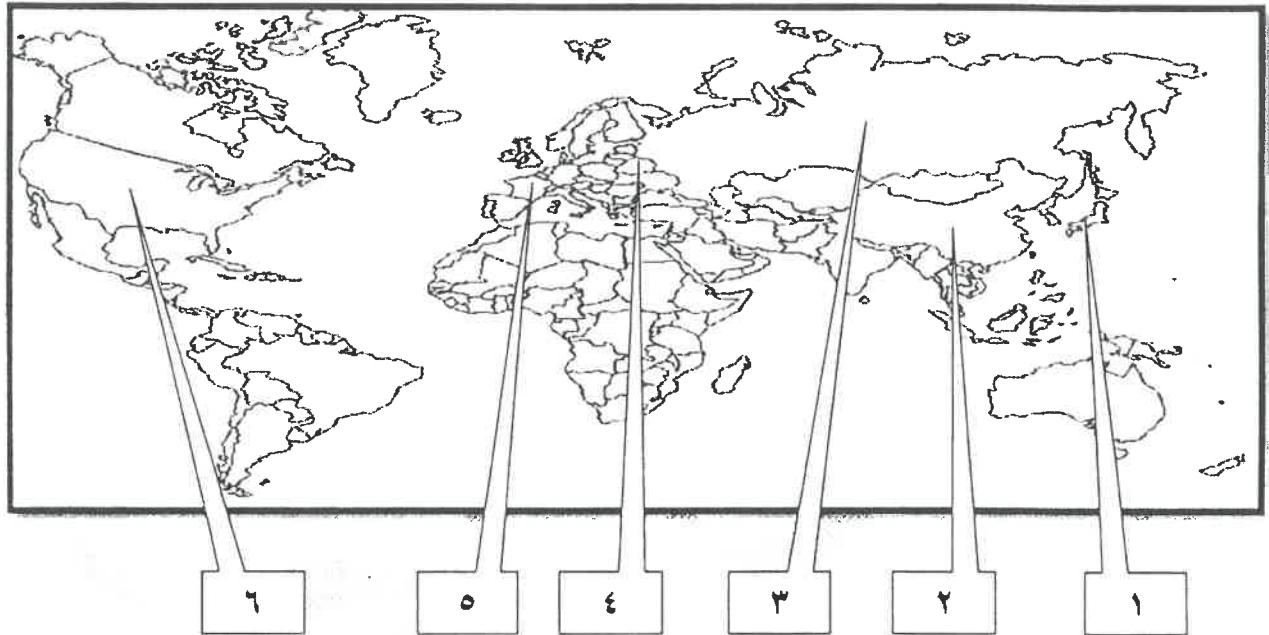
(٤ درجات كل نقطة درجة)

(ج) صوب ما تحته خط في العبارات التالية :

م	العبارة	التصويب
١	عدد الدول المشاركة في الحرب العالمية الأولى بلغ ٢٢ دولة . ص ١٠٠	٣٣ دولة
٢	اصطلاح سياسي يطلق على مجموعة دول أوروبا الشرقية الاتحاد الأوروبي . ص ١٠٠	البلقان
٣	قائل مقولة (إننا هنا بإرادة الشعب ولن نبرح أماكننا إلا على أسنة الرماح) اسمه <u>لافاييت</u> . ص ٨٧	ميرابو
٤	العام الذي انتهت فيه الحرب العالمية الأولى ١٩١٤ م . ص ٩٧	١٩١٨ م

(٤ درجات كل نقطة درجة)

(د) أمامك خريطة العالم الصماء - اكتب الرقم الدال على العبارات التالية :




- الدولة التي وقعت على أراضيها معركة لکنجستون يمثلها على الخريطة الرقم (٦) . ص ٨٠

- الدولة التي ظهر فيها النظام الديكتاتوري بقيادة "لينين" يمثلها على الخريطة الرقم (٣) . ص ١٠٦ - ص ١٠٣

- الدولة التي استسلمت بعد قصفها بقنبلتين ذريتين بالحرب العالمية الثانية يمثلها على الخريطة الرقم (١) . ص ١١٢ - ص ١١١

- الدولة التي يمر فيها نهر المارن يمثلها على الخريطة الرقم (٥) . ص ١٠١



السؤال الثاني (اختياري) ويتكون من (أ ، ب ، ج) :

(أ) دلال على صحة العبارات التالية :

(٦ درجات كل نقطة درجة)

(يكتفى بنقطتين)

١- كان رد فعل البرلمان الإنجليزي قاسياً اتجاه ميناء بوسطن عام ١٧٧٣ م . ص ٧٩

- إغلاق ميناء بوسطن حتى يتم دفع ثمن الشاي . - تعيين الجنرال جيدج حاكماً عسكرياً على بوسطن .

- منع الاجتماعات إلا بإذن من السلطات العسكرية الإنجليزية . (القوانين الجائرة)

(يكتفى بنقطتين)

٢- مساهمة المفكرين بدور كبير في قيام الثورة الفرنسية . ص ٨٥

- فولتير (١٦٩٤ م / ١٧٧٨ م) : كاتب ساخر عرف عنه نقده اللاذع وسخريته الشديدة من الأوضاع البالية في فرنسا لا يخشى السجن أو النفي وأهم مؤلفاته (عهد لويس الرابع عشر) دعا فيه إلى المساواة وتناول كل طغاة فرنسا بنقده اللاذع للحكم المطلق المستبد وخرافات رجال الدين وانتقد بشدة القوانين الفرنسية الجائرة ونظام الضرائب والامتيازات ولعل مؤلفاته كانت أكثر انتشاراً بين طبقات الشعب الفرنسي بسبب موهبته الفذة في توجيه النقد اللاذع .

- منتيسكيو (١٦٨٩ م / ١٧٧٥ م) : صاحب كتاب (روح القوانين) الصادر في ١٧٤٨ م وكان معجباً بالنظام الإنجليزي المقيد لسلطات الملك وكان يعتقد أن النظام الملكي البرلماني الإنجليزي هو النظام الملائم لفرنسا حيث يقوم على أساس الدستور وعلى أساس البرلمان المنتخب والملك المقيد السلطات .

- روسو (١٧١٢ م / ١٧٧٨ م) : أهم مؤلفاته (العقد الاجتماعي) الذي طالب أن يكون الحكم للشعب واتفق في كثير من الأحيان مع مبادئ المفكر الإنجليزي (جون لوك) من حيث إن الشعب هو الذي يفوض السلطة للحاكم بشروط معينة وأن الشعب له الحق في سحب ذلك التفويض إذا ما أخل الملك بوظائفه أو بالشروط المتعاقد عليها بين الشعب والحاكم وأنكر روسو أن يكون هناك حاكم يستمد سلطته من مصدر غير الأمة ويرى أن كل حاكم لا يستند إلى الشعب في حكمه يعتبر حاكماً غير شرعي وأكد على المساواة المطلقة بين أفراد الشعب ولعل قيمة روسو العليا أنه رفع من شأن الفرد وجعل المساواة أساس المجتمع .

٣- لم تقتصر إصلاحات الجمعية الوطنية على إصدار وثيقة الحقوق الفرنسية ودستور ١٧٩١ م فقط . ص ٨٩ (يكتفى بنقطتين)

- كان لها دور كبير في إصلاح النظام الإداري حيث قسمت فرنسا إلى محافظات جغرافية وليس على أساس طبقي .

- ألغت النظام القضائي القديم وأصبح منصب القاضي انتخابياً .

- قامت الجمعية بإصلاح النظام الضريبي والمالي حيث وزعت الضرائب على أساس التساوي بين جميع الأفراد وطبقاً لدخل كل فرد .

- وجهت إصلاحاتها نحو الكنيسة الفرنسية وصدر قرار بمصادرة أملاكها رغبة في الاستحواذ على ممتلكاتها الواسعة وللمساهمة في حل الأزمة المالية .

(ب) عرف المفاهيم أو المصطلحات التالية :


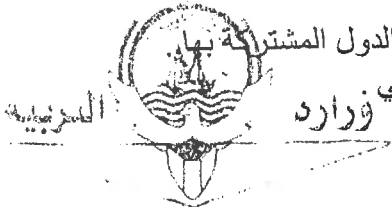
(٤ درجات كل نقطة درجة)

١- حزب اليعاقبة : (ص ٩١) حزب من المتطرفين المعروفين بعدانهم الشديد للملكية وهم يمتازون بأنهم أقلية شديدة التنظيم ذات اتصال قوي بالشعب وبجمهور باريس الذي كانت له اليد الطولى في إثارة الشارع في فرنسا .

٢- القوانين سينة السمعة : (ص ٧٨) هي ضرائب باهظة جديدة فرضت على المستعمرات والتي كانت إنجلترا تبررها بالمصروفات اللازمة للجيش البريطاني لحماية المستعمرات ولعلها كانت بمثابة الشرارة التي انطلقت منها الثورة الأمريكية .

٣- الاتفاقات الدولية : (ص ٩٧) تشريعات يتفق عليها دولياً وهي (مقننة) تلتزم الدول المشتركة بها .

٤- السوفيت (ص ١٠٢) : المجالس الشيوعية المحلية التي أسسها الحزب الشيوعي .



(٣ درجات كل نقطة درجة)

ج) اقرأ الفقرة التالية ثم أجب عما يليها من أسئلة : ص ٩٧

" انقسم العالم سياسياً في أواخر القرن التاسع عشر وبداية القرن العشرين الميلادي بسبب عدة عوامل أهمها بروز النزعة القومية وتصادم الأيديولوجيات وتضارب المصالح الاقتصادية وسياسة التوسع للسيطرة على مناطق مختلفة من العالم وما صاحبه من السباق إلى التسلح "

١- عرف ما تحته خط .

- نسق من الآراء والأفكار السياسية والقانونية والدينية والفلسفية .

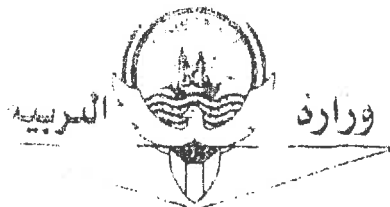

٢- اكتب العوامل التي أدت إلى انقسام العالم سياسياً في أواخر القرن التاسع عشر وبداية القرن العشرين . (يكتفى بنقطتين)

- بروز النزعة القومية وتصادم الأيديولوجيات .

- السباق إلى التسلح .

- تضارب المصالح الاقتصادية .

- سياسة التوسع للسيطرة على مناطق مختلفة من العالم .



السؤال الثالث (اختياري) ويتكون من (أ ، ب ، ج) :

(أ) علل لما يلي :

(٦ درجات كل نقطة درجة)

١- تعتبر العوامل السياسية من أهم عوامل قيام الثورة الفرنسية . ص ٨٤

(يكتفى بنقطتين)

- كان ملوك فرنسا يحكمون وفق نظرية الحق الإلهي المقدس فكان الملك الفرنسي هو الذي يصدر القوانين ويعلم الحرب ويفرض الضرائب وسلطته أكبر من القضاء حيث كان يعتبر قاضي المملكة الأكبر يستطيع أن يعفو عن مجرم عاقبته المحكمة بالسجن أو يلقي بمن يشاء في السجن المتواصل دون محاكمة ويعين الوزراء ويعزلهم دون مساءلة .
- لم تعرف فرنسا أي نوع من أنواع المشاركة الشعبية في الحكم ولكن كان هناك مؤسسات برلمانية صورية هشة لم تستطع أن تحد من سلطات الملك أو تراقب أعماله فقد كانت مشاركة الشعب ممثلة في (محكمة باريس) و (مجلس طبقات الأمة) فقط وكانت قراراتها غير ملزمة للملك .

- توالى الهزائم العسكرية على الجيش الفرنسي منذ أواخر عهد لويس الرابع عشر و حرب السنوات السبع (١٧٥٦م / ١٧٦٣م) الأمر الذي أدى إلى تطلع الشعب الفرنسي إلى ملك قوي يعيد مكانة فرنسا بين ملكيات أوروبا ويعيد كذلك هيبتها بين أفراد الشعب ولم يكن لويس السادس عشر يتمتع بهذه القدرات

- هناك شبه إجماع بين المؤرخين على ضعف شخصية لويس السادس عشر (١٧٧٣م / ١٧٩١م) ولعبت زوجته (ماري أنطوانيت) دورا كبيرا في إضعاف مكانته الشعبية وتوجيه سياسة البلاد من خلال اشتراكها في المؤامرات التي تعين وتعزل الوزراء كذلك عدم إحساسها بما يعانيه الشعب الفرنسي من آثار المجاعة الأمر الذي خلق شعورا عاما بالاستياء لدى الشعب ويرى في (ماري أنطوانيت) عدوة الشعب الفرنسي لمجرد أنها نمساوية الأصل ولقد كانت الكراهية الشعبية للنمسا شديدة على اعتبار أنها المسؤولة عن معظم الكوارث العسكرية التي حلت بفرنسا خلال القرن الثامن عشر .

(يكتفى بنقطتين)

٢- قيام الثورة الشيوعية في روسيا . ص ١٠٦

- فساد الحكم القيصري في روسيا واستبداده .
- الهزائم الكبرى التي حلت بالجيش الروسي منذ عام ١٩٠٥م على يد اليابان ثم الحرب العالمية الأولى وسقوط ملايين من الجرحى والقتلى .

- سوء الحالة الاقتصادية التي تأثر بها العمال والفلاحون وانتشار البطالة والمجاعات والأمراض .
- شخصية لينين وقدرته على إقناع الجماهير من خلال رفع شعاره المشهور (السلام للجيش - الأرض للفلاحين - الغذاء للجميع - الحكم للسوفيت) وتنظيم الحزب الشيوعي .

٣- انعقاد مجلس طبقات الأمة في الخامس من مايو عام ١٧٨٩م في فرنسا . ص ٨٧

- لبحث الخروج من الأزمة المالية الكبيرة التي كانت تمر بها البلاد عن طريق فرض ضرائب جديدة لتغطية نفقات الدولة

٤- تأخر دخول الولايات المتحدة الأمريكية الحرب العالمية الأولى حتى عام ١٩١٧م . ص ١٠٠

- بسبب مهاجمة الغواصات الألمانية السفن التجارية الأمريكية .

(ب) قارن بين كل من : ص ٨٥

(٤ درجات كل نقطة درجة)

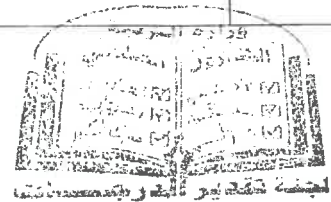
أوجه المقارنة	الطبقة الممتازة (في المجتمع الفرنسي قبيل الثورة)	الطبقة العامة (في المجتمع الفرنسي قبيل الثورة)
الفئات	الأرستقراطية الغنية - رجال الدين	عامة الشعب من الزراعة والصناع وأصحاب الحرف وصغار التجار
المزايا	- تمتعوا بجميع المزايا الاجتماعية في المجتمع وتولي المناصب العليا في الدولة والجيش - ليس عليهم أي حقوق تجاه الدولة . - التصاقها بالملك . - تمثل أقلية لا تزيد عن ١% من مجموع الشعب الفرنسي .	- عانت من صنوف الظلم والاستبعاد - فرضت عليهم جميع أنواع الضرائب - استبعدت من جميع الوظائف العليا في الدولة - تمثل نحو ٩٩% من الشعب الفرنسي .

(يكتفى بنقطة)

(يكتفى بنقطة)




وزارة



ج) اذكر الوكالات الخاصة ذات الصلة بالأمم المتحدة (مع الشرح) : ص ١١٨ (٣ درجات كل نقطة درجة)

- الوكالات الخاصة ذات الصلة بالأمم المتحدة .
- البنك الدولي للتنمية والتعمير (IBRD) : يعرف رسميا بالبنك الدولي للإنشاء والتعمير ويمنح قروضه لمساعدة مختلف الأقطار في تنفيذ مشاريعها كالسدود ومحطات الطاقة الكهربائية والسكك الحديدية .
- منظمة التربية والعلوم والثقافة اليونسكو (UNESCO) : هي (منظمة الأمم المتحدة للتربية والعلوم والثقافة) ، تقوم بتعزيز التعاون الدولي في مجالات التربية والعلوم والثقافة لتطويرها وتحقيق قدر أكبر من التفاهم بين الأمم .
- منظمة الصحة الدولية (WHO) : هي الوكالة الرئيسية في العالم لمواجهة المشاكل الصحية .
- منظمة التغذية والزراعة الفاو (FAO) منظمة الأمم المتحدة للأغذية والزراعة تساعد على تحسين إنتاج المزارع والغابات ومناطق صيد الأسماك .
- منظمة العمل الدولية (ILO) : منظمة العمل الدولية تساعد في تحسين ظروف العمل والمعيشة في أنحاء العالم .

(يكتفى بثلاث نقاط فقط)



السؤال الرابع (اختياري) ويتكون من (أ ، ب ، ج) :

(أ) فند العبارات التالية :

(٤ درجات كل نقطة درجة)

(يكتفى بنقطتين)

١- ساعد سقوط حصن الباستيل على استقرار الأوضاع العامة في فرنسا . ص ٨٨

- هجرة النبلاء إلي خارج فرنسا هربا بحياتهم وسرعان ما أصبح هؤلاء المهاجرون أكبر خطر على الثورة الفرنسية .
- توقف الفلاحون عن دفع الضرائب .
- عمت الفوضى في كل مكان .

- انقض الفلاحون على قصور النبلاء وأحرقوها وقتلوا من فيها وأحرقوا الوثائق التي تعطيهم حقوقا إقطاعية .

(يكتفى بنقطتين)

٢- اقتصررت الحرب العالمية الثانية على المواجهة العسكرية فقط . ص ١١٣

- حرب عالمية شاملة : شملت معظم دول العالم بالاشتراك المباشر أو بالتحالف مع الدول .
- تسخير الطاقات البشرية : حيث سخرت دول المحور أسرى الحروب للعمل المصانع والحقول ودفع الحلفاء بالإناث للعمل في هذا المجال بدل الرجال وفتحت الولايات المتحدة باب الهجرة للعمل .
- مواجهة بين أيديولوجيات وصراع بين نظريات دكتاتورية عنصرية تبنتها دول المحور بينما تبني الحلفاء الديمقراطية التي تنادي بالمساواة وحقوق الإنسان .
- تنافس صناعي : سخرت جميع الدول المشتركة في الحرب مقدراتها ومقدرات الشعوب التي احتلتها بهدف تطوير الإنتاج الصناعي الحربي وتطوير الاقتصاد .
- سباق تسليح تكنولوجي : تطور أساليب القتال والأسلحة فاستخدمت التكنولوجيا في الأرض والجو والبحر فكان الدمار أكبر وشمل جميع المجالات .

(٦ درجات كل نقطة درجة)

(ب) نفذ المطلوب منك ما بين القوسين :

(يكتفى بنقطتين)

(المبادئ)

١- النظام النازي . ص ١٠٧

- تفوق العنصر البشري الجرمانى (الألماني) على جميع العناصر البشرية .
- قيام ألمانيا الكبرى التي تضم كل الألمان .
- امتلاك الدولة للشركات الاحتكارية .
- إلغاء معاهدة فرساي .
- استعادة المستعمرات الألمانية .

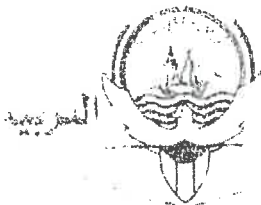
(يكتفى بنقطتين)

(النتائج)


٢- انهيار سوق الأوراق المالية " وول ستريت " عام ١٩٢٩ م . ص ١٠٥

- إفلاس كثير من البنوك والمؤسسات .
- انخفاض الأسعار في الولايات المتحدة .
- مطالبة البنوك والمؤسسات بديونها من أوروبا .
- توقف التطور الاقتصادي الأوروبي الذي اعتمد على الاستقرار المالي للولايات المتحدة .
- أغلقت المصانع .
- انتشرت البطالة .
- تراجم التجارة الخارجية والإنتاج العالمي .

- انتشرت آثار هذه الأزمة في كافة أنحاء العالم .



وزارة التربية والتعليم




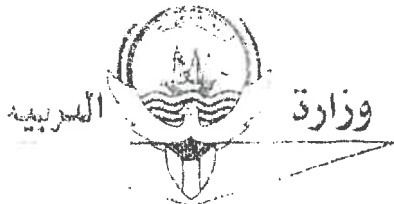
- ٣- تعد معركة " فالمي " من أهم معارك التاريخ الفرنسي . ص ٩٠ (النتائج) (يكتفى بنقطتين)
- أنقذت أفكار الثورة الفرنسية من الضياع .
 - حالت دون وقوع باريس .
 - رفعت الروح المعنوية للفرنسيين .
 - تحول جيش الثورة بعدها من الدفاع إلى الهجوم .
 - أصبح مصدر رعب للدول الأوروبية فيما بعد .

ج) من خلال دراستك لموضوع (بداية تكوين المستعمرات الإنجليزية) كون فقرة مناسبة باستخدام الكلمات التالية : ص ٧٦ (٣ درجات)

(حركة الكشوف الجغرافية - أمريكا الشمالية - جيمس تون)

عقب قيام حركة الكشوف الجغرافية وقيام الحركة الاستعمارية أسس الأوروبيون من الإنجليز والأسبان والفرنسيين والهولنديين مستعمرات أوروبية في أمريكا الشمالية إلا أن أكبرها وأقواها على الإطلاق كان المستعمرات الإنجليزية وقد امتدت هذه الولايات في الجزء الشمالي الشرقي إلى الجنوب الشرقي بمحاذاة المحيط الأطلسي في نحو ثلاث عشر ولاية أولها مستعمرة جيمس تون .

(ما يراه المصحح مناسباً)



السؤال الخامس (اختياري) ويتكون من (أ - ب - ج) :
(أ) فسر كل مما يلي :

(٤ درجات كل نقطة درجة)

١- إصدار إعلان بلنتز عام ١٧٩١م . ص ٩٠
- قدم الإمبراطور النمساوي " ليوبولد " مقترحات إلى البلاطات الملكية الأوروبية تحت على القيام بعمل مشترك إزاء الموقف الداخلي في فرنسا و aide الإمبراطور " فريدريك وليام الرابع " ملك بروسيا الأمر الذي أدى في النهاية إلى إصدار الإعلان .

(يكتفى بنقطة)

٢- احتفال الفرنسيين بيوم ١٤ يوليو من كل عام . ص ٨٨
- ذكرى سقوط حصن الباستيل .

- حيث هاجم الجمهور الغاضب الحصن وقتل جميع الحراس وأفرج عن السجناء وأخذهم الجمهور الغاضب ودار بهم الشوارع في نشوة انتصار عاطفية كبيرة وهي في الحقيقة تعبر عن كبت طويل جدا عاشه الشعب الفرنسي تحت الحكم الملكي المطلق المستبد .

٣- تحالف الإتحاد الألماني مع النمسا وروسيا فيما يعرف بعصبة الأباطرة . ص ٩٧
- عمد بسمارك إلى عزل فرنسا .



٤- تسمية عام ١٩٤٢م بالسنة الانقلابية . ص ١١١

- نمو قوة الحلفاء وضمود القوات الروسية (الجيش الأحمر) التي ألحقت هزيمة بالقوات الألمانية في (ستالينجراد) في هجوم مفاجئ عام ١٩٤٢م .
- تمكن البريطانيون من إلحاق هزيمة بالقوات الألمانية - الإيطالية بقيادة " رومل " في معركة العلمين غرب مدينة الإسكندرية عام ١٩٤٢م . **(يكتفى بنقطة)**

(٤ درجات كل نقطة درجة)

(ب) فرق بين كل مما يلي :

مهام الحاكم في المستعمرات الإنجليزية ص ٧٧	مهام المجلس النيابي في المستعمرات الإنجليزية ص ٧٧
- هو المسؤول الأول عن رعاية شؤون الولاية - المحافظة على الأمن .	- يقوم بسن القوانين والضرائب - مراقبة الموظفين في الولاية .
(يكتفى بنقطة)	(يكتفى بنقطة)
مجلس الوصايا في الأمم المتحدة ص ١١٧	محكمة العدل الدولية ص ١١٧
- يتألف من أعضاء الدول الخمس الكبرى ودول أخرى منتخبة كلف بإدارة الأراضي التي وضعتها عصبة الأمم تحت الانتداب ريثما تتأهل الدول القائمة عليها للاستقلال .	- مركزها لاهاي (هولندا) ومهمتها حل النزاعات على الحدود بين الدول الأعضاء والنزاعات الناجمة عن مخالفة القوانين الدولية .



(٥ درجات كل نقطة درجة)

(ج) اكتب النتائج المترتبة على الأحداث التالية :


١- الثورة الإنجليزية عام ١٦٨٩ م . ص ٧٥ + ٧٦

- (يكتفى بنقطتين)
- انتشرت فكرة المجالس النيابية لإصدار القوانين وفرض الضرائب وتقرير سياسة الدولة بعد ما كان ذلك من حق الملك فقط في ظل الحق الإلهي المقدس الذي كان يمنح للملوك .
 - تم الأخذ بمبدأ تركيز الحياة النيابية في مجلسين (مجلس اللوردات) ويمثل الأرسقراطية الانجليزية و(مجلس العموم) الذي يمثل الديمقراطية في أجل صورها ومن ثم أخذت عنها الشعوب الاخرى لذلك نجد نظام المجلسين قد طبق في أغلب دول العالم حتى الآن .
 - أخذت معظم دول العالم عن إنجلترا نظامها الانتخابي حيث التمثيل النيابي على حساب الدوائر الانتخابية وليس على أساس طبقي حيث أصبح عضو البرلمان يمثل دائرة انتخابية على حسب التقسيم الجغرافي الذي تراه الدولة فالعضو لا يمثل طبقة اجتماعية أو اقتصادية ولكنه يمثل جميع سكان دائرته .
 - كان للثورة الإنجليزية أثر بالغ في إدراك الفرد حقوقه السياسية .
 - كان للثورة الإنجليزية الفضل الأكبر في تطور النظريات السياسية ولعل أشهرها نظرية جون لوك المعروفة ب (السيادة الشعبية) .


(يكتفى بثلاث نقاط)

٢- الحرب العالمية الثانية سياسياً ص ١١٤

- تغيرت خريطة أوروبا السياسية وجرى تعديل على الكثير من الحدود .
- تراجعت مكانة دول أوروبا (بريطانيا وفرنسا) إلى الدرجة الثانية وتقلص نفوذها الاستعماري .
- انتهت الديكتاتوريات في إيطاليا وألمانيا واليابان .
- قامت أنظمة شيوعية في دول أوروبا الشرقية وظلت قائمة بمساندة الاتحاد السوفيتي وسقطت مع سقوطه .
- انقسام ألمانيا بعد احتلالها إلى قسمين غربي يتبع النظام الرأسمالي وشرقي يتبع النظام الشيوعي وقسمت برلين إلى قسمين يفصلهما جدار عازل .
- لم تصب إيطاليا بخسائر مباشرة في أراضيها وإنما فقدت كل مستعمراتها .
- فقدت اليابان كل ممتلكاتها التي حصلت عليها منذ نهاية القرن التاسع ودمرت أراضيها .
- برز قطبان جديان في العالم هي الولايات المتحدة الأمريكية والاتحاد السوفيتي (السابق) باعتبارهما أقوى دولتين في العالم .



لبنان جمهورية العلم والحرية





وزارة التربية

التوجيه الفني العام للاجتماعيات

امتحان الدور الثاني (الفترة الدراسية الثانية)
لمقرر تاريخ العالم الحديث والمعاصر
للسف الثاني عشر - القسم الأدبي

العام الدراسي : ٢٠١٨ - ٢٠١٩ م
الزمن : ساعتان وربع
عدد الأوراق : ٦

أجب عن (أربعة) أسئلة فقط على أن يكون السؤال الأول منها (إجبارياً):

السؤال الأول : (إجباري) ويتكون من (أ ، ب ، ج ، د) :

أ) ضع خطأً تحت الخيار الصحيح من بين الخيارات التي تلي كل عبارة :

١- قائل هذه العبارة " إننا هنا بإرادة الشعب ولن نبرح أماكننا إلا على أسنة الرماح " :

أ- نيكر ب- لافاييت ج- نابليون د- ميرابو

٢- المستعمرة الإنجليزية التي تأسست عام ١٦٠٧ م في أمريكا الشمالية :

أ- بوسطن ب- جيمس تون ج- واشنطن د- نيويورك

٣- الدولة التي وقعت على أراضيها معركة "الكنجستون" :

أ- إنجلترا ب- الاتحاد السوفيتي ج- الولايات المتحدة الأمريكية د- النمسا

٤- الملك الذي لجأ إلى فرنسا عام ١٦٨٩ م هرباً من رجال البرلمان الإنجليزي :

أ- جيمس الأول ب- جيمس الثاني ج- جيمس الثالث د- جيمس الرابع

٥- العام الذي عقد فيه صلح باريس وبموجبه اعترفت بريطانيا باستقلال الولايات المتحدة الأمريكية :

أ- ١٧٨٣ م ب- ١٧٨٤ م ج- ١٧٨٥ م د- ١٧٨٦ م

ب) أكمل العبارات التالية بما يناسبها فيما درست :

١- الإمبراطورية الإسلامية التي تفككت بعد الحرب العالمية الأولى اسمها

٢- المدينة التي يوجد بها مقر محكمة العدل الدولية اسمها

٣- المدينة التي أعتقل فيها الملك " لويس السادس عشر " بعد محاولة هروبه الفاشلة اسمها

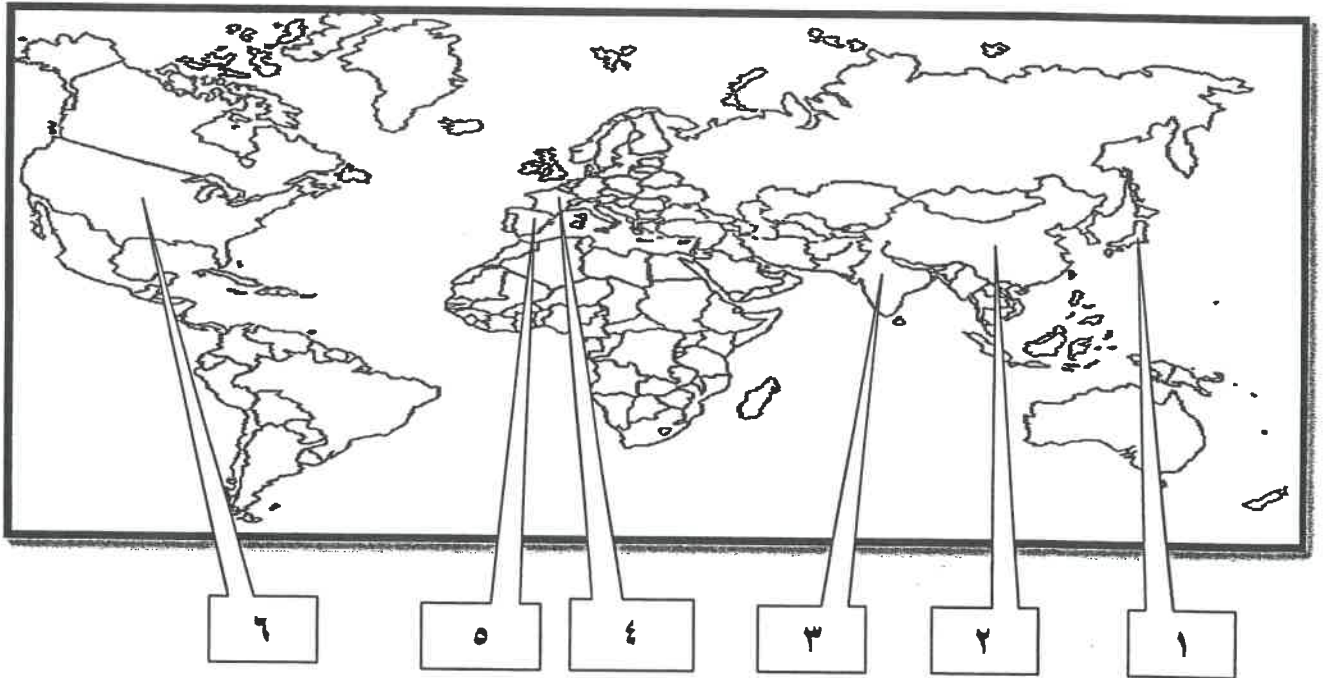
٤- الدولة التي هاجمت السفن التجارية الأمريكية وكانت السبب في دخول الولايات المتحدة الحرب العالمية الأولى اسمها

تابع السؤال الأول (إجباري) :

ج) اختر للمجموعة (أ) ما يرتبط بها من المجموعة (ب) بوضع الرقم المناسب :

م	المجموعة (أ)	الرقم المناسب	المجموعة (ب)
١	العام الذي اجتاحت فيه هتلر بولندا .		١٩١٦م
٢	العام الذي حدثت فيه معركة فردان .		١٩١٩م
٣	العام الذي أصدر فيه إعلان استقلال المستعمرات في أمريكا عن إنجلترا .		١٩٣٩م
٤	العام الذي أنشأت فيه عصبة الأمم .		١٧٧٦م
			١٧٧٧م

د) أمامك خريطة العالم الصماء - اكتب الرقم الدال على العبارات التالية :

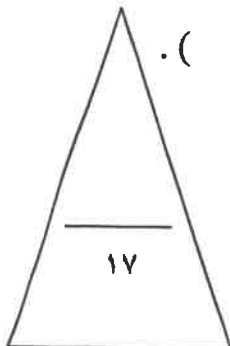


- الدولة التي يقع فيها المقر الرسمي للأمم المتحدة يمثلها على الخريطة الرقم () .

- الدولة الآسيوية التي تعد أحد الأعضاء الدائمين في مجلس الأمن يمثلها على الخريطة الرقم () .

- الدولة التي يجري على أرضها نهر " المارن " الشهير يمثلها على الخريطة الرقم () .

- الدولة التي ظهر فيها نظام ديكتاتوري بقيادة " فرانكو " يمثلها على الخريطة الرقم () .



السؤال الثاني (اختياري) يتكون من (أ ، ب ، ج) :

أ) اكتب النتائج المترتبة على الأحداث التالية :

١- الثورة الأمريكية .

.....
.....

٢- سقوط حصن الباستيل .

.....
.....

٣- الحرب العالمية الثانية من الناحية الاقتصادية .

.....
.....

ب) عرف المفاهيم أو المصطلحات التالية :

١- العلاقات الدولية :

.....

٢- البلقان :

.....

٣- النازية :

.....

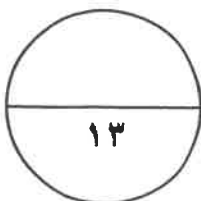
٤- فترة عصر الإرهاب :

.....

ج) من خلال دراستك لموضوع (هيئة الأمم المتحدة) كون فقرة مناسبة باستخدام الكلمات التالية :

(السلام العالمي - مؤتمر يالطا - الأمم المتحدة)

.....
.....
.....
.....



السؤال الثالث (اختياري) يتكون من (أ ، ب ، ج) :

أ) قارن بين كل من :

أوجه المقارنة	معركة ساراتوجا	معركة فالمي
الموقع	-	-
النتائج	- -	- -

ب) دال على صحة العبارات التالية :

١- مهد التوتر الدولي بعد الحرب العالمية الأولى لقيام الحرب العالمية الثانية.

-
-

٢- اختلفت الحرب العالمية الثانية عن جميع الحروب التي سبقتها .

-
-
-

ج) اقرأ الفقرة التالية ثم أجب عما يليها من أسئلة :

" هناك شبه إجماع بين المؤرخين على ضعف شخصية ملك فرنسا "لويس السادس عشر" (١٧٧٣/١٧٩١م) والذي لعبت زوجته "ماري أنطوانيت" دوراً كبيراً في إضعاف مكانته الشعبية وتوجيه سياسة البلاد على عكس "نابليون بونابرت" الذي أصبح رجل فرنسا الأول وأعطاهما مجداً بشكل لم تكن تتوقعه ووضع مشروعاً لتنظيم التعليم في كل أنحاء فرنسا والعمل على مجانية التعليم للفقراء خاصة التعليم الثانوي " .

١- ما الدور الذي لعبته "ماري أنطوانيت" في إضعاف مكانة "لويس السادس عشر" الشعبية ؟

-
-

٢- استخرج من الفقرة السابقة الإصلاحات التي قام بها "نابليون" في مجال التعليم .

-
-

السؤال الرابع (اختياري) يتكون من (أ ، ب ، ج) :

(أ) اكتب الدور الذي لعبته الشخصيات التالية :

١- " روزفلت " في إصلاح الاقتصاد الأمريكي بين الحربين العالميتين .

..... -
..... -

٢- الجنرال الروسي " زوكوف " في الحرب العالمية الثانية.

..... -

٣- " موسوليني " في إيطاليا.

..... -
..... -

(ب) فرق بين كل مما يلي :

حزب اليعاقبة	حزب الجيرونديين
.....

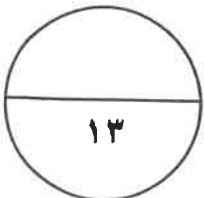
(ج) عدد كل مما يلي :

١- أهم ملامح عالمنا المعاصر .

..... -
..... -
..... -


٢- النتائج السياسية للحرب العالمية الثانية .

..... -
..... -
..... -



السؤال الخامس (اختياري) يتكون من (أ - ب - ج) :

أ) لاحظ الصورة التي أمامك ثم أجب عن الأسئلة التالية :



١- اكتب الحدث التاريخي الذي تدل عليه الصورة المقابلة ؟

..... -

٢- في أي عام وقع هذا الحدث ؟

..... -

٣- عدد النتائج التي ترتبت على هذا الحدث.

..... -

..... -

ب) ما أوجه الاختلاف بين كل من :

مجلس اللوردات	مجلس العموم
.....--
.....

ج) علل لما يلي :

١- قيام الثورة الشيوعية في روسيا عام ١٩١٧م .

..... -

..... -

٢- وقفت عصبة الأمم عاجزة أمام القضايا المهمة .

..... -

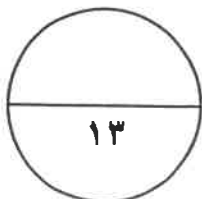
..... -

٣- كانت القارة الأوروبية محور العلاقات الدولية في بداية القرن العشرين .

..... -

..... -

..... -



(انتهت الأسئلة)

أجب عن (أربعة) أسئلة فقط على أن يكون السؤال الأول منها (إجبارياً) :

السؤال الأول : (إجباري) ويتكون من (أ ، ب ، ج ، د) :

(أ) ضع خطأ تحت الخيار الصحيح من بين الخيارات التي تلي كل عبارة : (٥ درجات كل نقطة درجة)

١- قائل هذه العبارة " اننا هنا بارادة الشعب ولن نبرح أماكننا إلا على أسنة الرماح " : ص ٨٧

أ- نيكر ب- لافاييت ج- نابليون د- ميرابو

٢- المستعمرة الإنجليزية التي تأسست عام ١٦٠٧م في أمريكا الشمالية : ص ٧٦

أ- بوسطن ب- جيمس تون ج- واشنطن د- نيويورك

٣- الدولة التي وقعت على أراضيها معركة "الكنجستون" : ص ٨٠

أ- إنجلترا ب- الاتحاد السوفيتي ج- الولايات المتحدة الأمريكية د- النمسا

٤- الملك الذي لجأ إلى فرنسا عام ١٦٨٩م هرباً من رجال البرلمان الإنجليزي : ص ٧٤

أ- جيمس الأول ب- جيمس الثاني ج- جيمس الثالث د- جيمس الرابع

٥- العام الذي عُقد فيه صلح باريس وبموجبه اعترفت بريطانيا باستقلال الولايات المتحدة الأمريكية : ص ٨٢

أ- ١٧٨٣م ب- ١٧٨٤م ج- ١٧٨٥م د- ١٧٨٦م

(ب) أكمل العبارات التالية بما يناسبها فيما درست :

(٤ درجات كل نقطة درجة)

١- الإمبراطورية الإسلامية التي تفككت بعد الحرب العالمية الأولى أسماها الدولة العثمانية . ص ١٠٣

٢- المدينة التي يوجد بها مقر محكمة العدل الدولية اسمها لاهاي . ص ١١٧


٣- المدينة التي أعتقل فيها الملك " لويس السادس عشر " بعد محاولة هروبه الفاشلة اسمها فاران . ص ٨٩

٤- الدولة التي هاجمت السفن التجارية الأمريكية وكانت السبب في دخول الولايات المتحدة الحرب العالمية الأولى اسمها ألمانيا .

ص ١٠٠



لجنة تقصي الحقائق



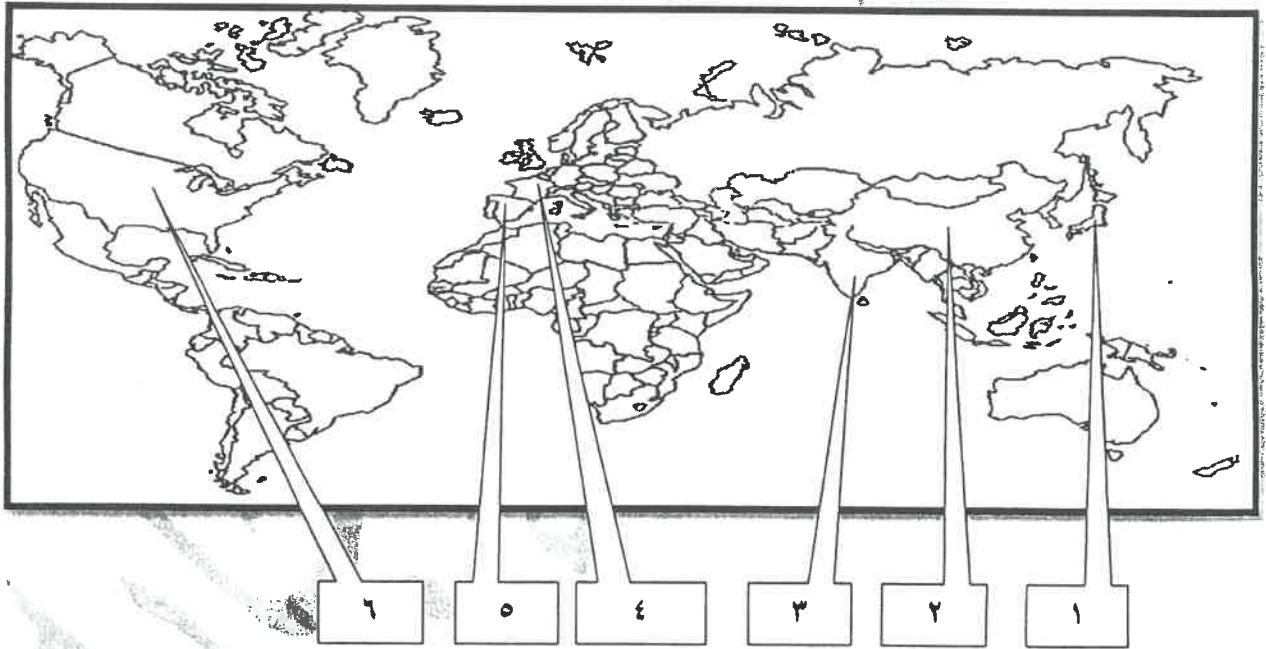
لتوجيه الفني العام للاجتماعيات

تابع السؤال الأول (إجباري) :

ج) اختر للمجموعة (أ) ما يرتبط بها من المجموعة (ب) بوضع الرقم المناسب :- (٤ درجات كل نقطة درجة)

م	المجموعة (أ)	الرقم المناسب	المجموعة (ب)
١	العام الذي اجتاح فيه هتلر بولندا . ص ١١٣	٢	١٩١٦ م
٢	العام الذي حدثت فيه معركة فردان . ص ١٠١	٤	١٩١٩ م
٣	العام الذي أصدر فيه إعلان استقلال المستعمرات في أمريكا عن إنجلترا . ص ٨١	١	١٩٣٩ م
٤	العام الذي أنشأت فيه عصبة الأمم . ص ١٠٤	٣	١٧٧٦ م
		-	١٧٧٧ م

د) أمامك خريطة العالم الصماء - اكتب الرقم الدال على العبارات التالية : (٤ درجات كل نقطة درجة)



- الدولة التي يقع فيها المقر الرسمي للأمم المتحدة يمثلها على الخريطة الرقم (٦) . ص ١١١
- الدولة الآسيوية التي تعد أحد الأعضاء الدائمين في مجلس الأمن يمثلها على الخريطة الرقم (٢) . ص ١١١
- الدولة التي يجري على أرضها نهر " المارن " الشهير يمثلها على الخريطة الرقم (٤) . ص ١٠١
- الدولة التي ظهر فيها نظام ديكتاتوري بقيادة " فرانكو " يمثلها على الخريطة الرقم (٥) . ص ١٠١ - ١٠٨



التوجيه الفني العام للاجتماعيات



السؤال الثاني (اختياري) يتكون من (أ ، ب ، ج) :

أ) اكتب النتائج المترتبة على الأحداث التالية :

(٦ درجات)

(يكتب بنقطتين)

١- الثورة الأمريكية . ص ٨٣

- انتشرت عدواها إلى سكان أمريكا الجنوبية (اللاتينية) .
- تشجيع سكان المستعمرات البريطانية في آسيا وأفريقيا على القيام بثورات ضدها ليتخلصوا من استعمارها .
- أصبحت الولايات المتحدة ملاذاً لدعاة الفكر من الأوروبيين ورمزاً للحرية والتجديد .
- السبب المباشر في قيام الثورة الفرنسية .
- كانت سبباً في حدوث الأزمة المالية في عهد الملك الفرنسي "لويس السادس عشر" .

(يكتب بنقطتين)

٢- سقوط حصن الباستيل . ص ٨٨

- عمت الفوضى في كل فرنسا .
- توقف الفلاحون عن دفع الضرائب .
- هاجم الفلاحون قصور النبلاء وأحرقوها وقتلوا من فيها وأحرقوا الوثائق التي تعطيهم حقوقاً إقطاعية .
- هجرة النبلاء إلى خارج فرنسا هرباً بحياتهم .
- أصبح المهاجرون أكبر خطر على الثورة الفرنسية .

(يكتب بنقطتين)

٣- الحرب العالمية الثانية من الناحية الاقتصادية . ص ١١٤

- كانت نفقات الحرب باهظة أدت إلى تحمل كثير من الدول ديوناً كبيرة .
- الدمار الذي حل بالمساكن والمصانع والطرق والمؤسسات .
- تحولت دول أوروبا إلى دول مستوردة بعد أن كانت دولاً مصدرة .

(٤ درجات كل نقطة درجة)

ب) عرف المفاهيم أو المصطلحات التالية :

- ١- العلاقات الدولية : الاتصالات بين الدول وبين المنظمات الدولية في جميع المجالات . ص ٩٧
- ٢- البلقان : اصطلاح سياسي يطلق على مجموعة دول أوروبا الشرقية (يوغسلافيا السابقة - اليونان - بلغاريا - ألبانيا) . ص ١٠٠
- ٣- النازية : كلمة ألمانية مختصرة لعبارة الاشتراكية الوطنية وهي التسمية التي أطلقها أدولف هتلر على الحزب النازي . ص ١٠٧
- ٤- فترة عصر الإرهاب : الفترة الزمنية التي قتل فيها الكثير من الفرنسيين دون محاكمة عادلة وكانت تأخذ الناس بالشبهات ووجهت لهم تهمة الخيانة العظمى واستمرت حتى مارس ١٧٩٤ م . ص ٩١

ج) من خلال دراستك لموضوع (هيئة الأمم المتحدة) كون فقرة مناسبة باستخدام الكلمات التالية :

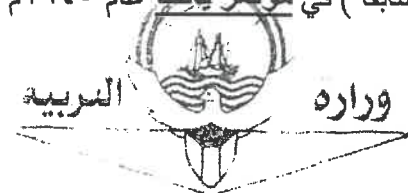
(السلام العالمي - مؤتمر يالطا - الأمم المتحدة) (٣ درجات)

دعا الحلفاء في نهاية الحرب العالمية الثانية إلى وقف الحروب ، واقترح الرئيس الأمريكي روزفلت

إنشاء منظمة عالمية لتحقيق السلام العالمي ، فاجتمع زعماء دول الحلفاء (الولايات المتحدة - بريطانيا - الاتحاد السوفيتي سابقاً) في مؤتمر يالطا عام ١٩٤٥ م الدول المحبة للسلام لحضور مؤتمر سان فرانسيسكو لإبرام ميثاق الأمم المتحدة



(وما يراه المصحح مناسباً)



السؤال الثالث (اختياري) يتكون من (أ ، ب ، ج) :

(٤ درجات كل نقطة درجة)

أ (قارن بين كل من :

وجه المقارنة	معركة ساراتوجا ص ٨٢	معركة فالمي ص ٩٠
الموقع	أمريكا	فرنسا
النتائج	- خسر الإنجليز جيشا كاملا من ٦ آلاف جندي واستسلم . - سيطر الأمريكيون على حوض هدرسون . - اعترف فرنسا باستقلال الثوار الأمريكيين ودخول الحرب إلى جانبهم. - زاد تعاطف الشعوب الأوروبية مع الثورة الأمريكية . (يكتفى بنقطة)	- أنقذت أفكار الثورة الفرنسية من الضياع . - حالت دون سقوط باريس . - رفعت الروح المعنوية للفرنسيين . - تحول جيش الثورة بعدها من الدفاع إلى الهجوم وأصبح مصدر رعب للدول الأوروبية . (يكتفى بنقطة)

ب (دلل على صحة العبارات التالية :

١- مهد التوتر الدولي بعد الحرب العالمية الأولى لقيام الحرب العالمية الثانية . ص ١٠٩ + ١٠٤
تمكن كل من النظام الفاشي في إيطاليا والنازي في ألمانيا من بناء جيوش قوية واستغل ضعف الأنظمة الديمقراطية لتحقيق أهدافه التوسعية ومنها:

- احتلال موسوليني أثيوبيا عام ١٩٣٦ م.

- احتلال هتلر منطقة الراين ١٩٣٦ م.

- مساندة هتلر وموسوليني نظام فرانكو في أسبانيا ١٩٣٨/١٩٣٩ م.

- ضمت ألمانيا إليها كل من النمسا وطالبت بضم منطقة السوديت في تشيكوسلوفاكيا

- اعترضت بريطانيا وفرنسا على هذه الخطوة وعقد مؤتمر ميونخ ١٩٣٨ م.

- هاجمت اليابان منشوريا في الصين .

(يكتفى بنقطتين)

(يكتفى بثلاث نقاط)

٢- اختلفت الحرب العالمية الثانية عن جميع الحروب التي سبقتها . ص ١١٣ + ص ١١٤

- حرب عالمية شاملة شملت معظم دول العالم بالاشتراك المباشر أو بالتحالف مع الدول .

- تسخير الطاقات البشرية حيث سخرت دول المحور أسرى الحروب للعمل في المصانع والحقول ودفع الحلفاء

بالإنانث للعمل في هذا المجال بدل الرجال وفتحت الولايات المتحدة باب الهجرة للعمل

- مواجهة بين أيديولوجيات وصراع بين نظريات دكتاتورية عنصرية تبنتها دول المحور بينما تبني الحلفاء


الديمقراطية التي تتادي بالمساواة وحقوق الإنسان .

- تنافس صناعي سخرت جميع الدول المشتركة في الحرب مقدراتها ومقدرات الشعوب التي احتلتها بهدف تطوير

الإنتاج الصناعي الحربي وتطوير الاقتصاد .

- سباق تسليح تكنولوجي لتطور أساليب القتال والأسلحة فاستخدمت التكنولوجيا في الأرض والجو والبحر فكان

الدمار أكبر وشمل جميع المجالات .



لجنة تقدير المناهج الدراسية



لتوجيه الصبي العام للأجتماعيات

ج) اقرأ الفقرة التالية ثم أجب عما يليها من أسئلة : (٤ درجات كل نقطة درجة)

" هناك شبه إجماع بين المؤرخين على ضعف شخصية ملك فرنسا "لويس السادس عشر" (١٧٧٣/١٧٩١م) والذي لعبت زوجته "ماري أنطوانيت" دوراً كبيراً في إضعاف مكانته الشعبية وتوجيه سياسة البلاد على عكس "نابليون بونابرت" الذي أصبح رجل فرنسا الأول وأعطاهما مجداً بشكل لم تكن تتوقعه ووضع مشروعاً لتنظيم التعليم في كل أنحاء فرنسا والعمل على مجانية التعليم للفقراء خاصة التعليم الثانوي "

- ١- ما الدور الذي لعبته "ماري أنطوانيت" في إضعاف مكانة "لويس السادس عشر" الشعبية ؟ ص ٨٤ (يكتفى بنقطتين)
 - اشتراكها في المؤامرات التي تعين وتعزل الوزراء .
 - عدم إحساسها بما يعانيه الشعب الفرنسي من آثار المجاعة مما خلق شعوراً عاماً بالاستياء لدى الشعب .
 - يرى الشعب الفرنسي فيها عدوة لأنها نمساوية الأصل .
- ٢- استخرج من الفقرة السابقة الإصلاحات التي قام بها "نابليون" في مجال التعليم . ص ٩٣
 - وضع مشروعاً لتنظيم التعليم في كل أنحاء فرنسا .
 - العمل على مجانية التعليم للفقراء خاصة التعليم الثانوي .




لتوجيه الفني العام للأجتماعيين

السؤال الرابع (اختياري) يتكون من (أ ، ب ، ج) :

(٥ درجات كل نقطة درجة)

(أ) اكتب الدور الذي لعبته الشخصيات التالية :

- ١- "روزفلت" في إصلاح الاقتصاد الأمريكي بين الحربين العالميتين . ص ١٠٥ (يكتفى بنقطتين)
- تبنى سياسة اقتصادية جديدة فوضع خططا عرفت بالنظام الجديد . تقوم على الدخول في مشاريع كبرى بهدف تشغيل أكبر عدد ممكن من العمال لحل مشكلة البطالة .
- التوسع في المشاريع الإنمائية وبهذا خرج على السياسة الاقتصادية التي كانت تسير عليها بلاده من (الاقتصاد الرأسمالي الحر) إلى (اقتصاد رأسمالي موجه) .
- أعاد الثقة في قطاع البنوك والمؤسسات الكبرى حتى أخذت العجلة الاقتصادية في العمل من جديد ولكن الكساد الاقتصادي استمر حتى قيام الحرب العالمية الثانية .



- أقام النظام الفاشي برحمة مستطقت

٢- الجنرال الروسي (زوكوف) في الحرب العالمية الثانية. ص ١١٢



- تقدم بالقوات الروسية بعد معركة ستالينجراد حتى احتل برلين .

٣- " موسوليني " في إيطاليا. ص ١٠٨ (يكتفى بنقطتين)

- وصل إلى الحكم عام ١٩٢٢ م . - الزحف إلى روما واستولى على السلطة .

(درجتان كل نقطة درجة)

(ب) فرق بين كل مما يلي :

حزب الشيوعيين	حزب الجيرونديين
حزب اليقاقة ص ٩١	حزب الجيرونديين ص ٩١
حزب من المتطرفين المعروفين بعدائهم الشديد للملكية ، ويمتازون بأنهم أقلية شديدة التنظيم ذات اتصال قوي بالشعب وبجمهور باريس الذي كانت له اليد الطولى لإثارة الشارع في فرنسا .	حزب من المعتدلين في فرنسا .
	

(6 درجات كل نقطة درجة)

(ج) عدد كل مما يلي بالبروجيه الصني العام للاجتماعيات


(يكتفى بثلاث نقاط)

١- أهم ملامح عالمنا المعاصر . ص ١١٥

- مخاوف من حرب نووية واتفاقيات "سالت" لوقف التسلح واستخدام الأسلحة الفتاكة .
- هيئة الأمم المتحدة لحفظ السلام والأمن والتعاون بين دول العالم .
- ظهور الولايات المتحدة زعيمة الكتلة الغربية الرأسمالية ثم القوة الأعظم بعد تفكك الاتحاد السوفيتي .
- تقدم أوروبا في كافة المجالات وتفعيل مشروع مارشال ثم المجموعة الأوروبية ثم الإتحاد الأوروبي .
- اليابان قوة اقتصادية عظمى .
- تقدم علمي وانفجار معرفي .
- ظهور دول نامية ومتخلفة اقتصادياً واجتماعياً .
- زيادة سكانية هائلة .
- ٢- النتائج السياسية للحرب العالمية الثانية .
- تغيرت خريطة أوروبا السياسية وجرى تعديل على كثير من الحدود .
- تراجعت مكانة دول أوروبا (بريطانيا وفرنسا) إلى الدرجة الثانية وتقلص نفوذها الاستعماري .
- انتهت الديكتاتوريات في إيطاليا وألمانيا واليابان .
- قامت أنظمة شيوعية في دول أوروبا الشرقية وظلت قائمة بمساندة الاتحاد السوفيتي وسقطت مع سقوطه .
- انقسام ألمانيا بعد احتلالها إلى قسمين غربي يتبع النظام الرأسمالي وشرقي يتبع النظام الشيوعي ، وقسمت برلين إلى قسمين يفصلهما جدار عازل .
- لم تصب إيطاليا بخسائر مباشرة في أراضيها وإنما فقدت كل مستعمراتها .
- فقدت اليابان كل ممتلكاتها التي حصلت عليها منذ القرن التاسع ودمرت أراضيها .
- برز قطبان جديان في العالم هما الولايات المتحدة والاتحاد السوفيتي (سابقاً) باعتبارهما أقوى دولتين في العالم .

السؤال الخامس (اختياري) يتكون من (أ - ب - ج) :
(أ) لاحظ الصورة التي أمامك ثم أجب عن الأسئلة التالية :

(٤ درجات كل نقطة درجة)



١- اكتب الحدث التاريخي الذي تدل عليه الصورة المقابلة ؟

ص ٧٩

- حفلة شاي بوسطن .

٢- في أي عام وقع هذا الحدث ؟ ص ٧٩

- ١٧٧٣ م .

٣- عدد النتائج التي تترتب على هذا الحدث . ص ٧٩

- اغلاق ميناء بوسطن حتى يتم دفع ثمن الشاي .

- تعيين الجنرال جديج حاكما عسكريا على بوسطن .

- منع الاجتماعات الإبازن من السلطات العسكرية الإنجليزية

وقد عرفت تلك القوانين باسم القوانين الجائرة . (يكتفى بنقطتين)

(درجتين كل نقطة درجة)

ص ٧٥

(ب) ما أوجه الاختلاف بين كل من :

مجلس اللوردات	مجلس العموم
- يضم نواب الطبقتين الأرستقراطية الإقطاعية ورجال الدين. - يعينهم الملك الإنجليزي - يمثل الارستقراطية الإنجليزية. (يكتفى بنقطة)	- يضم نواب الطبقتين الوسطى الزراعية والوسطى في المدن البرجوازية. - ينتخبهم الشعب. - يمثل الديمقراطية في أصل صورها. (يكتفى بنقطة)

(ج) علل لما يلي :

(٧ درجات كل نقطة درجة)

(يكتفى بنقطتين)



١- قيام الثورة الشيوعية في روسيا عام ١٩١٧ م . ص ١٠٦

- فساد الحكم القيصري في روسيا واستبداده .

- شخصية " لينين " وقدرته على إقناع الجماهير من خلال بعض شعاراته (السلام الحسن - الأرض للفلاحين - الغذاء

للمجموع - الحكم للسوفيت) وتنظيم الحزب الشيوعي .

- الهزائم الكبرى التي حلت بالجيش الروسي منذ عام ٩٠٥ (م على يد اليابان ثم الحرب العالمية الأولى

وسقوط ملايين من الجرحى والقتلى .

- سوء الحالة الاقتصادية التي تأثر بها العمال والفلاحون وانتشار البطالة والمجاعات والأمراض .

(يكتفى بنقطتين)

٢- وقفت عصبة الأمم عاجزة أمام القضايا المهمة . ص ١٠٤

- عدم التزام الدول الكبرى بميثاق عصبة الأمم .

- لم يكن لها قوة عسكرية قادرة على تنفيذ قراراتها .

- أصبحت أداة لمصلحة الدول الكبرى في ذلك الوقت فانهارت هذه المنظمة نتيجة لسياسية الدول المنتصرة في الحرب .

- لم تشارك الولايات المتحدة في عضويتها على الرغم من أنها صاحبة الفكرة .

(يكتفى بنقطة)

وراره

٣- كانت القارة الأوروبية محور العلاقات الدولية في بداية القرن العشرين . ص ٩٧

- مركز الثورة الصناعية .

- وفرة الموارد والإمكانات الاقتصادية .

- النفوذ الاستعماري في جميع القارات .





أجب عن أربعة أسئلة مما يلي على أن يكون السؤال الأول من بينهما إجبارياً :-

السؤال الأول : (إجباري) يتكون من (أ ، ب ، ج ، د) :-

(أ) ضع خطأ تحت الخيار الصحيح من بين الخيارات التي تلي كل عبارة :-

١- زعيم أمريكي قدم اقتراح يدعو فيه المستعمرات لإعلان الاستقلال عن إنجلترا :

أ-جيمس ب-لي ج-فرانك د-وليم

٢- معركة انتصر فيها الجيش الفرنسي على القوات المشتركة عام ١٧٩٢ م :

أ-فالمي ب-السنين السبع ج-فردان د-المارن

٣- زعيم للنظام العالمي الاشتراكي الذي نجح في تحقيق النهضة الشاملة :

أ-أتاتورك ب-ستالين ج-فرانكو د-هتلر

٤- العام الذي احتل فيه الحلفاء إيطاليا :

أ-١٩٤٢م ب-١٩٤٣م ج-١٩٤٤م د-١٩٤٥م

٥- نظام أقامه موسوليني في إيطاليا بعد وصوله للحكم عام ١٩٢٢ م :

أ-النازي ب-الشيوعي ج-الرأسمالي د-الفاشي

(ب) أكمل العبارات التالية بما يناسبها فيما درست :-

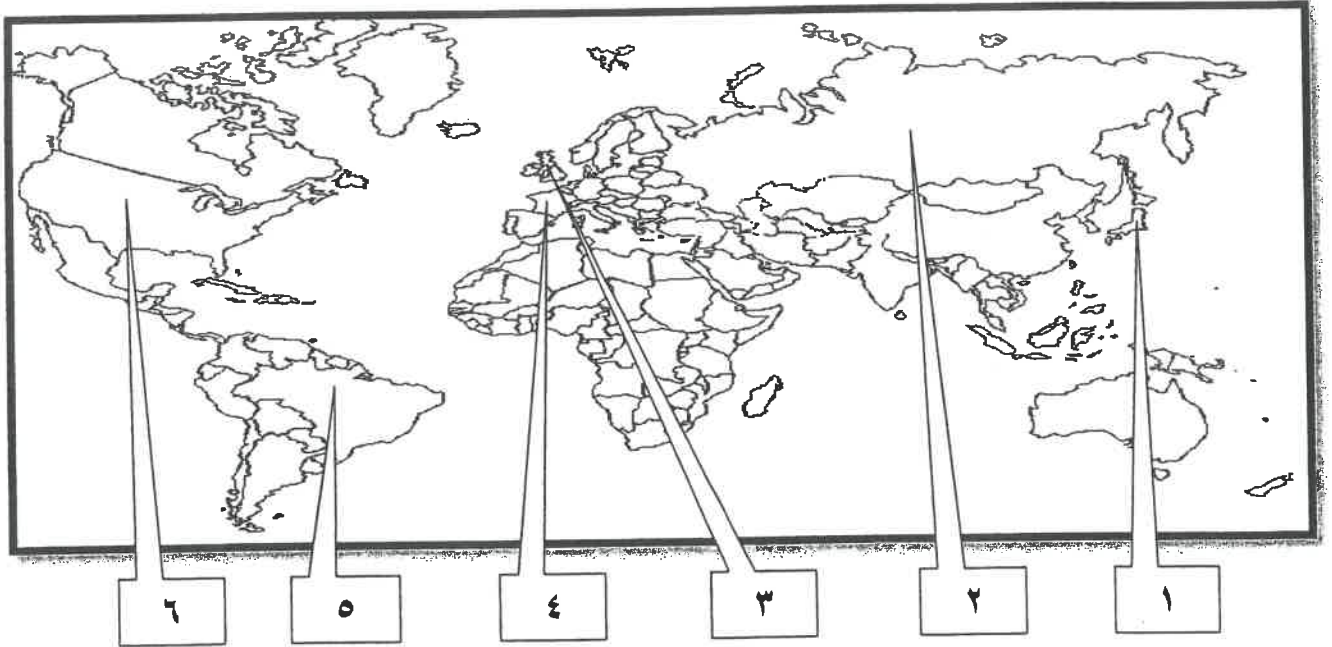
- ١- نظرية جون لوك المعروفة التي أثرت في تطور النظريات السياسية تسمى.....
- ٢- الكتاب الذي ألفه روسو طالب فيه أن يكون الحكم للشعب يسمى.....
- ٣- صاحب شعار (السلام للجيش - الأرض للفلاحين - الغذاء للجميع) اسمه.....
- ٤- حلف وقعه هتلر مع موسوليني في أغسطس عام ١٩٣٩ م يسمى.....
- ٥- العام الذي افتتحت فيه هيئة الأمم المتحدة رسمياً..... م.

تابع السؤال الأول (إجباري) :-

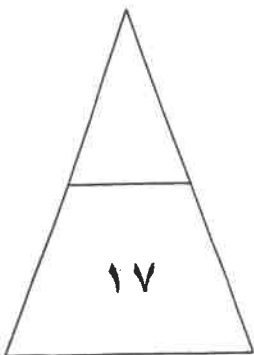
(ج) اختر للمجموعة (أ) ما يرتبط بها من المجموعة (ب) بوضع الرقم المناسب :-

م	المجموعة (أ)	الرقم المناسب	المجموعة (ب)
١	تنازل فرنسا لإنجلترا عن جميع مستعمراتها .		معاهدة كامبو فروميو
٢	اعتراف بريطانيا باستقلال الولايات المتحدة الأمريكية .		السنة الانقلاية
٣	انتصارات نابليون على الجيش النمساوي في إيطاليا .		حرب السنين السبع
٤	التقارب البريطاني الفرنسي لشعورهم بخطر تقدم ألمانيا صناعيا .		اجتياح بولندا
٥	رفض إعادة ممر دانزيغ .		صلح باريس ١٧٨٣ م
			الاتفاق الودي

(د) أمامك خريطة العالم الصماء - اكتب الرقم الدال على العبارات التي تليها :-



- الدولة التي قامت فيها الثورة المجيدة يمثلها على الخريطة الرقم () .
- يقع حصن الباستيل في دولة يمثلها على الخريطة الرقم () .
- دولة هاجمت ميناء بيرل هاربر ودمرت الأسطول الأمريكي يمثلها على الخريطة الرقم () .
- الدولة التي يقع فيها المقر الرسمي للأمم المتحدة يمثلها على الخريطة الرقم () .



السؤال الثاني (اختياري) ويتكون من (أ ، ب ، ج) :-

(أ) علل لما يلي :-

١- ظهور الخلافات بين الملك جيمس الثاني والبرلمان الإنجليزي .

.....*

.....*

.....*

٢- دخول الولايات المتحدة الحرب عام ١٩١٧م ضد ألمانيا .

.....*

٣- تقارب فرنسا وبريطانيا في الاتفاق الودي عام ١٩٠٤م .

.....*

(ب) قارن بين كل من حسب الجدول التالي :-

أوجه المقارنة	الحاكم في المستعمرات الانجليزية	المجلس النيابي في المستعمرات الانجليزية
المهام**
أوجه المقارنة	الشيوعية	النازية
المبادئ**

(ج) عرف المفاهيم التالية :-

١- حزب اليعاقبة :

.....

٢- الاتفاقات الدولية :

.....

السؤال الثالث (اختياري) ويتكون من (أ ، ب ، ج) :-

(أ) اقرأ الفقرة التالية ثم أجب عما يليها من أسئلة :-

" ارتفعت الصيحات من جميع أنحاء البلاد ضد القوانين الجديدة بقيادة الزعيم الأمريكي (صاموئيل أدامز) وتركزت صيحات الغضب في مدينة بوسطن ، فلجأ الأمريكيون لسلاح المقاطع التجارية مما كبد إنجلترا خسائر فادحة فأصدرت الحكومة الإنجليزية قراراً بإلغاء جميع الضرائب الجديدة (سيئة السمعة) ما عدا ضريبة الشاي "

١- استخرج من الفقرة النتيجة المترتبة على مقاطعة الأمريكيان البضائع الإنجليزية .

*

٢- استنتج سبب إلغاء الحكومة الإنجليزية للقوانين سيئة السمعة ما عدا ضريبة الشاي .

*

٣- عدد القرارات التي اتخذها البرلمان الإنجليزي لمعاقبة ميناء بوسطن .

*

*

(ب) عدد كل مما يلي :-

١- أجهزة الأمم المتحدة.

*

*

٢- بنود مؤتمر صلح فرساي عام ١٩١٩ م.

*

*

(ج) فند كل مما يلي :-

١- لم تلعب الجمعية الوطنية دوراً في الإصلاحات الفرنسية .

*

*

*

٢- لم يؤثر انهيار سوق الأوراق المالية عام ١٩٢٩ م على التجارة الخارجية والإنتاج العالمي .

*

*

السؤال الرابع (اختياري) يتكون من (أ ، ب ، ج) :-

أ) فسر ما يلي :-

١- لقبث الثورة الفرنسية بالنموذج الشامل للثورة .

..... *

..... *

٢- عجز عصبة الأمم من حل بعض المشكلات المهمة .

..... *

٣- انسحاب روسيا من الحرب العالمية الأولى عام ١٩١٧ م .

..... *

ب) فرق بين كل مما يلي :-

الفاو	اليونسكو
..... * *
.....
النتائج العلمية للحرب العالمية الثانية	النتائج البشرية للحرب العالمية الثانية
..... * *
.....

ج) أذكر لكل من :-

١- قرارات اجتماع الكونجرس الأول سنة ١٧٧٤ م .

..... *

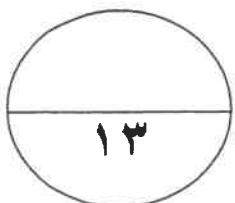
..... *

..... *

٢- أوجه الشبه بين معركتي ستالينجراد والعلمين .

..... *

..... *



السؤال الخامس (اختياري) يتكون من (أ ، ب ، ج) :-

أ) دال على صحة العبارات التالية :-

١- يعتبر العامل الاقتصادي أحد عوامل قيام الثورة الفرنسية

*

*

٢- اختلفت الحرب العالمية الثانية عن غيرها من الحروب.

*

*

*

ب) نفذ المطلوب منك بين القوسين :-

١- نابليون بونابرت . (إصلاح التعليم)

*

*

٢- ملامح عالما المعاصر . (أذكرها)

*

*

ج) عدد النتائج المترتبة على الأحداث التالية :-

١- الحرب العالمية الأولى.

*

*

٢- معركة فالمي.

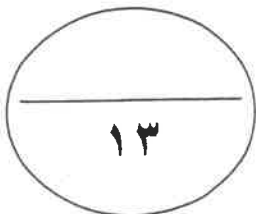
*

*

انتهت الأسئلة مع تمنياتنا

لكم بالتوفيق "

(٦)





وزارة التربية
التوجيه الفني العام للاجتماعيات

امتحان نهاية الفترة الدراسية الثانية
لمادة تاريخ العالم الحديث والمعاصر
للفص الثاني عشر الأدبي

العام الدراسي: ٢٠١٧-٢٠١٨ م
الزمن : ساعتان وربع
عدد الأوراق: (٦) أوراق

أجب عن أربعة أسئلة مما يلي على أن يكون السؤال الأول من بينهما إجباريا :

السؤال الأول: (إجباري) يتكون من (أ ، ب ، ج ، د) :-

(ا) ضع خطا تحت الخيار الصحيح من بين الخيارات التي تلي كل عبارة :- (٥ درجات كل نقطة درجة)

١- زعيم أمريكي قدم اقتراح يدعو فيه المستعمرات لإعلان الاستقلال عن إنجلترا : ص ٨١

أ- جيمس ب- لي ج- فرانك د- وليم

٢- معركة انتصر فيها الجيش الفرنسي على القوات المسلحة للولايات المتحدة عام ١٧٩٢م : ص ٩٠

أ- فالمي ب- الشين ج- فردان د- المارن

٣- زعيم للنظام العالمي الاشتراكي الذي نجح في تحقيق النهضة الشاملة : ص ١٠٦

أ- أتاتورك ب- ستالين ج- فرانكو د- هتلر

٤- العام الذي احتل فيه الحلفاء إيطاليا : ص ١١٢

أ- ١٩٤٢م ب- ١٩٤٣م ج- ١٩٤٤م د- ١٩٤٥م

٥- نظام إقامة موسوليني في إيطاليا بعد وصوله للحكم عام ١٩٢٢م : ص ١٠٨

أ- النازي ب- الشيوعي ج- الرأسمالي د- الفاشي

(ب) أكمل العبارات التالية بما يناسبها فيما درست :- (٥ درجات كل نقطة درجة)

١- نظرية جون لوك المعروفة التي أثرت في تطور النظريات السياسية تسمى السيادة الشعبية . ص ٧٦

٢- الكتاب الذي ألفه روسو طالب فيه أن يكون الحكم للشعب يسمى العقد الاجتماعي . ص ٨٥

٣- صاحب شعار (السلام للجيش - الأرض للفلاحين - الغذاء للجميع) اسمه لينين . ص ١٠٦

٤- حلف وقعه هتلر مع موسوليني في أغسطس عام ١٩٣٩م يسمى الحلف الفولاذي . ص ١٠٩

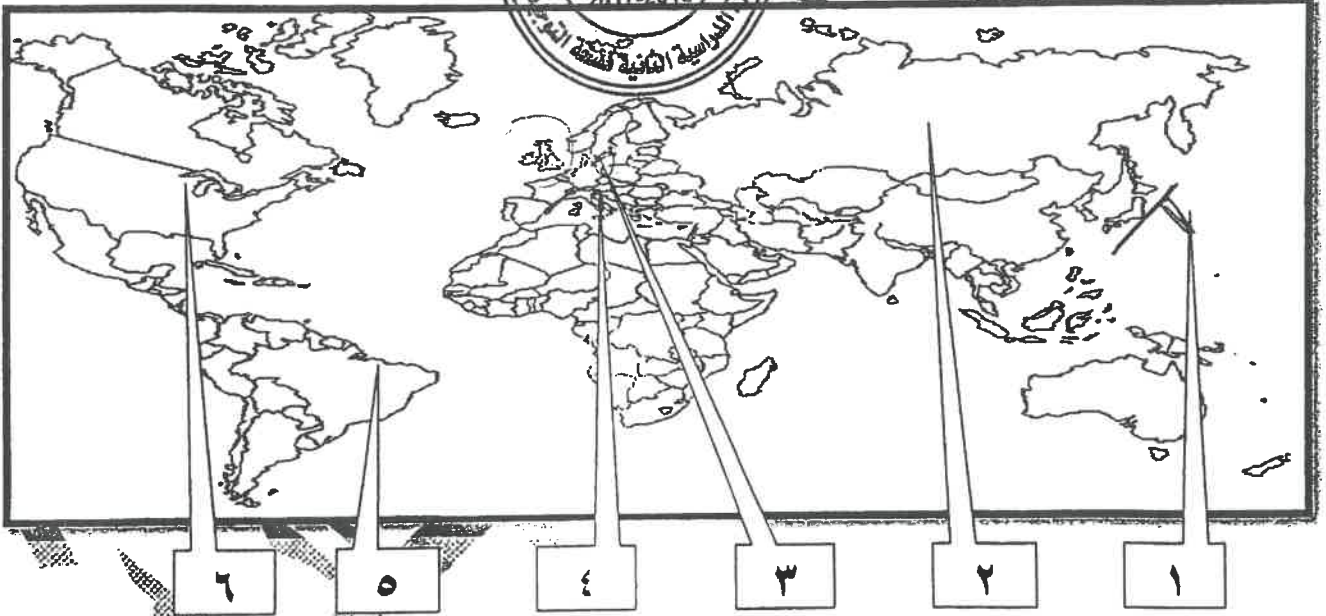
٥- العام الذي افتتحت فيه هيئة الأمم المتحدة رسميا ١٩٤٥م . ص ١١٦

تابع السؤال الأول (إجباري) :-

(ج) اختر للمجموعة (أ) ما يرتبط بها من المجموعة (ب) بوضع الرقم المناسب :- (٥ درجات كل نقطة درجة)

م	المجموعة (أ)	الرقم المناسب	المجموعة (ب)
١	تنازل فرنسا لإنجلترا عن جميع مستعمراتها . ص ٧٧	٣	معاهدة كامبو فرميو
٢	اعتراف بريطانيا باستقلال الولايات المتحدة الأمريكية . ص ٨٢	-	السنة الانقلابية
٣	انتصارات نابليون على الجيش النمساوي في ايطاليا . ص ٩٢	١	حرب السنين السبع
٤	التقارب البريطني الفرنسي لشعورهم بخطر تقدم ألمانيا صناعيا . ص ٩٨	٥	اجتياح بولندا
٥	رفض إعادة ممر دانزيغ . ص ١١٠	٢	صلح باريس ١٧٨٣ م
		٤	الاتفاق الودي

(د) أمامك خريطة العالم الصماء - اكتب الرقم دال على الخيارات التي تليها :- (درجتان لكل نقطة نصف درجة)



- ١- الدولة التي قامت فيها الثورة المجيدة يمثلها على الخريطة رقم (٣)
- ٢- يقع حصن الباستيل في دولة يمثلها على الخريطة رقم (٤) .
- ٣- دولة هاجمت ميناء بيرل هاربر ودمرت الأسطول الأمريكي يمثلها على الخريطة رقم (١) .
- ٤- الدولة التي يقع فيها المقر الرسمي للأمم المتحدة يمثلها على الخريطة رقم (٦) .

السؤال الثاني (اختياري) ويتكون من (أ ، ب ، ج) :-

(أ) علل لما يلي :-

١- ظهور الخلافات بين الملك جيمس الثاني والبرلمان الإنجليزي. صفحة ٧٣ ثلاثة درجات

* الكاثوليكية

* الحكم المطلق.


* التعاون مع لويس الرابع عشر ملك فرنسا.

٢- دخول الولايات المتحدة الحرب عام ١٩١٧م ضد ألمانيا. ص ١٠٠ (يكتفى بوحدة)

* بسبب مهاجمة الغواصات الألمانية السفن التجارية الأمريكية.

٣- تقارب فرنسا وبريطانيا في الاتفاق الودي عام ١٩٠٤م. ص ٩٧ (يكتفى بوحدة)

* ليكنورها بالخطر من هيمن ألمانيا الاقتصادية والاقتصادي ونمو قوتها البحرية مما يهدد سيادتها.



(ب) قارن بين كل من :-

أوجه المقارنة	الخاكم في المستعمرات الهندية الإنجليزية ص ٧٧	المجلس النيابي في المستعمرات الانجليزية ص ٧٧
المهام	* المشغول الأول عن رعاية شؤون الولاية والمحافظة على الأمن ويعين ويعزل عن خلال الملك الإنجليزي فقط. (درجة)	* يقوم بسن القوانين والضرائب ومراقبة الموظفين في الولاية. (درجة)
أوجه المقارنة	الشيوعية ص ١٠٦	النازية ص ١٠٧
المبادئ	* سيطرة الدولة على جميع مصادر الثروة ووسائل الإنتاج. * إلغاء الملكية الخاصة وإشراف الدولة على التخطيط الاقتصادي. * تحقيق العدالة الاجتماعية بين أفراد الشعب. * محو الفوارق بين القوميات في روسيا. (يكتفى بنقطتين)	* نفوق العنصر البشري الجرمانى (الألماني) على جميع العناصر البشرية. * قيام ألمانيا الكبرى التي تضم كل الألمان. * امتلاك الدولة للشركات الاحتكارية. * إلغاء معاهدة فرساي. * استعادة المستعمرات الألمانية. (يكتفى بنقطتين)

(ج) عرف المفاهيم التالية :- (درجتان كل نقطة درجة)

١- حزب اليعاقبة : ص ٩١ (درجة)

* حزب من المتطرفين المعروفين بعدائهم الشديد للملكية في فرنسا.

٢- الاتفاقات الدولية : ٩٧ (درجة)

* تشريعات يتفق عليها دوليا وهي مقننة تلتزم الدول المشتركة بها.

السؤال الثالث (اختياري) يتكون من (أ ، ب ، ج) :-

(أ) اقرأ الفقرة التالية ثم أجب عما يليها من أسئلة :- ص ٧٩ (٤ درجات كل نقطة درجة)

" ارتفعت الصيحات من جميع أنحاء البلاد ضد القوانين الجديدة بقيادة الزعيم الأمريكي (صامونيل أدامز) وتركز تصيحات الغضب في مدينة بوسطن ، فلجأ الأمريكيون لسلاح المقاطعة التجارية مما كبد إنجلترا خسائر فادحة فأصدرت الحكومة الإنجليزية قراراً بإلغاء جميع الضرائب الجديدة (سيئة السمعة) ما عدا ضريبة الشاي "

- (درجة)**
- ١- استخرج من الفقرة النتيجة المترتبة على مقاطعة الأمريكيان البضائع الإنجليزية.
* أصاب إنجلترا خسائر اقتصادية فادحة حيث تراجعت صادرات إنجلترا للمستعمرات إلى النصف وتراجع البرلمان الإنجليزي عن تلك الضرائب التي أثارت الشعب الأمريكي .
 - ٢- استنتج سبب إلغاء الحكومة الإنجليزية للقوانين سيئة السمعة ما عدا ضريبة الشاي . (درجة)
* ليبقى حتى البرلمان الإنجليزي في فرض الضرائب على المستعمرات قائماً .
 - ٣- عدل القرارات التي اتخذها البرلمان الإنجليزي لمعاقبة ميناء بوسطن . (يكتفى بنقطتين)
* إغلاق ميناء بوسطن حتى يتم دفع ثمن الشاي . * تعيين الجنرال جيدج حاكماً عسكرياً على بوسطن .
* منع الاجتماعات إلا بأذن من السلطات العسكرية الإنجليزية .
- (ب) عدد كل مما يلي :- (٤ درجات كل نقطة درجة)**

- ١- أجهزة الأمم المتحدة .
* الجمعية العامة (العمومية)
* محكمة العدل الدولية .
* الأمانة العامة .
- ٢- بنود مؤتمر صلح فرساي عام ١٩١٩ (يكتفى بنقطتين)
* تفكك إمبراطوريات عريقة مثل (الألمانية / النمسا / الروسية / الدولة العثمانية) وظهور دول قومية جديدة في أوروبا مثل (بولندا / تشيكوسلوفاكيا / يوغسلافيا / المجر) . * أن تتحمل ألمانيا مسؤولية الحرب حيث فرضت عليها دفع تعويضات مالية كبيرة للجلاء . * تخفيض عدد الجيش الألماني ومنع ألمانيا من تصنيع أو اقتناء الأسلحة العسكرية .
* اقتطاع أجزاء من ألمانيا وضمها لدول أخرى . * وضع إقليم السايكس تحت الإدارة الدولية .

(ج) فند كل مما يلي :- (٥ درجات كل نقطة درجة)

- ١- لم تلعب الجمعية الوطنية دوراً في الإصلاحات الفرنسية . ص ١١٨ (يكتفى بنقطة واحدة)
* إصدار وثيقة الحقوق الفرنسية ودستور ١٧٩١ م .
* قسمت فرنسا إلى محافظات جغرافية وليس على أساس طبقي .
* ألغت النظام القضائي القديم وأصبح منصب القاضي انتخابياً .
* وزعت الضرائب على أساس التساوي بين جميع الأفراد طبقاً لدخل الفرد .
* صدور قرار بمصادرة أملاك الكنيسة .

٢- لم يؤثر انهيار سوق الأوراق المالية عام ١٩٢٩ م على التجارة الخارجية والإنتاج العالمي . ص ١٠٥

* أغلقت المصانع . * وانتشرت البطالة . * وانهارت البنوك والمؤسسات . (يكتفى بنقطتين)

السؤال الرابع (اختياري) يتكون من (أ ، ب ، ج) :-

(أ) فسر كلاً مما يلي :- (٤ درجات كل نقطة درجة) اصنوه

- ١- لقبث الثورة الفرنسية بالنموذج الشامل للثورة (٨٣ يكتفى بنقطتين) * أعطت مفاهيم جديدة للعالم . * وضعت في حيز التنفيذ مبادئ عامة كانت قبلها مجرد نظريات / غيرت الثورة وشملت التمييز جميع مناحي الحياة الفرنسية لم يكن التمييز عجز عصابة الأمم من حل بعض المشكلات المهمة . ص ١٠٤ (درجة) قاصراً على فرنسا وأوروبا
- ٢- * بسبب عدم التزام الدول الكبرى بميثاق العصبة * لم يكن للعصبة قوة عسكرية قادرة على تنفيذ قراراتها
- ٣- انسحاب روسيا من الحرب العالمية الأولى عام ١٩١٧ م . ص ١٠١ (درجة) * بسبب قيام الثورة الشيوعية .



(ب) فرق بين كل مما يلي :- (٤ درجات كل نقطة درجة)

الفلو ص ١١٨	اليونسكو ص ١١٨
* هي منظمة الأمم المتحدة للتربية والعلوم والثقافة * تقوم بتعزيز التعاون الدولي في مجالات التربية والثقافة والعلوم والثقافة لتطويرها وتحقيق قدر أكبر من التفاهم بين الأمم . (درجة)	* هي منظمة الأمم المتحدة للتربية والعلوم والثقافة * تقوم بتعزيز التعاون الدولي في مجالات التربية والثقافة والعلوم والثقافة لتطويرها وتحقيق قدر أكبر من التفاهم بين الأمم . (درجة)
النتائج العلمية للحرب العالمية الثانية ص ١١٤	النتائج البشرية للحرب العالمية الثانية ص ١١٤
* كانت احتياجات الحرب دافعا للتطور العلمي التقني في مجال الأسلحة والمواصلات بأنواعها والطب والطباعة ووسائل الاتصالات . (درجة)	* سقوط ٥٠ مليون قتيل وشرذ الملايين في أوروبا واليابان وعم الخراب والدمار معظم أنحاء العالم وبرزت مشكلة المشوهين والمعاقين وانتشار ممارسة العنف . (درجة) يكتفى بنقطتين

(ج) أذكر لكل من :- (٤ درجات كل نقطة درجة)

- ١- قرارات اجتماع الكونجرس الأول سنة ١٧٧٤ م . ص ٨٠ (يكتفى بثلاث نقاط) * عدم الرضوخ للقوانين الجائرة التي أصدرتها إنجلترا ضد ميناء بوسطن * وجهوا طلبا من الشعب الأمريكي للملك الإنجليزي بإلغاء تلك القوانين الجائرة . * إعادة سلاح المقاطعة التجارية للبضائع الإنجليزية وتشكيل لجان في كل المدن لتنظيم عملية المقاطعة والإشراف عليها .
- ٢- أوجه الشبه بين معركة ستالينجراد والعلمين ص ١١١ (يكتفى بنقطتين) * هزيمة ألمانيا في كلا المعركتين . * وقعت المعركتين في عام ١٩٤٢ م . * كلاهما في الحرب العالمية الثانية .

السؤال الخامس (اختياري) يتكون من (أ ، ب ، ج) :-

(أ) دلل على صحة العبارات التالية :- (٥ درجات كل نقطة بدرجة)

١- يعتبر العامل الاقتصادي أحد عوامل قيام الثورة الفرنسية . ص ٨٦ (يكتفى بنقطتين)

* الخسائر الكبيرة التي ترتبت على الحروب الخاسرة التي خاضتها فرنسا خلال القرن الثامن عشر أدت إلي استنزاف كثير من أموال الخزانة الفرنسية ، وفقد الفرنسيون الكثير من المستعمرات التي كانت تدر دخلا كبيرا لاسيما تلك المستعمرات الفرنسية في أمريكا الشمالية والهند . * اشترك فرنسي في حرب الاستقلال الأمريكية نتجه عنه تحمل الخزانة الفرنسية أموال طائلة أجهزت على خزينة الدولة وأصبحت فرنسا على شفا الإفلاس .

* سياسة الامتيازات والإعفاءات الضريبية حيث كانت الطبقة الممتازة التي تملك الثروة معفاة من جميع أنواع الضرائب وكذلك الكنيسة مما حرماها من مصدر كبير من المال . * حياة الترف والبذخ التي كان يعيشها البلاط الفرنسي في الوقت نفسه كان الشعب يئن تحت وطأة المجاعة والفقر والحرمان وارتفاع الأسعار والبطالة .

٢- اختللت الحرب العالمية الثانية عن غيرها من الحروب . ص ١١٣+١١٤ (يكتفى بثلاث نقاط)

* حرب عالمية شملت معظم دول العالم بالاشتراك أو بالتحالف مع الدول . * تسخير الطاقات البشرية : حيث سخرت دول المحور أسرى الحروب للعمل في المصانع والحقول ودفع الحلفاء بالإناث للعمل في هذا المجال بدل الرجال وفتحت الولايات المتحدة باب الهجرة للمهاجرين من دول المحور بينما تبنى الحلفاء العصر الذري الذي تنادي بالمساواة وحقوق الإنسان . * تنافس صناعي : سخرت جميع الدول المشتركة في الحرب مواردها لتطوير أسلحة جديدة ومعدات قتالية متطورة بهدف تطوير الإنتاج الصناعي الحربي وتطوير الاقتصاد .

* سباق تسليح تكنولوجي : تطور أساليب القتال والعمليات باستخدامت التكنولوجيا في الأرض والجو والبحر فكان الدمار أكبر وشمل جميع المجالات .

(ب) نفذ المطلوب منك بين القوسين :- (٤ درجات كل نقطة بدرجة)

١- نابليون بوناپرت . (إصلاح التعليم) ص ٩٣ (يكتفى بنقطتين)

* العمل على مجانية التعليم للفقر إعراض التعليم الثانوي .

* وضع مشروع لتنظيم التعليم . * أتاح للطبقات الفقيرة إمكانية التعليم .

٢- ملامح عالما المعاصر . (أذكرها) ص ١١٥ (يكتفى بنقطتين)

* اليابان قوة اقتصادية عظيمة . * الصين دولة كبرى مستقلة عن الكتلتين . * مأوسى تونج دولة نامية ومتخلفة اقتصاديا واجتماعيا . * زيادة سكانية هائلة . * تقدم علمي و انفجار سكاني . * فجوة علمية اقتصادية بين الدول المتقدمة والنامية . * تقدم أوروبا في كافة المجالات . * الولايات المتحدة زعيمة للكتلة الغربية الأسمايلية ثم القوة العظمى . * هيئة الأمم المتحدة لحفظ السلام والأمن والتعاون بين دول العالم .

(ج) ما النتائج المترتبة على الأحداث التالية :- (٤ درجات كل نقطة بدرجة)

١- الحرب العالمية الأولى . ص ١٠٢ الاكتفاء بنقطتين

* تركت الحرب دماراً هائلاً . * تسببت في خسائر مادية وبشرية .

* سقط ملايين الجرحى والقتلى . * الركود الاقتصادي . * تغيرت خريطة أوروبا السياسية .

٢- معركة فالمي . ص ٨٢ (يكتفى بنقطتين) ص ٩٠

* أنقذت أفكار الثورة الفرنسية من الضياع . * حالت دون وقوع باريس . * أصبح مصدر رعب للدول الأوروبية .

* رفعت الروح المعنوية للفرنسيين . * تحول جيش الثورة بعدها من الدفاع إلى الهجوم .

* أصبح مصدر رعب للدول الأوروبية .



وزارة التربية

التوجيه الفني العام للاجتماعيات

امتحان الدور الثاني (الفترة الدراسية الثانية) العام الدراسي: ٢٠١٧ - ٢٠١٨ م

الزمن : ساعتان وربع
عدد الأوراق : (٦) أوراق

لمادة تاريخ العالم الحديث والمعاصر
للمصف الثاني عشر الأدبي

أجب عن أربعة أسئلة مما يأتي على أن يكون السؤال الاول من بينهما إجبارياً :

السؤال الاول (إجباري) يتكون من (أ - ب - ج - د) :

(أ) - ضع خطاً تحت الخيار الصحيح من بين الخيارات التي تلي كل عبارة :-

١- صاحب نظرية السيادة الشعبية:

أ- جون لوك ب- فولتير ج- روسو د- منتيسكيو

٢- زعيم النظام الفاشي في إيطاليا :

أ- هتلر ب- موسوليني ج- فرانكو د- ستالين

٣- تأسست المستعمرة الإنجليزية جيمس تون عام :

أ- ١٦٠٧ م ب- ١٦٠٨ م ج- ١٦٠٩ م د- ١٦١٠ م

٤- دولة انتهكت حياد البلجيك فأعلنت بريطانيا الحرب عليها :

أ- إيطاليا ب- ألمانيا ج- الدولة العثمانية د- النمسا

٥- عدد الدول التي تتمتع بحق الفيتو في مجلس الأمن :-

أ- ٥ دول ب- ١٠ دول ج- ١٥ دولة د- ٢٠ دولة

(ب) - أكمل العبارات التالية بما يناسبها فيما درست :-

١- المدينة التي بدأ فيها الصدام المسلح بين السكان الأمريكيون والقوات الانجليزية عام ١٧٧٥ م

اسمها

٢- العام الذي انتصر فيه الفرنسيون في معركة فالمي

٣- فترة الانتقال من عهد الاضطرابات والثورات إلى عهد الحكم الديكتاتوري في فرنسا

اسمها

٤- عرفت المرحلة الثانية من الحرب العالمية الأولى باسم

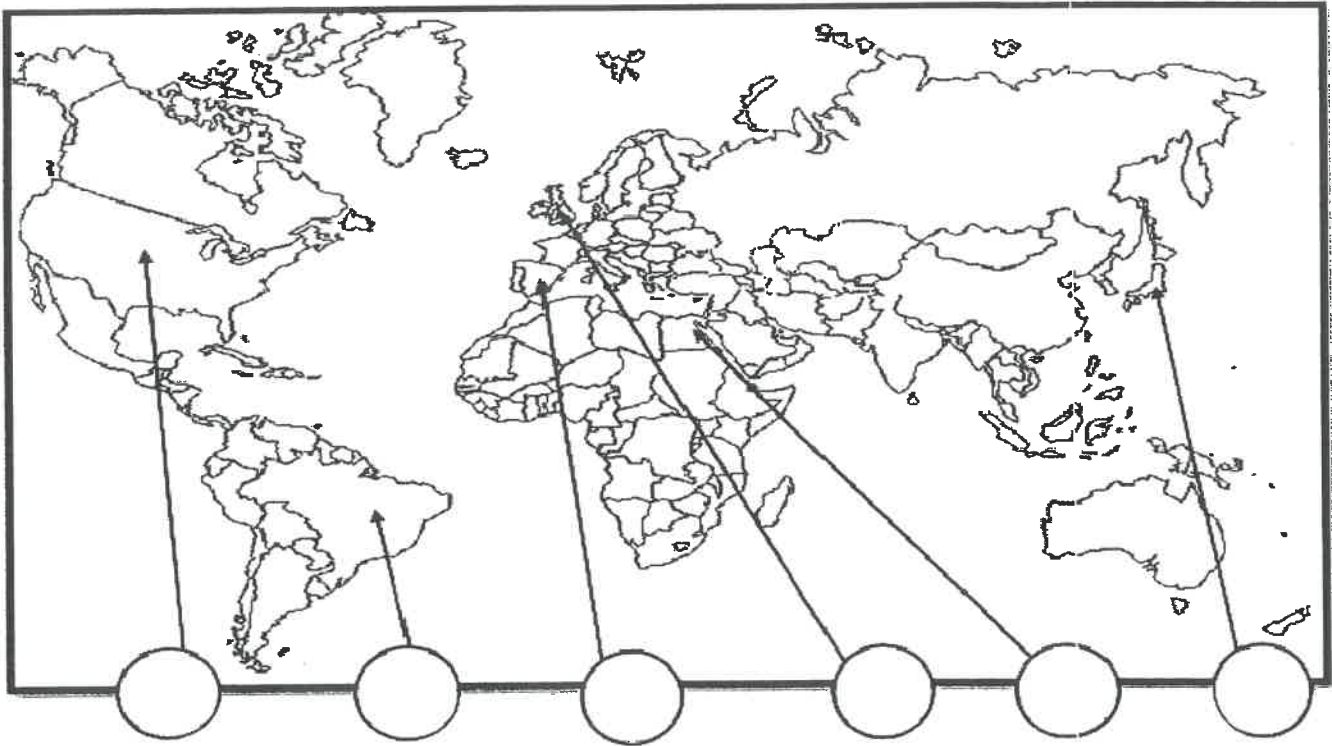
٥- زعيم النظام الديكتاتوري في تركيا اسمه

تابع السؤال الأول (إجباريا) :

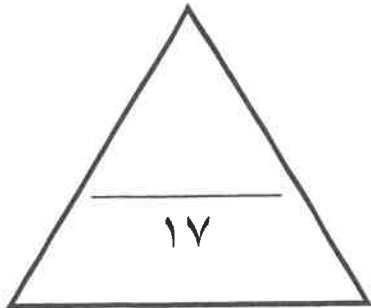
(ج)- اكتب المفاهيم أو المصطلحات الدالة على العبارات التالية:-

- ١- (.....) كنيسة تعتنق المذهب البروتستانتي المعادي للمذهب الكاثوليكي.
- ٢- (.....) قانون انجليزي فرض على المستندات التجارية وعقود البيع الأمريكية.
- ٣- (.....) اتفاق تم بين كل من فرنسا وبريطانيا عام ١٩٠٤ م .
- ٤- (.....) تشريعات يتفق عليها دوليا وهي مقننة تلتزم الدول المشتركة بها .
- ٥- (.....) مجلس يضم نواب الطبقتين الوسطى والزراعية والوسطى في المدن البرجوازية وينتخبهم الشعب .

(د)- أمامك خريطة العالم اكتب الرقم الدال على العبارات التالية في الدائرة المناسبة لها :



- ١- دولة ظهر منها صاحب نظرية السيادة الشعبية .
- ٢- ثورة انتشرت أفكارها بين سكان أمريكا الجنوبية .
- ٣- معركة العلمين .
- ٤- النظام الديكتاتوري بزعامة فرانكو .



السؤال الثاني :- (اختياري) ويتكون من (أ - ب - ج)

(أ) - علل لكل مما يلي :-

١- لم تدم عصبة الأباطرة طويلاً .

.....

٢- تعتبر العوامل الاقتصادية من أسباب قيام الثورة الفرنسية .

.....

.....

(ب) - كون فقرة باستخدام الكلمات التالية :-

(قصر التويلري - فرنسا - مدينة فاران - هروب لويس السادس عشر)

.....

.....

.....

(ج) - اكتب مما درست فيما يلي :-

١- قرارات الكونجرس الأول ١٧٧٤م .

.....

.....

٢- المرحلة الثالثة في الحرب العالمية الأولى .

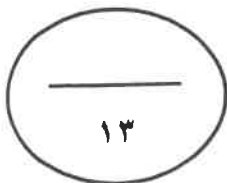
.....

.....

٣- أهداف هيئة الأمم المتحدة .

.....

.....



السؤال الثالث : (اختياري) ويتكون من (أ - ب - ج) :-

(أ)- عرف ما يلي :-

١-علاقات دولية :

٢- إعلان بلننتز:.....

(ب)-قارن بين كل مما يلي حسب الجدول التالي :-

أوجه المقارنة	معركة ساراتوجا	معركة ريفولي
العام	م.....	م.....
النتائج	-	-
	-	-

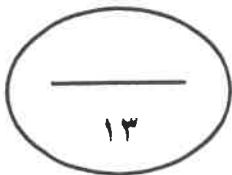
(ج)- فند العبارات التالية :

١- شهد العالم وحدة سياسية وعسكرية بعد اجتياح هتلر لبولندا ١٩٣٩ م .

..... -
..... -

٢- لم يترتب علي الحرب العالمية الثانية نتائج بشرية .

..... -
..... -
..... -



السؤال الرابع :- (اختياري) ويتكون من (أ - ب - ج) :-

(أ) - فسر لكل مما يلي :-

١ - قيام الثورة الأمريكية .

..... -

..... -

٢ - فشل عصبة الأمم كمنظمة دولية .

..... -

..... -

٣ - انقسام العالم سياسيا في أواخر القرن ١٩ .

..... -

..... -

..... -

(ب) - فرق بين كل مما يلي حسب الجدول التالي :

المارن الأولى	المارن الثانية
.....--
.....--

(ج) - ماذا يحدث لو لم :-

١ - تعقد محكمة الثورة في فرنسا ١٧٩٣ م .

.....-

٢ - ينجح هتلر في الوصول للحكم ١٩٣٤ م .

.....-

السؤال الخامس : (اختياري) ويتكون من (أ - ب - ج) :-

(أ) - عدد لكل مما يلي :-

١- لائحة الحقوق الإنجليزية .

.....-

.....-

٢- ملامح عالمنا المعاصر.

.....-

.....-

.....-

(ب) - اكتب النتائج المترتبة على ما يلي:

١- حرب السنين السبع علي سكان المستعمرات .

.....-

.....-

٢- سقوط حصن الباستيل عام ١٧٨٩ م .

.....-

.....-

(ج) - نفذ المطلوب منك بين الأقواس :

١- القارة الأوربية محور العلاقات الدولية . (الأسباب)

.....-

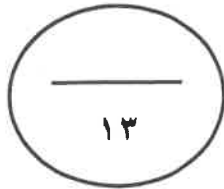
.....-

٢- الشيوعية في روسيا . (المبادئ)

.....-

.....-

انتهت الأسئلة مع تمنياتنا لكم بالتوفيق





وزارة التربية

التوجيه العام للاجتماعيات

نموذج إجابة

امتحان الدور الثاني (الفترة الدراسية الثانية) العام الدراسي: ٢٠١٧ - ٢٠١٨ م

الزمن : ساعتان وربع

عدد الأوراق: (٦) أوراق

لمادة تاريخ العالم الحديث والمعاصر

للمصف الثاني عشر الأدبي

أجب عن أربعة أسئلة مما يأتي على أن يكون السؤال الاول من بينهما اجبارياً :-

السؤال الاول (إجباري) يتكون من (أ - ب - ج - د)

(أ) ضع خطا تحت الخيار الصحيح من بين الخيارات التي تلي كل عبارة :- (درجة لكل نقطة) ٥ درجات

١- صاحب نظرية السيادة الشعبية: ص ٧٦

أ- جون لوك ب- فولتير ج- روسو د- منتيسكيو

٢- زعيم النظام الفاشي في إيطاليا : ص ١٠٨

أ- هتلر ب- موسوليني ج- فرانكو د- ستالين

٣- تأسست المستعمرة الإنجليزية جيمس تومسون السرية في ١١ كانون الثاني عام ١٦٠٧ م

ب- ١٦٠٨ م

د- ١٦١٠ م

٤- دولة انتهكت حياد البلجيك فأعلنت بريطانيا الحرب عليها: ص ١٠٠

أ- إيطاليا ب- ألمانيا ج- النمسا

٥- عدد الدول التي تتمتع بحق الفيتو في مجلس الأمن :- ص ١١٧

أ- ٥ دول ب- ١٠ دول ج- ١٥ دولة د- ٢٠ دولة

(ب) أكمل العبارات التالية بما يناسبها فيما درست :- (درجة لكل نقطة) ٥ درجات

١- المدينة التي بدأ فيها الصدام المسلح بين سكان الأمريكيين والقوات الانجليزية عام ١٧٧٥ م اسمها لكنجستون ص ٨٠

٢- العام الذي انتصر فيه الفرنسيون في معركة فالمي ١٧٩٢ م ص ٩٠

٣- فترة الانتقال من عهد الاضطرابات والثورات إلى عهد الحكم الديكتاتوري في فرنسا اسمها حكومة الإدارة ص ٩٢ .

٤- عرفت المرحلة الثانية من الحرب العالمية الأولى باسم حرب الخنادق ص ١٠١

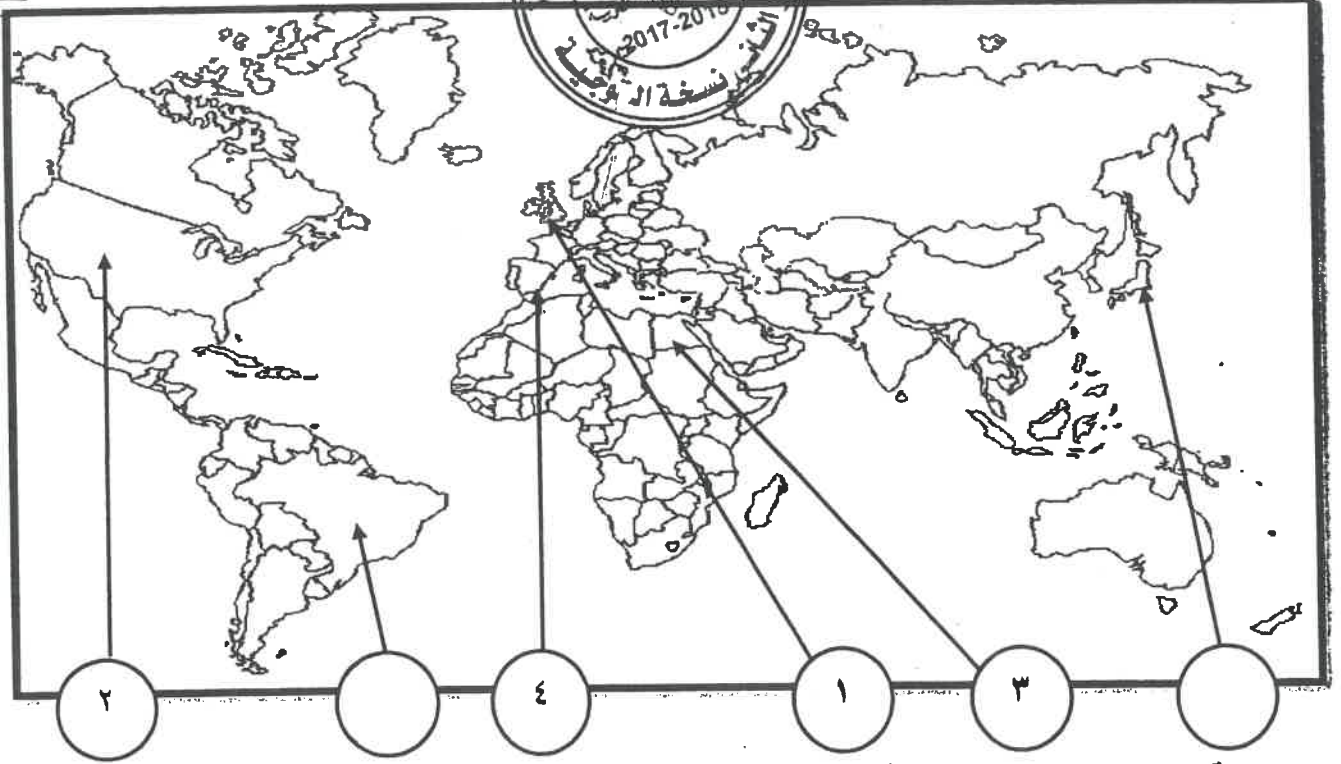
٥- زعيم النظام الديكتاتوري في تركيا اسمه كمال أتاتورك ص ١٠٨

تابع السؤال الأول (إجباريا) :

(ج) اكتب المفاهيم أو المصطلحات الدالة على العبارات التالية:- (درجة لكل نقطة) (٥ درجات)

- ١- (الكنيسة الأنجليكانية) كنيسة تعتنق المذهب البروتستانتي المعادي للمذهب الكاثوليكي. ص ٧٣
- ٢- (قانون التمغة) قانون انجليزي فرض على المستندات التجارية وعقود البيع الأمريكية. ص ٧٨
- ٣- (الاتفاق الودي) اتفاق تم بين كل من فرنسا وبريطانيا عام ١٩٠٤ م . ص ٩٨
- ٤- (الاتفاقات الدولية) تشريعات يتفق عليها دوليا وهي مقننة تلتزم الدول المشتركة بها. ص ٩٧
- ٥- (مجلس العموم) مجلس يضم نواب الطبقتين الوسطى الزراعية والوسطى في المدن البرجوازية وينتخبهم الشعب. ص ٧٥

(د) - أمامك خريطة العالم أكتب الرقم الدال على المكان المناسب في الدائرة المناسبة لها : إدرجتان لكل نقطة
لكل نقطة نصف درجة



- ١- دولة ظهر منها صاحب نظرية السيادة الشعبية . ص ٧٦
- ٢- ثورة انتشرت أفكارها بين سكان أمريكا الجنوبية . ص ٨٣
- ٣- معركة العلمين . ص ١١١
- ٤- النظام الديكتاتوري بزعامة فرانكو . ص ١٠٨

السؤال الثاني :- (اختياري) ويتكون من (أ - ب - ج)

(أ) علل لكل مما يلي :- (٤ درجات لكل نقطة درجة)

(١) لم تدم عصبة الأباطرة طويلا . ص ٩٧

- خروج روسيا لخلافها مع النمسا عام ١٨٧٨ م

(٢) تعتبر العوامل الاقتصادية من أسباب قيام الثورة الفرنسية . ص ٨٦ (يكتفى بثلاث نقاط)

- الخسائر الكبيرة التي ترتبت علي الحروب الخاسرة التي خاضتها فرنسا أدت إلي استنزاف كثير من أموالها، وفقد الفرنسيون الكثير من المستعمرات التي كانت تدر دخلا كبير - اشتراك فرنسا في حرب الاستقلال الأمريكية - سياسة الامتيازات والإعفاءات الضريبية التي كانت فرنسا تطبقها - حياة الترف والبدخ التي كان يعيشها البلاط الفرنسي في الوقت الذي عاش الشعب الفرنسي الفقر الحرمان والمجاعة.

(ب) كون فقرة باستخدام الكلمات التالية :- (٣ درجات) ص ٨٩ (أو أي فقرة مناسبة تحتوي الكلمات)

(قصر التويلري - مدينة فاران - فرنسا - هروب لويس السادس عشر)

دبر الملك لويس السادس عشر خطة للفرار من فرنسا مع زوجته ونجح في البداية ووصل إلي مدينة فاران حيث اكتشفت شخصيته فاعتقل هناك وأعيد إلي باريس فأصبح الملك سجين قصر التويلري .

(ج) اكتب مما درست فيما يلي : (٦ درجات لكل نقطة درجة) لكل

١- قرارات الكونجرس الأول ١٧٧٤م ص ٨٠

- عدم الرضوخ للقوانين الجائرة التي أصدرتها إنجلترا -

الإنجليزي بإلغاء القوانين الجائرة - إعادة سلاح المقاطعة من الشعب الأمريكي للبضائع الإنجليزية

٢ - المرحلة الثالثة في الحرب العالمية الأولى ص ١٠١

-انسحاب روسيا من الحرب ١٩١٧ . - دخول الولايات المتحدة الحرب إلي جانب الحلفاء

هزيمة ألمانيا في معركة المارن الثانية ١٩١٨ م - انتهاء الحرب.

٣- أهداف هيئة الأمم المتحدة ص ١١٦

- المحافظة علي السلام والأمن الدوليين وحل النزاعات بالطرق السلمية

- تنمية العلاقات الودية بين الدول علي المساواة واحترام حقوق الإنسان

- تحقيق التعاون الدولي في جميع المجالات - تكون الأمم المتحدة أداة للتنسيق بين أعمال الدول

والمنظمات.

السؤال الثالث : (اختياري) ويتكون من (أ - ب - ج) :-

(أ) عرف ما يلي :- (٢ درجة لكل نقطة درجة)

- ١- العلاقات الدولية: الاتصالات بين الدول وبين المنظمات الدولية في جميع المجالات ص ٩٧
- ٢- إعلان بلنتر: إعلان تم بين إمبراطوريتي النمسا وبروسيا عام ١٧٩١م لإنقاذ الملكية الفرنسية. ص ٩٠

(ب) قارن بين كل مما يلي حسب الجدول التالي :- (٦ درجات لكل نقطة درجة)

أوجه المقارنة	معركة ساراتوجا ص ٨٢	معركة ريفولي ص ٩٢
العام	١٧٧٧م	١٧٩٧م
النتائج	- خسر الانجليز جيشا كاملا - سيطر الأمريكيون علي حوض هيدسون - اعتراف فرنسا باستقلال الثوار الأمريكيون ودخولها الحرب إلي جانبهم - زاد تعاطف الشعوب الأوربية مع الثورة الأمريكية	- أجبرت النمسا علي توقيع معاهدة كامبو فروميو - أعطت فرنسا مكاسب كبيرة وحققت للفرنسيين الفخر والعزة .



(ج) فند العبارات التالية : (٥ درجات لكل نقطة درجة)

- ١- شهد العالم وحدة سياسية وعسكرية بعد اجتياح هتلر لبولندا ١٩٣٩م .
- انقسام العالم لمحورين للحلفاء و المحور .
- بداية الحرب العالمية الثانية.
- ٢- لم يترتب علي الحرب العالمية الثانية نتائج بشرية . ص ١١٤ (يكتفي بثلاث درجات)
- سقط حوالي ٥٠ مليون قتيل - شرد الملايين في أوروبا واليابان
- عم الخراب والدمار معظم أنحاء العالم - برزت مشكلة المشوهين والمعاقين
- انتشار ممارسة العنف .

السؤال الرابع :- (اختياري) ويتكون من (أ- ب - ج) :-

(أ) : فسر لكل مما يلي :- [٧ درجات لكل نقطة درجة (يكتفي بنقطتين)

١ - قيام الثورة الأمريكية . ص ٧٨

- تطبيق قوانين الاحتكار التجاري وقوانين الملاحة ١٦٥١-١٦٧٣م والتسلط علي المستعمرات بقوة و حزم .

- فرض ضرائب باهضة جديدة علي المستعمرات (قوانين سيئة السمعة)

٢ - فشل عصبة الأمم كمنظمة دولية . ص ١٠٤ (يكتفي بنقطتين)

- عدم التزام الدول الكبرى بميثاق العصبة عاجزة أمام القضايا الكبرى .



- لم يكن للعصبة قوة عسكرية قادرة علي تنفيذ قراراتها

٣- انقسام العالم سياسيا في أواخر القرن ١٩ ص ٩٧ (يكتفي بثلاث درجات)

- بروز النزعة القومية - تصادم الأيديولوجيات - تضارب المصالح الاقتصادية

- سياسية التوسع للسيطرة علي مناطق مختلفة - سباق التسلح

- (ب) - فرق بين كل مما يلي حسب الجدول التالي : (٤ درجات) ص ١٠١

المارن الأولى	المارن الثانية
- أوقف الحلفاء زحف الألمان على باريس عام ١٩١٤م.	- شن الحلفاء هجوماً معاكساً أدى إلى إنزال الهزيمة بالألمان عام ١٩١٨م.

(ج) ماذا يحدث لو لم :- [درجتان] (ما يراه المصحح)

١- تعقد محكمة الثورة في فرنسا ١٧٩٣م .

- لما قتل الكثير من المواطنين دون محاكمة عادلة . - لما تم توجيه تهمة الخيانة العظمى للمواطنين .

٢- ينجح هتلر في الوصول للحكم ١٩٣٤م . ص ٩١

- لما قامت الحرب العالمية الثانية . - لما تشكل الحزب النازي . - لما ظهرت الدكتاتوريات .

الخامس : (اختياري) ويتكون من (أ - ب - ج) :-

(أ) عدد لكل مما يلي : ٥ درجات

١- لائحة الحقوق الإنجليزية . ص ٧٤ **يكتفى بنقطتين**

- لايجوز للملك ابطال أو تعديل قانون صادر من البرلمان - لا يحق للملك فرض ضرائب جديدة وتشكيل جيش أو إعلان الحرب دون موافقة البرلمان - للبرلمان الحق الكامل في التعبير عن آرائهم بحرية تامة - إعطاء البرلمان المواطنين حصانة حيث لا يمكن اعتقال مواطن دون محاكمة .

٢- ملامح عالما المعاصر . ص ١١٥ **يكتفى بثلاث**

- اليابان قوة اقتصادية عظمي - الصين دولة مستقلة عن الكتلتين - تقدم علمي وانجار معرفي
- زيادة سكانية هائلة - فجوة علمية اقتصادية بين الدول النامية والمتقدمة - مخاوف من حرب نووية واتفاقيات سالت لوقف التسلح - أوروبا تقدم في كافة المجالات تفعيل مشروع مارشال
- الولايات المتحدة زعيمة الكتلة الغربية الرأسمالية ثم القوة الأعظم بعد تفكك الاتحاد السوفيتي
- هيئة الأمم المتحدة لحفظ السلام والأمن والتعاون بين دول العالم العربية ديوان عام الوزارة



(ب) اكتب النتائج المترتبة على ما يلي : ٤ درجات **يكتفى بنقطتين**

١- حرب السنين السبع علي سكان المستعمرات . ص ٧٨
شعورهم بقوتهم الحقيقية - بروز كثير من أبنائهم أمثال جورج واشنطن
- أزال التهديد الخارجي من الفرنسيين نحو المستعمرات - التوسع نحو الغرب دون حدود أو قيود
٢- سقوط سجن الباستيل عام ١٧٨٩م . ص ٨٨
- عمت الفوضى في كل مكان - توقف الفلاحون عن دفع الضرائب - انفض الفلاحون علي قصور النبلاء وأحرقوها وقتلوا منفيها وأحرقوا الوثائق - هجرة النبلاء إلي خارج فرنسا

(ج) نفذ المطلوب منك بين الاقواس : (أربع درجات لكل نقطة درجة) **يكتفى بنقطتين**

١- القارة الأوربية محور العلاقات الدولية . ص ٩٧ (الأسباب)
- مركز الثورة الصناعية - وفرة الموارد والإمكانات الاقتصادية
- النفوذ الاستعماري في جميع القارات - نشوء الإمبراطوريات
٢- الشيوعية في روسيا . ص ١٠٦ (المبادئ)
- سيطرة الدولة على جميع مصادر الثروة ووسائل الانتاج .
- إلغاء الملكية الخاصة وإشراف الدولة على التخطيط الاقتصادي . - تحقيق العدالة الاجتماعية بين أفراد الشعب .
- محو الفوارق بين القوميات في روسيا .



وزارة التربية

امتحان نهاية الفترة الدراسية الثانية

العام الدراسي : ٢٠١٦ / ٢٠١٧ م

التوجيه الفني العام للاجتماعيات

للفيف الثاني عشر الأدبي

الزمن : ساعتان

لمادة تاريخ العالم الحديث والمعاصر

عدد الأوراق : ٧ ورقات

أجب عن أربعة أسئلة مما يلي على أن يكون السؤال الأول من بينها إجبارياً:-

السؤال الأول: (إجباري) يتكون من (أ - ب - ج - د):-

(أ) أكمل العبارات التالية بما يناسبها فيما درست :-

- ١- الكنيسة الإنجليزية التي تعتنق المذهب البروتستانتي تسمى
- ٢- العام الذي انتصر فيه سكان المستعمرات في معركة ساراتوجا
- ٣- كاتب ساخر عرف بنقده اللاذع وسخريته الشديدة للأوضاع البالية في فرنسا يسمى
- ٤- جماعة سيطرت على قرارات المؤتمر الوطني ١٧٩٢ م وأشتهرت بعدائها الشديد للملكية تسمى
- ٥- المعركة التي هُزم فيها الألمان على يد الجيش الأحمر عام ١٩٤٢ م تسمى

(ب) أكتب المفاهيم أو المصطلحات الدالة عليها العبارات التالية :-

- ١- (.....) مؤتمر عقد عام ١٩٣٨ م تم بموجبه ضم هتلر لتشيكوسلوفاكيا .
- ٢- (.....) تشريعات يتفق عليها دوليا وهي مقننة تلتزم الدول المشتركة بها .
- ٣- (.....) المجالس المحلية التي أسسها الحزب الشيوعي .
- ٤- (.....) حزمة من الضرائب التي كانت بمثابة الشرارة التي انطلقت منها الثورة الأمريكية.
- ٥- (.....) إعلان تم بين أمبراطوريتي النمسا وبروسيا عام ١٧٩١ م لإنقاذ الملكية الفرنسية.

تابع / السؤال الأول (إجباري) :-

ج) ضع خطأ تحت الخيار الصحيح من بين الخيارات التي تلي كل عبارة :-

١- عدد النواب الذين اجتمعوا عام ١٧٨٧م لوضع دستور يجمع الولايات المتحدة الأمريكية :

(٥٢ نائباً - ٥٣ نائباً - ٥٤ نائباً - ٥٥ نائباً)

٢- المفكر الفرنسي الذي ألف كتاب روح القوانين :

(مونتسكيو - فولتير - جون لوك - روسو)

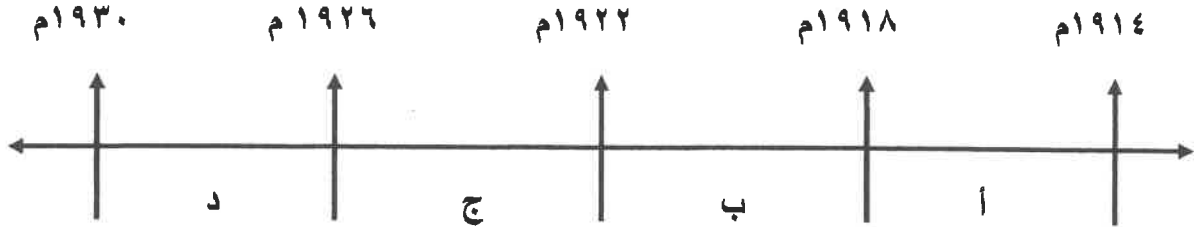
٣- احتل هتلر الراين في عام :

(١٩٣٣م - ١٩٣٤م - ١٩٣٥م - ١٩٣٦م)

٤- المعاهدة التي أعطت لفرنسا العديد من المكاسب عام ١٧٩٧م :

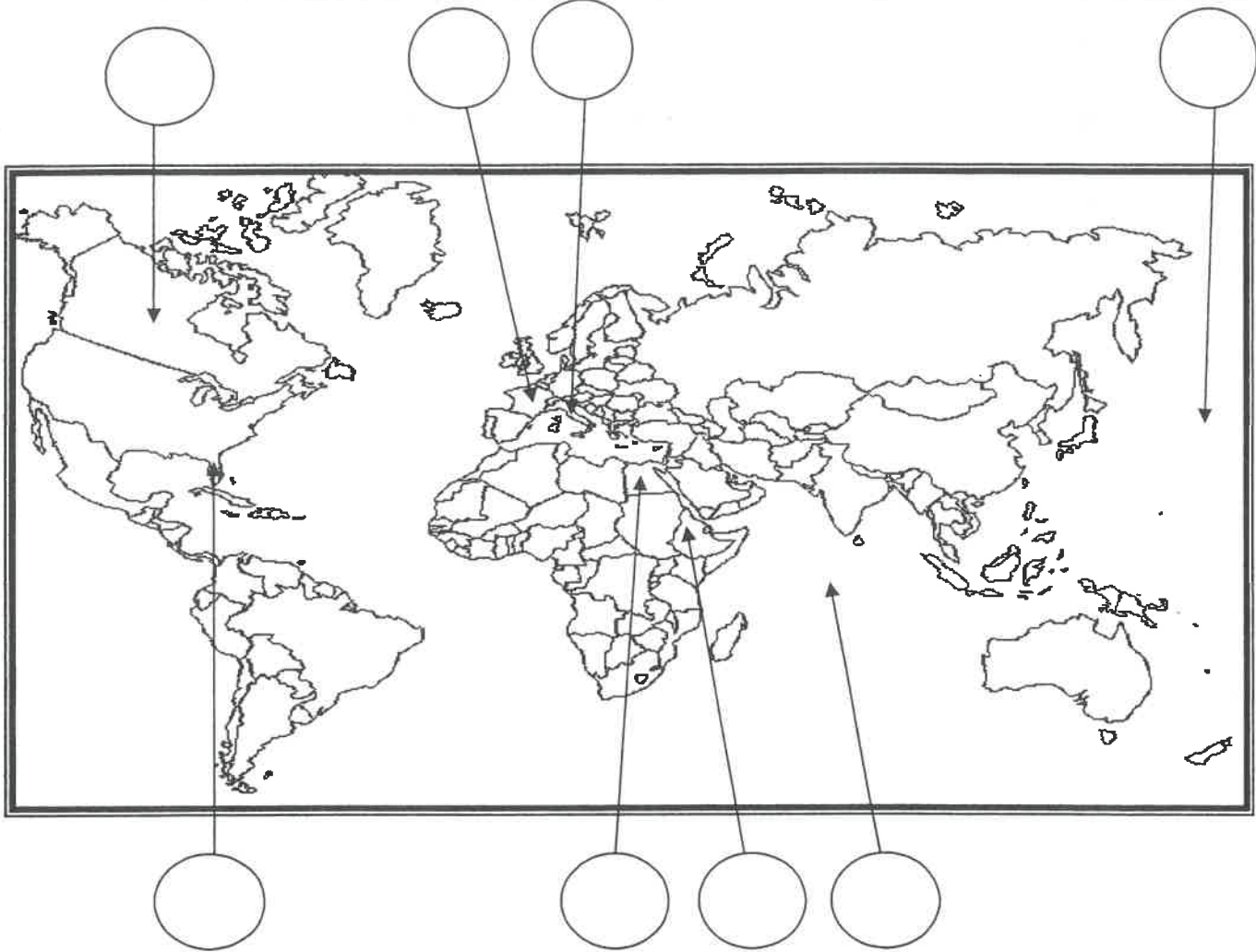
(لوزان - كامبو فروميو - باريس - لندن)

٥- الفترة الزمنية التي تمثل الحرب العالمية الأولى يمثلها على المخطط الزمني الحرف :



تابع / السؤال الأول (إجباري) :-

د) أمامك خريطة العالم - أكتب الرقم الدال على العبارات التالية في الدائرة المناسبة لها :-

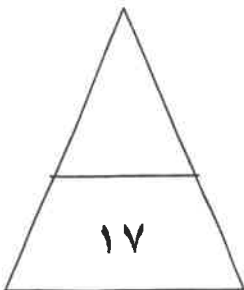


١- دولة شهدت أحداث معركة ريفولي الشهيرة في ١٤ يناير سنة ١٧٩٧م .

٢- مسطح مائي شهد النزاع بين اليابان والولايات المتحدة الأمريكية خلال الحرب العالمية الثانية.

٣- دولة وقعت تحت الإحتلال الإيطالي عام ١٩٣٦م .

٤- المستعمرة الأسبانية في أمريكا الشمالية .



السؤال الثاني : (إختياري) يتكون من (أ ، ب ، ج) :-

أ - علل لما يلي :-

١- تعتبر معركة فالمي من المعارك الفاصلة في التاريخ على الرغم من صغر حجمها .

.....
.....

٢- إصرار البرلمان الإنجليزي على بقاء ضريبة الشاي بالرغم من إلغاء بقية الضرائب .

.....

ب - عرف المفاهيم والمصطلحات التالية :-

١- النظام الجديد :

.....

٢- أيديولوجيه :

.....

٣- المارن :

.....

ج- أذكر النتائج المترتبة على الأحداث التالية :-

١- الثورة الأمريكية .

.....

.....

٢- سقوط حصن الباستيل في فرنسا.

.....

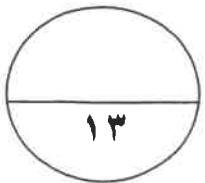
.....

٣- مؤتمرات الصلح التي عقدتها الدول المنتصرة بعد الحرب العالمية الأولى .

.....

.....

.....



السؤال الثالث : (إختياري) يتكون من (أ ، ب ، ج) :-

أ- فند العبارات التالية :-

١- تمتعت الطبقة العامة في فرنسا بالكثير من الإمتيازات قبيل الثورة الفرنسية .

..... -

..... -

٢- أعطت وثيقة الحقوق الإنجليزية العديد من الصلاحيات للملك الإنجليزي .

..... -

..... -

..... -

ب- قارن بين كل من :-

مؤتمر فيلادلفيا الثاني	مؤتمر فيلادلفيا الأول	أوجه المقارنة
.....	السنة
..... - -	القرارات
..... - -	

ج- ماذا يحدث لو لم :-

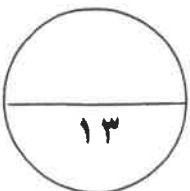
١ - يسقط سوق الأوراق المالية في مدينة نيويورك عام ١٩٢٩م .

..... -

..... -

٢- تهاجم اليابان ميناء بيرل هاربر الأمريكي .

..... -



السؤال الرابع : (إختياري) يتكون من (أ ، ب ، ج) :-

أ- إقرأ الفقرة التالية ثم اجب عما يليها من أسئلة :-

(اجتمع زعماء الدول الكبرى الثلاث (روزفلت - تشرشل - ستالين) في مؤتمر يالطا في الإتحاد السوفيتي عام ١٩٤٥م ودعوا الدول المحبة للسلام لحضور مؤتمر سان فرانسيسكو لإبرام ميثاق الأمم المتحدة ، فقامت (٥٠) دولة بالتوقيع على الميثاق ثم افتتحت هيئة الأمم المتحدة رسمياً في ٢٤ أكتوبر ١٩٤٥م ، وقد نادى بالمحافظة على السلام والأمن الدوليين ، وتحقيق التعاون الدولي في جميع المجالات)

١- عرف ماتحته خط .

هيئة الأمم المتحدة :

٢- أستخرج من الفقرة السابقة هدفين من أهداف الأمم المتحدة .

.....
.....

ب فسر كلاً مما يلي :-

١- استحالة التوافق بين الحاكم والمجلس التشريعي في المستعمرات الإنجليزية في أمريكا الشمالية .

.....
.....

2- فشل عصبة الأمم في تحقيق الغايات التي أنشئت من أجلها.

.....
.....

ج - عدد كلاً مما يلي :-

١- ملامح عالمنا المعاصر .

.....
.....

٢- العوامل الإقتصادية للثورة الفرنسية .

.....
.....

السؤال الخامس : (إختياري) يتكون من (أ ، ب ، ج) :-

أ- فرق بين كل مما يلي :-

السبب المباشر للحرب العالمية الثانية	السبب المباشر للحرب العالمية الأولى
.....
.....

ب- نفذ المطلوب منك بين الأقواس :-

(أوضاع الكنيسة)

١- إصلاحات نابليون الداخلية .

..... -
..... -

(مبادئها)

٢- النازية .

..... -
..... -
..... -

(النتائج البشرية)

٣- الحرب العالمية الثانية

..... -
..... -

ج - أكتب فقرة مترابطة مستعيناً بالكلمات التالية:-

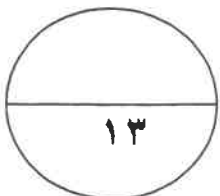
(المجالس النيابية - الحق الإلهي المقدس - مجلس اللوردات - مجلس العموم)

.....
.....
.....

انتهت الأسئلة

مع تمنياتنا لكم بالتوفيق

(٧)





وزارة التربية

التوجيه الفني العام للاجتماعيات

امتحان نهاية الفترة الدراسية الثانية العام الدراسي : ٢٠١٦ / ٢٠١٧ م

للف الثاني عشر الأدبي

الزمن (ساعتان)

لمادة تاريخ العالم الحديث والمعاصر

عدد الأوراق : ٨ ورقات

أجب عن أربعة أسئلة مما يلي على أن يكون السؤال الأول من بينها إجبارياً :-

لكل نقطة درجة

السؤال الأول: (إجباري) يتكون من (أ - ب - ج - د) :-

(أ) أكمل العبارات التالية بما يناسبها فيما درست :-

ص ٧٣



ص ٨٢

ص ٨٥

ص ٩١

ص ١١١

١- الكنيسة الإنجليزية التي تعتنق المذهب البروتستانتي تسمى الانجليكانية.

٢- العام الذي انتصر فيه سكان المستعمرات في معركة ساراتوجا ١٧٧٧ م

٣- كاتب ساخر عرف بنقده اللاذع وسخريته الشديدة للأوضاع البالية في فرنسا يسمى فولتير.

٤- جماعة سيطرت على قرارات المؤتمر الوطني ١٧٩٢ م وأشتهرت بعدائها الشديد للملكية تسمى اليعاقبة

٥- المعركة التي هُزم فيها الألمان على يد الجيش الأحمر عام ١٩٤٢ م تسمى ستالينجراد

ب) أكتب المفاهيم أو المصطلحات الدالة عليها العبارات التالية :- لكل نقطة درجة

ص ١٠٩

١- (مؤتمر ميونخ) مؤتمر عقد عام ١٩٣٨ م تم بموجبه ضم هتلر لتشيكوسلوفاكيا.

ص ٩٧

٢- (الاتفاقيات الدولية) تشريعات يتفق عليها دوليا وهي مقننة تلتزم الدول المشتركة بها.

ص ١٠٦

٣- (السوفييت) المجالس المحلية التي أسسها الحزب الشيوعي.

٤- (القوانين سينة السمعة) حزمة من الضرائب التي كانت بمثابة الشرارة التي انطلقت منها الثورة الأمريكية . ص ٧٨

ص ٩٠

٥- (إعلان بلننتز) إعلان تم بين إمبراطوريتي النمسا وبروسيا عام ١٧٩١ م لإنقاذ الملكية الفرنسية.

تابع / امتحان تاريخ العالم الحديث والمعاصر - الصف الثاني عشر الأدبي - نهاية الفترة الدراسية الثانية - العام الدراسي ٢٠١٦/٢٠١٧م

تابع السؤال الأول (إجباري) :-

ج) ضع خطأ تحت الخيار الصحيح من بين الخيارات التي تلي كل عبارة :- لكل نقطة درجة

١- عدد النواب الذين اجتمعوا عام ١٧٨٧م لوضع دستور يجمع الولايات المتحدة الأمريكية :

(٥٢ نائباً - ٥٣ نائباً - ٥٤ نائباً - ٥٥ نائباً)

٢- المفكر الفرنسي الذي ألف كتاب روح القوانين :

(مونتسكيو - فولتير - جون لوك - روسو)

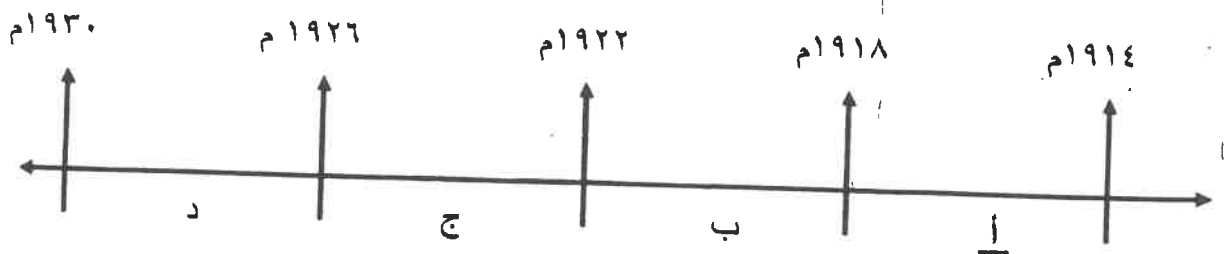
٣- احتل هتلر الراين في عام :

(١٩٣٣م - ١٩٣٤م - ١٩٣٥م - ١٩٣٦م)

٤- المعاهدة التي أعطت لفرنسا العديد من المكاسب عام ١٧٩٧م :

(لوزان - كامبو فروميو - باريس - لندن)

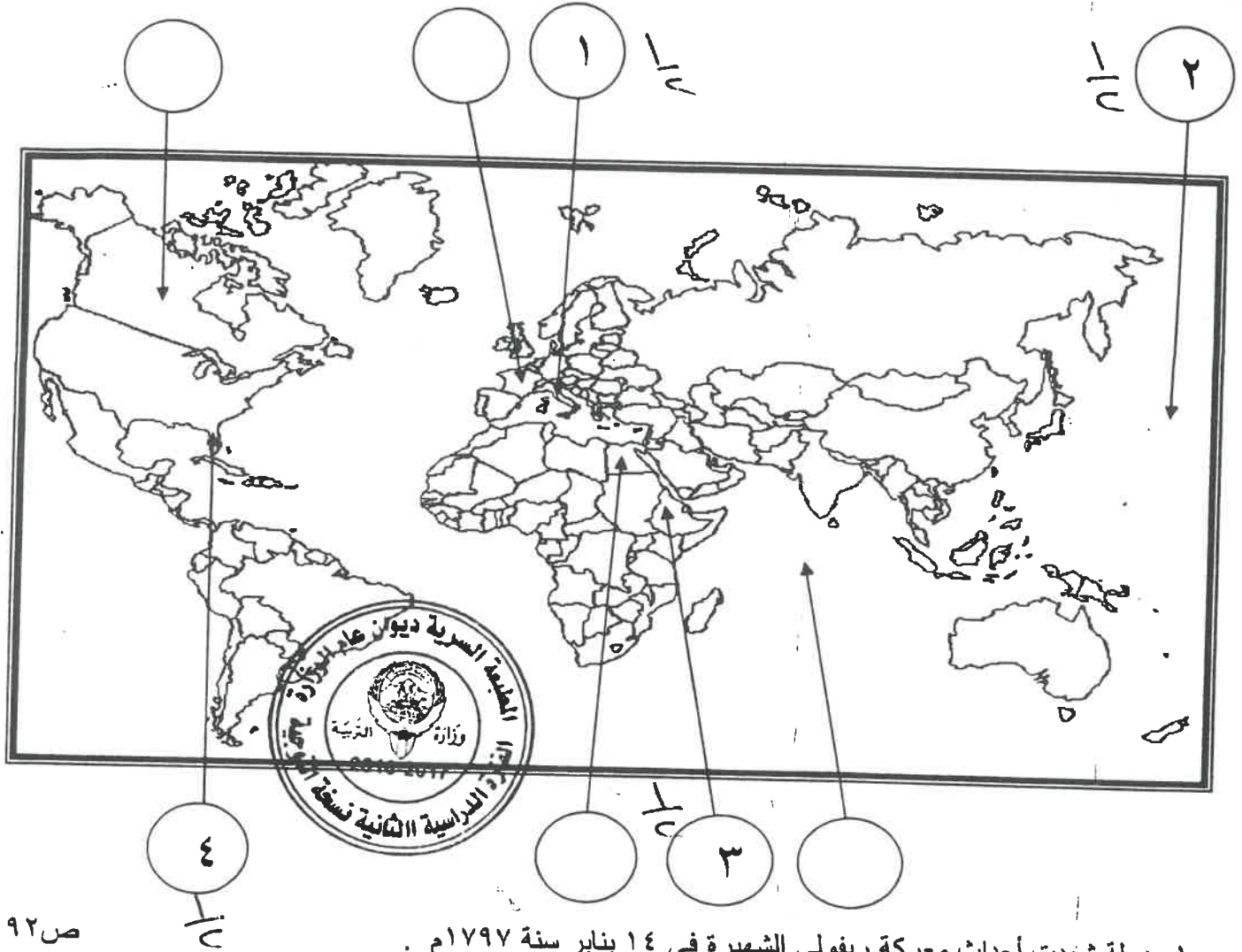
٥- الفترة الزمنية التي تمثل الحرب العالمية الأولى يمثلها على المخطط الزمني الحرف :



نصف درجة لكل نقطة

تابع السؤال الأول (إجباري) :-

د- أمامك خريطة العالم - أكتب الرقم الدال على العبارات التالية في الدائرة المناسبة لها :-



ص ٩٢

١- دولة شهدت أحداث معركة ريفولي الشهيرة في ١٤ يناير سنة ١٧٩٧م .

ص ١١١

٢- مسطح مائي شهد النزاع بين اليابان والولايات المتحدة الأمريكية خلال الحرب العالمية الثانية.

ص ١٠٩

٣- دولة وقعت تحت الإحتلال الإيطالي عام ١٩٣٦م .

ص ٧٧

٤- المستعمرة الأسبانية في أمريكا الشمالية

السؤال الثاني: (اختياري) يتكون من (أ ، ب ، ج)

أ - علل لما يلي :-

(لكل نقطة درجة)

- ١- تعتبر معركة فالمي من المعارك الفاصلة في التاريخ على الرغم من صغر حجمها . - يكتفى ب ٣ نقطه ص ٩٠
- انقذت افكار الثورة الفرنسية من الضياع - حالت دون وقوع باريس - رفعت الروح المعنوية للفرنسيين
- تحول جيش الثورة بعدها من الدفاع إلي الهجوم وأصبح مصدر رعب للدول الأوروبية .

ص ٧٩

(درجة)

يكتفى بنقطة

(٣ درجات لكل نقطة درجة)

- ليبقي حق فرض الضرائب قائما على المستعمرات :-

ب - عرف المفاهيم والمصطلحات التالية :-

- ١- النظام الجديد : مشروع اقتصادي ينسب للرئيس الامريكى روبرت فرانكلين من الخطة القائمة على الدخول في مشاريع كبرى تهدف لتشغيل أكبر عدد من العمال لحل مشكلة البطالة الناتجة عن مشاريع الإنمائية وبهذا خرج على السياسة الاقتصادية التي تسير عليها بلاده من الإقتصاد الرأسمالي إلى الاقتصاد الاشتراكي . ص ١٠٥
٢ - أيديولوجيه : نسق من الآراء والأفكار السياسية والفكرية التي تتناول القضايا الاجتماعية والاقتصادية . ص ٩٧
٣- المارن : نهر في فرنسا كان مسرحاً لمعركتين حاسمتين الحرب العالمية الأولى . ص ١٠١



ج- أذكر النتائج المترتبة على الأحداث التالية :-

ص ٨٣

يكتفى بنقطتين

(درجة ٢)

١- الثورة الأمريكية .

- انتشرت عدواها إلي سكان أمريكا الجنوبية (اللاتينية)

- تشجيع سكان المستعمرات البريطانية في آسيا وأفريقيا على القيام بثورات ضدها كي يتخلصوا من استعمارها .

- صارت الولايات المتحدة ملاذاً لدعاة الفكر من الاوربيين ورمزاً للحرية والتجديد .

- السبب المباشر في قيام الثورة الفرنسية نتيجة للأموال الطائلة التي أنفقتها في الحروب ضد بريطانيا في العالم الجديد .

ص ٨٨

يكتفى بنقطتين

(درجة ٢)

٢- سقوط حصن الباستيل في فرنسا .

- عمت الفوضى في كل مكان . - توقف الفلاحون عن دفع الضرائب .

- انقض الفلاحون على قصور النبلاء واحرقوا الوثائق التي تعطيهم حقوقا إقطاعية .

- هجرة النبلاء إلي خارج فرنسا وسرعان ما أصبح هؤلاء المهاجرون أكبر خطر على الثورة الفرنسية .

ص ١٠٣

يكتفى بنقطتين

٣- مؤتمرات الصلح التي عقدتها الدول المنتصرة في الحرب العالمية الأولى .

- تفكك إمبراطوريات عريقة مثل (الألمانية / النمسا/ الروسية / الدولة العثمانية) وظهور دول قومية جديدة في أوربا

مثل (بولندا / تشيكوسلوفاكيا / يوغسلافيا / المجر)

(٣ درجات)

- أن تتحمل ألمانيا مسؤولية الحرب حيث فرضت عليها دفع تعويضات مالية كبيرة للحلفاء .

- تخفيض عدد الجيش الألماني ومنع ألمانيا من تصنيع أو اقتناء الأسلحة العسكرية .

- اقتطاع اجزاء من ألمانيا وضمها لدول أخرى . - وضع إقليم السار تحت الإدارة الدولي .

السؤال الثالث : (اختياري) يتكون من (أ ، ب ، ج) :-

أ- فند العبارات التالية :-

(لكل نقطة درجة)

١- تمتعت الطبقة العامة في فرنسا بالكثير من الإمتيازات قبيل الثورة الفرنسية (درجتان) يكتفي بنقطتين ص ٨٥
بالعكس من ذلك بل :

- عانت هذه الطبقة من صنوف الظلم والاستعباد.
- استبعدت من جميع الوظائف العليا في الدولة.
- فرضت عليهم جميع أنواع الضرائب .
- عاشت هذه الطبقة في بؤس وشقاء.

٢- اعطت وثيقة الحقوق الإنجليزية العديد من الصلاحيات للملك الإنجليزي. يكتفي بثلاث نقاط ص ٧٤

(ثلاث درجات)

بالعكس من ذلك بل :

انتزعت من الملك الإنجليزي معظم صلاحياته وفقاً لوثيقة الحقوق الإنجليزية حيث جاء فيها :

- لا يجوز للملك إبطال أو تعديل قانون صادر عن البرلمان .
- لا يجوز للملك فرض ضرائب أو تشكيل جيش أو إعلان حرب دون موافقة البرلمان.
- للبرلمان الحق الكامل في التعبير عن آرائهم في حرية تامة .
- أعطي البرلمان حصانة للمواطنين حيث لا يمكن اعتقال مواطن دون محاكمة تجري وفق القوانين .

ب (قارن بين كل من :- (درجات) لكل نقطة درجة ص ٨٠

أوجه المقارنة	مؤتمر فيلادلفيا الأول	مؤتمر فلادلفيا الثاني
السنة	١٧٧٤م $\frac{1}{3}$	١٧٧٥م $\frac{1}{2}$
القرارات	<p>- عدم الرضوخ للقوانين الجائرة التي أصدرتها إنجلترا ضد ميناء بوسطن</p> <p>- وجهوا طلباً من الشعب الأمريكي للملك الإنجليزي بإلغاء تلك القوانين الجائرة</p> <p>- إعادة سلاح المقاطعة التجارية للبضائع الإنجليزية .</p> <p>- تشكيل لجان في كل المدن لتنظيم عملية المقاطعة والإشراف عليها . (يكتفي بنقطتين)</p>	<p>- اعتبار جيش بوسطن جيشاً أمريكياً يخص كل المستعمرات .</p> <p>- تعيين جورج واشنطن قائداً عاماً للقوات ، وبذلك تكون الجيش الوطني الأمريكي الذي سيخوض حرب الاستقلال الأمريكية .</p> <p>(يكتفي بنقطتين)</p>



درجتان

(٥) درجات

تابع السؤال الثالث (اختياري) :-

درجه ازم

ج- ماذا يحدث لو لم :-

ص ١٠٥

يكتفي بنقطتين

١- يسقط سوق الأوراق المالية في مدينة نيويورك عام ١٩٢٩م.

- لما أفلست كثير من البنوك والمؤسسات .
 - لما طالبت البنوك والمؤسسات بديونها من أوروبا .
 - لما أغلقت المصانع وانتشرت البطالة .
 - لما انتشرت آثارها في أنحاء العالم .
 - لما إنخفضت الاسعار في الولايات المتحدة .
 - لما توقفت التطور الاقتصادي الاوروبي .
 - لما إنهار البنوك والمؤسسات الاوروبية .
 - لم تتراجع التجارة الخارجية والإنتاج العالمي .
- (أي إجابة يراها المصحح مناسبة)

ص ١١١

يكتفي بنقطة

(درجة)

٢- تهاجم اليابان ميناء بيرل هاربر الأمريكي .

- لما دخلت الولايات المتحدة الأمريكية الحرب العالمية الثانية .
 - لما القت الولايات المتحدة الأمريكية قنبلتين ذريتين على هيروشيما و نجازاكي .
- (أي إجابة يراها المصحح مناسبة)



السؤال الرابع : (اختياري) يتكون من (أ ، ب ، ج) :-

ص ١١٦

أ- اقرأ الفقرة التالية ثم نفذ المطلوب منك :-

(اجتمع زعماء الدول الكبرى الثلاث (روزفلت - تشرشل - ستالين) في مؤتمر يالطا في الإتحاد السوفيتي عام ١٩٤٥م ودعوا الدول المحبة للسلام لحضور مؤتمر سان فرانسيسكو لإبرام ميثاق الأمم المتحدة ، فقامت (٥٠) دولة بالتوقيع على الميثاق ثم افتتحت هيئة الأمم المتحدة رسمياً في ٢٤ أكتوبر ١٩٤٥م ، وقد نادى بالمحافظة على السلام والأمن الدوليين ، وتحقيق التعاون الدولي في جميع المجالات .)

- ١- عرف ما تحته خط . (هيئة الأمم المتحدة) منظمة عالمية تسعى إلى السلام في العالم .
- ٢- أستخرج من الفقرة السابقة هدفين من أهداف الأمم المتحدة .
- المحافظة على السلام والأمن الدوليين .
- تحقيق التعاون الدولي في جميع المجالات .

يكتفي بنقطتين

(درجتان)

ب فسر كلاً مما يلي :-

١- استحالة التوافق بين الحاكم والمجلس التشريعي في المستعمرات الإنجليزية في أمريكا الشمالية.

درجتان

- إن الحاكم يهمة بالدرجة الأولى مصالح الملك الذي يمثلها بينما المجلس المنتخب (النيابي) يهمة مصالح الشعب الأمريكي في المقام الأول ويدافع عنها بإستقامته.
كانت إنجلترا تنظر للمواطن الأمريكي على أنه مواطن من الدرجة الثانية بينما المجلس (النيابي) لا يرى أن هناك فارق بين المواطن الأمريكي والمواطن الإنجليزي .

درجتان

٢- فشل عصبة الأمم في تحقيق الغايات التي أنشئت من أجلها .
- عدم التزام الدول الكبرى بميثاق العصبة - لم يكن للعصبة قوة عسكرية قادرة على تنفيذ قراراتها فأصبحت أداة لمصلحة الدول لكبرى . - سياسة الدول المنتصرة في الحرب . - لم تشارك الولايات المتحدة في عضويتها .

ج - عدد كلاً مما يلي :-

١- ملامح عالمنا المعاصر .

٣ درجات

- اليابان قوة اقتصادية عظمى
- ظهور دول نامية ومتخلفة اقتصادياً واجتماعياً
- فجوة علمية اقتصادية بين الدول المتقدمة والنامية | - أوروبا تقدم في جميع المجالات .
- مخاوف من حرب نووية واتفاقيات (سالت) لوقف التسلح واستخدام الأسلحة الفتاكة .
- تفعيل مشروع مارشال ثم المجموعة الأوروبية ثم الإتحاد الأوروبي .
- الولايات المتحدة زعيمة الكتلة الغربية الرأسمالية ثم القوة الأعظم بعد تفكك الإتحاد السوفيتي .
- هيئة الأمم المتحدة لحفظ السلام والأمن والتعاون بين دول العالم .
٢- العوامل الاقتصادية للثورة الفرنسية .

٣ درجات

- الخسائر الكبيرة التي ترتبت على الحروب الخاسرة التي خاضتها فرنسا خلال القرن الثامن عشر مما أدى إلى استنزاف كثير من أموال الخزانة الفرنسية وفقدت فرنسا الكثير من المستعمرات .
- اشترك فرنسا في حرب الاستقلال الأمريكية ونتيجة لذلك تحملت الخزانة أموالاً طائلة أجهزت على خزانة الدولة .
- سياسة الامتيازات والاعفاءات الضريبية التي كانت فرنسا تطالب بها كانت الطبقة الممتازة والكنيسة معفاة من جميع الضرائب .
- حياة الترف والبلذخ التي كان يعيشها البلاط الفرنسي .



السؤال الخامس: (اختياري) يتكون من (أ ، ب ، ج) :-

أ- فرق بين كل مما يلي :-

السبب المباشر للحرب العالمية الثانية ص ١١٠	السبب المباشر للحرب العالمية الأولى ص ١٠٠
مفاجئة هتلر للعالم أول سبتمبر ١٩٣٩ باجتياح بولندا ورفضه إنذار بريطانيا وفرنسا فأنقسم العالم إلي معسكرين الحلفاء والمحور وكانت هذه بداية الحرب العالمية الثانية .	قيام طالب صربي باغتيال ولي عهد النمسا فرديناند وزوجته في مدينة سراييفو عاصمة البوسنة في ٢٨ يونيو عام ١٩١٤م وكان هذا الحادث البداية التي أدت إلي قيام الحرب .
درجة ولصنف	درجة ولصنف

ب- نفذ المطلوب منك بين الأقواس :-

١- إصلاحات نابليون الداخلية.

- إصلاح أوضاع الكنيسة : في ١٦ يوليو ١٨٠١م وقع نابليون مع البابا (بيوس السابع) اتفاقاً نهائياً اعترفت فرنسا فيها بالكنيسة الكاثولوكية وسيادتها الروحية وفي المقابل اعترفت البابوية بقوانين صادرة أملاك الكنيسة التي أصدرتها الثورة .

- يتم تعيين رجال الكنيسة بالتعاون بين البابوية والدولة الفرنسية .

٢- النازية .
يكتفي ب٣ نقاط ص ١٠٧ (مبادئها)

- تفوق العنصر البشري الجرمانى (الألماني) على جميع العناصر البشرية .

- قيام ألمانيا الكبرى التي تضم كل الألمان .

- امتلاك الدولة للشركات الاحتكارية - إلغاء معاهدة فرساي - استعادة المستعمرات الألمانية .

٣- الحرب العالمية الثانية .
يكتفي بنقطتين ص ١١٤ (النتائج البشرية)

- سقط في هذه الحرب حوالي ٥٠ مليون قتيل .

- عم الخراب والدمار معظم أنحاء العالم وبرزت مشكلة المشوهين والمعاقمين .

ج- أكتب فقرة مترابطة مستعيناً بالكلمات التالية :-
(٣ درجات) ص ٧٥

(المجالس النيابية - الحق الإلهي المقدس - مجلس اللوردات - مجلس العموم)

قضت المجالس النيابية بعد الثورة الإنجليزية على الحق الإلهي المقدس الذي كان يمنح للملوك حيث تم الأخذ بمبدأ تركيز الحياة السياسية في مجلسي مجلس اللوردات الذي يمثل الأرستقراطية الإنجليزية و مجلس العموم الذي يمثل الطبقة البرجوازية .

(ما يراد المصحح مناسباً)



أجب عن أربعة أسئلة مما يلي على أن يكون السؤال الأول من بينها إجبارياً:-

السؤال الأول (إجباري) ويتكون من (أ - ب - ج - د):-



(أ) أكمل العبارات التالية بما يناسبها فيما درست:-

- ١- الكتاب الشهير الذي ألفه المفكر الفرنسي "روسو" يسمى.....
- ٢- المنظمة العالمية المسؤولة عن مواجهة المشاكل الصحية في العالم تسمى.....
- ٣- القانون الإنجليزي الذي فرض رسوما على المستندات التجارية وعقود البيع والرهن الأمريكية يسمى.....
- ٤- الحق الذي يتمتع به الأعضاء الدائمون في مجلس الأمن يسمى.....
- ٥- النهر الفرنسي الذي كان مسرحاً لمعركتين حاسمتين في الحرب العالمية الأولى يسمى.....

(ب) أعد ترتيب الأحداث التاريخية التالية تصاعدياً من الأحدث إلى الأقدم:-

(سقوط موسوليني - هتلر يكتسح بولندا - استسلام فرنسا للألمان - إنزال الحلفاء في النورماندي - انتحار هتلر)

--	--	--	--	--

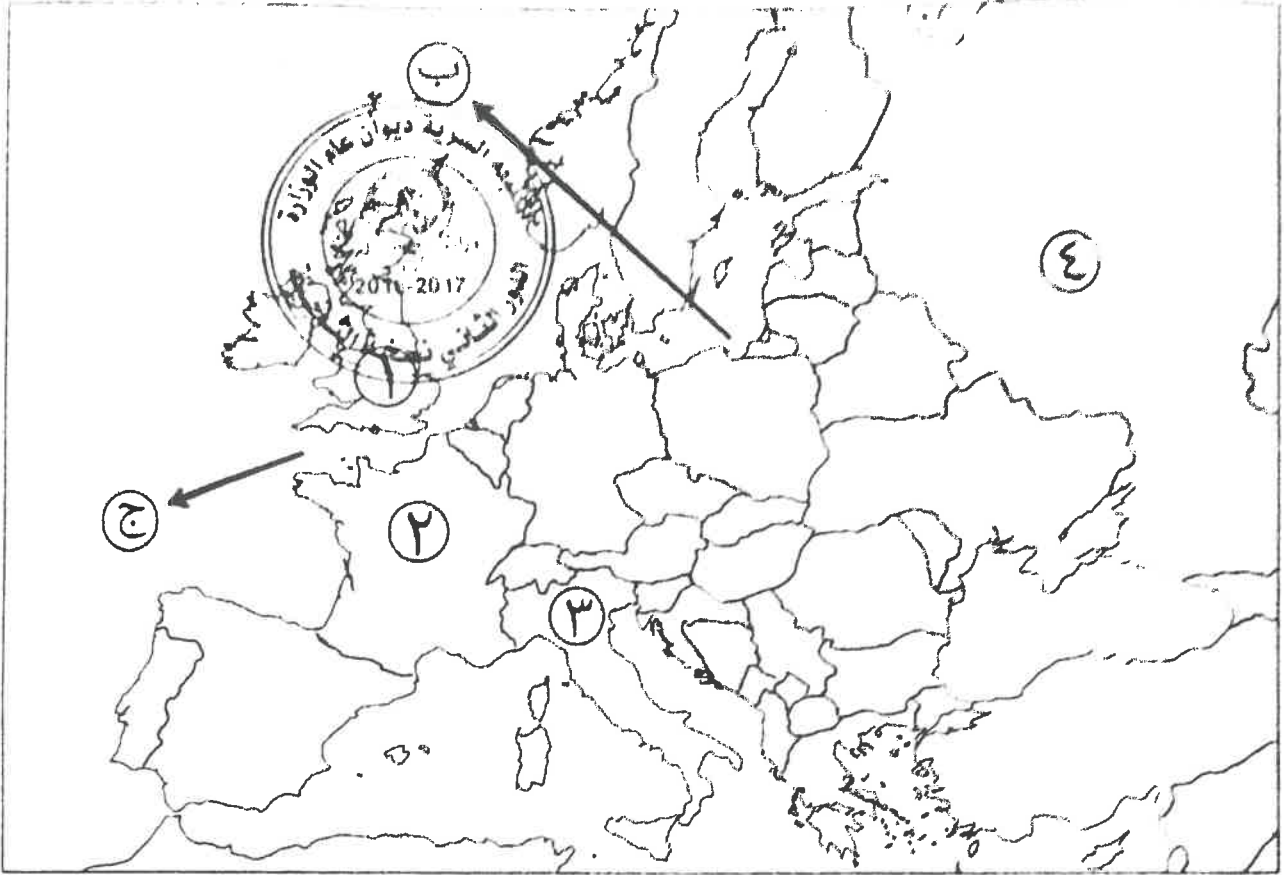
(ج) ضع أسماء المجالس التالية في مكانها الصحيح حسب الجدول التالي:-

(طبقات الأمة - الكونجرس - اللوردات - العموم - الخمسمائة)

مجالس إنجليزية	مجالس فرنسية	مجالس أمريكية
.....
.....

تابع السؤال الأول (اختياري) :-

ه) أمامك خريطة أوروبا - اكتب الرقم أو الحرف الدال على العبارات التي تليها :-

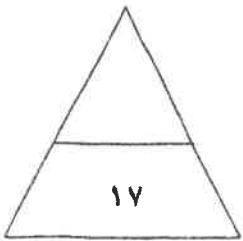


- الدولة التي حكمها النظام الفاشي يمثلها على الخريطة الرقم

- العاصمة التي تم فيها توقيع معاهدة استقلال الولايات المتحدة الأمريكية يمثلها على الخريطة الرقم

- الدولة التي قامت فيها الثورة المجيدة عام ١٦٨٩م يمثلها على الخريطة الرقم

- العمر العاني الذي كان الصراع عليه سببا مباشرا لقيام الحرب العالمية الثانية يمثلها على الخريطة الحرف



مجموع درجات السؤال الأول

السؤال الثاني (اختياري) ويتكون من (أ - ب - ج) :-

أ) فند العبارات التالية :-

١- لا يجوز وصف ما حدث لبورصة نيويورك (وول ستريت) عام ١٩٢٩م بأزمة.

.....
.....
.....

٢- لعبت ماري أنطوانيت زوجة الملك الفرنسي لويس السادس عشر دورا كبيرا في تعزيز مكانته الشعبية.

.....
.....



ب) قارن بين كل من :-

أوجه المقارنة	حاكم المستعمرة الإنجليزية	المجلس النيابي في المستعمرة الإنجليزية
طريقة التعيين
المهام

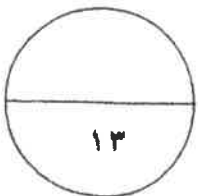
ج) علل لما يلي :-

١- ظهور الحركة النازية في ألمانيا.

.....
.....

٢- توقيع بريطانيا وفرنسا الاتفاق الودي عام ١٩٠٤م.

.....
.....



مجموع درجات السؤال الثاني

السؤال الثالث (اختياري) ويتكون من (أ - ب - ج - د) :-

(أ) علل لما يلي :-

١- انقسام العالم سياسيا في أواخر القرن التاسع عشر وبداية القرن العشرين.

(ب) دلل على صحة العبارة التالية :-

١- قامت الجمعية الوطنية الفرنسية بإصلاحات إدارية تضمنت إصدارها لوثيقة الحقوق الفرنسية ودستور عام ١٧٩١م.

(ج) اكتب النتائج المترتبة على الأحداث التالية :-

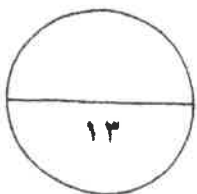
١- الثورة الأمريكية.

٢- الحرب العالمية الأولى.

(د) عرف ما يلي :-

١- الكنيسة الإنجليكانية:

٢- البلقان:



مجموع درجات السؤال الثالث

السؤال الرابع (اختياري) ويتكون من (أ - ب - ج) :-

(أ) ماذا يحدث لو لم :-

١- تنتهك ألمانيا حياد البلجيك عام ١٩١٤م.

٢- تهاجم اليابان ميناء بيرل هاربر عام ١٩٤١م.

٣- تخسر فرنسا الحروب التي خاضتها في القرن الثامن عشر



(ب) فرق بين كل مما يلي :-

دول المحور في الحرب العالمية الثانية	دول الحلفاء في الحرب العالمية الثانية
.....
.....
العلاقات الدولية	الاتفاقات الدولية
.....
.....

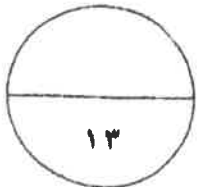
(ج) نفذ المطلوب منك ما بين الأقواس :-

(النتائج)

١- سقوط حصن الباستيل عام ١٧٨٩م.

(البنود)

٢- لائحة الحقوق الإنجليزية.



مجموع درجات السؤال الرابع

السؤال الخامس (اختياري) ويتكون من (أ - ب - ج) :-

أ) اقرأ الفقرة التالية ثم نفذ المطلوب :-

"في مساء ١٦ سبتمبر سنة ١٧٧٣م تسلل عدد من الأمريكيين إلى ميناء بوسطن ليلا وألقوا بحمولة ثلاث سفن إنجليزية من الشاي في البحر، وقد أثار هذا العمل غضب البرلمان الإنجليزي الذي أصدر عدة قرارات لمعاينة ميناء بوسطن كان من أبرزها إغلاق ميناء بوسطن حتى يتم دفع ثمن الشاي وتعيين الجنرال جيدج حاكما عسكريا على بوسطن".



١ ضع عنوانا للفقرة السابقة.

٢- استخرج من الفقرة السابقة القرارات التي اتخذها البرلمان الإنجليزي لمعاينة ميناء بوسطن.

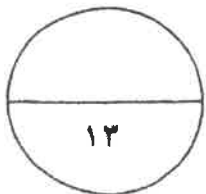
ب) قارن بين كل من :-

أوجه المقارنة	معركة ساراتوجا	معركة فالمي
العام	م	م
النتائج	-	-

ج) عدد لكل من الأسئلة التالية :-

١- العوامل التي ساعدت على نجاح الثورة الشيوعية في روسيا عام ١٩١٧م.

٢- أهداف منظمة الأمم المتحدة.



(انتهت الاسئلة)
مع تمنياتنا بالنجاح والتوفيق

مجموع درجات السؤال الخامس

أجب عن أربعة أسئلة مما يلي على أن يكون السؤال الأول من بينها إجبارياً:-



السؤال الأول (إجباري) ويتكون من (أ - ب - ج - د):-

- (أ) أكمل العبارات التالية بما يناسبها فيما درست:- (٥ درجات)
- ١- الكتاب الشهير الذي ألفه المفكر الفرنسي "روسو" يسمى العقد الاجتماعي (ص ٧٨)
 - ٢- المنظمة المسؤولة عن مواجهة المشاكل الصحية تسمى منظمة الصحة العالمية (WHO) (ص ١١٨)
 - ٣- القانون الإنجليزي الذي فرض رسوما على المستندات التجارية وعقود البيع والرهن الأمريكية يسمى .. التمغة (ص ٧٨)
 - ٤- الحق الذي يتمتع به الأعضاء الدائمون في مجلس الأمن يسمى النقض (الفيو) (ص ١١٧)
 - ٥- النهر الفرنسي الذي كان مسرحاً لمعركتين حاسمتين في الحرب العالمية الأولى يسمى المارن (ص ١٠١)
- (ب) أعد ترتيب الأحداث التاريخية التالية تصاعدياً من الأحدث إلى الأقدم:- (٥ درجات) (ص ١١٣)
- (سقوط موسوليني - هتلر يكتسح بولندا - استسلام فرنسا للألمان - إنزال الحلفاء في النورماندي - انتحار هتلر)

انتحار هتلر	إنزال الحلفاء في النورماندي	سقوط موسوليني	استسلام فرنسا للألمان	هتلر يكتسح بولندا
-------------	-----------------------------	---------------	-----------------------	-------------------

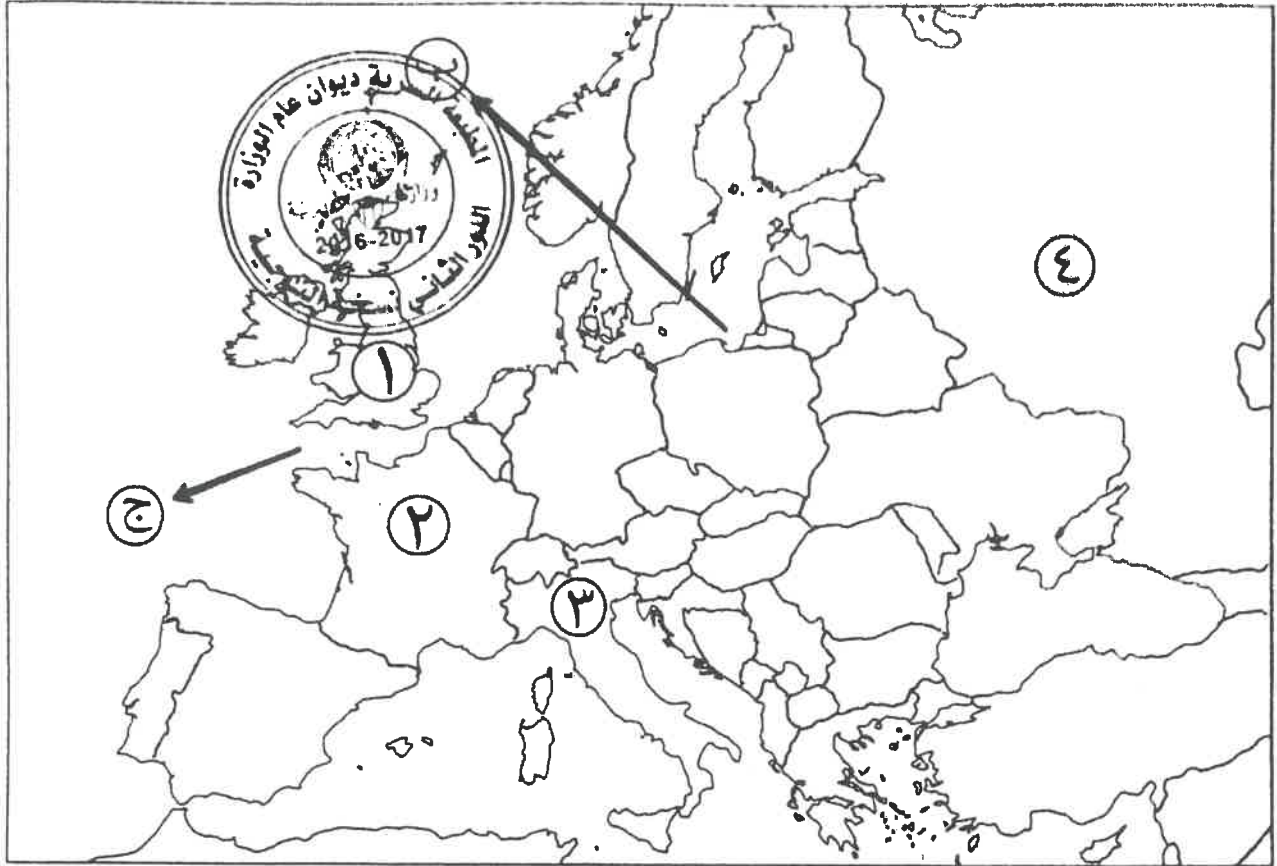
(ج) ضع أسماء المجالس التالية في مكانها الصحيح حسب الجدول التالي:- (٥ درجات)

(طبقات الأمة - الكونجرس - اللوردات - العموم - الخمسمائة)

مجالس إنجليزية	مجالس فرنسية	مجالس أمريكية
اللوردات (ص ٧٥) العموم (ص ٧٥)	طبقات الأمة (ص ٨٧) الخمسمائة (ص ٩٢)	الكونجرس (ص ٨١)

تابع السؤال الأول (الإجابى) :-

د) أمامك خريطة أوروبا - اكتب الرقم أو الحرف الدال على العبارات التى تليها :-
(لكل نقطة نصف درجة)



- الدولة التى حكمها النظام الفاشى يمثلها على الخريطة الرقم ..٣ (ص١٠٨)

- العاصمة التى تم فيها توقيع معاهدة استقلال الولايات المتحدة الأمريكية يمثلها على الخريطة الرقم ..٢ (ص٨٢)

- الدولة التى قامت فيها الثورة المجيدة عام ١٦٨٩م يمثلها على الخريطة الرقم ..١ (ص٧٣)

- العمر المانى الذى كان الصراع عليه سببا مباشرا لقيام الحرب العالمية الثانية يمثله على الخريطة الحرف..ب (ص١١٠)

السؤال الثاني (اختياري) ويتكون من (أ - ب - ج) :-

(أ) فند العبارات التالية :-

- ١- لا يجوز وصف ما حدث لبورصة نيويورك (وول ستريت) عام ١٩٢٩م بأزمة. (٣ درجات) (ص ١٠٥)
بل بالعكس حيث:
- أفلمت العديد من البنوك والمؤسسات وانخفضت الأسعار في الولايات المتحدة فقامت هذه البنوك والمؤسسات بالمطالبة بديونها من أوروبا.
- توقف التطور الاقتصادي الأوروبي الذي اعتمد على الاستقرار المالي للولايات المتحدة فأغلقت المصانع وانهارت البنوك والمؤسسات الأوروبية.
- شهدت الفترة ما بين ١٩٢٩/١٩٣٩م تراجعا في التجارة الخارجية والإنتاج العالمي.

- ٢- لعبت ماري أنطوانيت زوجة الملك الفرنسي لويس السادس عشر دورا كبيرا في تعزيز مكانته الشعبية. (درجتان) (ص ٨٤)

- بل على العكس حيث:
- اشتركت في المؤامرات التي تعين وتعزل الورثة.
- عدم إحساسها بما يعانيه الشعب الفرنسي من آثار المجاعة الأمر الذي خلق شعورا بالاستياء لدى الشعب.

(ب) قارن بين كل من :- (٤ درجات) (ص ٧٧)

أوجه المقارنة	حاكم المستعمرة الإنجليزية	المجلس النيابي في المستعمرة الإنجليزية
طريقة التعيين	يعزل ويعين من الملك الإنجليزي	يتم انتخابه من شعب الولاية
المهام	- وهو يمثل الملك الإنجليزي في المستعمرة، والمسؤول الأول عن رعاية شؤون الولاية والمحافظة على الأمن.	- يقوم بسن القوانين والضرائب . - مراقبة الموظفين في الولاية. (يكتفى بمهمة واحدة)

(ج) علل لما يلي :-

- ١- ظهور الحركة النازية في ألمانيا.
- بسبب سخط الشعب الألماني على حكومته لموافقته على شروط معاهدة فرساي المذلة له.
- بالإضافة إلى آثار الأزمة الاقتصادية التي قاست منها ألمانيا أكثر من غيرها.
- وبسبب انتشار الأفكار الشيوعية ومحاولة العمال الاستيلاء على السلطة.
- ٢- توقيع بريطانيا وفرنسا الاتفاق الودي عام ١٩٠٤م.
- لشعورها بالخطر من تقدم ألمانيا الصناعي والاقتصادي.
- ونمو قوتها البحرية مما يهدد سيادتها.

السؤال الثالث (اختياري) ويتكون من (أ - ب - ج - د) :-

(ا) علل لما يلي :-

- ١- انقسام العالم سياسيا في اواخر القرن التاسع عشر وبداية القرن العشرين. (٣ درجات) (ص ٩٧) (يكتفى بثلاث)
 - بروز النزعة القومية.
 - تصادم الأيدولوجيات.
 - تضارب المصالح الاقتصادية.
 - سياسة التوسع للسيطرة على مناطق مختلفة من العالم وما صاحبه من السباق إلى التسلح.

(ب) دلل على صحة العبارة التالية:

- ١- قامت الجمعية الوطنية الفرنسية بإصلاحات إدارية (٣ درجات) (ص ٨٩) (يكتفى بثلاث)
 - قسمت فرنسا إلى محافظات جغرافية وليس على أساس طبقي.
 - ألغت النظام القضائي القديم وأصبح منصب القاضي الانتخابي.
 - إصلاح النظام الضريبي والمالي حيث وزعت الضرائب على أساس الثروة الضريبي بين جميع الأفراد وطبقا لدخل كل فرد.
 - وجهت إصلاحاتها نحو الكنيسة الفرنسية فصدر قرار بمصادرة أملاكها.

(ج) اكتب النتائج المترتبة على الأحداث التالية:

- ١- الثورة الأمريكية. (٣ درجات) (ص ٨٣) (يكتفى بثلاث)
 - انتشرت عداواها إلى سكان أمريكا الجنوبية (اللاتينية).
 - تشجيع سكان المستعمرات البريطانية في آسيا وأفريقيا على القيام بثورات ضدها كي يتخلصوا من استعمارها.
 - صارت الولايات المتحدة ملاذا لدعاة الفكر من الأوروبيين ورمزا للحرية والتجديد.
 - كانت سببا مباشرا في قيام الثورة الفرنسية لأن فرنسا أنفقت أموالا طائلة في حربها ضد بريطانيا في العالم الجديد، وهي تساند الثوار وتساعدهم وتحارب إلى جانبهم مما أزهق ميزانية الدولة الفرنسية وحملها الكثير من الديون فكانت سببا في حدوث الأزمة المالية في عهد الملك الفرنسي لويس السادس عشر سنة ١٧٨٩م.

٢- الحرب العالمية الأولى. (درجتان) (ص ١٠٢) (يكتفى بنتيجتين)

- تركت الحرب دمارا هائلا.
- خسائر مادية وبشرية فسقط ملايين القتلى والجرحى بالإضافة إلى الركود الاقتصادي في العالم.
- حدوث تغيير جذري في خريطة أوروبا السياسية.

(د) عرف ما يلي :-

- ١- الكنيسة الإنجليكانية: (درجة) (ص ٧٣)
 - هي الكنيسة الإنجليزية التي تعتنق المذهب البروتستانتي المعادي بشدة للمذهب الكاثوليكي.
- ٢- البلقان: (درجة) (ص ١٠٠)
 - اصطلاح سياسي يطلق على مجموعة دول أوروبا الشرقية (يوغسلافيا السابقة - اليونان - بلغاريا - ألبانيا)

السؤال الرابع (اختياري) ويتكون من (أ - ب - ج) :-

(أ) ماذا يحدث لو لم :-

- ١- تنتهك ألمانيا حياد البلجيك عام ١٩١٤م. (درجة) (ص ١٠٠)
لما أعلنت بريطانيا الحرب على ألمانيا. (ما يراه المصحح مناسباً)
- ٢- تهاجم اليابان ميناء بيرل هاربر عام ١٩٤١م. (درجة) (ص ١١١)
لما دخلت الولايات الأمريكية المتحدة الحرب العالمية الثانية إلى جانب الحلفاء. (ما يراه المصحح مناسباً)
- ٣- تخسر فرنسا الحروب التي خاضتها في القرن الثامن عشر. (درجة) (ص ٨٦)
لما استنزفت كثير من أموال الخزانة الفرنسية.
لما فقد الفرنسيون الكثير من المستعمرات التي كانت تدعى بـ "الديف" كما تسمى تلك التي في أمريكا الشمالية والهند.
لما قامت الثورة الفرنسية. (ما يراه المصحح مناسباً)



(ب) فرق بين كل مما يلي :- (٤ درجات)

دول المحور في الحرب العالمية الثانية (ص ١١٠)	دول المحور في الحرب العالمية الثانية (ص ١١٠)
حلف تكون من بريطانيا وفرنسا والاتحاد السوفيتي والولايات المتحدة ودول أخرى ومستعمرات	حلف تكون من ألمانيا وإيطاليا واليابان مع بعض الدول الصغيرة.
الاتفاقيات الدولية (ص ٩٧)	العلاقات الدولية (ص ٩٧)
تشريعات يتفق عليها دولياً وهي مقننة تلتزم الدول المشتركة بها.	الاتصالات بين الدول وبين المنظمات الدولية في جميع المجالات.

(ج) نفذ المطلوب منك ما بين الأقواس :-

- ١- سقوط حصن الباستيل عام ١٧٨٩م. (٣ درجات) (ص ٨٨) (يكتفى بثلاث) (النتائج)
- عمت الفوضى في كل مكان.
- وتوقف الفلاحون عن دفع الضرائب.
- وانقض الفلاحون على قصور النبلاء وأحرقوا الوثائق التي تعطيهم حقوقاً إقطاعية.
- هجرة العديد من النبلاء إلى خارج فرنسا.
- ٢- لاتحة الحقوق الإنجليزية. (٣ درجات) (ص ٧٤) (يكتفى بثلاث) (البنود)
- لا يجوز للملك إبطال أو تعديل قانون صادر من البرلمان.
- لا يحق للملك فرض ضرائب جديدة أو تشكيل جيش أو إعلان حرب دون موافقة البرلمان.
- للبرلمان الحق الكامل في التعبير عن آرائهم بحرية تامة.
- أعطى البرلمان حصانة للمواطنين بحيث لا يمكن اعتقال مواطن دون محاكمة تجرى وفق القوانين السائدة.

السؤال الخامس (اختياري) ويتكون من (أ - ب - ج) :-

(أ) اقرأ الفقرة التالية ثم نفذ المطلوب :- (٣ درجات) (ص ٧٩)
 "في مساء ١٦ سبتمبر سنة ١٧٧٣م تسلل عدد من الأمريكيين إلى ميناء بوسطن ليلا وألقوا بحمولة ثلاث سفن إنجليزية من الشاي في البحر، وقد أثار هذا العمل غضب البرلمان الإنجليزي الذي أصدر عدة قرارات لمعاقبة ميناء بوسطن كان من أبرزها إغلاق ميناء بوسطن حتى يتم دفع ثمن الشاي وتعيين الجنرال جيدج حاكما عسكريا على بوسطن".

١- اضع عنوانا للفقرة السابقة.
 حفلة شاي بوسطن ١٧٧٣م. (أو ما يراه المصحح مناسباً)

٢- استخرج من الفقرة السابقة القرارات التي اتخذها البرلمان الإنجليزي لمعاقبة ميناء بوسطن.
 - إغلاق ميناء بوسطن حتى يتم دفع الشاي.
 - تعيين الجنرال جيدج حاكما عسكريا على بوسطن.



(ب) قارن بين كل من: (٤ درجات)

المعيار	معركة ساراتوجا (ص ٨٢)	معركة فالمي
العام	١٧٧٧ م	١٧٩٢ م
النتائج	- خسر الإنجليز جيشا كاملا من ٦ آلاف جندي واستسلم. - سيطر الأمريكيون على حوض هدسون. - إعتراف فرنسا باستقلال الثوار الأمريكيين ودخولها الحرب إلى جانبهم. - زاد تعاطف الشعوب الأوروبية مع الثورة الأمريكية. (يكتفى بنتيجة واحدة)	- أنقذت أفكار الثورة الفرنسية من الضياع. - حالت دون وقوع باريس. - رفعت الروح المعنوية للفرنسيين. - تحول جيش الثورة من الفاع للهجوم وأصبح مصدر رعب للدول الأوروبية فيما بعد. (يكتفى بنتيجة واحدة)

(ج) عدد لكل من الأسئلة التالية :-

١- العوامل التي ساعدت على نجاح الثورة الشيوعية في روسيا عام ١٩١٧م. (٣ درجات) (ص ١٠٦)
 - فساد الحكم القيصري في روسيا واستبداده.
 - الهزائم الكبرى التي حلت بالجيش الروسي منذ عام ١٩٠٥م على يد اليابان ثم الحرب العالمية الأولى وسقوط ملايين القتلى والجرحى.

- سوء الحالة الاقتصادية التي تأثر بها العمال والفلاحون وانتشار البطالة والمجاعات والأمراض.
 - شخصية لينين وقدرته على إقناع الجماهير من خلال رفعه شعاره المشهور (السلام للجيش/الغذاء للجميع/الغذاء للجميع/الحكم للسوفيت) وتنظيم الحزب الشيوعي. (يكتفى بثلاث)

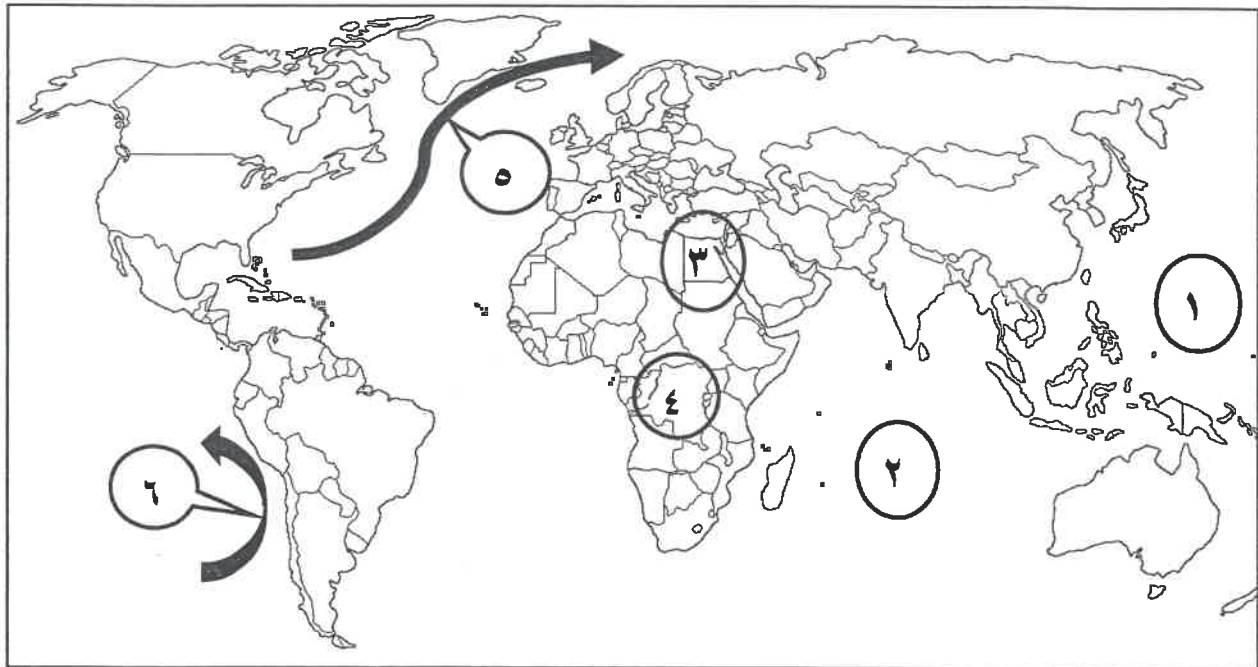
٢- أهداف منظمة الأمم المتحدة. (٣ درجات) (ص ١١٦) (يكتفى بثلاث)

- المحافظة على الأمن والسلام الدوليين وحل النزاعات بالطرق السلمية.
 - تنمية العلاقات الدولية بين الدول على المساواة واحترام حقوق الإنسان.
 - تحقيق التعاون الدولي في جميع المجالات.
 - تكون الأمم المتحدة أداة للتنسيق بين أعمال الدول والمنظمات الأخرى.

أجب عن جميع الأسئلة التالية

السؤال الأول: الموضوعي يتكون من (أ - ب - ج - د)

(أ) لاحظ خريطة العالم التي أمامك ثم اكتب الرقم الدال على العبارات التالية :



- تيار بيرو البارد يمثله على الخريطة السهم الذي يحمل الرقم
- المحيط الهادي يمثله على الخريطة الرقم
- دولة أفريقية عضو في لجنة الاسكوا يمثله على الخريطة الرقم

(ب) صنف الدول التالية وفق معدلات الزيادة السكانية الطبيعية فيها:

- مدغشقر - فرنسا - اليابان - نيكاراغوا

معدلات مرتفعة جدا (%٣,٠) فأكثر	معدلات تنخفض بشكل كبير تصل إلى ما دون (%٠,١)
.....
.....