

سما  
SAMA

اختبارات

ملك الأم



سما  
SAMA

سما  
SAMA

سما  
SAMA

عمره ما يخذلك

المادة

مبادئ علم الجغرافيا والاقتصاد  
أسئلة

الصف

الحادي عشر الأدبي

WWW.SAMAKW.NET/AR

i teacher  
المعلم الذكي



الفصل الأول  
2026-2025

www.samakw.com  
samakw\_net

60084568 / 50855008 / 97442417  
حولي مجمع بيروت الدور الأول

## نموذج اختبار مبادئ علم الجغرافيا وعلم الاقتصاد للفصف الحادي عشر أدبي

أجب عن جميع الأسئلة

السؤال الأول ( موضوعي ) يتكون من ( أ - ب - ج - د ) :  
(أ) - أكمل العبارات التالية بما يناسبها:

- 1- الوزارة المسؤولة عن إصدار المجموعة السنوية الإحصائية تسمى.....
  - 2 - أجرام سماوية مظلمة تستمد نورها من انعكاس أشعة الشمس عليها وتتبع الكواكب اسمها .....
  - 3- أقوى الحركات المائية تأثيراً على السواحل تسمى .....
  - 4 -العالم الاقتصادي الذي نادى بفكرة الحرية الاقتصادية اسمه .....
  - 5 - الوسط الذي يتم خلاله تبادل السلع والخدمات بين البائع والمشتري يسمى السوق.
- (ب)- ضع خطأً تحت الخيار الصحيح من بين الخيارات التي تلي كل عبارة :
- ١ - فرع من فروع علم الجغرافيا يهتم بما يحدث خلال الأزمنة القديمة كتطور ونشأة المدن أو الدول أو الأقاليم:
 

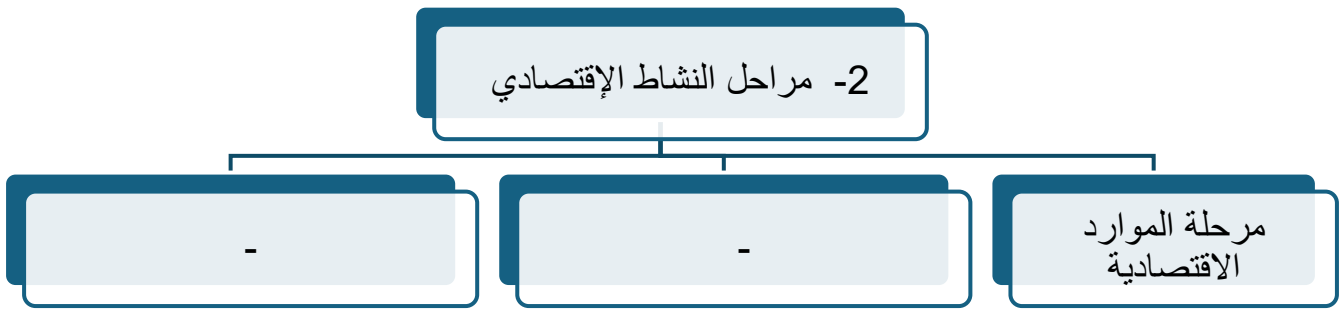
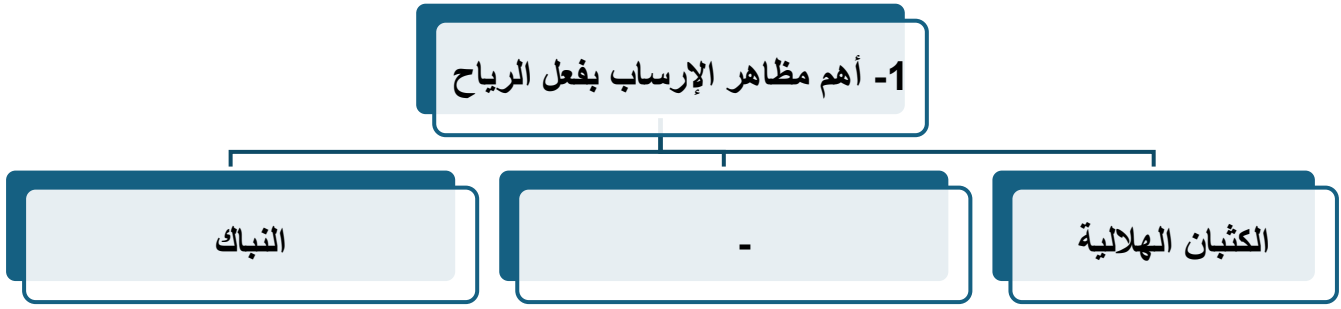
أ- الجغرافيا الطبيعية	ب- الجغرافيا البشرية
ج - الجغرافيا الإقليمية	د - الجغرافيا التاريخية
  - 2- عملية إسقاط لشبكة خطوط الطول ودوائر العرض من السطح الكروي إلى السطح المستوي للخريطة :
 

أ- مقياس الرسم	ب -المسقط
ج - الكتابة	د- الخريطة الركنية
  - ٣ -القناة المائية التي تمثل أعماق أجزاء الوادي النهري وتسلكه المياه في جريانها من المنبع إلى المصب:
 

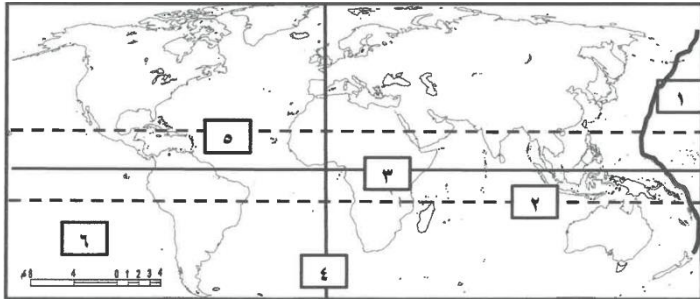
أ- مجرى النهر	ب- وادي النهر
ج- حوض النهر	د- شبكة التصريف المائي
  - ٤ - كل شيء معنوي وغير ملموس يحصل عليه الفرد وينتفع منه بعد شرائه:
 

أ- السلعة	ب - الخدمة
ج - الحاجة	د- النشاط
- هـ وجود ندرة نسبية للموارد الاقتصادية المتاحة بسبب حاجات الفرد المتزايدة في ظل محدودية الموارد الاقتصادية:
- |             |                       |
|-------------|-----------------------|
| أ- الندرة   | ب- الاختيار           |
| ج - التضحية | د -المشكلة الاقتصادية |





(د) - أمامك خريطة العالم الصماء اكتب الرقم الدال على العبارات التالية :



- 1- مقياس الرسم الخطي يمثل على الخريطة الرقم ( )
- 2- مدار السرطان يمثل على الخريطة الرقم ( )
- 3- خط جرينتش يمثل على الخريطة الرقم ( )
- 5- نطاق حلقة النار يمثل على الخريطة الرقم ( )

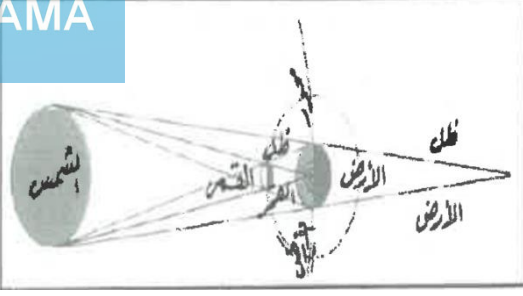


السؤال الثاني ( مقالي ) يتكون من ( أ - ب - ج )

(أ) - لاحظ الشكل المقابل ثم أجب عن الاسئلة التالية:

١ - ضع عنوان مناسب للشكل المقابل.

٢ - فسر: حدوث هذه الظاهرة الفلكية.



(ب) - عدد لكل مما يلي:


1 - أثر البراكين في النشاط البشري.

2 - أهم صفات سوق الاحتكار.

3- الظواهر الاقتصادية:

(ج) - قارن بين كل من:

وجه المقارنة	الصخور النارية	الصخور الرسوبية
المميزات		
الأنواع		



### السؤال الثالث ( مقالي ) يتكون من ( أ - ب - ج )

(أ) - اقرأ الفقرة التالية ثم أجب عما يليها من أسئلة:

"نشأ الكون بحدوث الانفجار العظيم ثم تكونت المجرات والسدم والشهب والنيازك والمذنبات والأقمار وأخذت بالابتعاد عن المركز. كما استدل علماء الفلك بأن الكون في حالة اتساع وذلك بمقارنة صورة قديمة وأخرى حديثة تم التقاطها"

1 - عرف ما تحته خط ( درجة ) ص ٥٣

المجرات : .....

2 - عدد مكونات الكون.

.....

3- اذكر اسم المجرة التي تقع ضمنها المجموعة الشمسية.

.....

(ب) - دلل على صحة العبارات التالية:

1 -يجب توافر العديد من الأجهزة والأدوات مع الباحث أثناء إجراء الدراسة الميدانية .

.....

.....

.....

.....

2 - للكائنات الحية دوراً هاماً في عمليات التجوية. ص ٩٥ ( يكتفى بنقطتين درجتين)


.....

.....

.....

(ج) - فرق بين كل من :

السلع الإنتاجية	السلع الاستهلاكية
القطاع الحكومي	القطاع العائلي



السؤال الرابع ( مقالي ) يتكون من ( أ - ب - ج )

(أ) - احسب الزمن المطلوب بعد قراءة الفقرة التالية:

"إذا علمت أن الساعة في دولة الكويت السادسة صباحاً والتي تقع على خط طول ٤٥ شرق خط جرينتش فكم تكون الساعة في دكا والتي تقع على خط طول ٩٠ شرق خط جرينتش"

.....

.....

.....

.....

.....

(ب) - اكتب فيما يلي:

1 - أسباب اختلاف العلماء بتسمية بلوتو كوكبا.

.....

.....

2 - أنواع المياه الجوفية.

.....

.....

3- أهداف الاقتصاد

.....

.....

(ج) - لاحظ الجدول الذي أمامك ثم أجب عن الاسئلة التالية:

1 -اذكر قانون الطلب.

.....

٢ - ارسم منحني الطلب في السوق. ثلاث درجات

الكمية المطلوبة	السعر (د.ك)
10	1
9	2
8	3
7	4
6	5

